



# おうちで、やろう。

Study at home. 小学校受験の家庭学習教材

## 言語：しりとり 10

左の四角からしりとりでつなげていきます。空いている四角に入る絵を下から選んで、四角の中の記号をつけます。


※1. このプリントは、しながわ・目黒こどもスクールのウェブサイトでダウンロードができます。無断複写・引用はご遠慮ください。

※2. このプリントを活用したオンライン授業のスケジュールは、しながわ・目黒こどもスクールのウェブサイトでご確認ください。

























# おうちで、やろう。





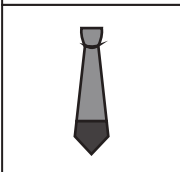








Study at home. 小学校受験の家庭学習教材

## 言語：しりとり 11

左の四角の中の絵から、しりとりをつなげていきます。いくつかの絵がある所は、しりとりが正しくつながる絵を選んで○をつけます。

※1. このプリントは、しながわ・目黒こどもスクールのウェブサイトからダウンロードできます。無断複製・引用はご遠慮ください。

※2. このプリントを活用したオンライン授業のスケジュールは、しながわ・目黒こどもスクールのウェブサイトでご確認ください。

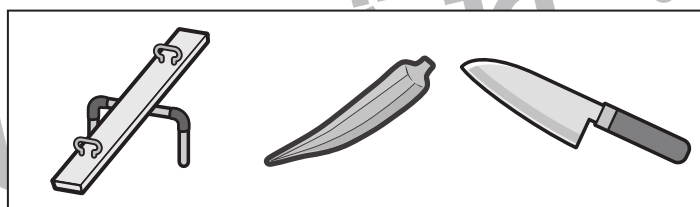

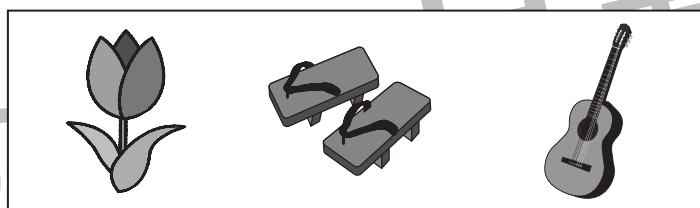

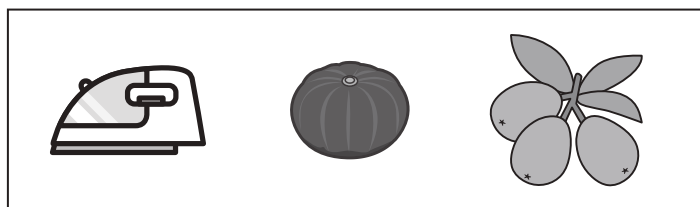


# おうちで、やろう。

Study at home. 小学校受験の家庭学習教材

言語：音の数 23

四角の中の絵の音の数を全て合わせた数だけ、下の四角に○をかきます。



※1. このプリントは、しながわ・目黒こどもスクールのウェブサイトでダウンロードができます。無断複写・引用はご遠慮ください。  
※2. このプリントを活用したオンライン授業のスケジュールは、しながわ・目黒こどもスクールのウェブサイトでご確認ください。

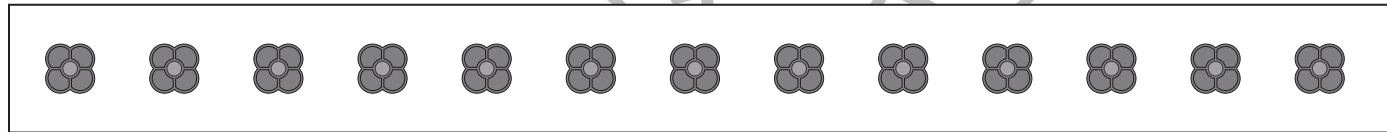

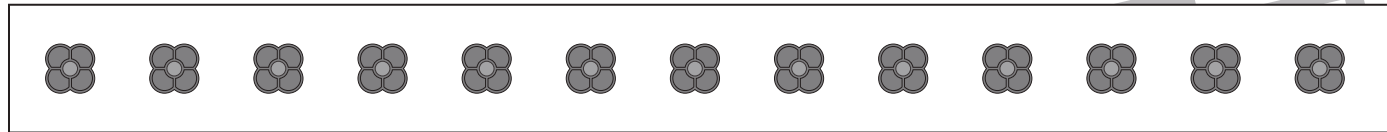
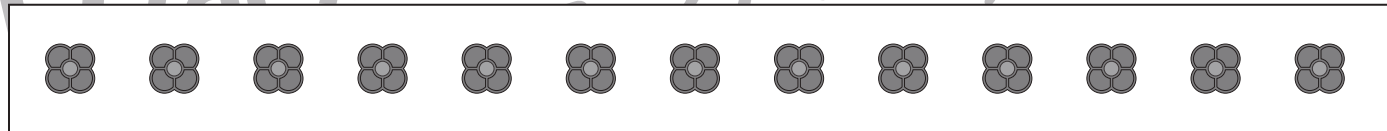
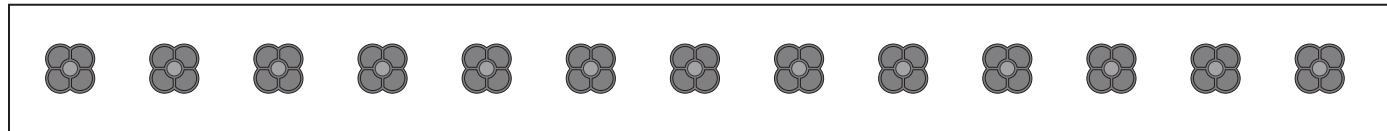
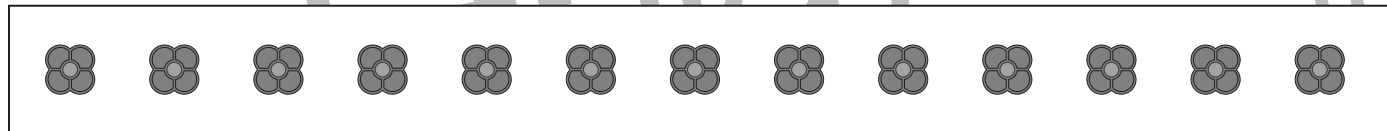



# おうちで、やろう。

Study at home. 小学校受験の家庭学習教材

言語：音の数 24

四角の中の絵の音の数を全て合わせた数だけ、下の四角のおはじきをまとめて囲みます。



※1. このプリントは、しながわ・目黒こどもスクールのウェブサイトからダウンロードできます。無断複写・引用はご遠慮ください。  
※2. このプリントを活用したオンライン授業のスケジュールは、しながわ・目黒こどもスクールのウェブサイトでご確認ください。











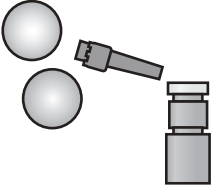
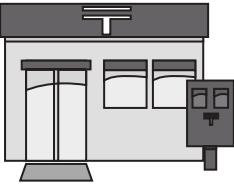








# おうちで、やろう。

Study at home. 小学校受験の家庭学習教材

言語：言葉5

名前に「ば・び・ぷ・ぺ・ぼ」が入っている物を探して、絵の上の四角の中に○をかきます。名前に「きゃ・きゅ・きょ」が入っている物を探して、絵の上の四角の中に△をつけます。名前に「しゃ・しゅ・しょ」が入っている物を探して、絵の上の四角の中に×をつけます。

※1. このプリントは、しながわ・目黒こどもスクールのウェブサイトでダウンロードができます。無断複写・引用はご遠慮ください。  
※2. このプリントを活用したオンライン授業のスケジュールは、しながわ・目黒こどもスクールのウェブサイトでご確認ください。



# おうちで、やろう。

Study at home. 小学校受験の家庭学習教材

## 図形：構成 6

四角の中の形で、黒い部分と白い部分の広さが同じものを選んで○をつけます。


※1. このプリントは、しながわ・目黒こどもスクールのウェブサイトでダウンロードができます。無断複写・引用はご遠慮ください。  
 ※2. このプリントを活用したオンライン授業のスケジュールは、しながわ・目黒こどもスクールのウェブサイトでご確認ください。

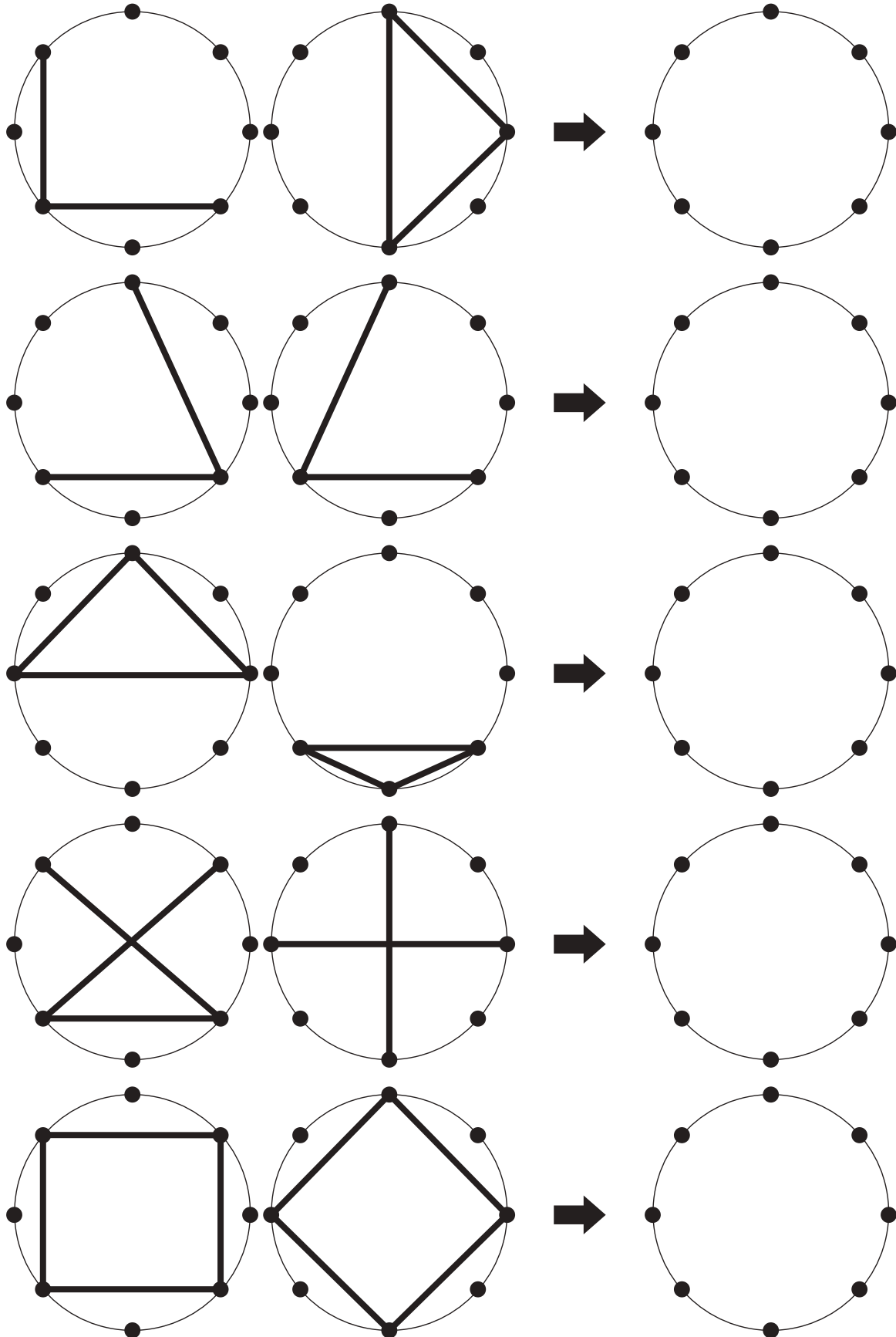


# おうちで、やろう。

Study at home. 小学校受験の家庭学習教材

## 図形：重ね 21

2枚の透明な円の板が重なった時の見え方を考えて、矢印の右の円に線をかきます。



黒  
ル

黒  
ル

※1. このプリントは、しながわ・目黒こどもスクールのウェブサイトでダウンロードができます。無断複写・引用はご遠慮ください。  
 ※2. このプリントを活用したオンライン授業のスケジュールは、しながわ・目黒こどもスクールのウェブサイトでご確認ください。



# おうちで、やろう。

Study at home. 小学校受験の家庭学習教材

## 図形：重ね 22

2枚の透明な円の板が重なった時の見え方を考えて、矢印の右の円に線をかきます。

黒  
ル

黒  
ル

※1. このプリントは、しながわ・目黒こどもスクールのウェブサイトでダウンロードができます。無断複写・引用はご遠慮ください。  
※2. このプリントを活用したオンライン授業のスケジュールは、しながわ・目黒こどもスクールのウェブサイトでご確認ください。





# おうちで、やろう。

Study at home. 小学校受験の家庭学習教材

数量：対応 7

左のお手本と同じ数にするには、どれとどれを組み合わせれば良いですか。左右それぞれの四角から選んで○をつけます。


※1. このプリントは、しながわ・目黒こどもスクールのウェブサイトでダウンロードができます。無断複写・引用はご遠慮ください。

※2. このプリントを活用したオンライン授業のスケジュールは、しながわ・目黒こどもスクールのウェブサイトでご確認ください。



# おうちで、やろう。

Study at home. 小学校受験の家庭学習教材

数量：対応 8

左のお手本と同じ数にするには、どれとどれを組み合わせれば良いですか。左右それぞれの四角から選んで、左側の四角には○を、右側の四角には△をかきます。


※1. このプリントは、しながわ・目黒こどもスクールのウェブサイトでダウンロードができます。無断複写・引用はご遠慮ください。

※2. このプリントを活用したオンライン授業のスケジュールは、しながわ・目黒こどもスクールのウェブサイトでご確認ください。