



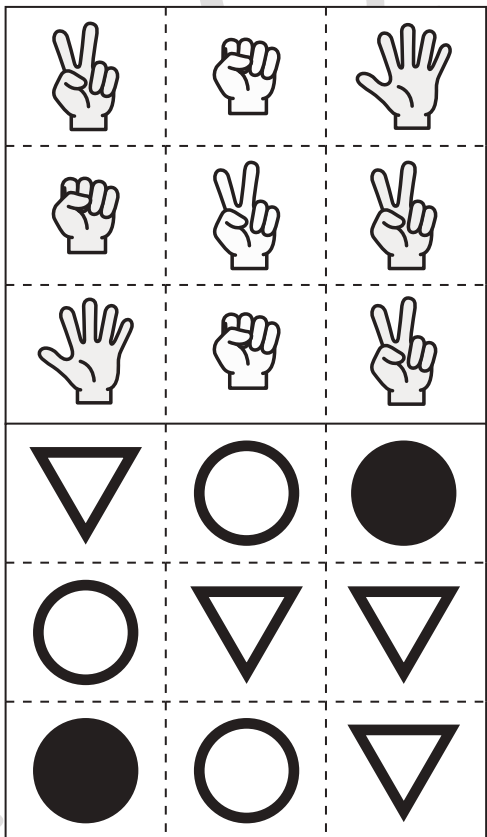
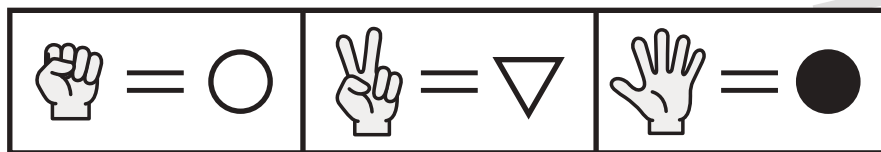


# おうちで、やろう。

Study at home. 小学校受験の家庭学習教材

数量：置き換え4

上の太い四角が約束です。じゃんけんの手をそれぞれ右の形に置き換えます。  
この約束でそれぞれの手を置き換えた形を下や右の同じマスにかきます。



※1. このプリントは、しながわ・目黒こどもスクールのウェブサイトでダウンロードができます。無断複写・引用はご遠慮ください。  
※2. このプリントを活用したオンライン授業のスケジュールは、しながわ・目黒こどもスクールのウェブサイトでご確認ください。



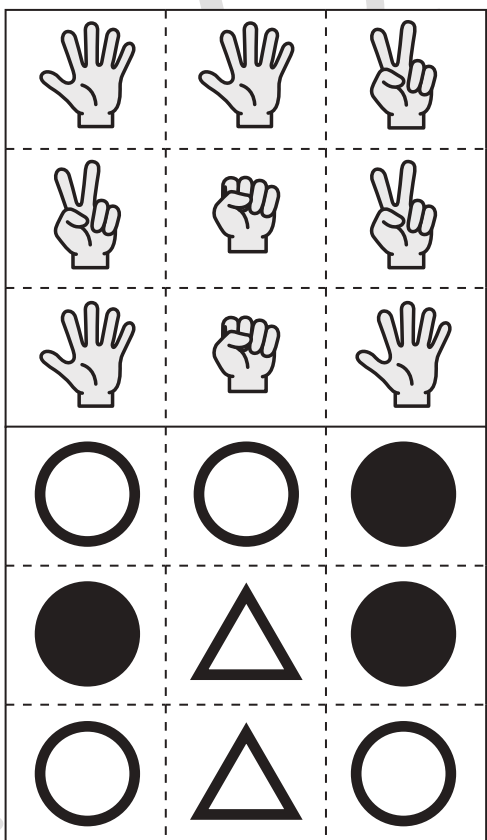
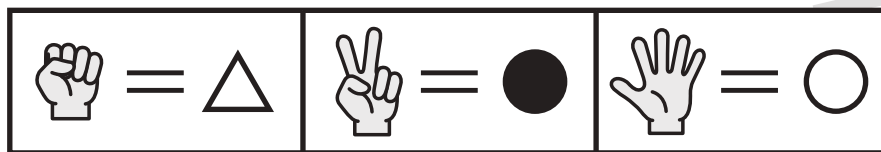


# おうちで、やろう。

Study at home. 小学校受験の家庭学習教材

数量：置き換え5

上の太い四角が約束です。じゃんけんの手をそれぞれ右の形に置き換えます。  
この約束でそれぞれの手を置き換えた形を下や右の同じマスにかきます。



※1. このプリントは、しながわ・目黒こどもスクールのウェブサイトでダウンロードができます。無断複写・引用はご遠慮ください。  
 ※2. このプリントを活用したオンライン授業のスケジュールは、しながわ・目黒こどもスクールのウェブサイトでご確認ください。

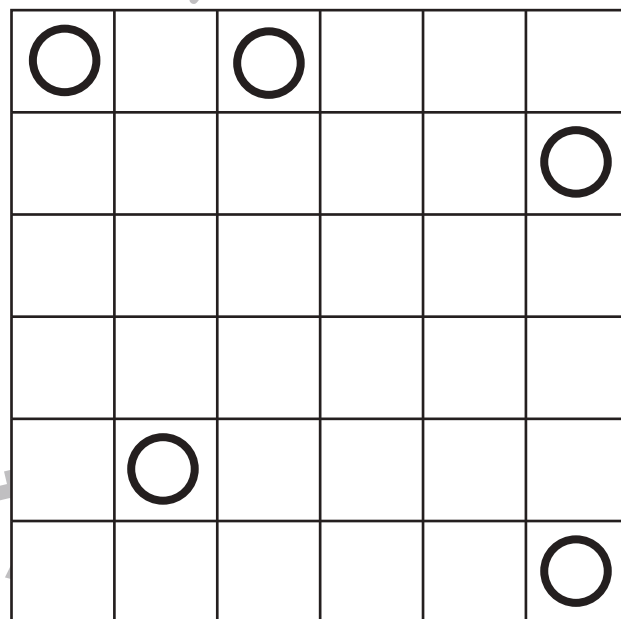
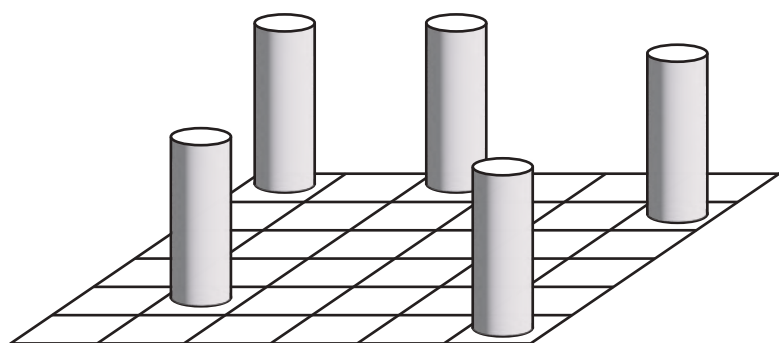
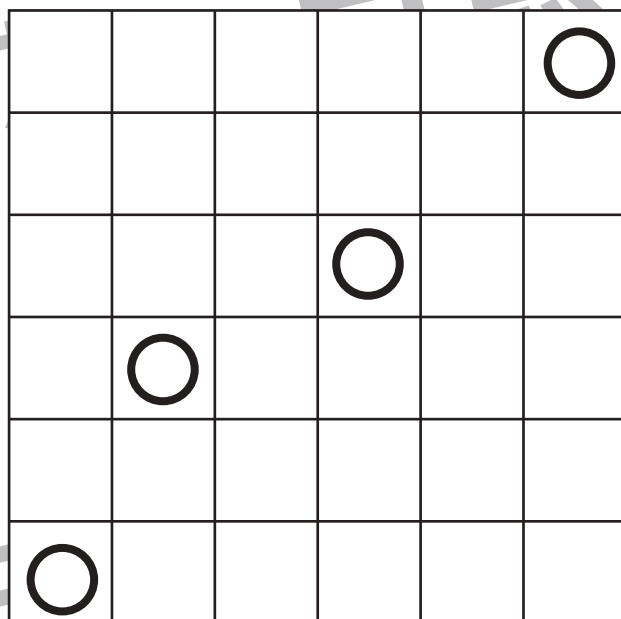
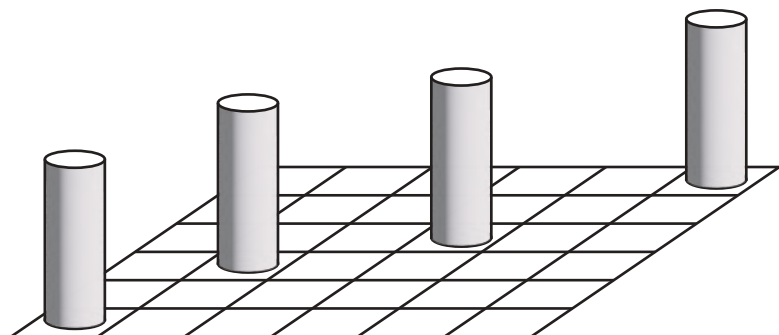


# おうちで、やろう。

Study at home. 小学校受験の家庭学習教材

推理：条件推理 10

左の絵は、右のマス目の紙の上に筒の積み木をおいたものです。  
右のマス目のどの場所に積み木が置いてあるのかを考えて、その場所に○をかきます。



※1. このプリントは、しながわ・目黒こどもスクールのウェブサイトでダウンロードができます。無断複写・引用はご遠慮ください。  
※2. このプリントを活用したオンライン授業のスケジュールは、しながわ・目黒こどもスクールのウェブサイトでご確認ください。

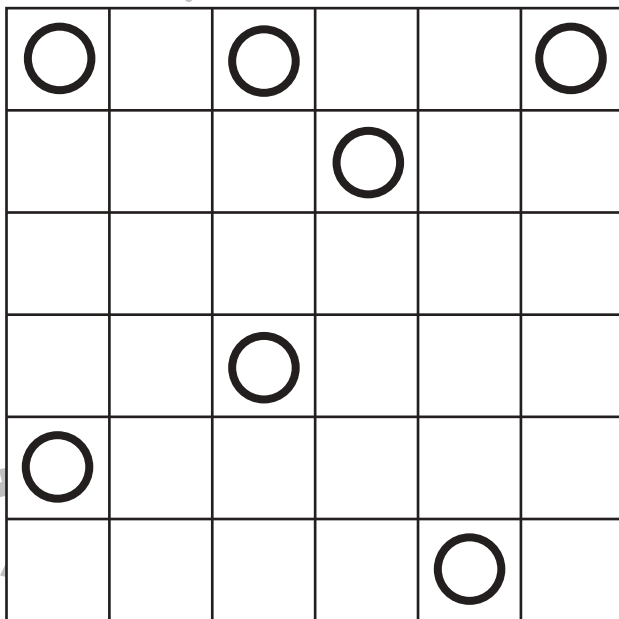
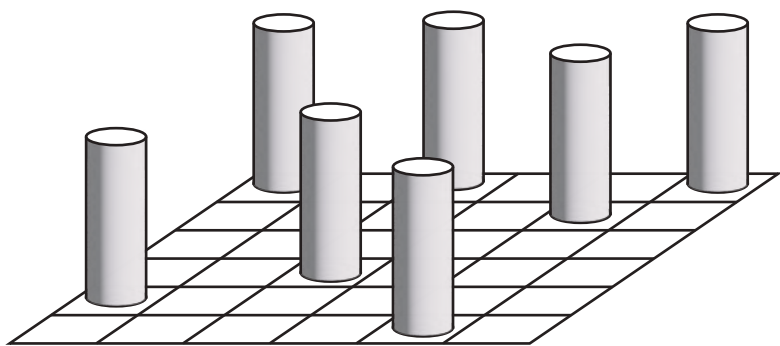
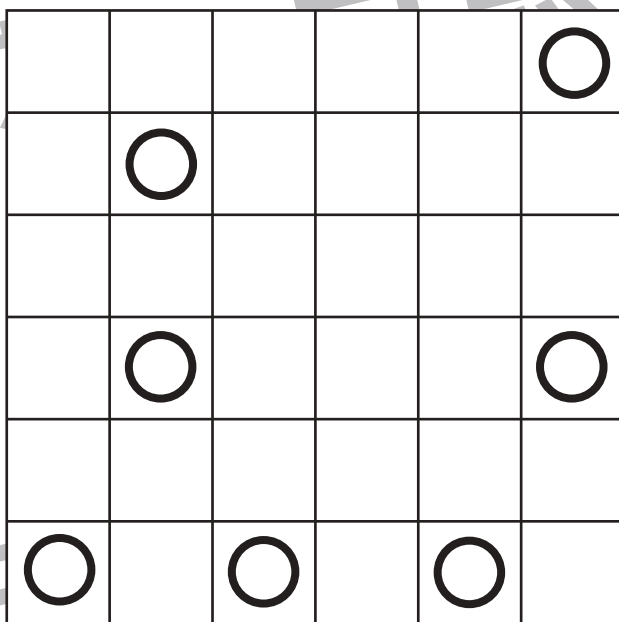
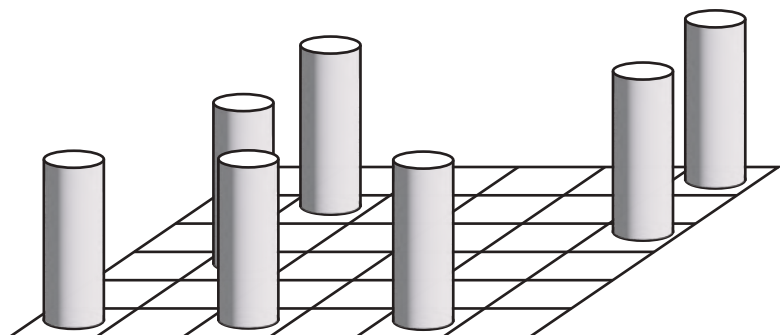


# おうちで、やろう。

Study at home. 小学校受験の家庭学習教材

## 推理：条件推理 11

左の絵は、右のマスの上の紙の上に筒の積み木をおいたものです。  
右のマスの中のどの場所に積み木が置いてあるのかを考えて、その場所に○をかきます。



※1. このプリントは、しながわ・目黒こどもスクールのウェブサイトでダウンロードができます。無断複写・引用はご遠慮ください。  
※2. このプリントを活用したオンライン授業のスケジュールは、しながわ・目黒こどもスクールのウェブサイトでご確認ください。

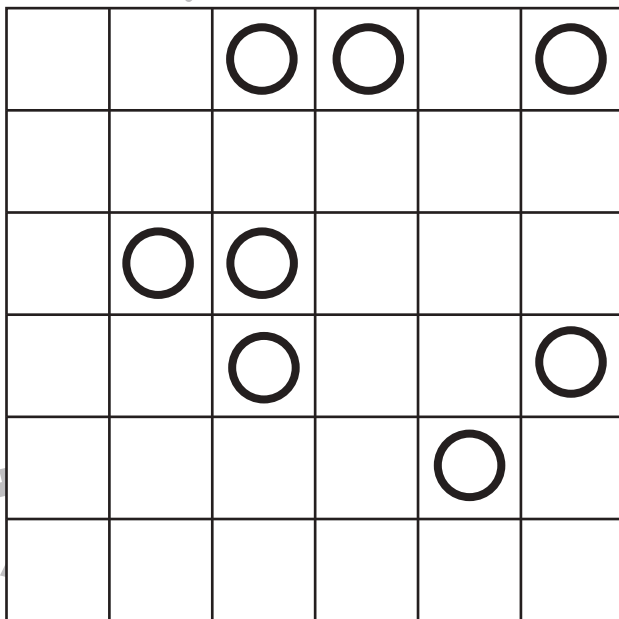

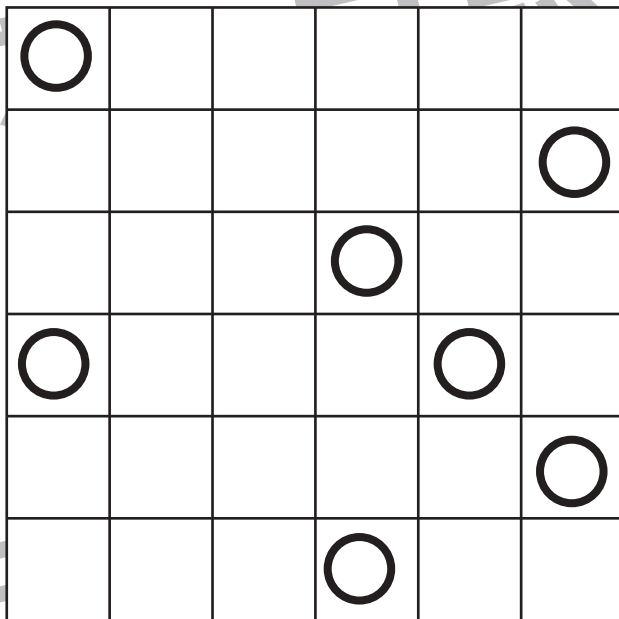



# おうちで、やろう。

Study at home. 小学校受験の家庭学習教材

## 推理：条件推理 12

左の絵は、右のマス目の紙の上に筒の積み木をおいたものです。  
右のマス目のどの場所に積み木が置いてあるのかを考えて、その場所に○をかきます。



※1. このプリントは、しながわ・目黒こどもスクールのウェブサイトでダウンロードができます。無断複写・引用はご遠慮ください。  
※2. このプリントを活用したオンライン授業のスケジュールは、しながわ・目黒こどもスクールのウェブサイトでご確認ください。







# おうちで、やろう。



Study at home. 小学校受験の家庭学習教材

数量：対応4

左の四角の中のお友だちで飴を仲良く同じ数に分けたとき、1人分はいくつですか。その数だけ、飴の下の四角に○をかきます。

	
$\bigcirc \times 4$	

	
$\bigcirc \times 4$	

	
$\bigcirc \times 4$	

※1. このプリントは、しながわ・目黒こどもスクールのウェブサイトからダウンロードできます。無断複写・引用はご遠慮ください。  
 ※2. このプリントを活用したオンライン授業のスケジュールは、しながわ・目黒こどもスクールのウェブサイトでご確認ください。



# おうちで、やろう。

Study at home. 小学校受験の家庭学習教材

数量：対応5

左の四角の中のお友だちで飴を仲良く同じ数に分けたとき、1人分はいくつですか。その数だけ、飴の下の四角に○をかきます。

$\bigcirc \times 5$	

$\bigcirc \times 4$	

$\bigcirc \times 5$	

※1. このプリントは、しながわ・目黒こどもスクールのウェブサイトでダウンロードができます。無断複写・引用はご遠慮ください。  
※2. このプリントを活用したオンライン授業のスケジュールは、しながわ・目黒こどもスクールのウェブサイトでご確認ください。



# おうちで、やろう。

Study at home. 小学校受験の家庭学習教材

数量：対応6

左の四角の中のお友だちで飴を仲良く同じ数に分けたとき、1人分はいくつですか。その数だけ、飴の下の四角に○をかきます。

$\bigcirc \times 6$	

$\bigcirc \times 5$	

$\bigcirc \times 4$	

※1. このプリントは、しながわ・目黒こどもスクールのウェブサイトダウンロードできます。無断複写・引用はご遠慮ください。

※2. このプリントを活用したオンライン授業のスケジュールは、しながわ・目黒こどもスクールのウェブサイトでご確認ください。
















# おうちで、やろう。

Study at home. 小学校受験の家庭学習教材

数量：置き換え 5

上の太い四角が約束です。それぞれのおやつは絵の下のドングリの数で買うことができます。この約束のとき、左の四角の中のおやつを全部買うために必要なドングリはいくつですか。その数だけ右の四角に○をかきます。




$$\bigcirc \times 7$$



$$\bigcirc \times 8$$



$$\bigcirc \times 8$$



$$\bigcirc \times 14$$

※1. このプリントは、しながわ・目黒こどもスクールのウェブサイトでダウンロードができます。無断複写・引用はご遠慮ください。

※2. このプリントを活用したオンライン授業のスケジュールは、しながわ・目黒こどもスクールのウェブサイトでご確認ください。