



おうちで、やろう。

Study at home. 小学校受験の家庭学習教材

指示の聞き取り 10

それぞれのお話通りになるように色を塗ったり、記号をかきます。問題は1度しか読みませんのでしっかり聞きましょう。

①左上の形を青色のクーピーで塗り、右下の形を緑色のクーピーで塗ります。

②鉛筆で四角を横に並べて3つかき、真ん中の四角の中に◎をかきます。

③左の灰色の丸から右の白い丸まで鉛筆でギザギザの線をかきます。

①

青

緑

②

③

※1. このプリントは、しながわ・目黒こどもスクールのウェブサイトダウンロードができます。無断複写・引用はご遠慮ください。

※2. このプリントを活用したオンライン授業のスケジュールは、しながわ・目黒こどもスクールのウェブサイトでご確認ください。




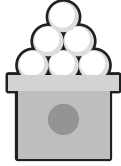








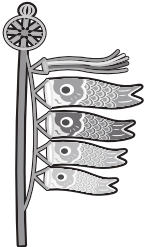

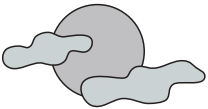


おうちで、やろう。

Study at home. 小学校受験の家庭学習教材

常識：行事 1

一番上の絵の行事を考えて、同じ行事の絵を真ん中と下の段から見つけて点と点を線で結びます。

※1. このプリントは、しながわ・目黒こどもスクールのウェブサイトでダウンロードができます。無断複写・引用はご遠慮ください。
 ※2. このプリントを活用したオンライン授業のスケジュールは、しながわ・目黒こどもスクールのウェブサイトでご確認ください。

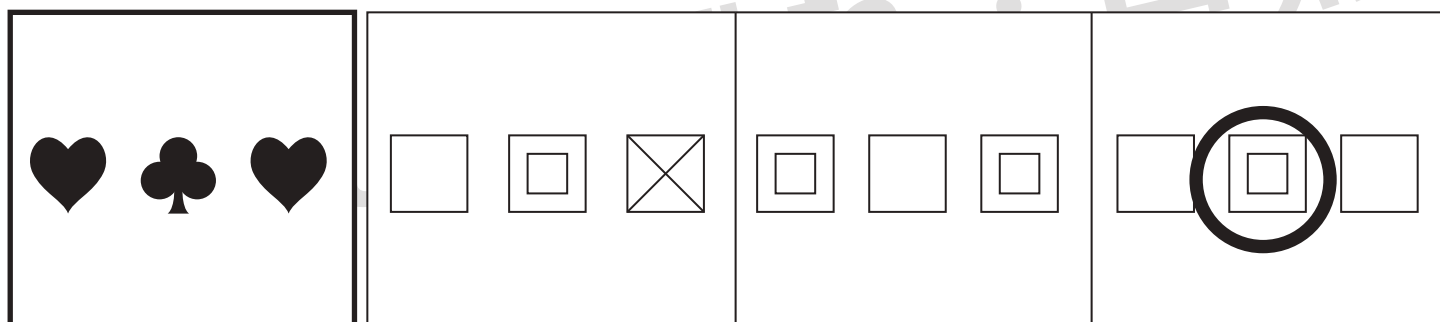
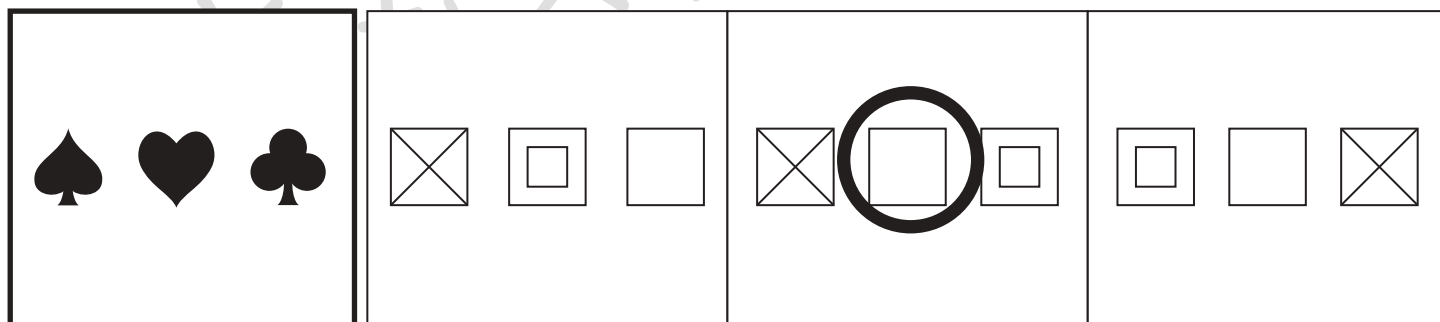
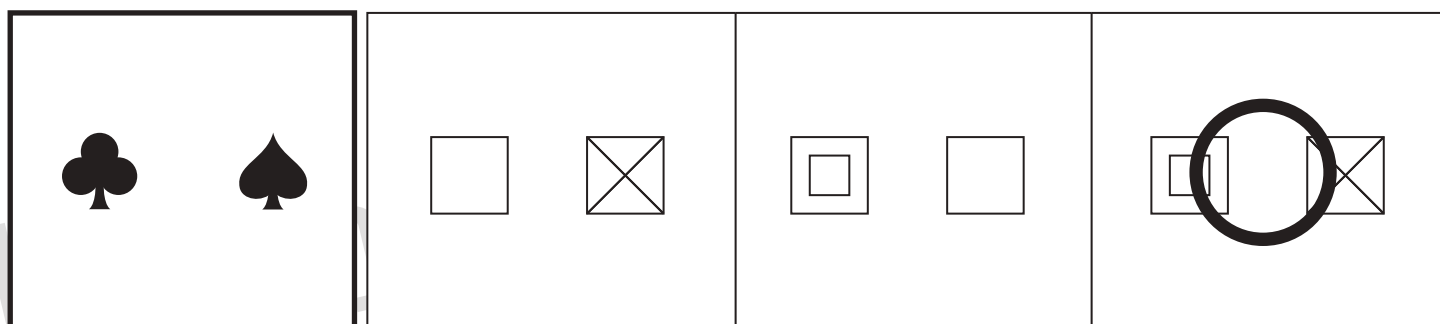
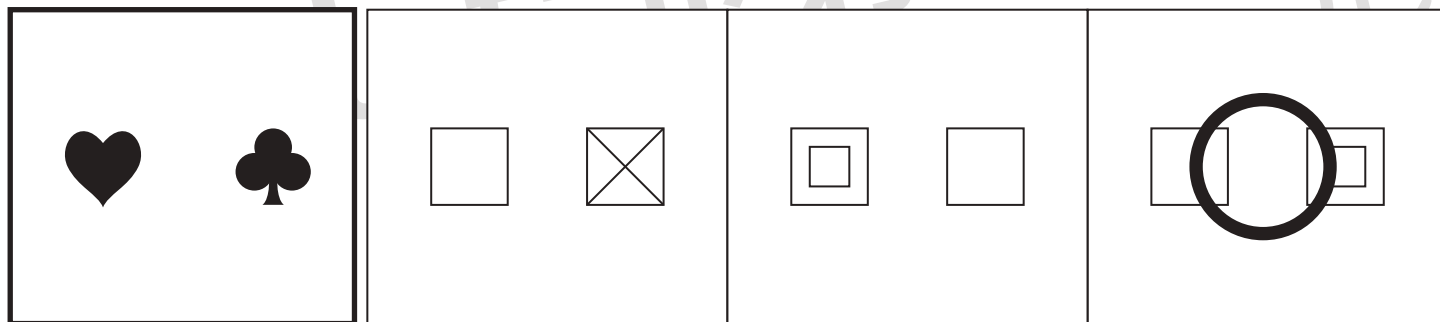
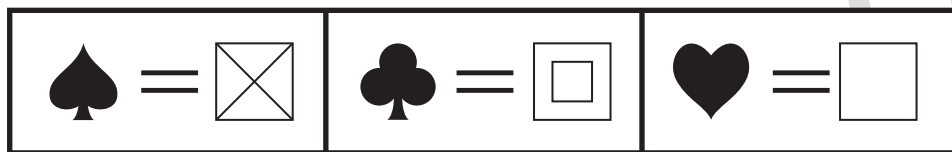


おうちで、やろう。

Study at home. 小学校受験の家庭学習教材

図形：置き換え6

上の太い四角が約束です。それぞれの形は右の四角の模様置き換えるという約束です。
左の四角の中の形を約束どおりに置き換えたとき、正しいものを右の四角の中から見つけて○をつけます。



※1. このプリントは、しながわ・目黒こどもスクールのウェブサイトでダウンロードができます。無断複写・引用はご遠慮ください。
 ※2. このプリントを活用したオンライン授業のスケジュールは、しながわ・目黒こどもスクールのウェブサイトでご確認ください。

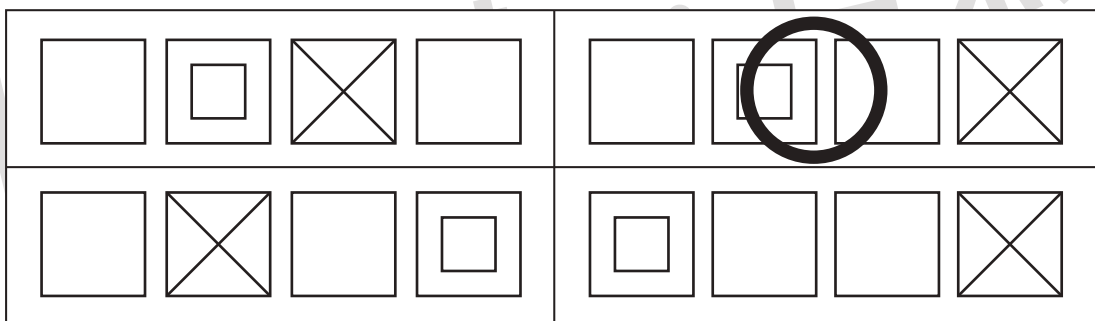

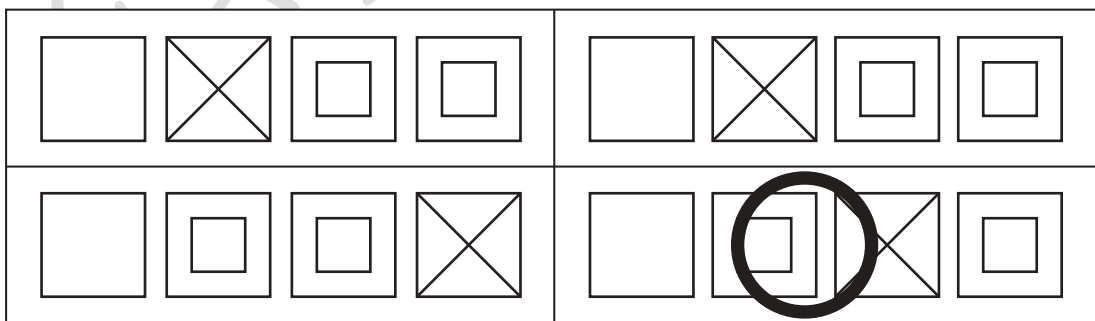

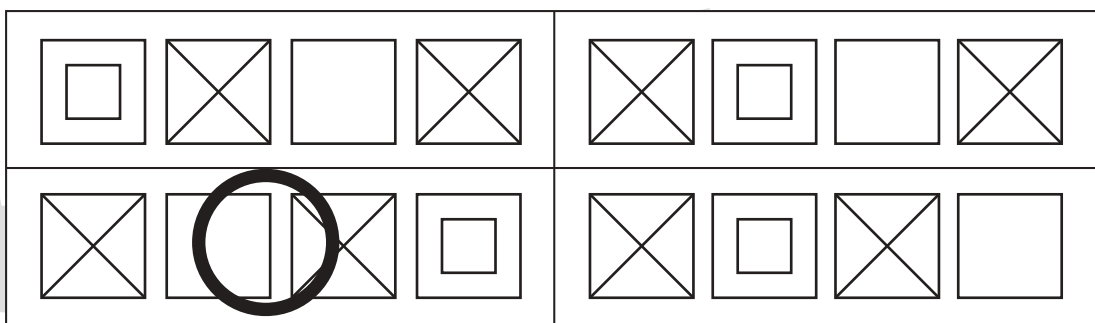

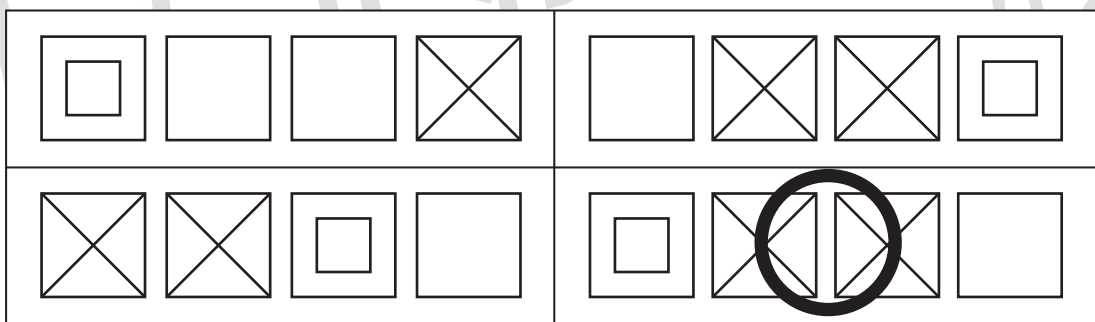

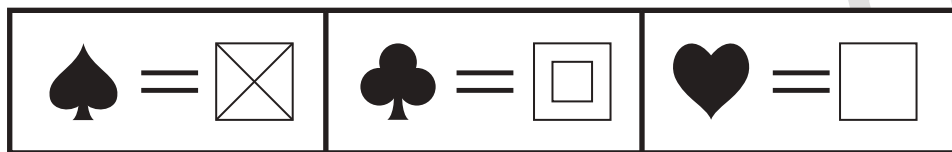


おうちで、やろう。

Study at home. 小学校受験の家庭学習教材

図形：置き換え 7

上の太い四角が約束です。それぞれの形は右の四角の模様置き換えるという約束です。
左の四角の中の形を約束どおりに置き換えたとき、正しいものを右の四角の中から見つけて○をつけます。



※1. このプリントは、しながわ・目黒こどもスクールのウェブサイトでダウンロードができます。無断複写・引用はご遠慮ください。
 ※2. このプリントを活用したオンライン授業のスケジュールは、しながわ・目黒こどもスクールのウェブサイトでご確認ください。



おうちで、やろう。

Study at home. 小学校受験の家庭学習教材

推理：積み木 6

上の四角の中の積み木のうち、灰色の積み木はいくつありますか。その数だけ下のマスに○をかきます。
隠れている積み木はすべて灰色の積み木です。

○	○	○	○
○	○	○	

○	○	○	○
○	○		

○	○	○	○
○	○	○	○

○	○	○	○
○	○	○	○
○			

○	○	○	○
○	○	○	○
○	○		

○	○	○	○
○	○	○	○

※1. このプリントは、しながわ・目黒こどもスクールのウェブサイトでダウンロードができます。無断複写・引用はご遠慮ください。
※2. このプリントを活用したオンライン授業のスケジュールは、しながわ・目黒こどもスクールのウェブサイトでご確認ください。



おうちで、やろう。

Study at home. 小学校受験の家庭学習教材

推理：積み木 7

上の四角の中の積み木のうち、灰色の積み木はいくつありますか。その数だけ下のマスに○をかきます。
隠れている積み木はすべて灰色の積み木です。

○	○	○	○
○			

○	○	○	○
○	○	○	○

○	○	○	○
○	○	○	○
○			

○	○	○	○
○	○	○	○
○	○	○	

○	○	○	○
○	○	○	○
○	○	○	

○	○	○	○
○	○	○	○
○	○		

※1. このプリントは、しながわ・目黒こどもスクールのウェブサイトでダウンロードができます。無断複写・引用はご遠慮ください。
※2. このプリントを活用したオンライン授業のスケジュールは、しながわ・目黒こどもスクールのウェブサイトでご確認ください。

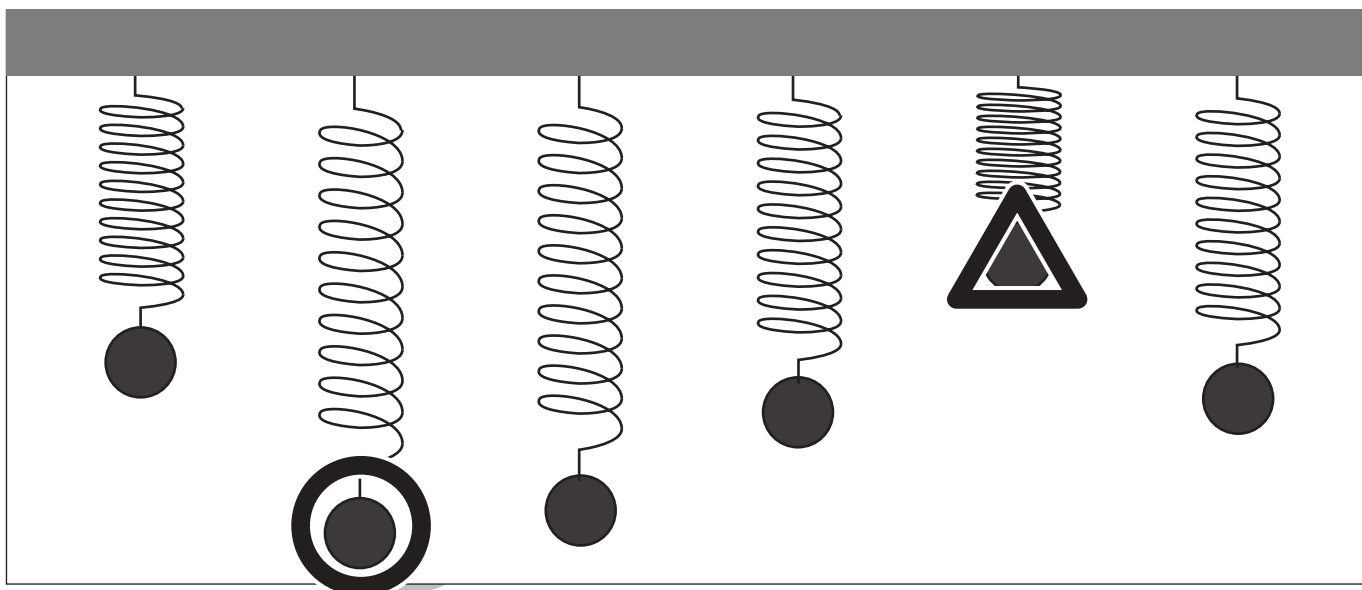
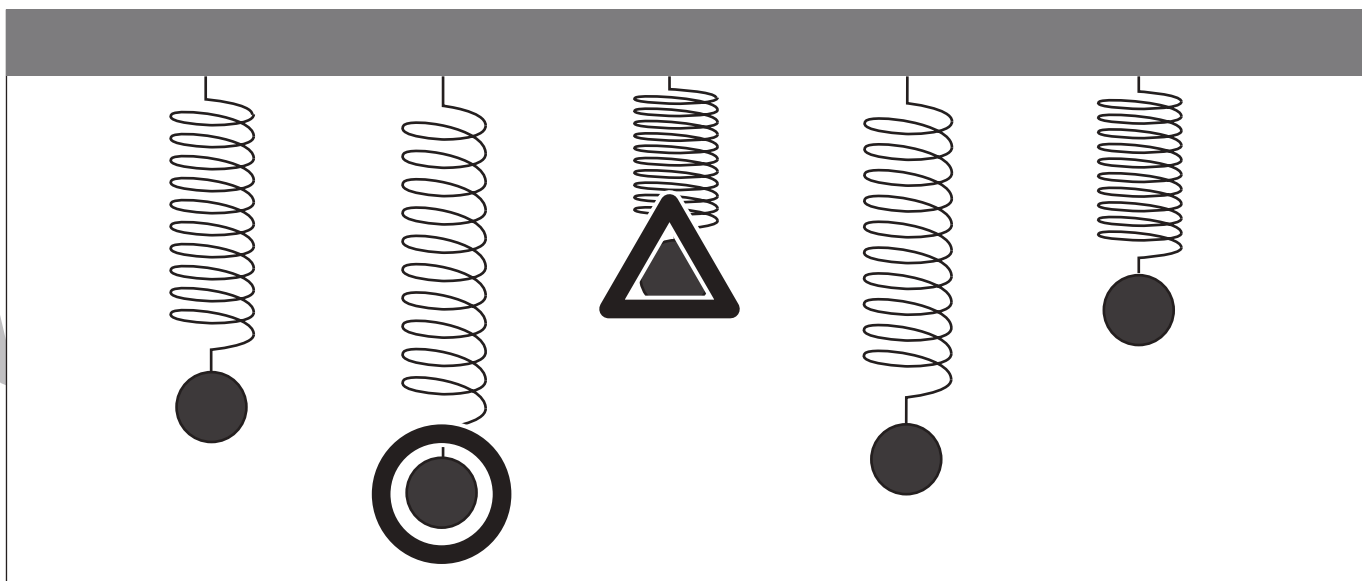
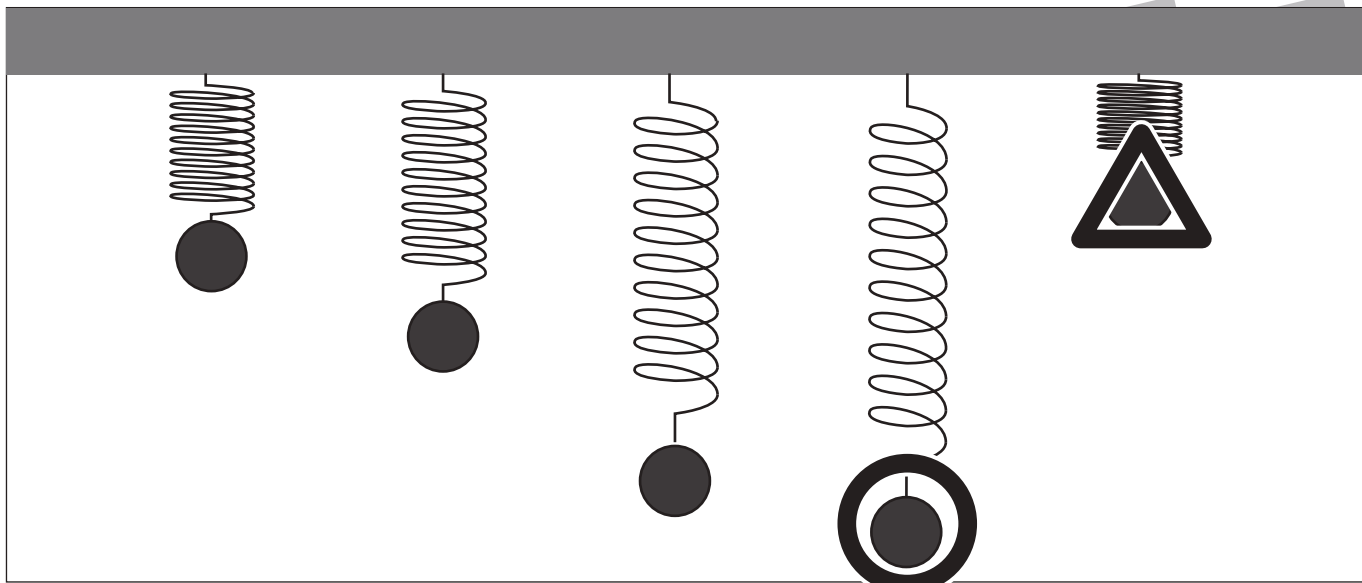


おうちで、やろう。

Study at home. 小学校受験の家庭学習教材

推理：重さ5

バネにボールをつるして重さ比べをしました。一番重いボールに○、一番軽いボールに△をつけます。



※1. このプリントは、しながわ・目黒こどもスクールのウェブサイトでダウンロードができます。無断複写・引用はご遠慮ください。

※2. このプリントを活用したオンライン授業のスケジュールは、しながわ・目黒こどもスクールのウェブサイトでご確認ください。

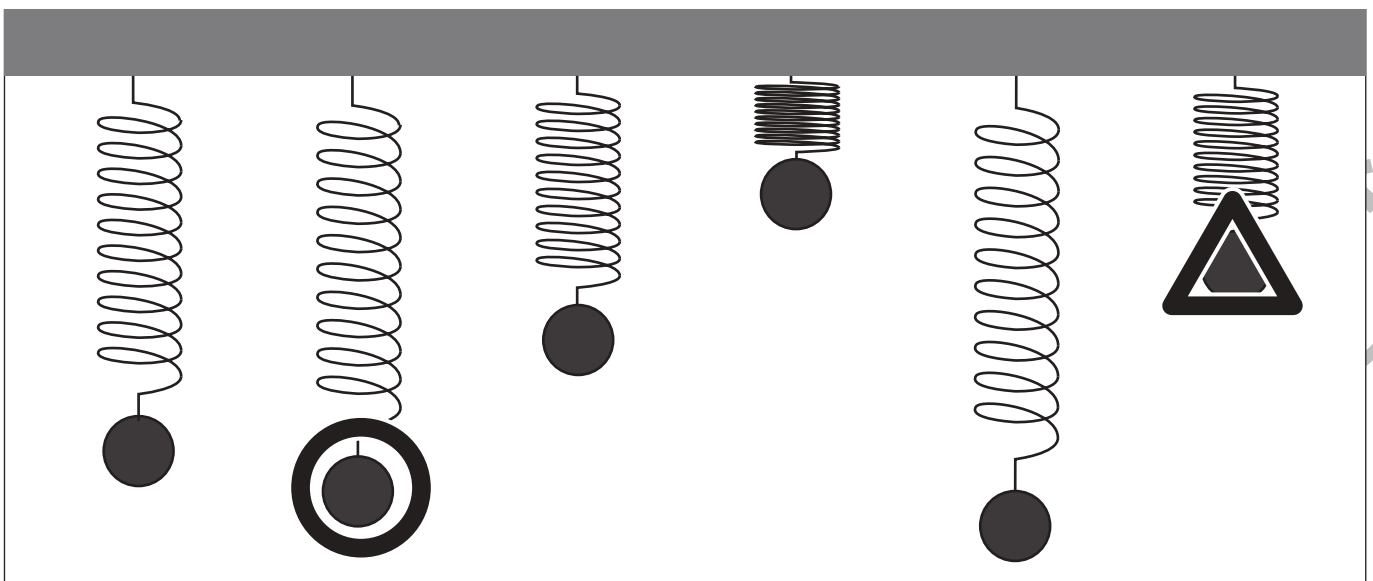
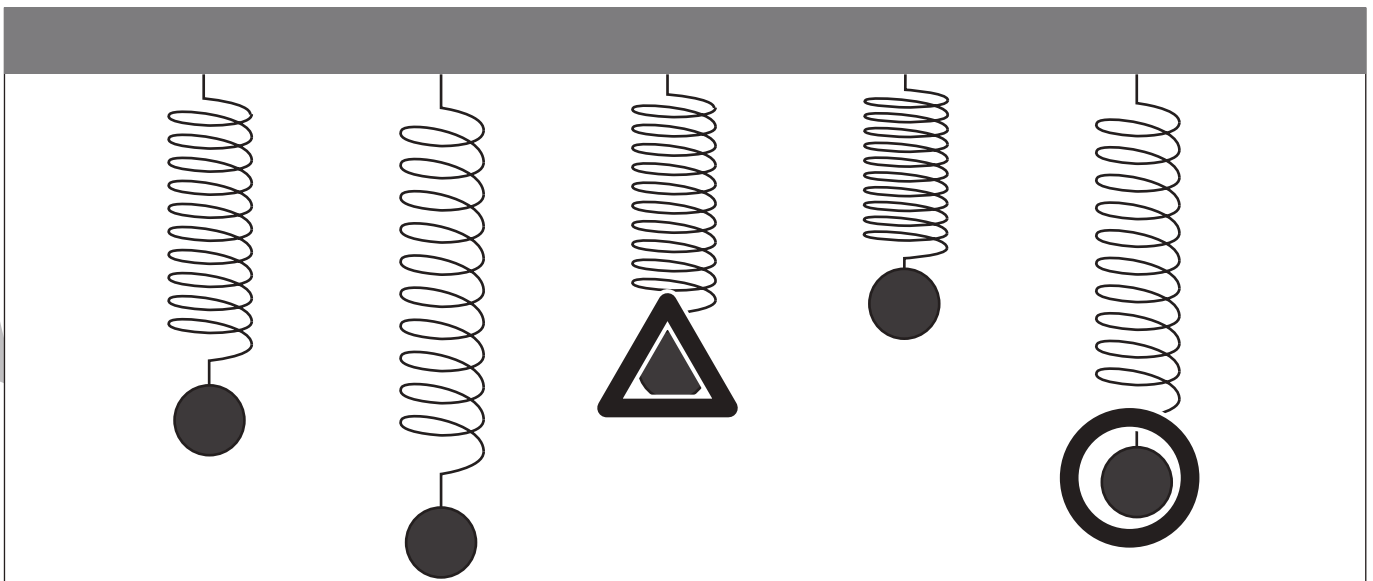
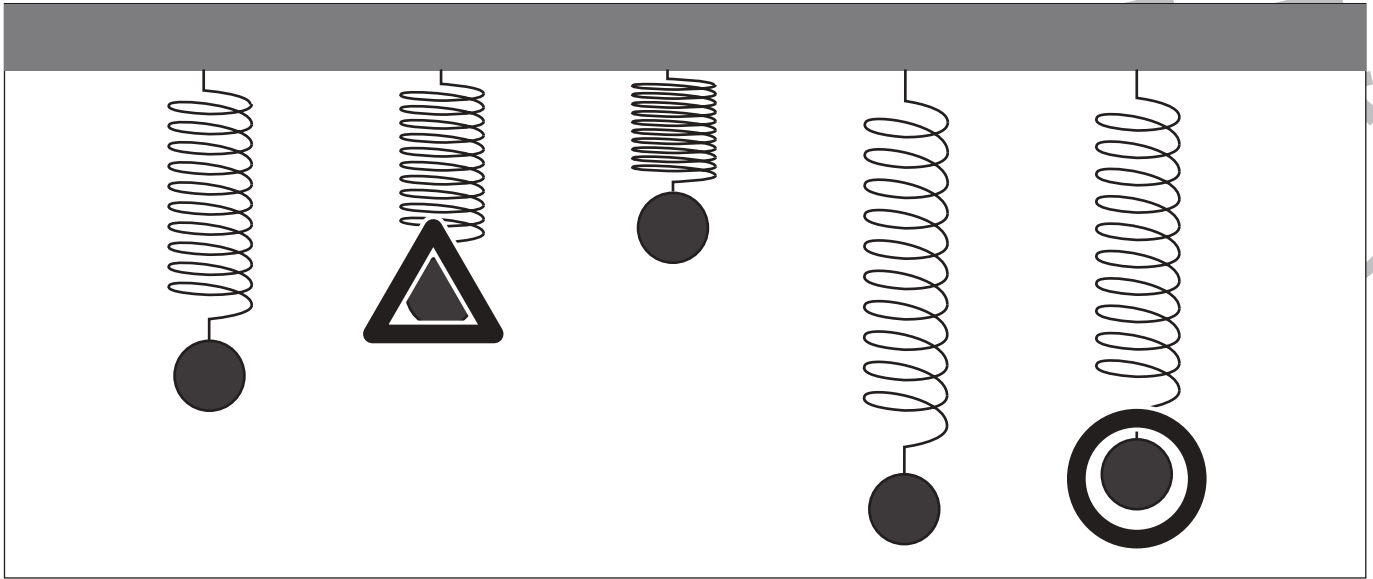


おうちで、やろう。

Study at home. 小学校受験の家庭学習教材

推理：重さ6

バネにボールをつるして重さ比べをしました。二番目に重いボールに○、二番目に軽いボールに△をつけます。



※1. このプリントは、しながわ・目黒こどもスクールのウェブサイトでダウンロードができます。無断複写・引用はご遠慮ください。

※2. このプリントを活用したオンライン授業のスケジュールは、しながわ・目黒こどもスクールのウェブサイトでご確認ください。

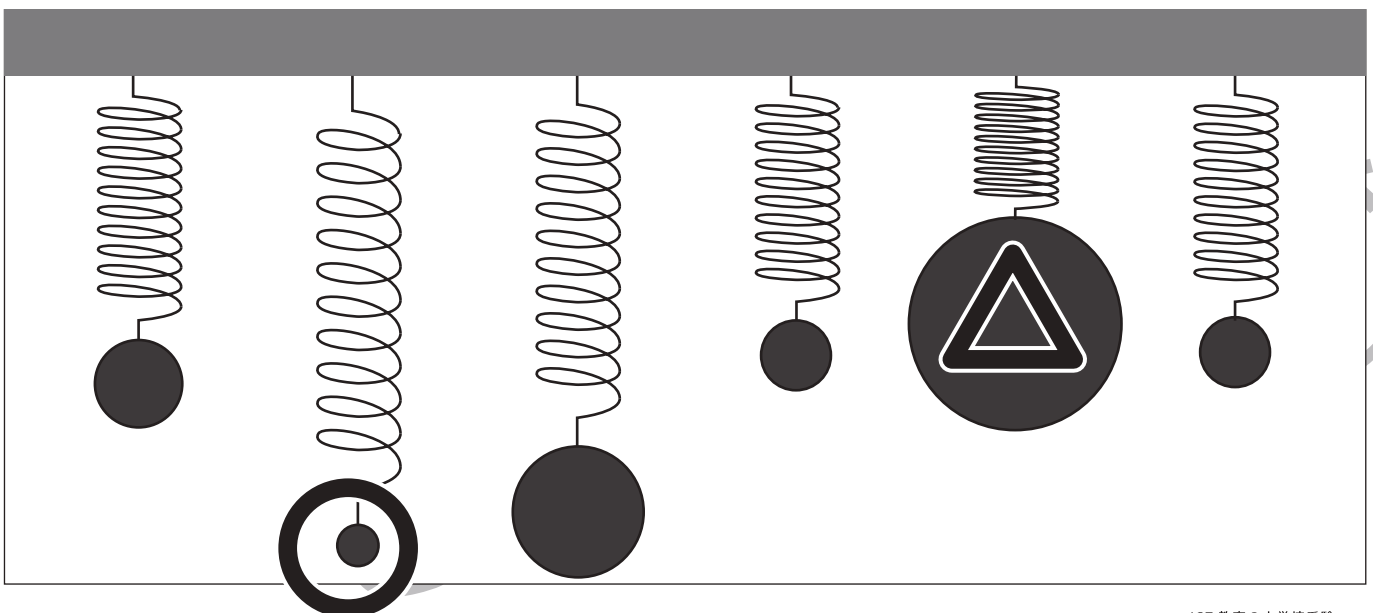
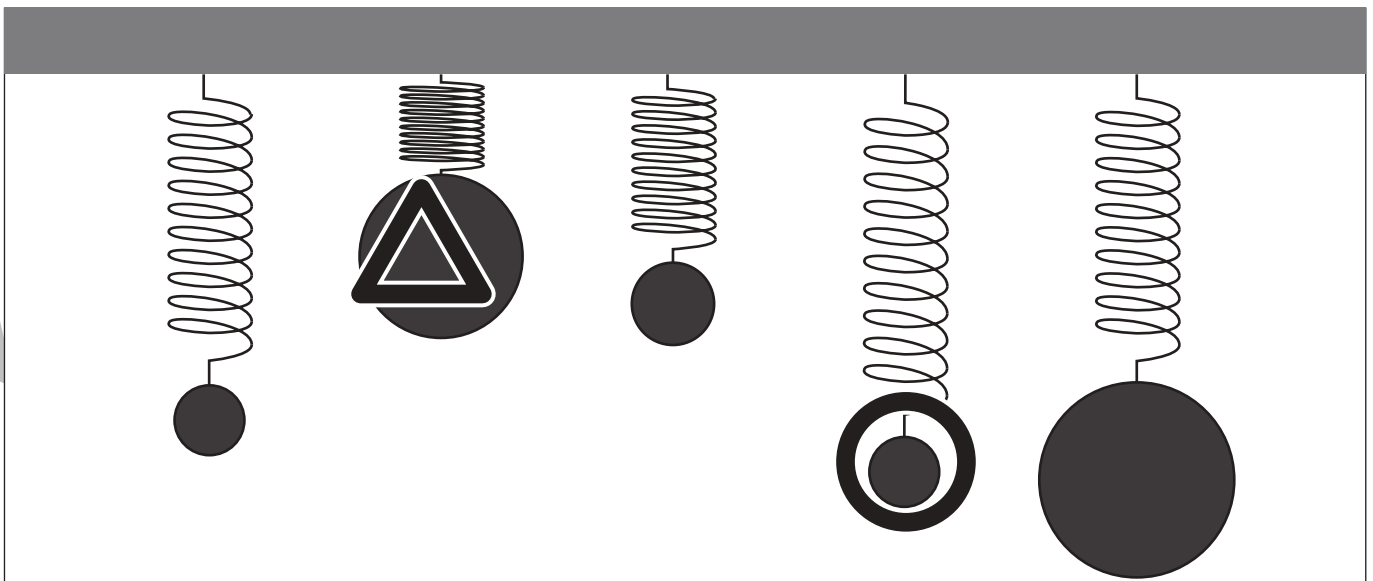
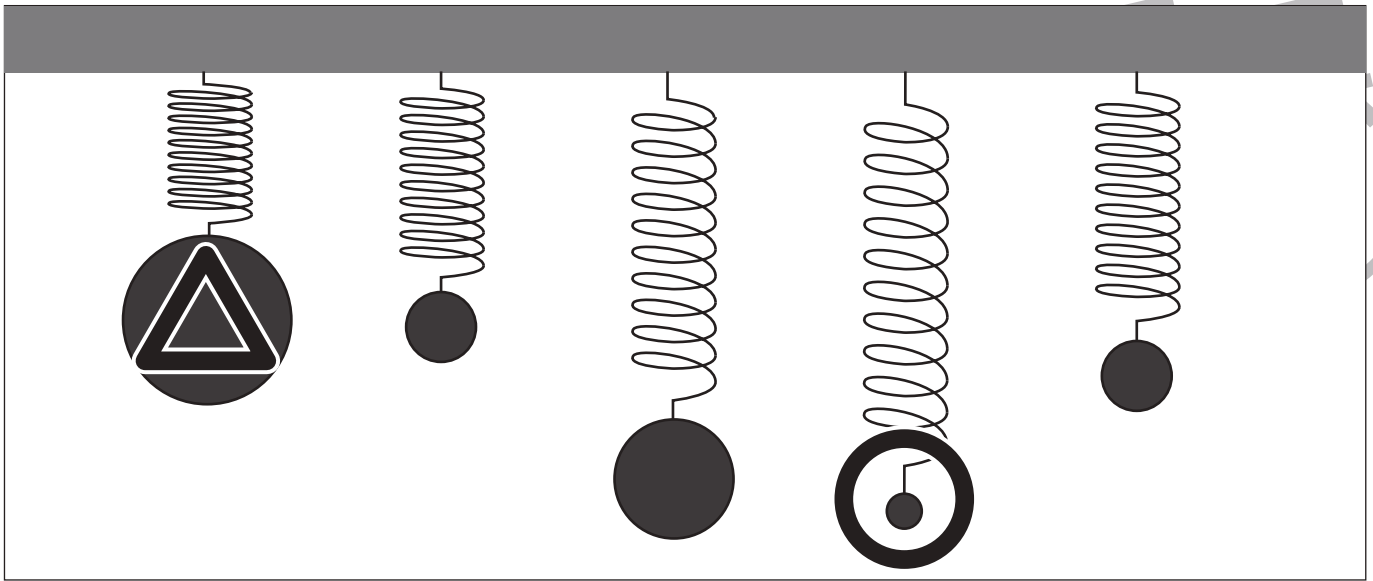


おうちで、やろう。

Study at home. 小学校受験の家庭学習教材

推理：重さ7

バネにボールをつるして重さ比べをしました。一番重いボールに○、一番軽いボールに△をつけます。



※1. このプリントは、しながわ・目黒こどもスクールのウェブサイトからダウンロードできます。無断複写・引用はご遠慮ください。

※2. このプリントを活用したオンライン授業のスケジュールは、しながわ・目黒こどもスクールのウェブサイトでご確認ください。