



おうちで、やろう。

Study at home. 小学校受験の家庭学習教材

常識：行事 2

太い四角の中の行事と関係のあるものを右から全て選んで、絵の左上にかいてある記号をつけます。

○					

△					

□					

×					

○					

※1. このプリントは、しながわ・目黒こどもスクールのウェブサイトからダウンロードができます。無断複写・引用はご遠慮ください。
 ※2. このプリントを活用したオンライン授業のスケジュールは、しながわ・目黒こどもスクールのウェブサイトでご確認ください。



































おうちで、やろう。

Study at home. 小学校受験の家庭学習教材

図形：鏡 16

太い線の場所に鏡を置いて絵を写したときの見え方を考えて、正しいものに○をつけます。

 —————	 —————	 —————	 —————
			
			
			
 —————	 —————	 —————	 —————
			
			
			

※1. このプリントは、しながわ・目黒こどもスクールのウェブサイトからダウンロードできます。無断複写・引用はご遠慮ください。

※2. このプリントを活用したオンライン授業のスケジュールは、しながわ・目黒こどもスクールのウェブサイトでご確認ください。

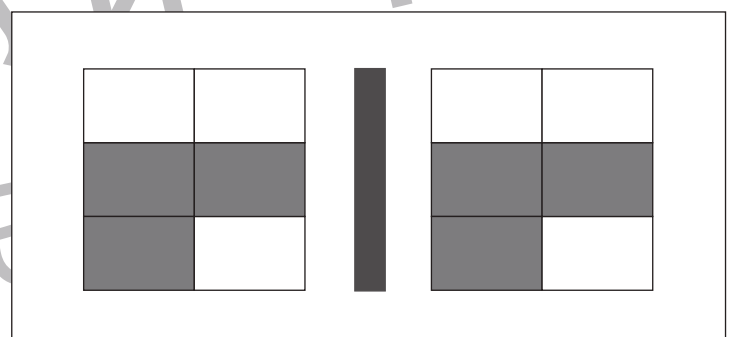
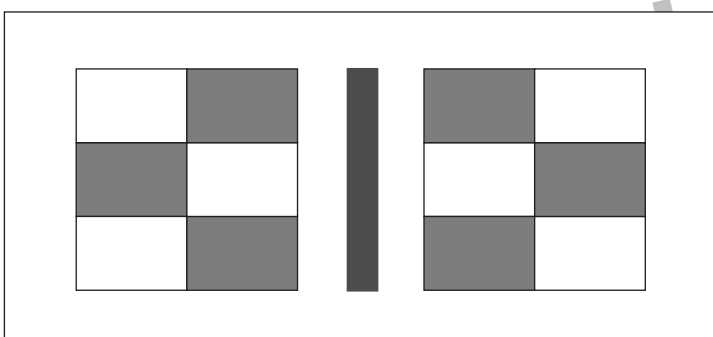
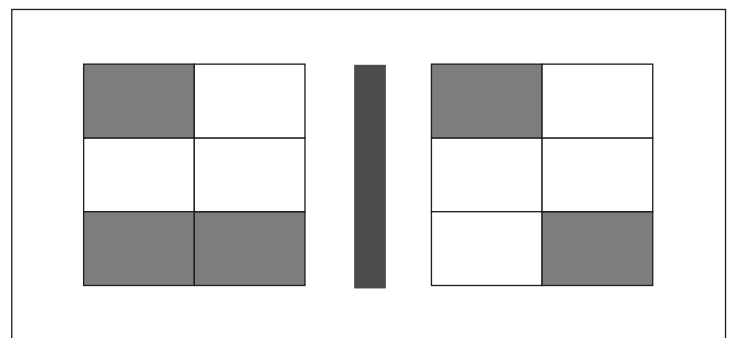
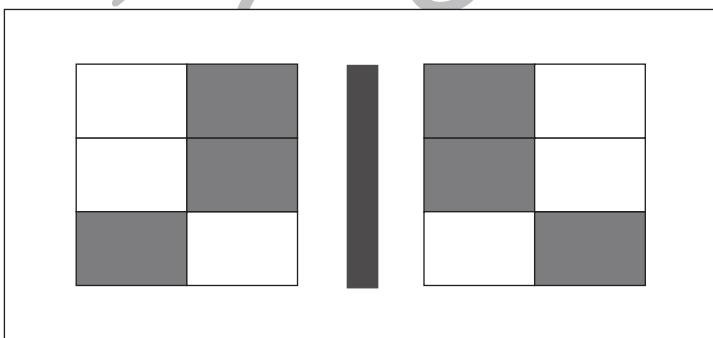
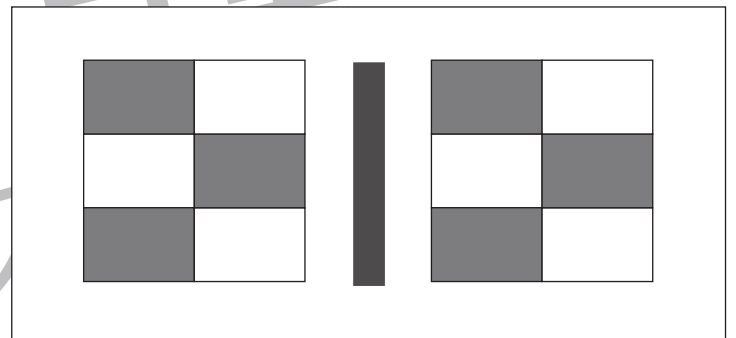
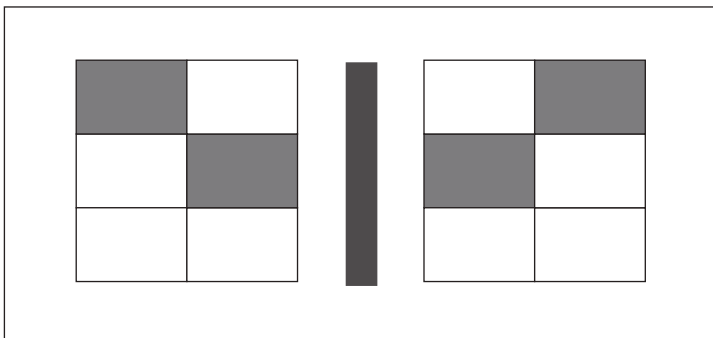
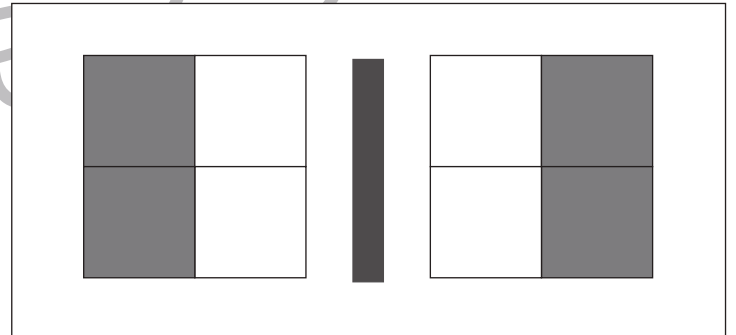
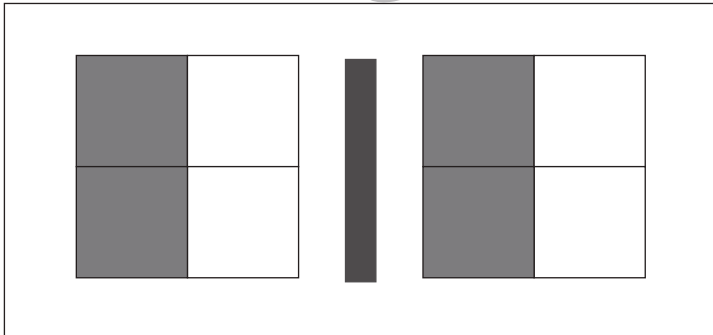
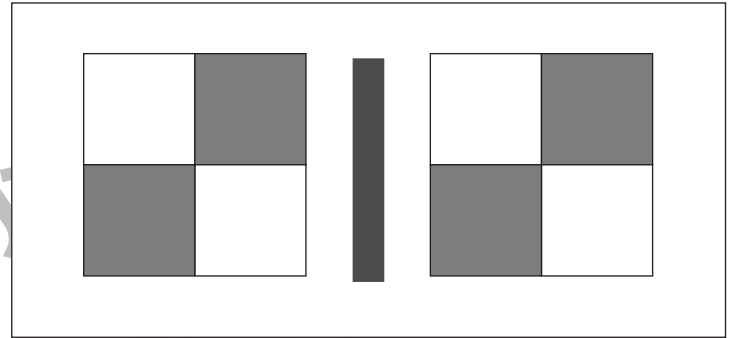
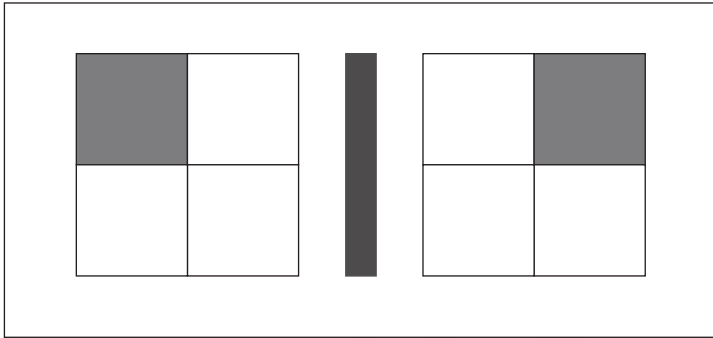


おうちで、やろう。

Study at home. 小学校受験の家庭学習教材

図形：鏡 17

左の四角の絵を真ん中にある鏡で映した時の見え方が右の四角です。見え方が正しければ○、間違えていれば×を右の四角につけます。



※1. このプリントは、しながわ・目黒こどもスクールのウェブサイトでダウンロードができます。無断複写・引用はご遠慮ください。
※2. このプリントを活用したオンライン授業のスケジュールは、しながわ・目黒こどもスクールのウェブサイトでご確認ください。



おうちで、やろう。

Study at home. 小学校受験の家庭学習教材

図形：鏡 18

左の四角の絵を真ん中にある魔法の鏡で映した時の見え方が右の四角です。魔法の鏡は、灰色のところは白く、白いところは灰色に見えます。鏡に映したときの見え方が正しければ○、間違えていれば×を右の四角につけます。

	鏡	
	鏡	
	鏡	
	鏡	
	鏡	
	鏡	
	鏡	

※1. このプリントは、しながわ・目黒こどもスクールのウェブサイトでダウンロードができます。無断複写・引用はご遠慮ください。
 ※2. このプリントを活用したオンライン授業のスケジュールは、しながわ・目黒こどもスクールのウェブサイトでご確認ください。



おうちで、やろう。

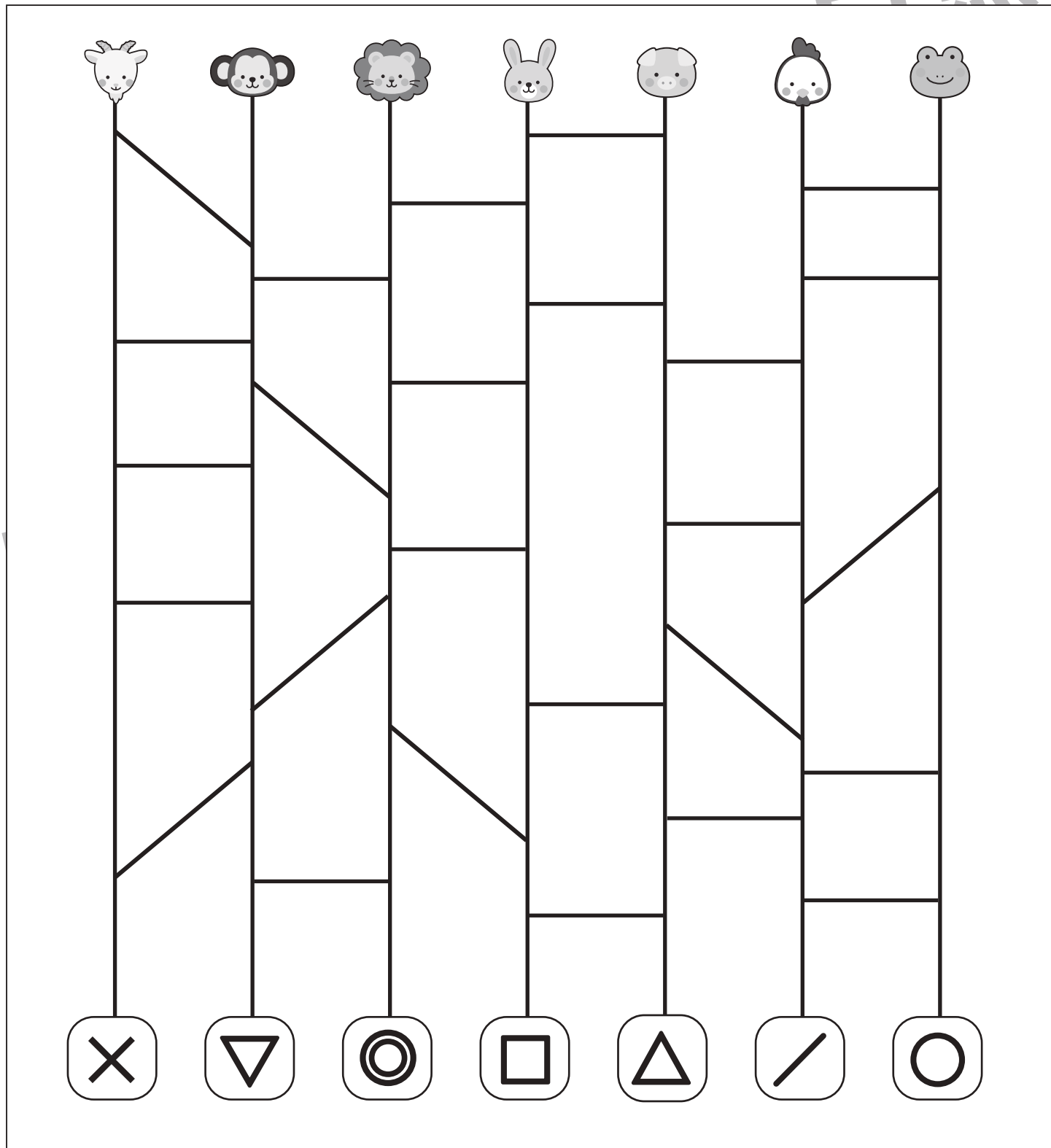
Study at home. 小学校受験の家庭学習教材

推理：あみだくじ6

上の動物たちがあみだくじを進んでいくと下のどこかの記号につきます。誰がどの記号についたのかを考えてそれぞれの動物についての記号をかきます。

※あみだくじのルール：①道は戻ってはいけません。②途中で曲がり角があったら必ず曲がります。

目黒



こども

※1. このプリントは、しながわ・目黒こどもスクールのウェブサイトでダウンロードができます。無断複写・引用はご遠慮ください。
 ※2. このプリントを活用したオンライン授業のスケジュールは、しながわ・目黒こどもスクールのウェブサイトでご確認ください。






おうちで、やろう。

Study at home. 小学校受験の家庭学習教材

推理：影 7

左の四角の中には絵が影になって重なっています。影になっていない絵を右の四角の中から見つけて△をつけます。



※1. このプリントは、しながわ・目黒こどもスクールのウェブサイトでダウンロードができます。無断複写・引用はご遠慮ください。
 ※2. このプリントを活用したオンライン授業のスケジュールは、しながわ・目黒こどもスクールのウェブサイトでご確認ください。






おうちで、やろう。

Study at home. 小学校受験の家庭学習教材

推理：影 8

左の四角の中には絵が影になって重なっています。影になっていない絵を右の四角の中から見つけて△をつけます。



※1. このプリントは、しながわ・目黒こどもスクールのウェブサイトからダウンロードできます。無断複写・引用はご遠慮ください。

※2. このプリントを活用したオンライン授業のスケジュールは、しながわ・目黒こどもスクールのウェブサイトでご確認ください。






おうちで、やろう。

Study at home. 小学校受験の家庭学習教材

推理：影 9

左の四角の中には絵が影になって重なっています。影になっていない絵を右の四角の中から見つけて△をつけます。



※1. このプリントは、しながわ・目黒こどもスクールのウェブサイトでダウンロードができます。無断複写・引用はご遠慮ください。
 ※2. このプリントを活用したオンライン授業のスケジュールは、しながわ・目黒こどもスクールのウェブサイトでご確認ください。


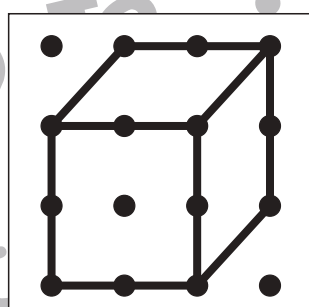

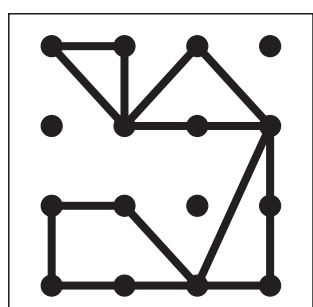

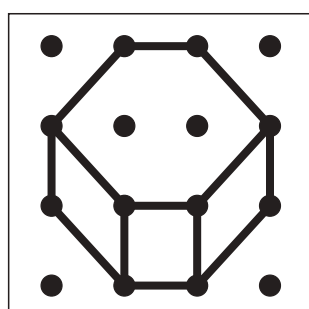

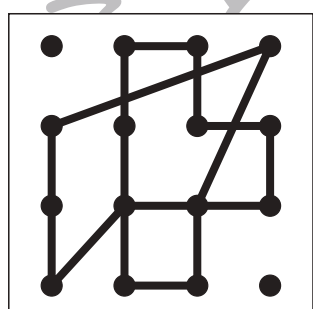

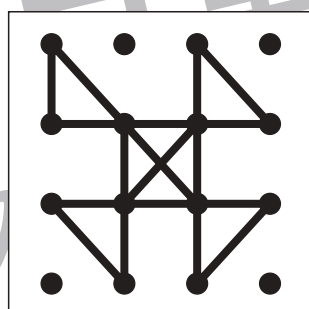

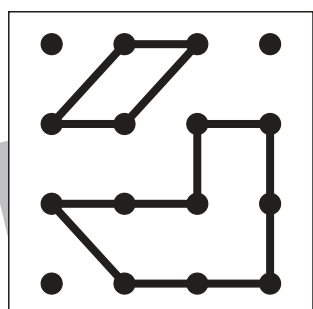

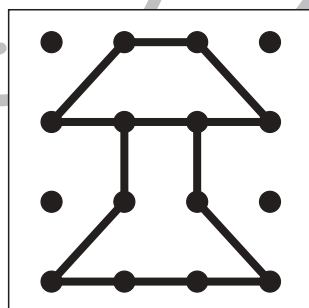

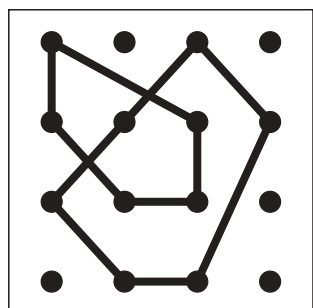

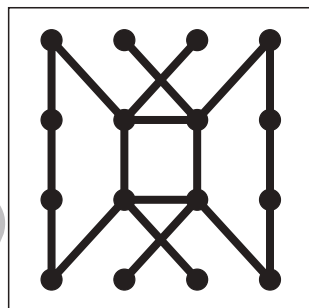

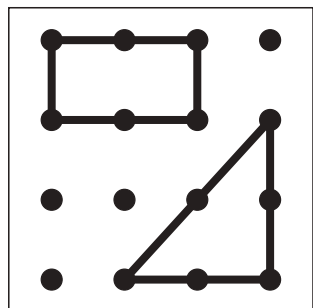


おうちで、よろう。

Study at home. 小学校受験の家庭学習教材

図形：点図形 22

左のお手本と同じになるように右の四角に線をかきます。 ※このプリントに解答はありません。



※1. このプリントは、しながわ・目黒こどもスクールのウェブサイトでダウンロードができます。無断複写・引用はご遠慮ください。
※2. このプリントを活用したオンライン授業のスケジュールは、しながわ・目黒こどもスクールのウェブサイトでご確認ください。




おうちで、やろう。

Study at home. 小学校受験の家庭学習教材

絵画：創造画 4

固いものの絵を描きます。紙の向きは縦横自由です。



※1. このプリントは、しながわ・目黒こどもスクールのウェブサイトでダウンロードができます。無断複写・引用はご遠慮ください。
※2. このプリントを活用したオンライン授業のスケジュールは、しながわ・目黒こどもスクールのウェブサイトでご確認ください。