









おうちで、やろう。

Study at home. 小学校受験の家庭学習教材

常識：生物 4

左の生き物の足あとを右から選んで、点と点を線でむすびます。

※1. このプリントは、しながわ・目黒こどもスクールのウェブサイトからダウンロードできます。無断複写・引用はご遠慮ください。
※2. このプリントを活用したオンライン授業のスケジュールは、しながわ・目黒こどもスクールのウェブサイトでご確認ください。



おうちで、やろう。

Study at home. 小学校受験の家庭学習教材

言語：音の数 20

太い四角の中の絵の音の数をすべて合わせるといくつになりますか。その数だけ右の四角に○をかきます。

	$\bigcirc \times 7$
---	---------------------

	$\bigcirc \times 7$
---	---------------------

	$\bigcirc \times 10$
---	----------------------

	$\bigcirc \times 10$
---	----------------------

	$\bigcirc \times 13$
---	----------------------

※1. このプリントは、しながわ・目黒こどもスクールのウェブサイトでダウンロードができます。無断複写・引用はご遠慮ください。
※2. このプリントを活用したオンライン授業のスケジュールは、しながわ・目黒こどもスクールのウェブサイトでご確認ください。



おうちで、やろう。

Study at home. 小学校受験の家庭学習教材

言語：音の数 21

太い四角の中の絵の音の数をすべて合わせるといくつになりますか。その数だけ右の四角に○をかきます。

	$\bigcirc \times 7$
---	---------------------

	$\bigcirc \times 11$
--	----------------------

	$\bigcirc \times 6$
---	---------------------

	$\bigcirc \times 10$
---	----------------------

	$\bigcirc \times 13$
---	----------------------

※1. このプリントは、しながわ・目黒こどもスクールのウェブサイトでダウンロードができます。無断複写・引用はご遠慮ください。
※2. このプリントを活用したオンライン授業のスケジュールは、しながわ・目黒こどもスクールのウェブサイトでご確認ください。


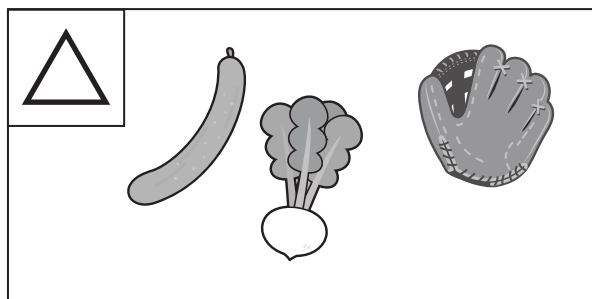


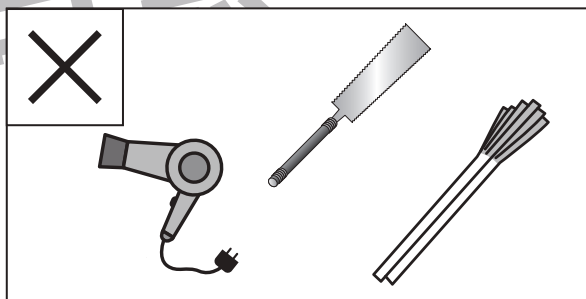

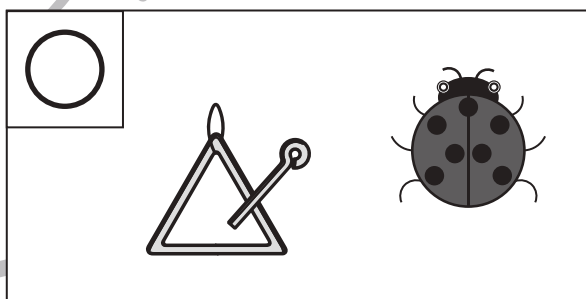
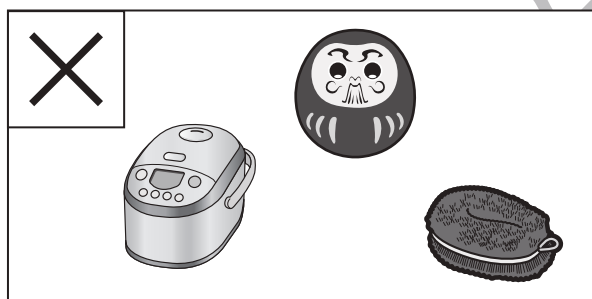

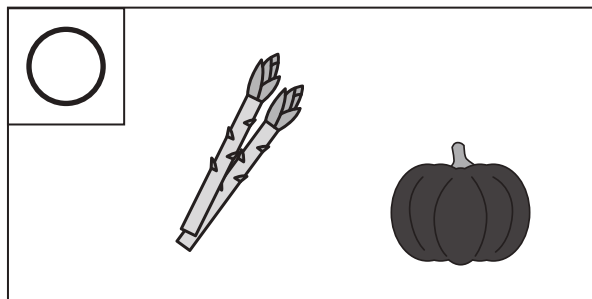


おうちで、やろう。

Study at home. 小学校受験の家庭学習教材

言語：音の数 22

左と右のそれぞれの四角の中の絵の音の数を合わせた時、どちらの方が音の数が多くなりますか。多い方の四角の左上にかいてある印を真ん中の太い四角の中にかきます。



※1. このプリントは、しながわ・目黒こどもスクールのウェブサイトからダウンロードできます。無断複写・引用はご遠慮ください。
※2. このプリントを活用したオンライン授業のスケジュールは、しながわ・目黒こどもスクールのウェブサイトでご確認ください。





おうちで、やろう。




Study at home. 小学校受験の家庭学習教材

常識：季節 11

左から季節の順番に並んでいます。

太い四角の中に入る季節と同じ季節の絵を上の方の中から見つけて、それぞれの絵の下の記号をかきます。

○	△	□	×



※1. このプリントは、しながわ・目黒こどもスクールのウェブサイトでダウンロードができます。無断複写・引用はご遠慮ください。
 ※2. このプリントを活用したオンライン授業のスケジュールは、しながわ・目黒こどもスクールのウェブサイトでご確認ください。



おうちで、やろう。

Study at home. 小学校受験の家庭学習教材

数量：計数 26

上の段の積み木の数と同じ数のものを真ん中の段と下の段から見つけて、点と点を線でむすびます。

※1. このプリントは、しながわ・目黒こどもスクールのウェブサイトでダウンロードができます。無断複写・引用はご遠慮ください。
 ※2. このプリントを活用したオンライン授業のスケジュールは、しながわ・目黒こどもスクールのウェブサイトでご確認ください。

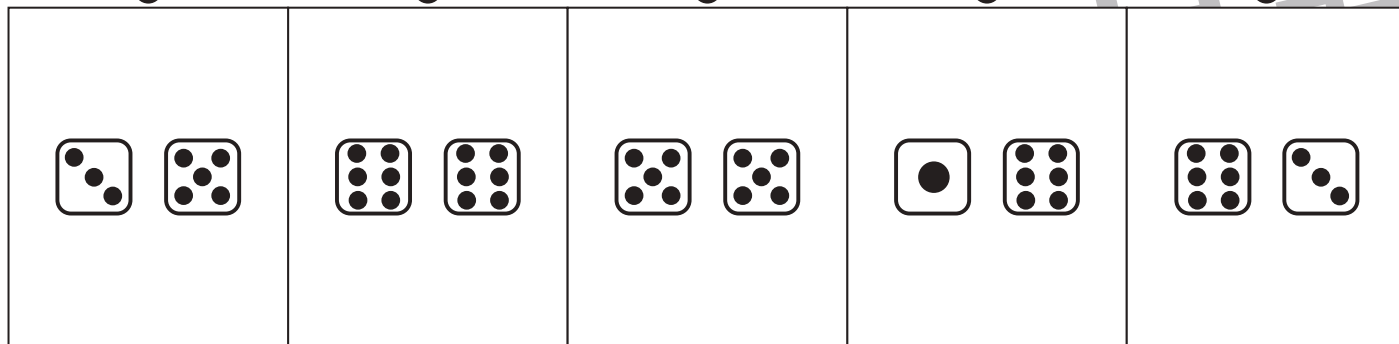
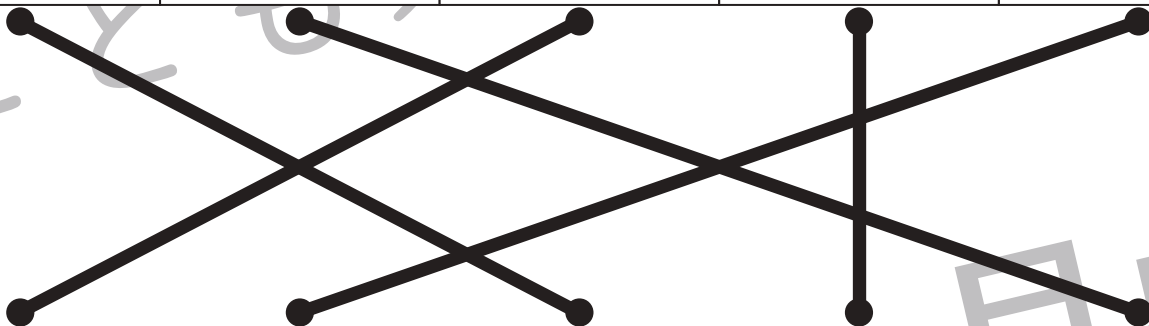

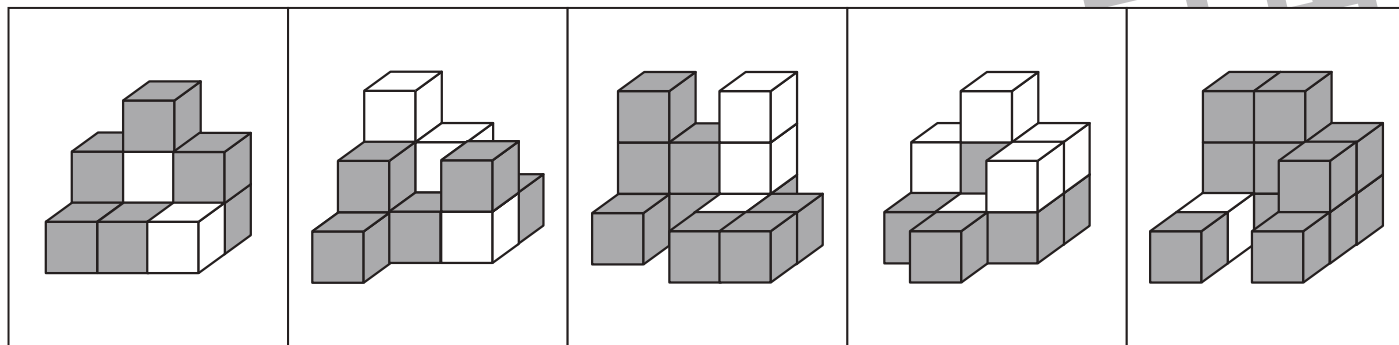


おうちで、やろう。

Study at home. 小学校受験の家庭学習教材

数量：計数 27

上の段の灰色の積み木の数と同じ数のものを真ん中の段と下の段から見つけて、点と点を線でむすびます。見えない場所の積み木は灰色になります。



※1. このプリントは、しながわ・目黒こどもスクールのウェブサイトでダウンロードができます。無断複写・引用はご遠慮ください。
 ※2. このプリントを活用したオンライン授業のスケジュールは、しながわ・目黒こどもスクールのウェブサイトでご確認ください。

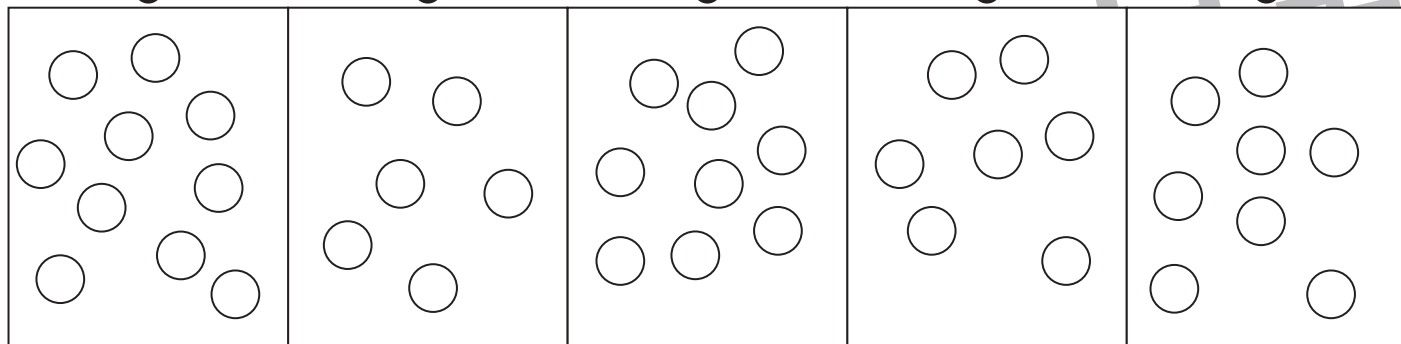
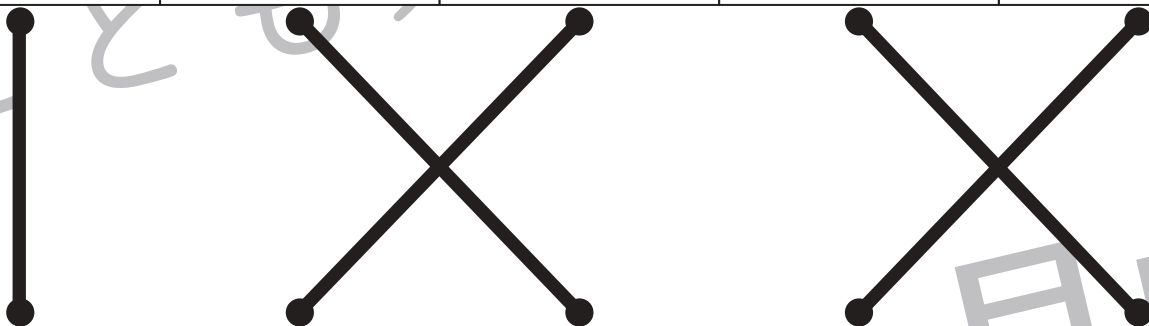

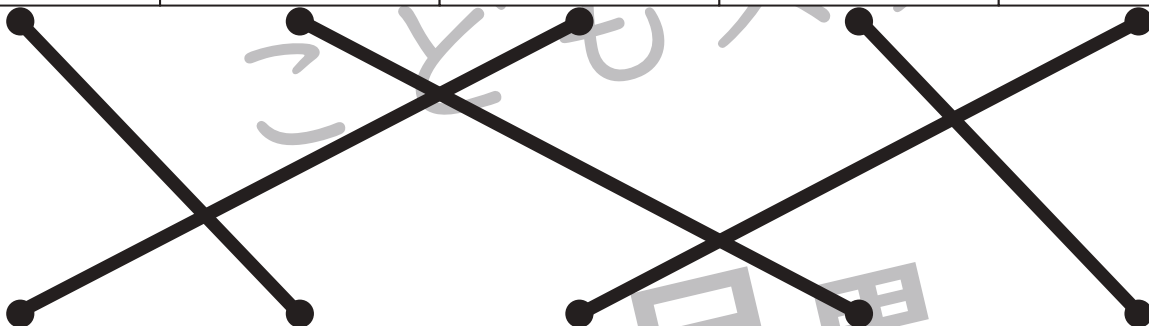
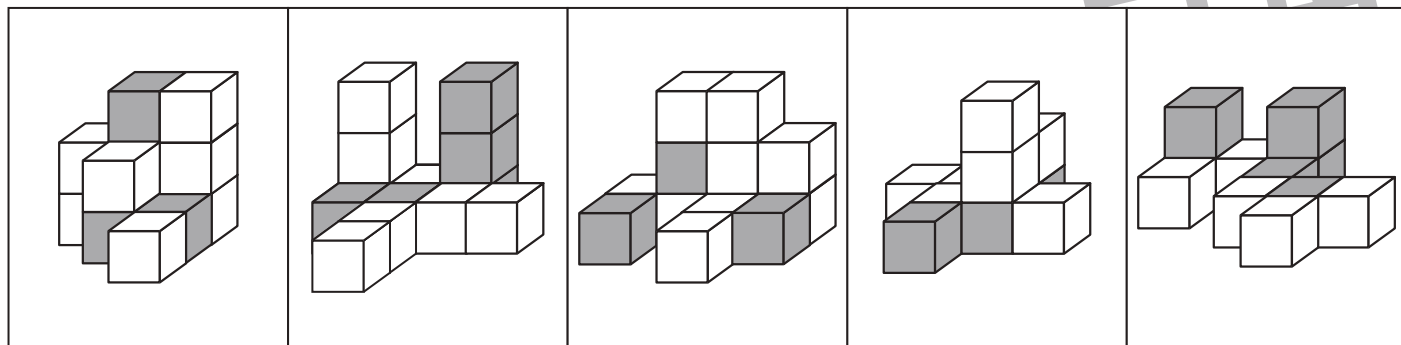


おうちで、やろう。

Study at home. 小学校受験の家庭学習教材

数量：計数 28

上の段の白色の積み木の数と同じ数のものを真ん中の段と下の段から見つけて、点と点を線でむすびます。見えない場所の積み木は白色になります。



※1. このプリントは、しながわ・目黒こどもスクールのウェブサイトでダウンロードができます。無断複写・引用はご遠慮ください。
 ※2. このプリントを活用したオンライン授業のスケジュールは、しながわ・目黒こどもスクールのウェブサイトでご確認ください。

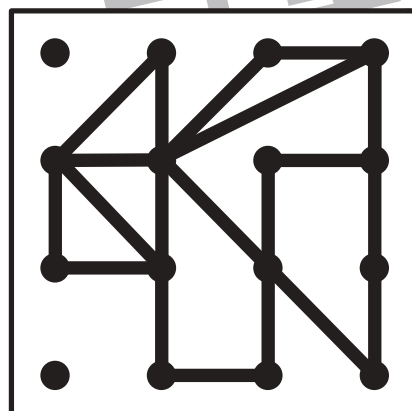
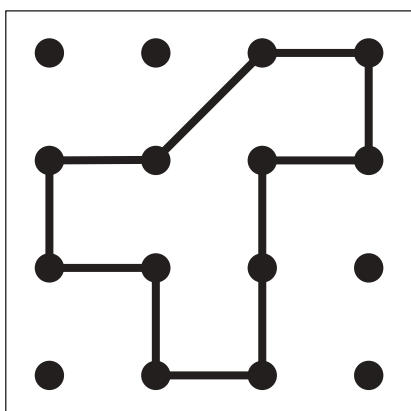
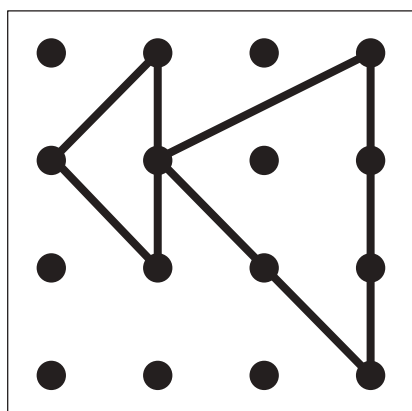
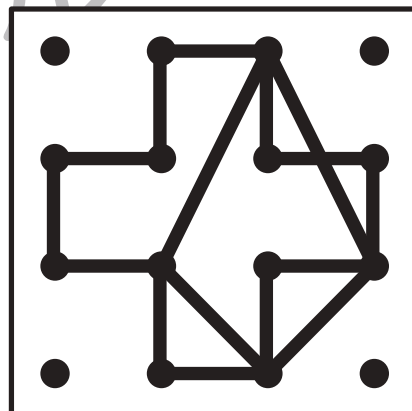
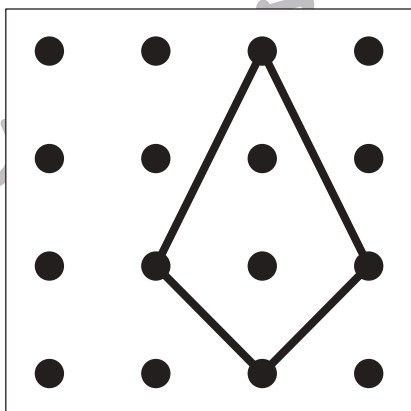
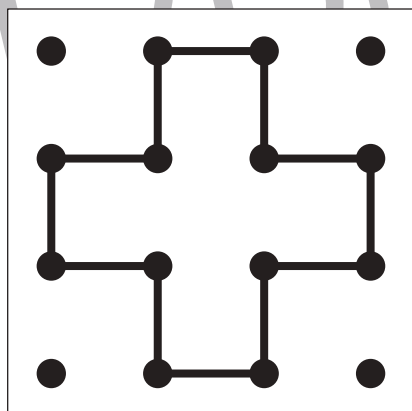
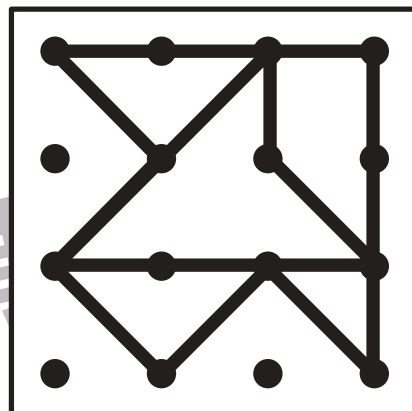
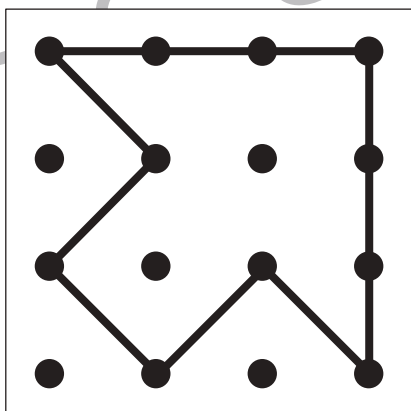
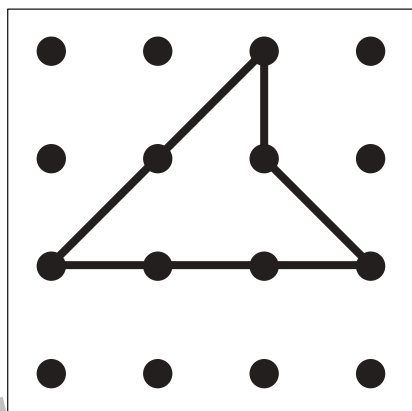
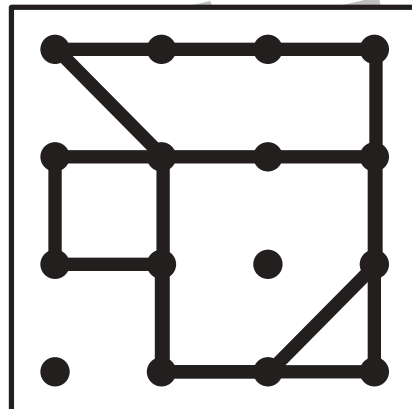
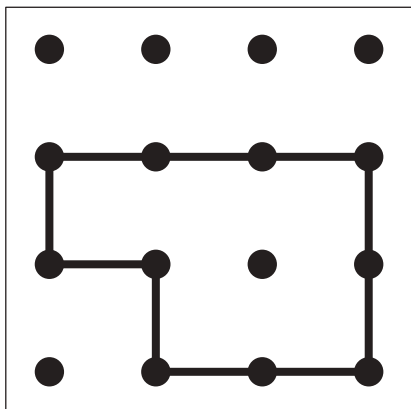
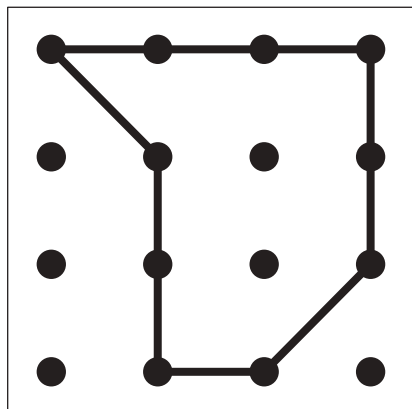


おうちで、やろう。

Study at home. 小学校受験の家庭学習教材

図形：重ね点図形 18

左の2枚の点図形を重ねた形を考えて、矢印の右の四角にかきます。



※1. このプリントは、しながわ・目黒こどもスクールのウェブサイトでダウンロードができます。無断複写・引用はご遠慮ください。

※2. このプリントを活用したオンライン授業のスケジュールは、しながわ・目黒こどもスクールのウェブサイトでご確認ください。



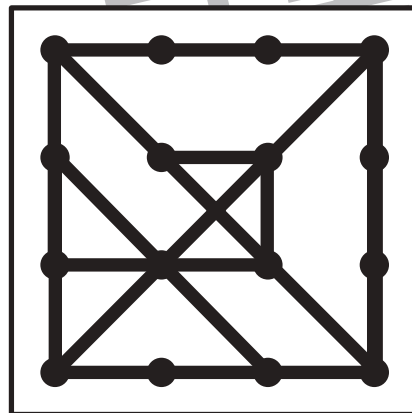
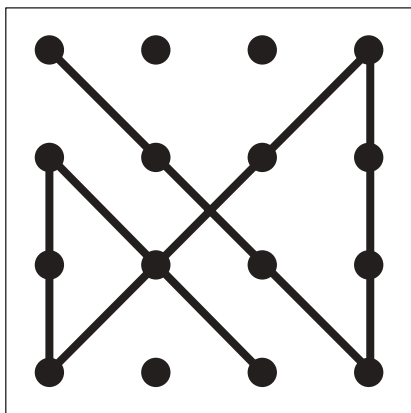
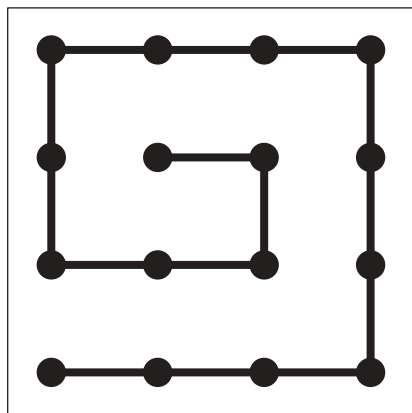
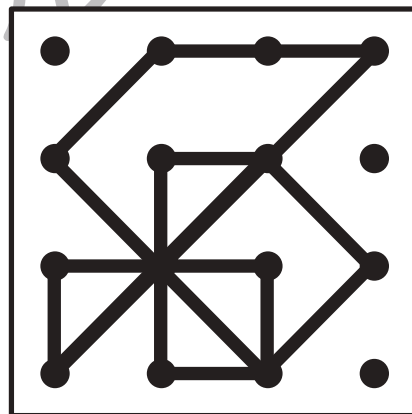
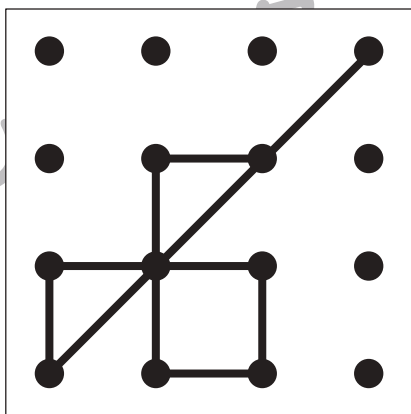
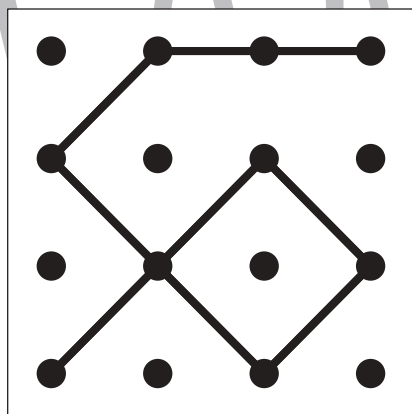
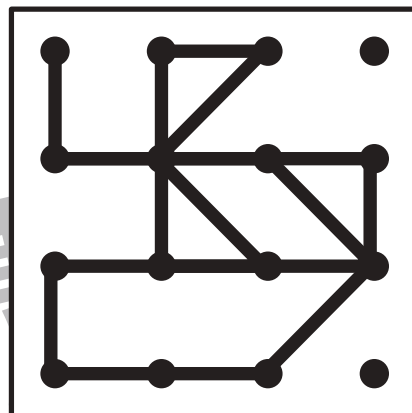
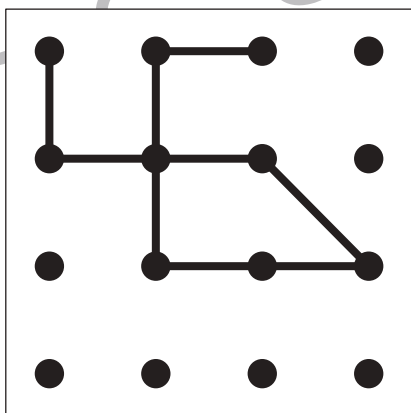
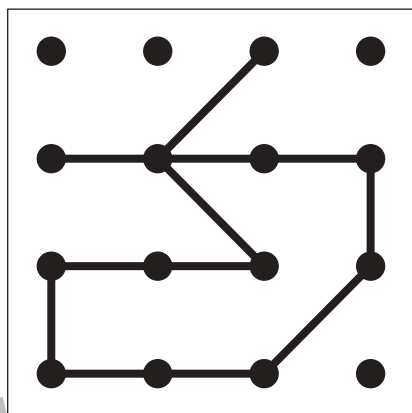
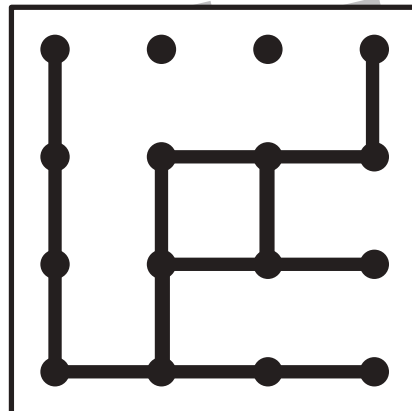
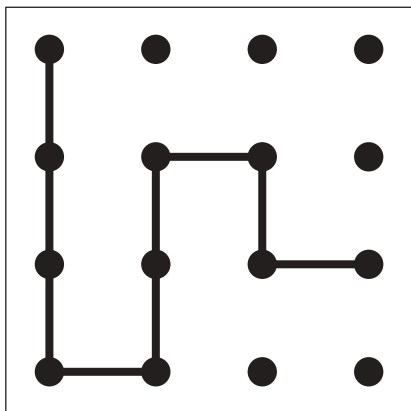
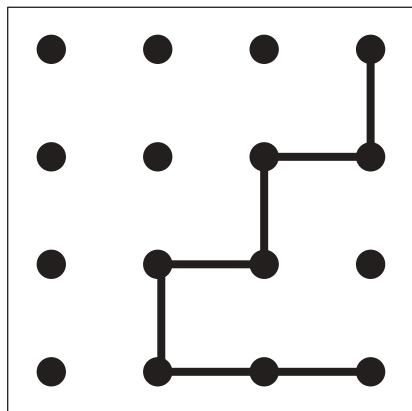


おうちで、やろう。

Study at home. 小学校受験の家庭学習教材

図形：重ね点図形 19

左の2枚の点図形を重ねた形を考えて、矢印の右の四角にかきます。



※1. このプリントは、しながわ・目黒こどもスクールのウェブサイトからダウンロードできます。無断複写・引用はご遠慮ください。

※2. このプリントを活用したオンライン授業のスケジュールは、しながわ・目黒こどもスクールのウェブサイトでご確認ください。

