



おうちで、やろう。

Study at home. 小学校受験の家庭学習教材

指示の聞き取り 11

それぞれのお話通りになるように色を塗ったり、記号をかきます。問題は1度しか読みませんのでしっかり聞きましょう。

①5つの形の中から「丸い形」をすべて探して、緑色のクーピーで塗ります。

②鉛筆で○を三つ並べてかき、真ん中の○を赤色、右の○を青色のクーピーで塗ります。

③左の黒色の丸から右の灰色の丸まで鉛筆でよろよろの線をかきます。

①

②

③

※1. このプリントは、しながわ・目黒こどもスクールのウェブサイトダウンロードができます。無断複写・引用はご遠慮ください。

※2. このプリントを活用したオンライン授業のスケジュールは、しながわ・目黒こどもスクールのウェブサイトでご確認ください。



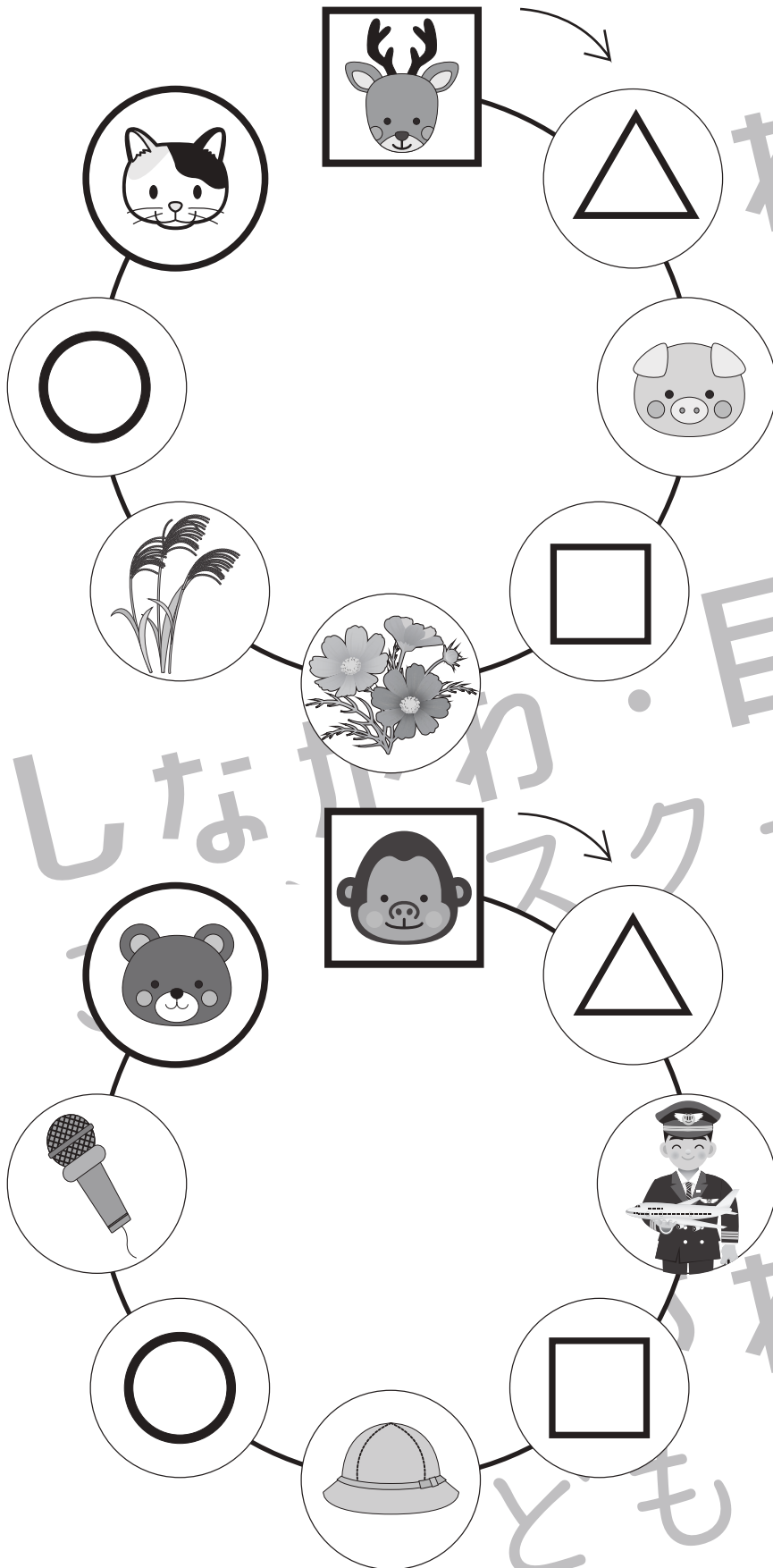


おうちで、やろう。

Study at home. 小学校受験の家庭学習教材

言語：しりとり 9

下の太い四角から太い丸まで矢印の方向にしりとりをします。それぞれの記号に当てはまる絵を右の太い四角の中から選んでそれぞれの記号を絵にかきましょう。



※1. このプリントは、しながわ・目黒こどもスクールのウェブサイトからダウンロードできます。無断複写・引用はご遠慮ください。
 ※2. このプリントを活用したオンライン授業のスケジュールは、しながわ・目黒こどもスクールのウェブサイトでご確認ください。



おうちで、やろう。

Study at home. 小学校受験の家庭学習教材

図形：重なり 9

左の太い四角の中は、色々な形が重なっています。下から2番目にある形を、右の中から選んで○をつけます。

※ 1. このプリントは、しながわ・目黒こどもスクールのウェブサイトからダウンロードできます。無断複写・引用はご遠慮ください。

※ 2. このプリントを活用したオンライン授業のスケジュールは、しながわ・目黒こどもスクールのウェブサイトでご確認ください。



おうちで、やろう。

Study at home. 小学校受験の家庭学習教材

推理：条件推理 13

それぞれの動物がお母さんにお買い物を頼られました。お母さんに頼まれたものと同じものを買っている絵をみつけて、その絵の下の四角に○をつけましょう。

- ①☆の四角の中をみて下さい。シロクマは「カブを3つ、たまねぎを1つお願いね」と頼られました。
- ②☆☆の四角の中をみて下さい。ライオンは「ねぎを3本、だいこんを2本お願いね」と頼られました。
- ③☆☆☆の四角の中をみて下さい。ウシは「たまねぎを3つ、ブロッコリーも3つお願いね」と頼られました。

☆ 				
		○		

☆☆ 				
				○

☆☆☆ 				
	○			

※1. このプリントは、しながわ・目黒こどもスクールのウェブサイトでダウンロードができます。無断複写・引用はご遠慮ください。
 ※2. このプリントを活用したオンライン授業のスケジュールは、しながわ・目黒こどもスクールのウェブサイトでご確認ください。



おうちで、やろう。

Study at home. 小学校受験の家庭学習教材


推理：条件推理 14

下の太い丸の中に、内側の動物だけが回るルーレットがあります。

①矢印の向きにブタが2つ動いたあとに矢印と逆の方向に2つ動きました。どの果物のところにきますか。下の四角の中の果物に○をつけます。


②矢印の向きにネコが5つ動いたあとに矢印と逆の方向に2つ動きました。どの果物のところにきますか。下の四角の中の果物に△をつけます。

③矢印の向きにゾウが6つ動いたあとに矢印と逆の方向に3つ動きました。どの果物のところにきますか。下の四角の中の果物に□をつけます。



しながわ
こどもスクール

ルーレット



※1. このプリントは、しながわ・目黒こどもスクールのウェブサイトでダウンロードができます。無断複写・引用はご遠慮ください。

※2. このプリントを活用したオンライン授業のスケジュールは、しながわ・目黒こどもスクールのウェブサイトでご確認ください。





おうちで、やろう。

Study at home. 小学校受験の家庭学習教材

数量：計数24

四角の中の2つのサイコロの目を合わせた数と同じものを下の四角の中から探して、点と点を線で結びます。

Connections: The top row boxes are connected to the bottom row boxes as follows: Box 1 (10 dots) connects to Box 3 (12 tomatoes); Box 2 (7 dots) connects to Box 4 (10 pears); Box 3 (11 dots) connects to Box 1 (10 oranges); Box 4 (9 dots) connects to Box 2 (8 watermelons).

※ 1. このプリントは、しながわ・目黒こどもスクールのウェブサイトからダウンロードできます。無断複写・引用はご遠慮ください。
 ※ 2. このプリントを活用したオンライン授業のスケジュールは、しながわ・目黒こどもスクールのウェブサイトでご確認ください。












おうちで、やろう。

Study at home. 小学校受験の家庭学習教材

数量：計数25

真ん中の太い四角の中の絵を数えて、それぞれの記号がかかれている四角の中にその数だけ○をかきましょう。
※答えは矢印の書かれている方の四角にかきます。

 ↓		 ←
		
 →		 ↑

※ 1. このプリントは、しながわ・目黒こどもスクールのウェブサイトからダウンロードできます。無断複写・引用はご遠慮ください。
 ※ 2. このプリントを活用したオンライン授業のスケジュールは、しながわ・目黒こどもスクールのウェブサイトでご確認ください。



おうちで、やろう。

Study at home. 小学校受験の家庭学習教材

数量：条件推理 4

ある約束通りに絵が並んでいます。約束は決まった数だけ増えたり減ったりしています。空いている四角に入る絵の数だけ○をかきます。

		$\bigcirc \times 4$	
--	--	---------------------	--

		$\bigcirc \times 3$	
--	--	---------------------	--

	$\bigcirc \times 2$		
--	---------------------	--	--

		$\bigcirc \times 4$	
--	--	---------------------	--

※1. このプリントは、しながわ・目黒こどもスクールのウェブサイトでダウンロードができます。無断複写・引用はご遠慮ください。

※2. このプリントを活用したオンライン授業のスケジュールは、しながわ・目黒こどもスクールのウェブサイトでご確認ください。



おうちで、やろう。

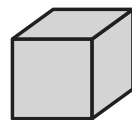
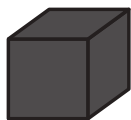

Study at home. 小学校受験の家庭学習教材

数量：条件推理 5

下の四角の中に、3色の積み木がそれぞれ並んでいます。

同じ色ごとに積み木を積んだとき、一番高くなるのはどの色の積み木ですか。

★の四角の中から選んで○をつけ、☆の四角に積んだ積み木の数だけ○をかきます。



○ × 7

※1. このプリントは、しながわ・目黒こどもスクールのウェブサイトでダウンロードができます。無断複写・引用はご遠慮ください。

※2. このプリントを活用したオンライン授業のスケジュールは、しながわ・目黒こどもスクールのウェブサイトでご確認ください。

