

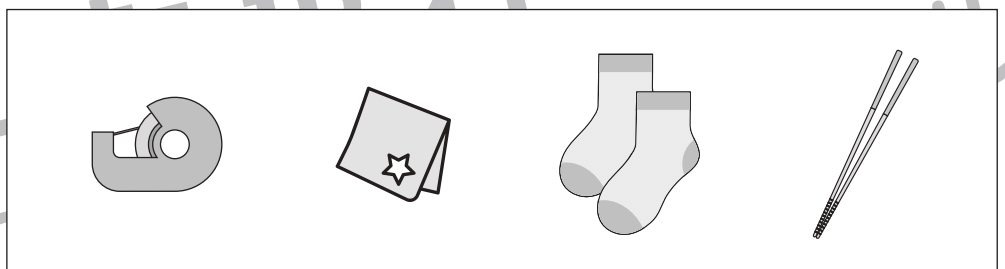










おうちで、やろう。

Study at home. 小学校受験の家庭学習教材

言語：数え方6

左の四角の中と同じ数え方をするものを右の中から見つけて○をつけます。



※1. このプリントは、しながわ・目黒こどもスクールのウェブサイトでダウンロードができます。無断複写・引用はご遠慮ください。
※2. このプリントを活用したオンライン授業のスケジュールは、しながわ・目黒こどもスクールのウェブサイトでご確認ください。



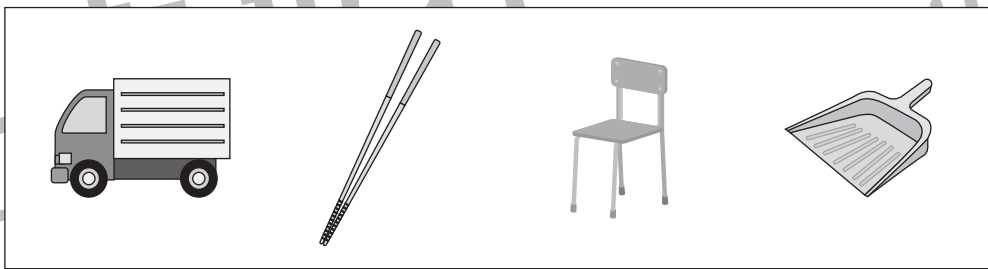

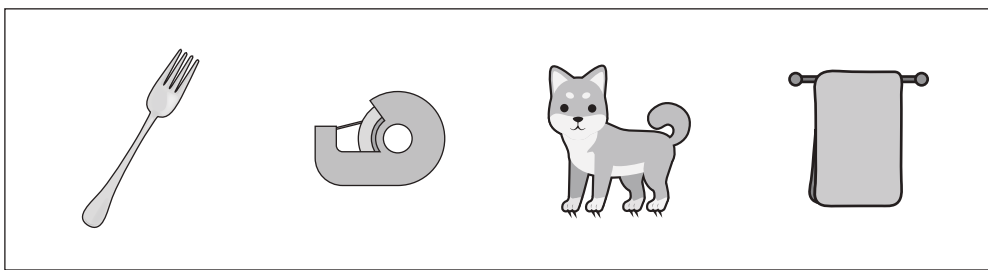
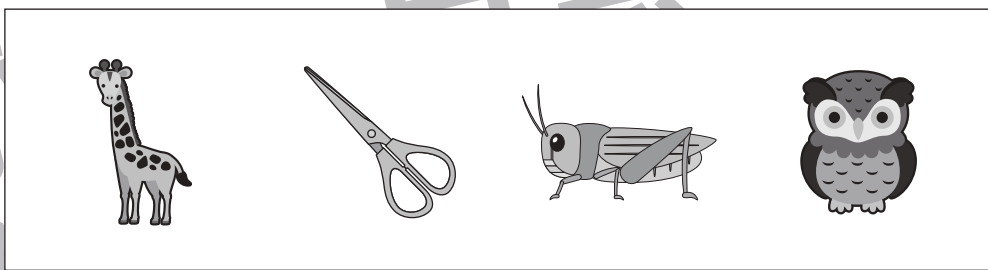



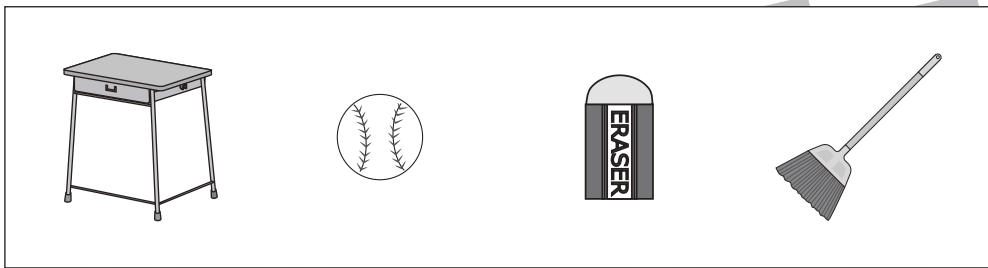



おうちで、やろう。

Study at home. 小学校受験の家庭学習教材

言語：数え方7

左の四角の中と同じ数え方をするものを右の中から見つけて○をつけます。



※1. このプリントは、しながわ・目黒こどもスクールのウェブサイトでダウンロードができます。無断複写・引用はご遠慮ください。
※2. このプリントを活用したオンライン授業のスケジュールは、しながわ・目黒こどもスクールのウェブサイトでご確認ください。




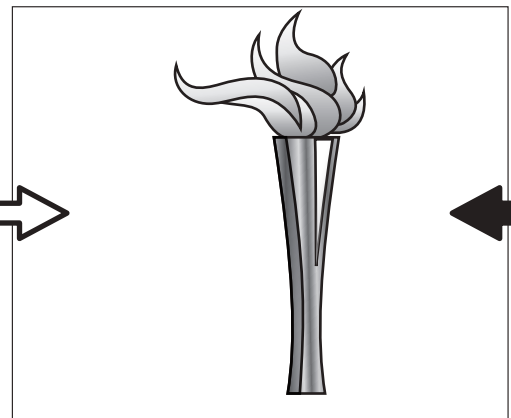
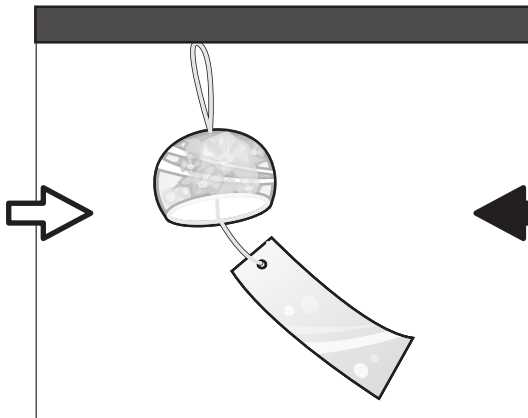
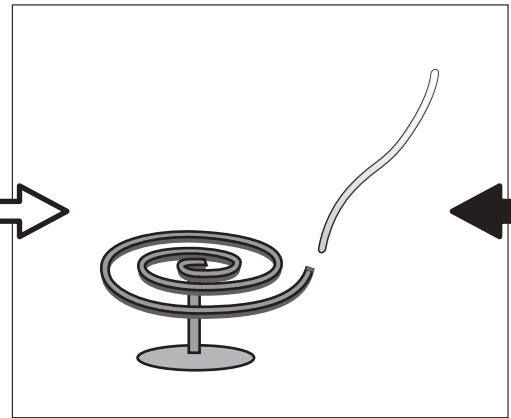

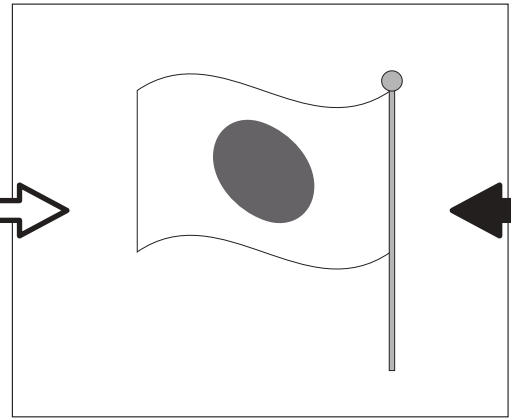



おうちで、やろう。

Study at home. 小学校受験の家庭学習教材

常識：風向き 1

それぞれの絵は風に吹かれている様子の絵です。どちらからどちらへ風が吹いていますか。
左から右へ風が吹いているときは白い矢印に、右から左へ風が吹いているときは黒い矢印に○をつけます。



が
も

ク

が
も

※1. このプリントは、しながわ・目黒こどもスクールのウェブサイトでダウンロードができます。無断複写・引用はご遠慮ください。
※2. このプリントを活用したオンライン授業のスケジュールは、しながわ・目黒こどもスクールのウェブサイトでご確認ください。



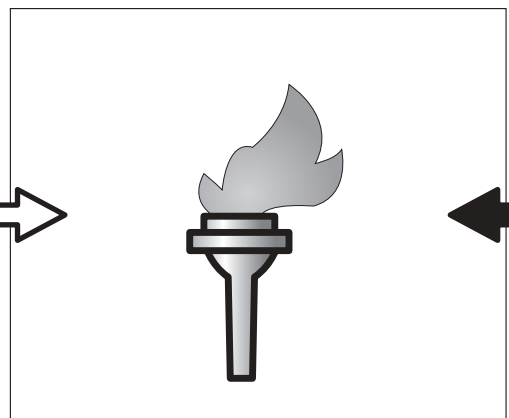


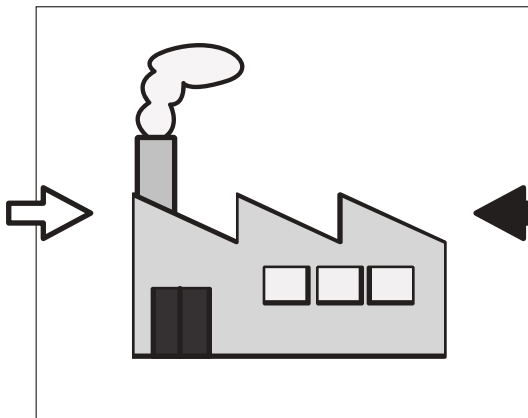

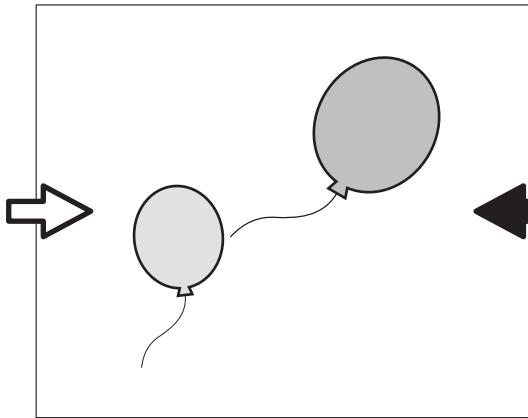
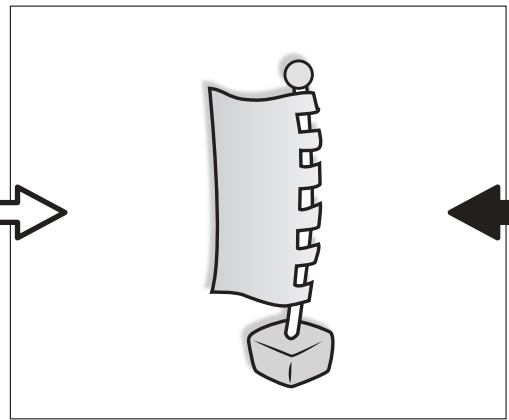
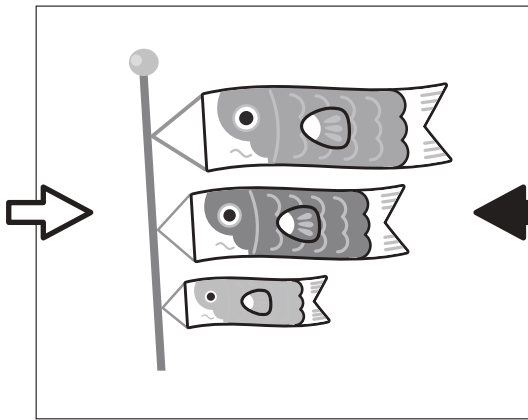


おうちで、やろう。

Study at home. 小学校受験の家庭学習教材

常識：風向き2

それぞれの絵は風に吹かれている様子の絵です。どちらからどちらへ風が吹いていますか。
左から右へ風が吹いているときは白い矢印に、右から左へ風が吹いているときは黒い矢印に○をつけます。



が
も

ク

が
も

※1. このプリントは、しながわ・目黒こどもスクールのウェブサイトでダウンロードができます。無断複写・引用はご遠慮ください。
※2. このプリントを活用したオンライン授業のスケジュールは、しながわ・目黒こどもスクールのウェブサイトでご確認ください。



おうちで、やろう。

Study at home. 小学校受験の家庭学習教材

図形：移動 21

左の四角がお手本です。このお手本の○を真ん中の太い四角の中の矢印の方向へ1マスずつ動かします。移動した後の場所を考えて、右の四角の中に○をかきます。

①

○		

↑
↓
→

②

○		

→
↓
→

③

	○	

↑
→
←

④

○		

→
→
↓

⑤

	○	

←
↓
↓

⑥

		○

←
←
↓

⑦

		○

↓
←
↑

⑧

○		

→
→
←

⑨

		○

←
↑
↑

⑩

	○	

←
→
↑

※1. このプリントは、しながわ・目黒こどもスクールのウェブサイトでダウンロードができます。無断複写・引用はご遠慮ください。
※2. このプリントを活用したオンライン授業のスケジュールは、しながわ・目黒こどもスクールのウェブサイトでご確認ください。





おうちで、やろう。

Study at home. 小学校受験の家庭学習教材

図形：移動 22

左の四角がお手本です。このお手本の○を真ん中の太い四角の中の矢印の方向へ1マスずつ動かします。移動した後の場所を考えて、右の四角の中に○をかきます。

①

	○	

↗
↓
←

②

	○	

↘
↙
→

③

	○	

↓
↙
↑

④

○		

↗
↗
↓

⑤

	○	

←
↓
↓

⑥

○		

↗
↘
←

⑦

	○	

↖
→
↗

⑧

		○

←
↙
→

⑨

○		

→
↗
↖

⑩

	○	

←
↘
↙

※1. このプリントは、しながわ・目黒こどもスクールのウェブサイトでダウンロードができます。無断複写・引用はご遠慮ください。
※2. このプリントを活用したオンライン授業のスケジュールは、しながわ・目黒こどもスクールのウェブサイトでご確認ください。



おうちで、やろう。

Study at home. 小学校受験の家庭学習教材

図形：移動 23

左の四角がお手本です。このお手本の○を真ん中の太い四角の中の矢印の方向へ1マスずつ動かします。移動した後の場所を考えて、右の四角の中に○をかきます。

①

○		

↘
↑
→
←

②

	○	

↗
↘
↓
↓

③

	○	

↓
↘
↑
↑

④

		○

↗
↗
↓
↓

⑤

	○	

←
↓
↓
↘

⑥

○		

↗
↘
↘
↑

⑦

	○	

↘
→
↗
↗

⑧

○		

→
↘
←
↘

⑨

	○	

→
↘
←
↑

⑩

○		

→
↘
↘
↑

※1. このプリントは、しながわ・目黒こどもスクールのウェブサイトでダウンロードができます。無断複写・引用はご遠慮ください。
※2. このプリントを活用したオンライン授業のスケジュールは、しながわ・目黒こどもスクールのウェブサイトでご確認ください。



おうちで、やろう。

Study at home. 小学校受験の家庭学習教材

推理：観覧車 4

大きな丸の中には動物が、その中の小さな丸の中にはマークが描かれています。3匹の動物が矢印の方向に回ったとき、他の動物はどのマークの場所に止まるかを考えて、右の四角の中にマークをかきましょう。

※1. このプリントは、しながわ・目黒こどもスクールのウェブサイトでダウンロードができます。無断複写・引用はご遠慮ください。

※2. このプリントを活用したオンライン授業のスケジュールは、しながわ・目黒こどもスクールのウェブサイトでご確認ください。




おうちで、やろう。

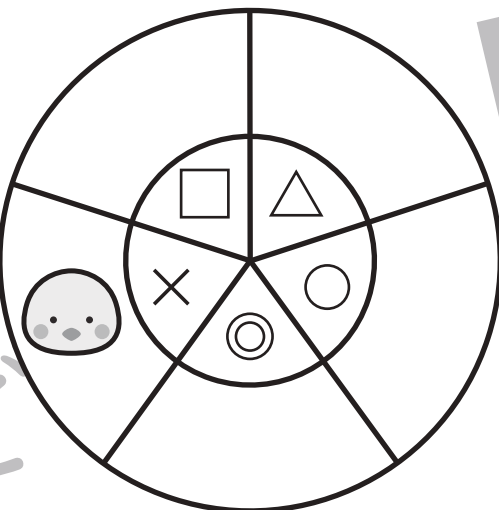
Study at home. 小学校受験の家庭学習教材

推理：観覧車 5

大きな丸の中には動物が、その中の小さな丸の中にはマークが描かれています。2匹の動物が矢印の方向に進んだとき、他の動物はこのマークの場所に止まるかを考えて、右の四角の中にマークをかきましょう。







※1. このプリントは、しながわ・目黒こどもスクールのウェブサイトでダウンロードができます。無断複写・引用はご遠慮ください。

※2. このプリントを活用したオンライン授業のスケジュールは、しながわ・目黒こどもスクールのウェブサイトでご確認ください。



おうちで、やろう。

Study at home. 小学校受験の家庭学習教材

図形：点図形 24

左のお手本と同じになるように右の四角に線をかきます。 ※このプリントに解答はありません。

※1. このプリントは、しながわ・目黒こどもスクールのウェブサイトでダウンロードができます。無断複写・引用はご遠慮ください。

※2. このプリントを活用したオンライン授業のスケジュールは、しながわ・目黒こどもスクールのウェブサイトでご確認ください。