










おうちで、やろう。

Study at home. 小学校受験の家庭学習教材

言語：数え方6

左の四角の中と同じ数え方をするものを右の中から見つけて○をつけます。



※1. このプリントは、しながわ・目黒こどもスクールのウェブサイトでダウンロードができます。無断複写・引用はご遠慮ください。
※2. このプリントを活用したオンライン授業のスケジュールは、しながわ・目黒こどもスクールのウェブサイトでご確認ください。



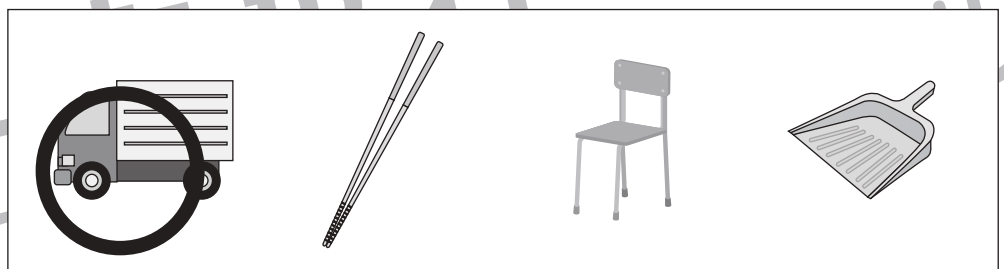

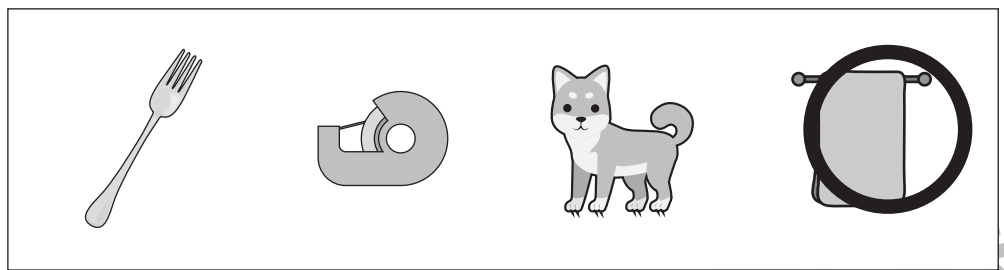

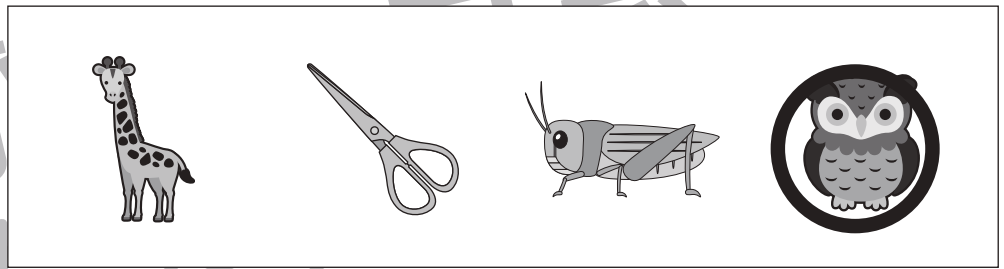



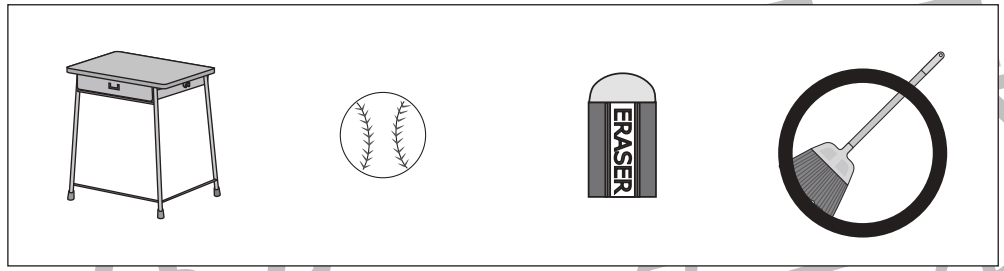


おうちで、やろう。

Study at home. 小学校受験の家庭学習教材

言語：数え方7

左の四角の中と同じ数え方をするものを右の中から見つけて○をつけます。



※1. このプリントは、しながわ・目黒こどもスクールのウェブサイトでダウンロードができます。無断複写・引用はご遠慮ください。
※2. このプリントを活用したオンライン授業のスケジュールは、しながわ・目黒こどもスクールのウェブサイトでご確認ください。



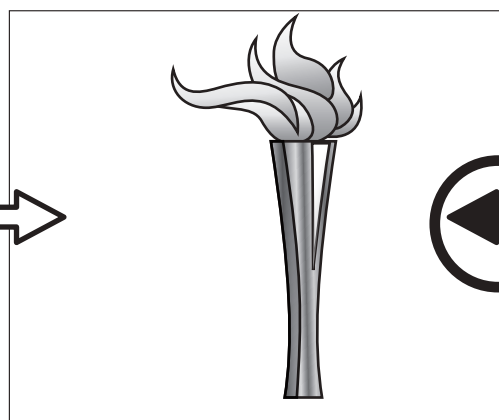
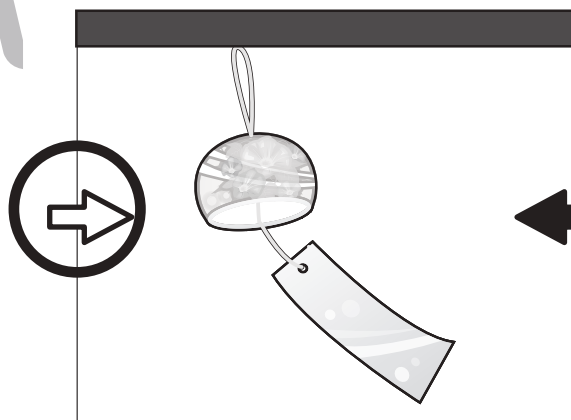


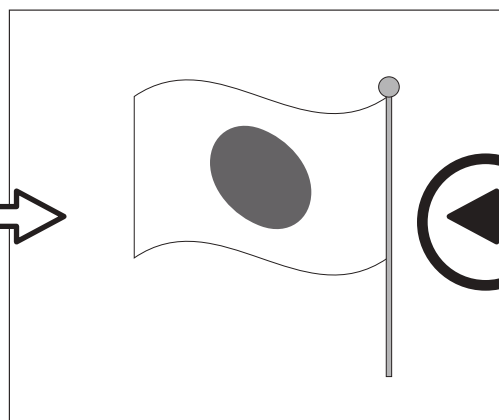



おうちで、やろう。

Study at home. 小学校受験の家庭学習教材

常識：風向き 1

それぞれの絵は風に吹かれている様子の絵です。どちらからどちらへ風が吹いていますか。
左から右へ風が吹いているときは白い矢印に、右から左へ風が吹いているときは黒い矢印に○をつけます。



※1. このプリントは、しながわ・目黒こどもスクールのウェブサイトでダウンロードができます。無断複写・引用はご遠慮ください。
※2. このプリントを活用したオンライン授業のスケジュールは、しながわ・目黒こどもスクールのウェブサイトでご確認ください。



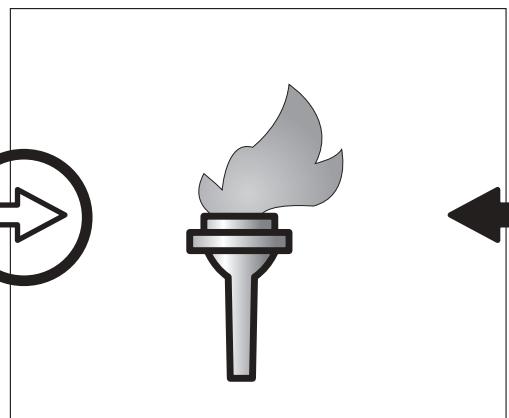


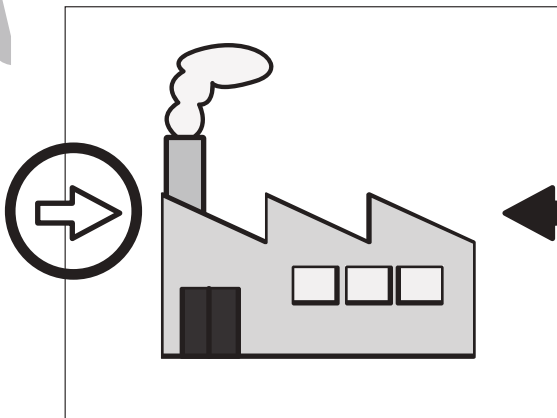

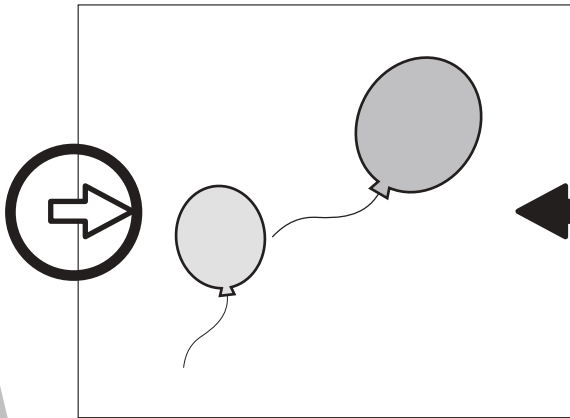
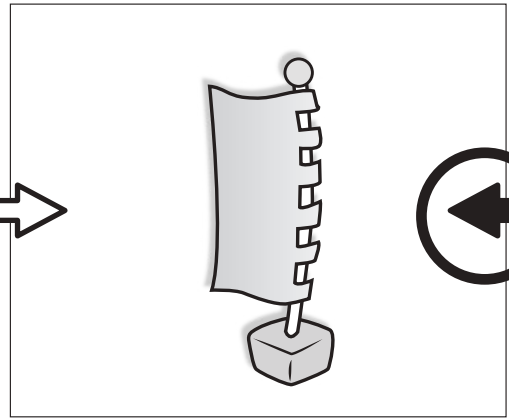



おうちで、やろう。

Study at home. 小学校受験の家庭学習教材

常識：風向き2

それぞれの絵は風に吹かれている様子の絵です。どちらからどちらへ風が吹いていますか。
左から右へ風が吹いているときは白い矢印に、右から左へ風が吹いているときは黒い矢印に○をつけます。



※1. このプリントは、しながわ・目黒こどもスクールのウェブサイトでダウンロードができます。無断複写・引用はご遠慮ください。

※2. このプリントを活用したオンライン授業のスケジュールは、しながわ・目黒こどもスクールのウェブサイトでご確認ください。





おうちで、やろう。

Study at home. 小学校受験の家庭学習教材

図形：移動 21

左の四角がお手本です。このお手本の○を真ん中の太い四角の中の矢印の方向へ1マスずつ動かします。移動した後の場所を考えて、右の四角の中に○をかきます。

①

○		

↑
↓
→

	○	

②

○		

→
↓
→

		○

③

	○	

↑
→
←

	○	

④

○		

→
→
↓

		○

⑤

	○	

←
↓
↓

○		

⑥

		○

←
←
↓

		○

⑦

		○

↓
←
↑

		○

⑧

○		

→
→
←

		○

⑨

		○

←
↑
↑

		○

⑩

←
→
↑

		○

※1. このプリントは、しながわ・目黒こどもスクールのウェブサイトでダウンロードができます。無断複写・引用はご遠慮ください。
※2. このプリントを活用したオンライン授業のスケジュールは、しながわ・目黒こどもスクールのウェブサイトでご確認ください。





おうちで、やろう。

Study at home. 小学校受験の家庭学習教材

図形：移動 22

左の四角がお手本です。このお手本の○を真ん中の太い四角の中の矢印の方向へ1マスずつ動かします。移動した後の場所を考えて、右の四角の中に○をかきます。

①

	○	

↗
↓
←

	○	

②

	○	

↘
↙
→

		○

③

	○	

↓
↙
↑

	○	

④

○		

↗
↗
↓

		○

⑤

	○	

←
↓
↓

		○

⑥

○		

↗
↘
←

	○	

⑦

	○	

↖
→
↗

		○

⑧

		○

←
↙
→

	○	

⑨

○		

→
↗
↖

		○

⑩

	○	

←
↘
↙

		○

※1. このプリントは、しながわ・目黒こどもスクールのウェブサイトでダウンロードができます。無断複写・引用はご遠慮ください。
※2. このプリントを活用したオンライン授業のスケジュールは、しながわ・目黒こどもスクールのウェブサイトでご確認ください。





おうちで、やろう。

Study at home. 小学校受験の家庭学習教材

図形：移動 23

左の四角がお手本です。このお手本の○を真ん中の太い四角の中の矢印の方向へ1マスずつ動かします。移動した後の場所を考えて、右の四角の中に○をかきます。

①

○		

↘
↑
→
←

	○	

②

	○	

↗
↘
↓
↓

		○

③

	○	

↓
↘
↑
↑

	○	

④

		○

↗
↗
↓
↓

		○

⑤

	○	

←
↓
↓
↘

		○

⑥

○		

↗
↘
↘
↑

	○	

⑦

	○	

↘
↘
→
↗
↗

		○

⑧

○		

→
↘
←
←
↘

		○

⑨

	○	

→
↘
←
↑

	○	

⑩

○		

→
↘
↘
↑

	○	

※1. このプリントは、しながわ・目黒こどもスクールのウェブサイトでダウンロードができます。無断複写・引用はご遠慮ください。
※2. このプリントを活用したオンライン授業のスケジュールは、しながわ・目黒こどもスクールのウェブサイトでご確認ください。




おうちで、やろう。


Study at home. 小学校受験の家庭学習教材

推理：観覧車 4

大きな丸の中には動物が、その中の小さな丸の中にはマークが描かれています。3匹の動物が矢印の方向に回ったとき、他の動物はどのマークの場所に止まるかを考えて、右の四角の中にマークをかきましょう。







※1. このプリントは、しながわ・目黒こどもスクールのウェブサイトでダウンロードができます。無断複写・引用はご遠慮ください。
 ※2. このプリントを活用したオンライン授業のスケジュールは、しながわ・目黒こどもスクールのウェブサイトでご確認ください。




おうちで、やろう。

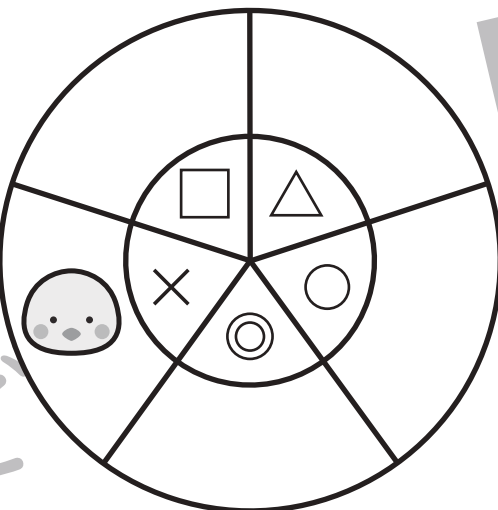
Study at home. 小学校受験の家庭学習教材

推理：観覧車 5

大きな丸の中には動物が、その中の小さな丸の中にはマークが描かれています。2匹の動物が矢印の方向に進んだとき、他の動物はそのマークの場所に止まるかを考えて、右の四角の中にマークをかきましょう。







※1. このプリントは、しながわ・目黒こどもスクールのウェブサイトでダウンロードができます。無断複写・引用はご遠慮ください。
 ※2. このプリントを活用したオンライン授業のスケジュールは、しながわ・目黒こどもスクールのウェブサイトでご確認ください。