



# おうちで、やろう。

Study at home. 小学校受験の家庭学習教材

言語：言葉3

それぞれの言葉にぴったり合う絵をみつけてそれぞれの記号をつけます。

- ①「きる」に合う絵を見つけて○をつけます。
- ②「まわる」に合う絵を見つけて△をつけます。
- ③「たく」に合う絵を見つけて◎をつけます。
- ④「すべる」に合う絵を見つけて×をつけます。
- ⑤「とぶ」に合う絵を見つけて□をつけます。
- ⑥「はく」に合う絵を見つけて/をつけます。



※1. このプリントは、しながわ・目黒こどもスクールのウェブサイトでダウンロードができます。無断複写・引用はご遠慮ください。  
 ※2. このプリントを活用したオンライン授業のスケジュールは、しながわ・目黒こどもスクールのウェブサイトでご確認ください。



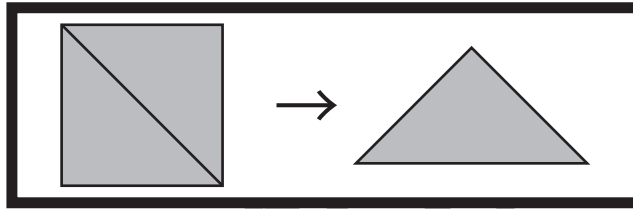
# おうちで、やろう。

Study at home. 小学校受験の家庭学習教材

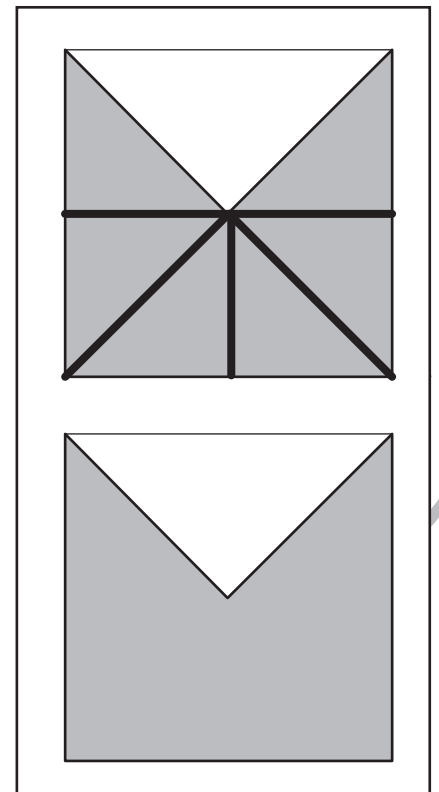
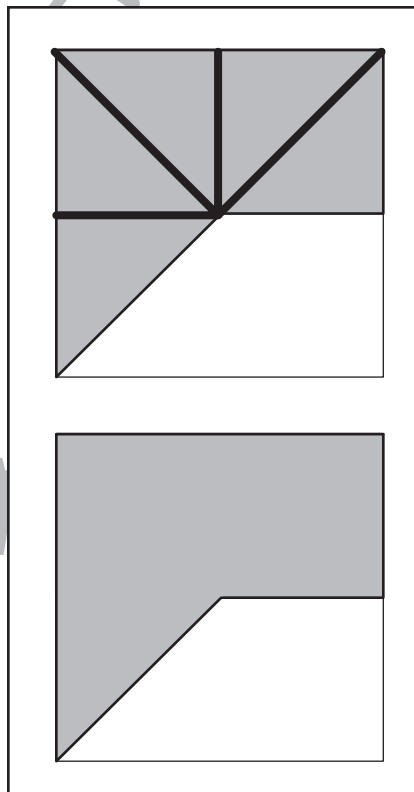
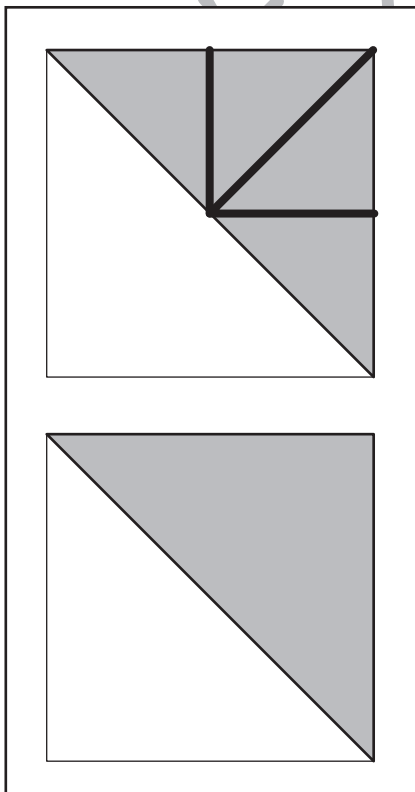
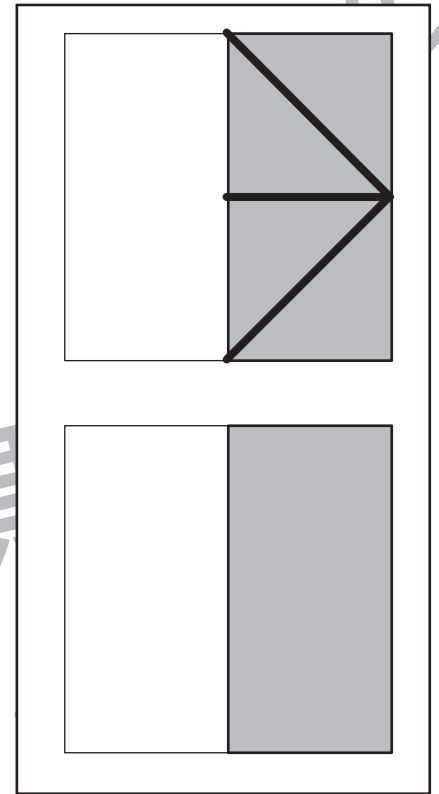
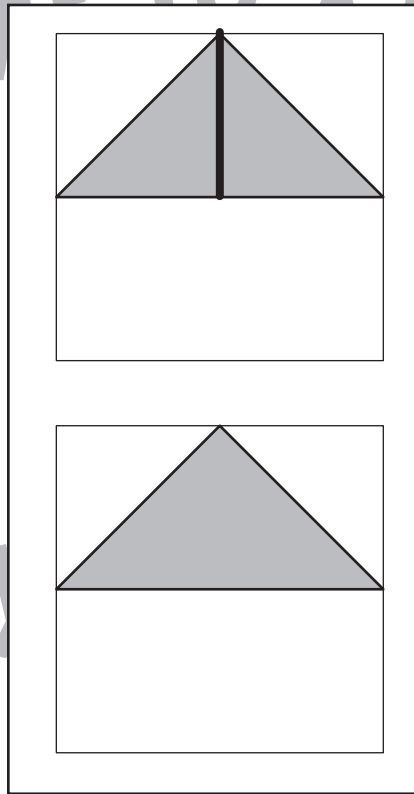
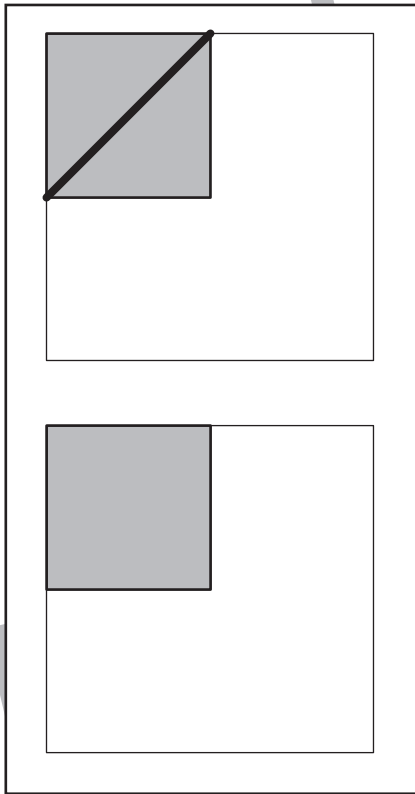
## 図形：三角パズル1

上の太い四角の中の四角を半分にして三角パズルを作りました。この三角パズルを使ってそれぞれの形を作ります。それぞれ形は三角パズルをどのように置けばできるのかを考えて、形の中に線をかきましょう。間違えてしまった場合は下の図形に線を引きましょう。

※解答は1つではありませんので、分けられていた場合は正解としてください。



目黒



※1. このプリントは、しながわ・目黒こどもスクールのウェブサイトからダウンロードできます。無断複写・引用はご遠慮ください。

※2. このプリントを活用したオンライン授業のスケジュールは、しながわ・目黒こどもスクールのウェブサイトでご確認ください。





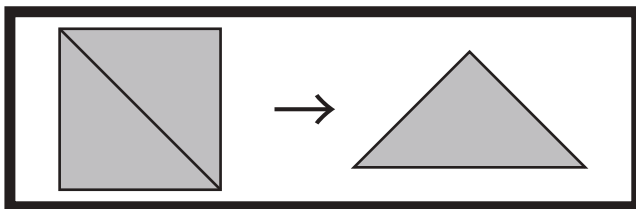
# おうちで、やろう。

Study at home. 小学校受験の家庭学習教材

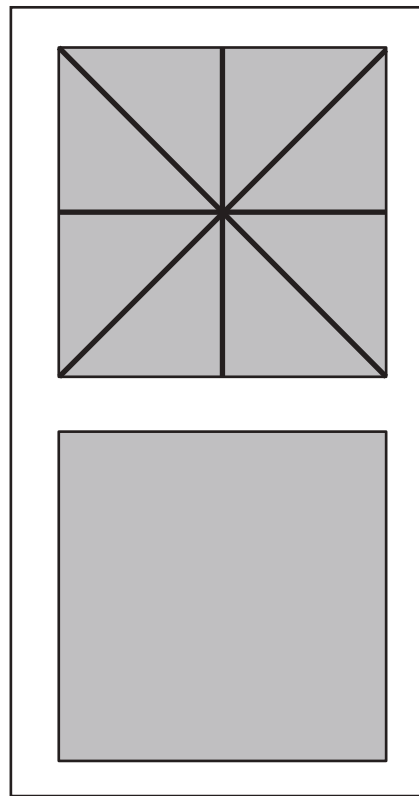
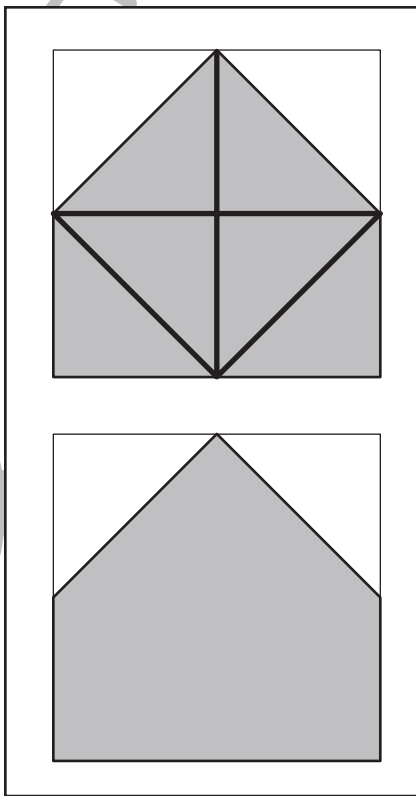
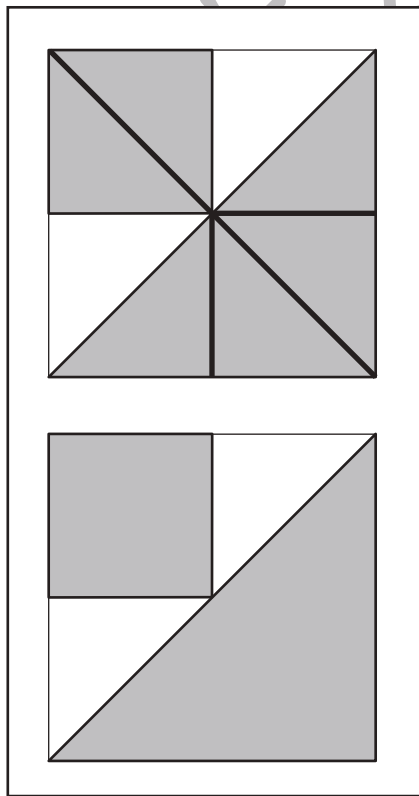
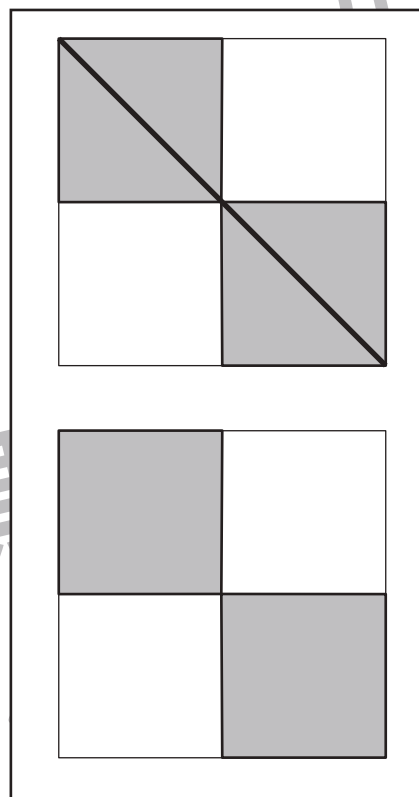
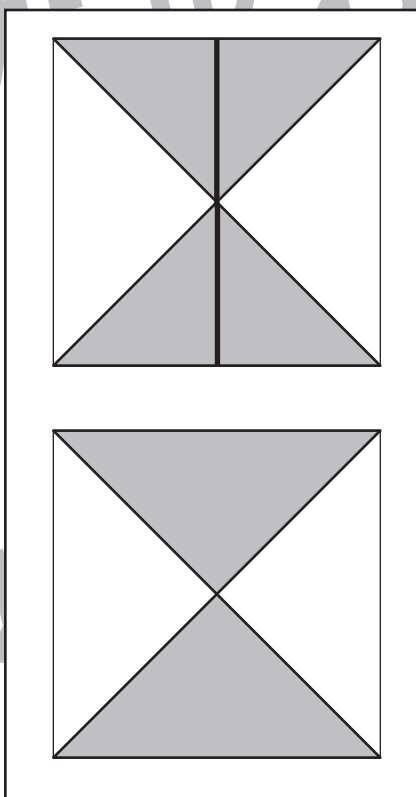
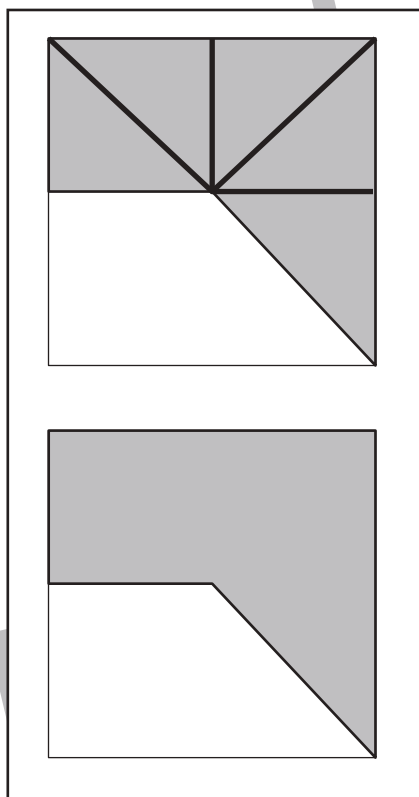
## 図形：三角パズル2

上の太い四角の中の四角を半分にして三角パズルを作りました。この三角パズルを使ってそれぞれの形を作ります。それぞれ形は三角パズルをどのように置けばできるのかを考えて、形の中に線をかきましょう。間違えてしまった場合は下の図形に線を引きましょう。

※解答は1つではありませんので、分けられていた場合は正解としてください。



目黒



※1. このプリントは、しながわ・目黒こどもスクールのウェブサイトでダウンロードができます。無断複写・引用はご遠慮ください。

※2. このプリントを活用したオンライン授業のスケジュールは、しながわ・目黒こどもスクールのウェブサイトでご確認ください。



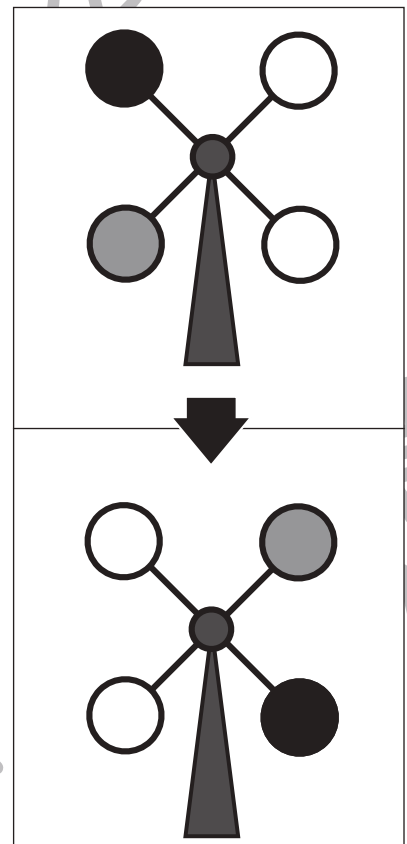
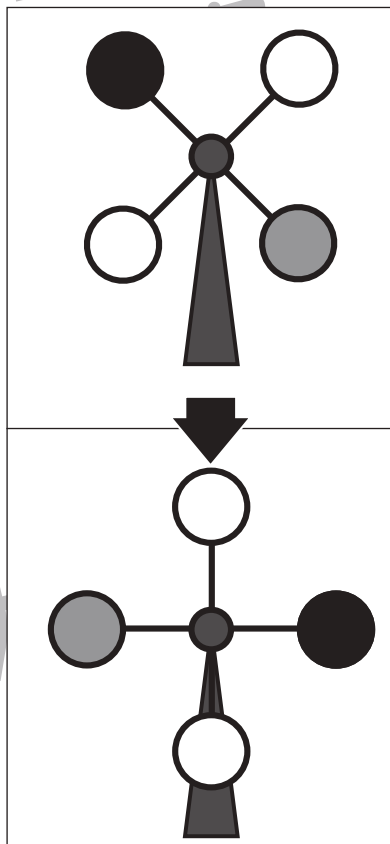
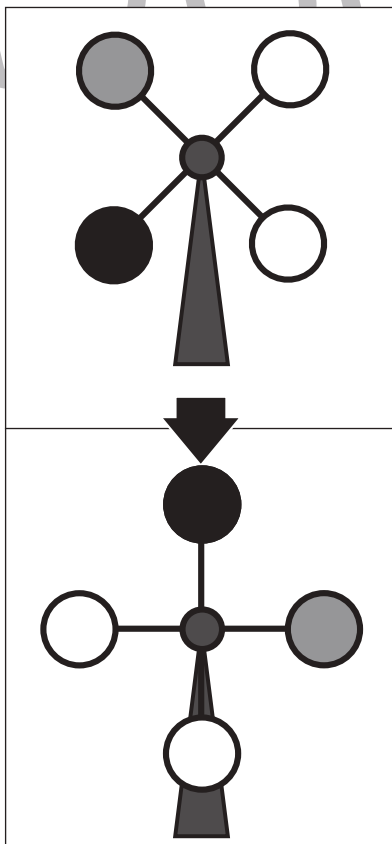
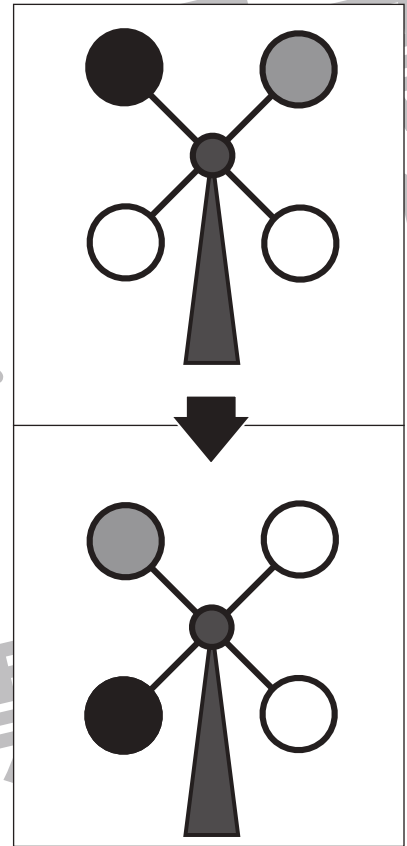
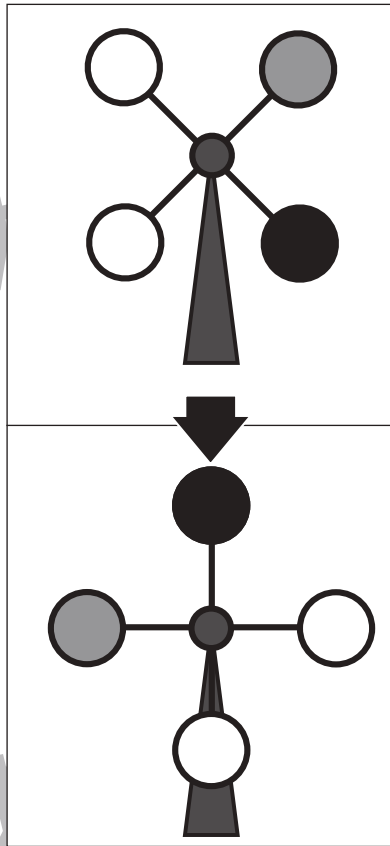
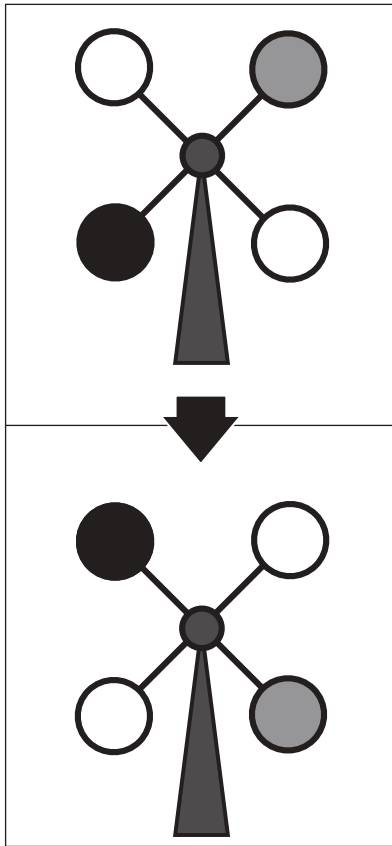


# おうちで、やろう。

Study at home. 小学校受験の家庭学習教材

## 推理：回転2

上の観覧車が矢印の下のように回ったとき、灰色の場所はわかりますが、黒丸の場所がわかりません。  
黒丸の場所を考えて塗ります。



※1. このプリントは、しながわ・目黒こどもスクールのウェブサイトでダウンロードができます。無断複写・引用はご遠慮ください。

※2. このプリントを活用したオンライン授業のスケジュールは、しながわ・目黒こどもスクールのウェブサイトでご確認ください。

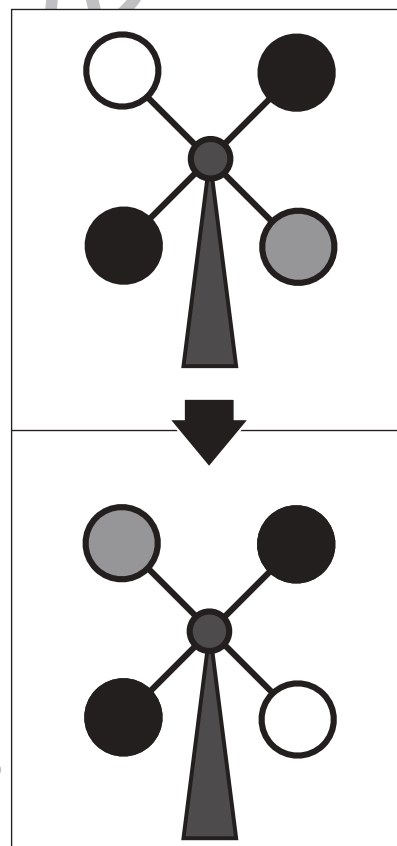
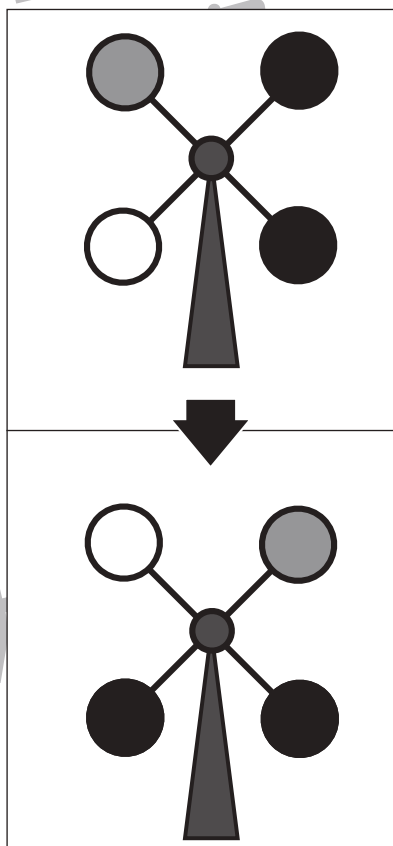
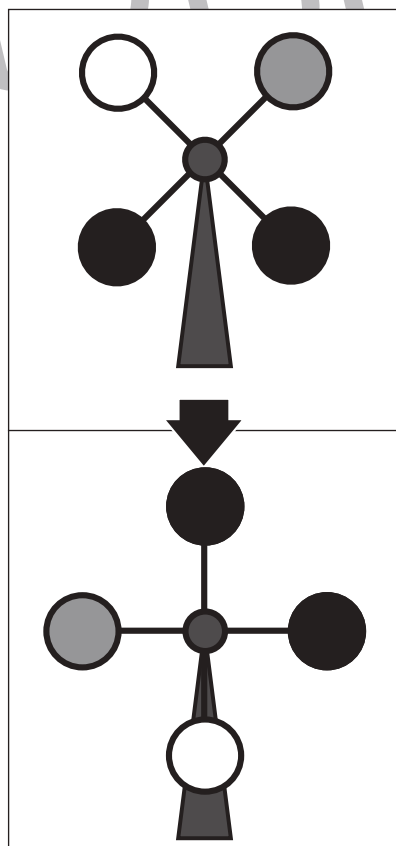
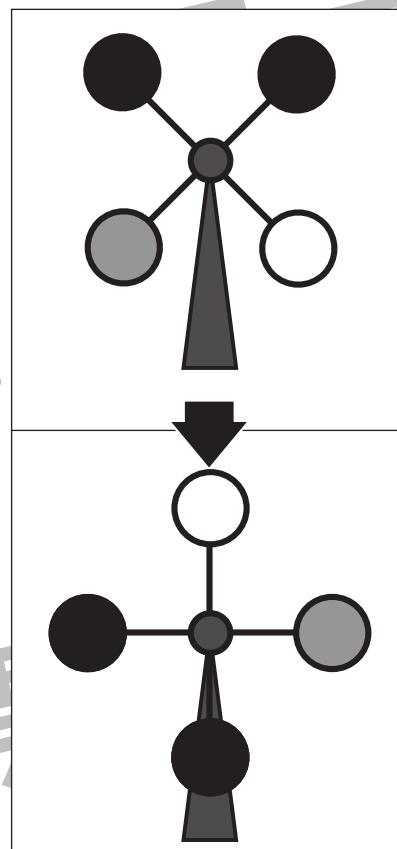
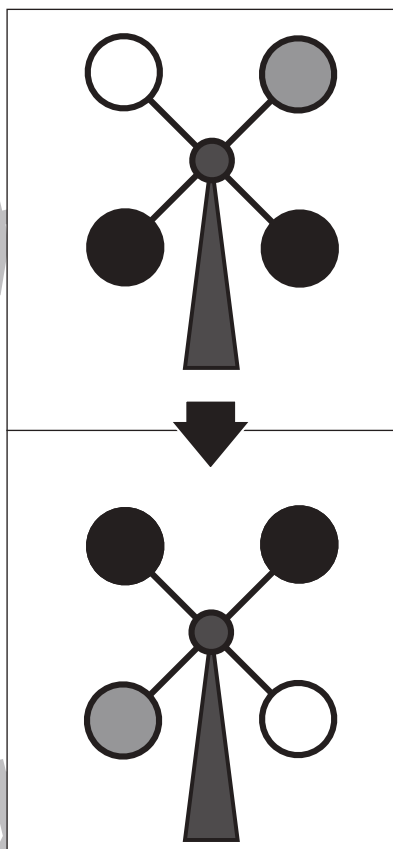
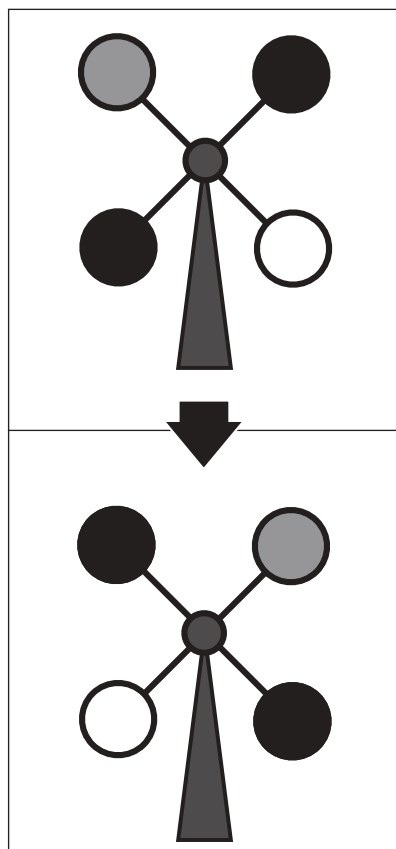


# おうちで、やろう。

Study at home. 小学校受験の家庭学習教材

## 推理：回転3

上の観覧車が矢印の下のように回ったとき、灰色の場所はわかりますが、黒丸の場所がわかりません。  
黒丸の場所を考えて塗ります。



※1. このプリントは、しながわ・目黒こどもスクールのウェブサイトでダウンロードができます。無断複写・引用はご遠慮ください。  
 ※2. このプリントを活用したオンライン授業のスケジュールは、しながわ・目黒こどもスクールのウェブサイトでご確認ください。

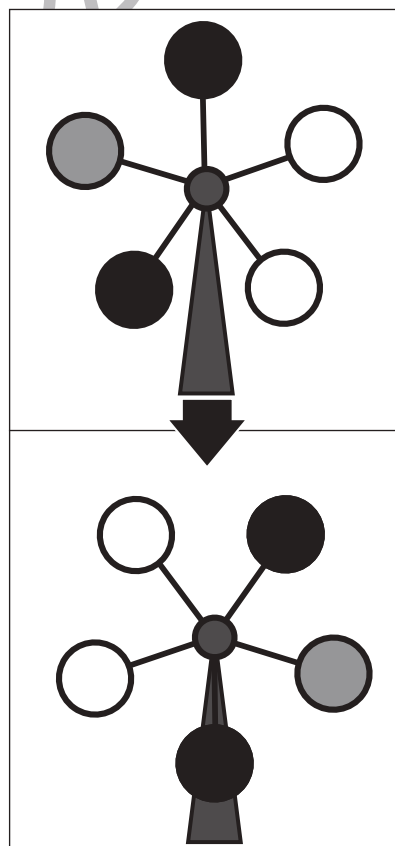
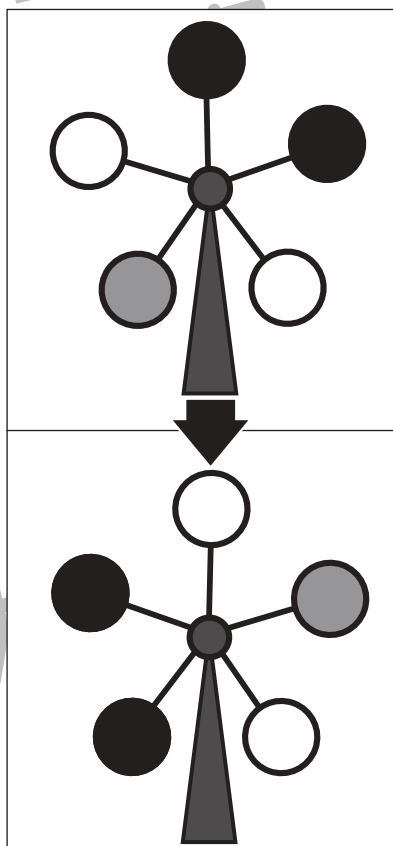
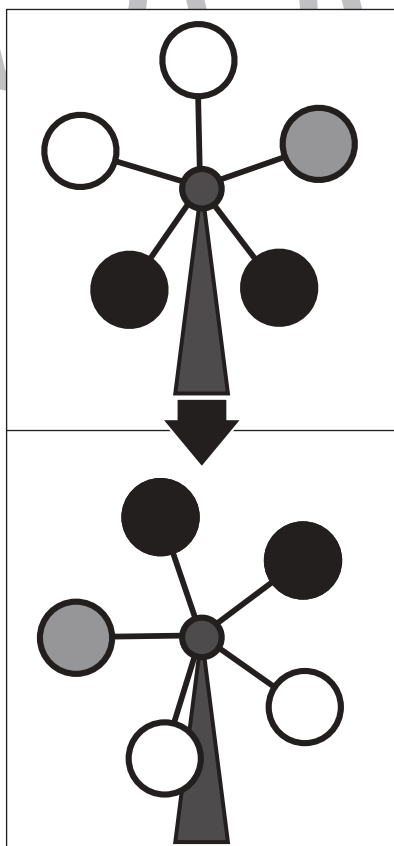
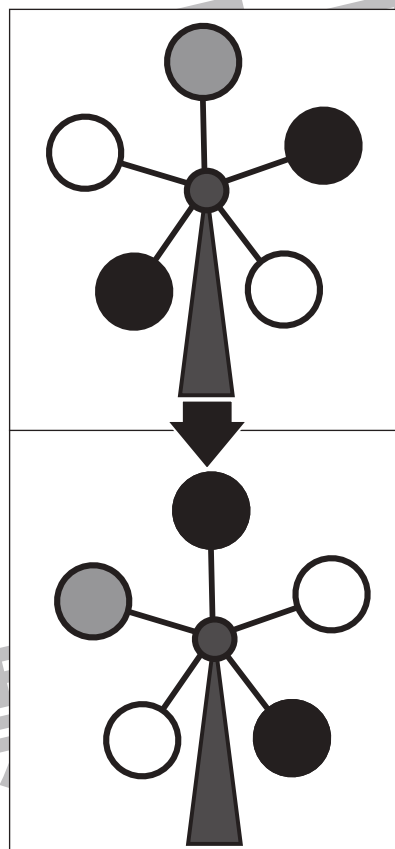
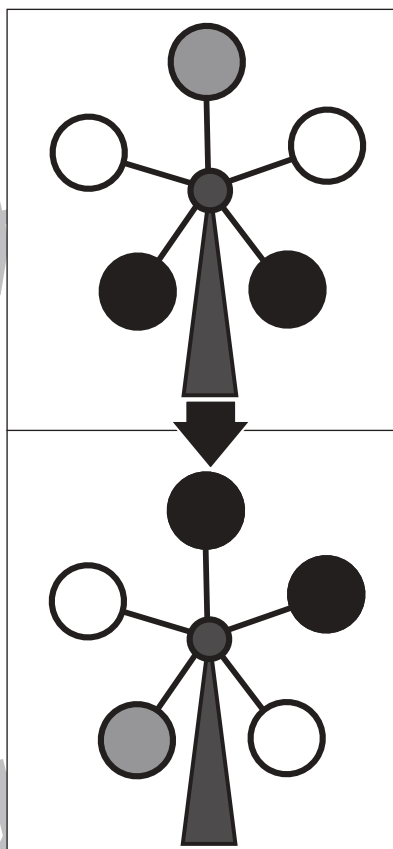
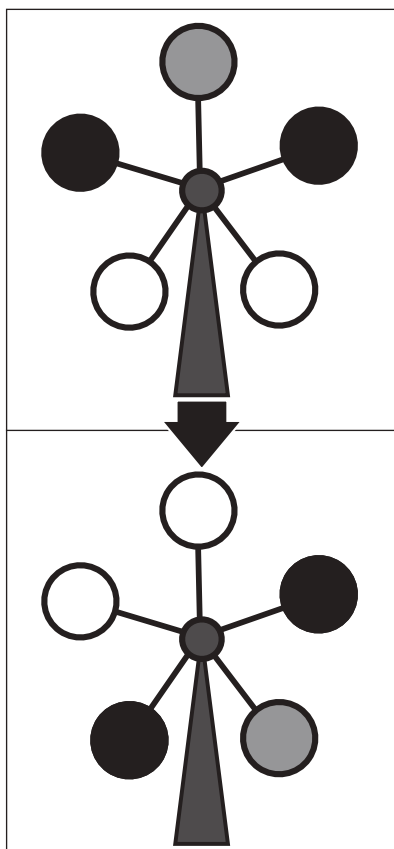


# おうちで、やろう。

Study at home. 小学校受験の家庭学習教材

## 推理：回転4

上の観覧車が矢印の下のように回ったとき、灰色の場所はわかりますが、黒丸の場所がわかりません。  
黒丸の場所を考えて塗ります。



※1. このプリントは、しながわ・目黒こどもスクールのウェブサイトでダウンロードができます。無断複写・引用はご遠慮ください。  
 ※2. このプリントを活用したオンライン授業のスケジュールは、しながわ・目黒こどもスクールのウェブサイトでご確認ください。



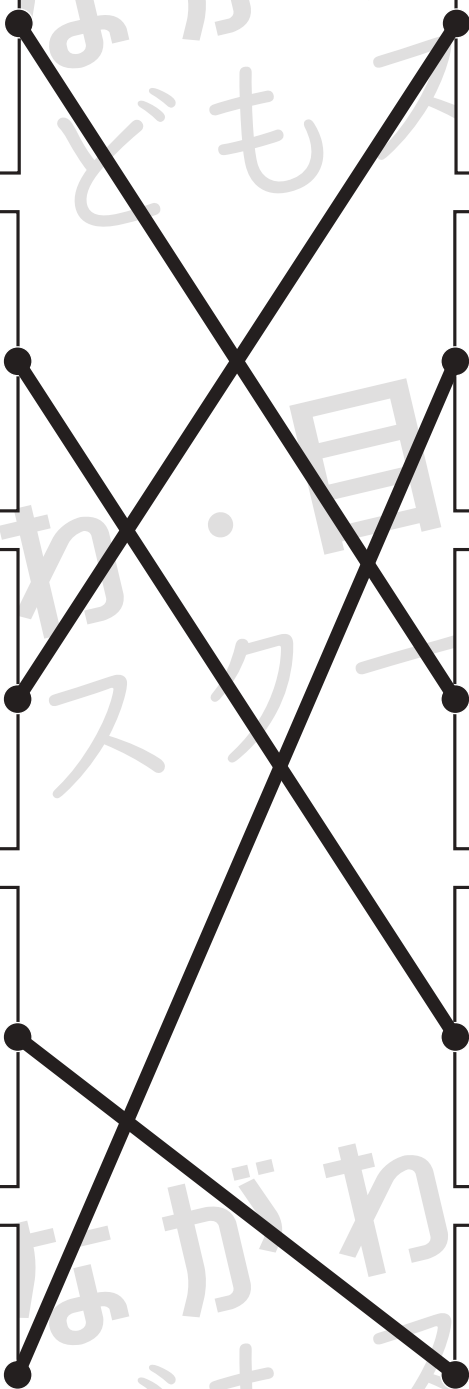




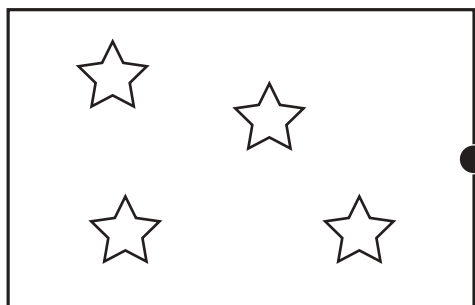
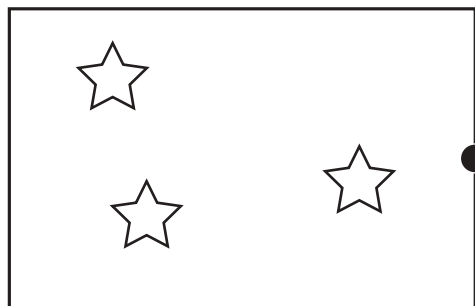
# おうちで、やろう。

Study at home. 小学校受験の家庭学習教材

数量：加減 13

上の灰色の星の数がお手本の数です。

左の白い星と右の黒い星を合わせると灰色の星の数になる組み合わせを考えて点を点を結びます。



※1. このプリントは、しながわ・目黒こどもスクールのウェブサイトでダウンロードができます。無断複写・引用はご遠慮ください。

※2. このプリントを活用したオンライン授業のスケジュールは、しながわ・目黒こどもスクールのウェブサイトでご確認ください。





# おうちで、やろう。

Study at home. 小学校受験の家庭学習教材

数量：加減 14

上の灰色の星の数がお手本の数です。

左の白い星と右の黒い星を合わせると灰色の星の数になる組み合わせを考えて点を点を結びます。




Connections (from left to right):

- Row 1 to Row 2
- Row 2 to Row 3
- Row 3 to Row 4
- Row 4 to Row 5
- Row 5 to Row 1

※1. このプリントは、しながわ・目黒こどもスクールのウェブサイトでダウンロードができます。無断複写・引用はご遠慮ください。

※2. このプリントを活用したオンライン授業のスケジュールは、しながわ・目黒こどもスクールのウェブサイトでご確認ください。