



# おうちで、やろう。

Study at home. 小学校受験の家庭学習教材

言語：言葉3

同じ言葉だけど違う動きをしているもの同士を見つけて、点と点を線で結びます。



※1. このプリントは、しながわ・目黒こどもスクールのウェブサイトでダウンロードができます。無断複写・引用はご遠慮ください。  
 ※2. このプリントを活用したオンライン授業のスケジュールは、しながわ・目黒こどもスクールのウェブサイトでご確認ください。

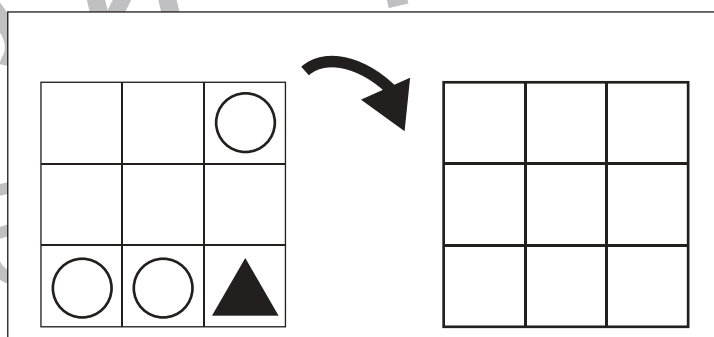
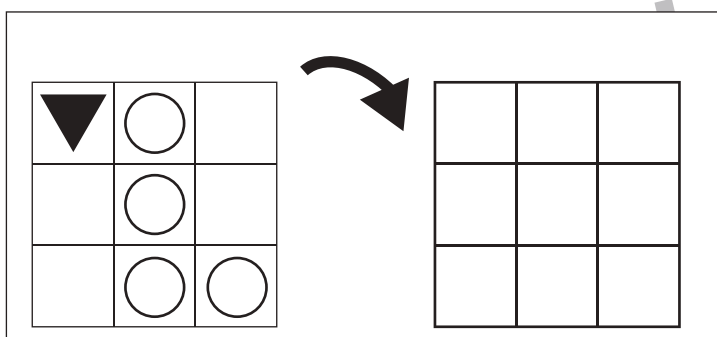
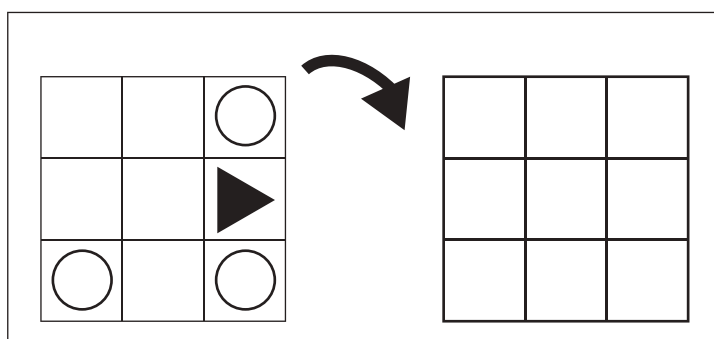
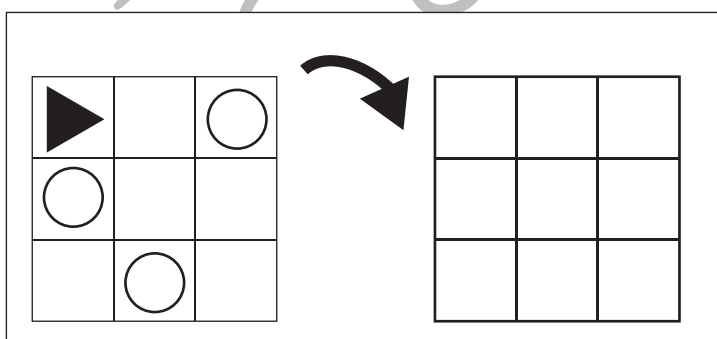
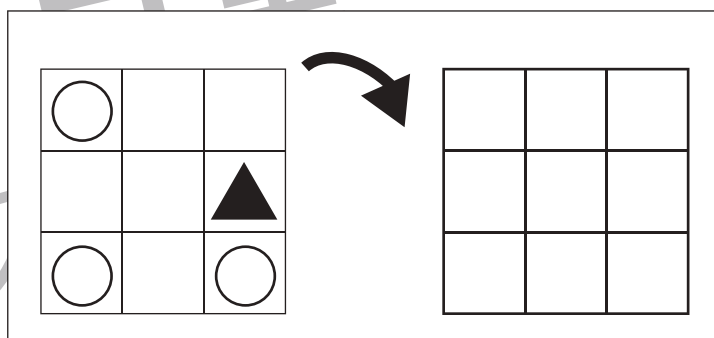
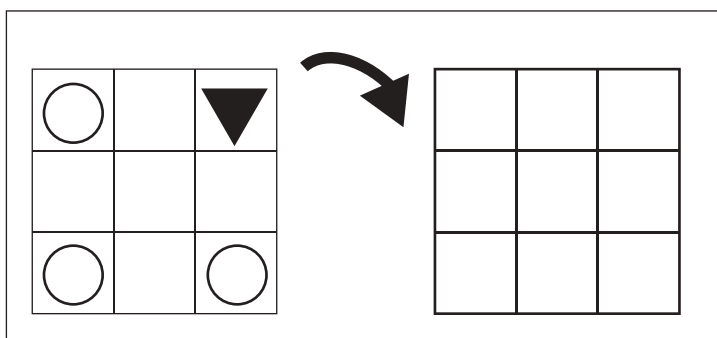
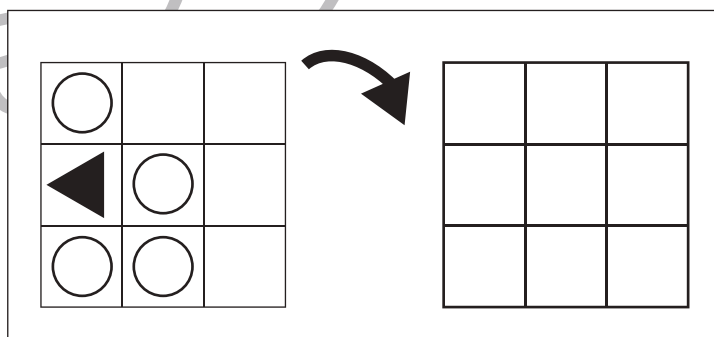
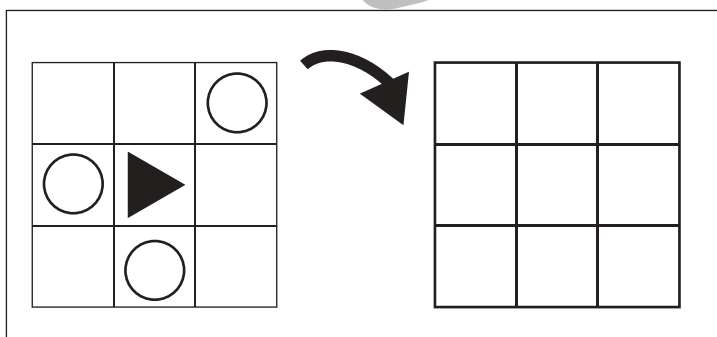
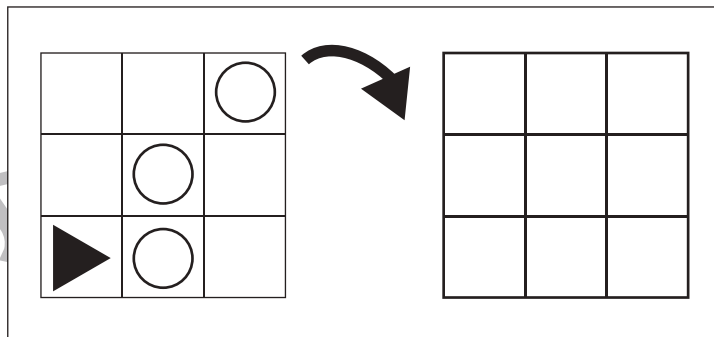
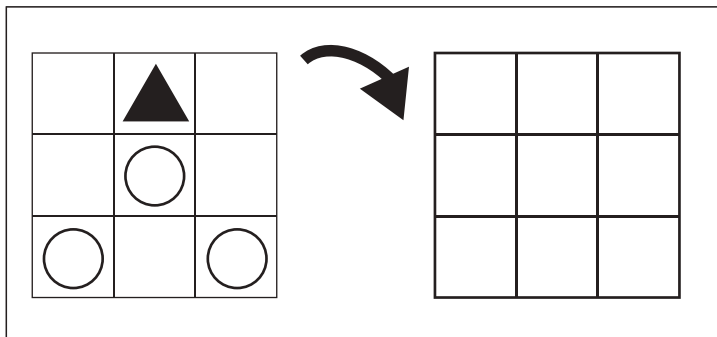


# おうちで、やろう。

Study at home. 小学校受験の家庭学習教材

## 図形：回転 19

左のお手本を矢印の方向へ 1 回倒した時の見え方を考えて右の四角にかきます。



※1. このプリントは、しながわ・目黒こどもスクールのウェブサイトからダウンロードできます。無断複写・引用はご遠慮ください。  
 ※2. このプリントを活用したオンライン授業のスケジュールは、しながわ・目黒こどもスクールのウェブサイトでご確認ください。



# おうちで、やろう。

Study at home. 小学校受験の家庭学習教材

## 図形：折り重ね 14

真ん中の点線で矢印の方向へ折り重ねたときの見え方を考えて太い四角の中の○を塗ります。

The puzzles are arranged in 5 rows and 4 columns. Each puzzle is a 3x6 grid of circles with a vertical dashed line in the center. A curved arrow above each grid points to the right, indicating a fold. The circles are either white or black. The goal is to determine the final appearance after folding the right side of the 3x6 grid over the left side.

※1. このプリントは、しながわ・目黒こどもスクールのウェブサイトでダウンロードができます。無断複写・引用はご遠慮ください。  
 ※2. このプリントを活用したオンライン授業のスケジュールは、しながわ・目黒こどもスクールのウェブサイトでご確認ください。



# おうちで、やろう。

Study at home. 小学校受験の家庭学習教材

## 図形：折り重ね 15

真ん中の点線で矢印の方向へ折り重ねたときの見え方を考えて太い四角の中の○を塗ります。

※1. このプリントは、しながわ・目黒こどもスクールのウェブサイトでダウンロードができます。無断複写・引用はご遠慮ください。  
 ※2. このプリントを活用したオンライン授業のスケジュールは、しながわ・目黒こどもスクールのウェブサイトでご確認ください。



# おうちで、やろう。

Study at home. 小学校受験の家庭学習教材

## 推理：四方観察 10

マス目の上に積み木が置かれています。この絵を上から見ると、どのように見えますか。正しいものを右の四角から選んで○をつけます。

<input type="checkbox"/>		<input type="checkbox"/>
	<input type="checkbox"/>	
<input type="checkbox"/>		<input type="checkbox"/>
<input type="checkbox"/>		<input type="checkbox"/>
	<input type="checkbox"/>	
<input type="checkbox"/>		<input type="checkbox"/>
	<input type="checkbox"/>	
<input type="checkbox"/>		<input type="checkbox"/>

<input type="checkbox"/>	<input type="checkbox"/>	<input type="checkbox"/>
	<input type="checkbox"/>	
<input type="checkbox"/>		
<input type="checkbox"/>	<input type="checkbox"/>	<input type="checkbox"/>
	<input type="checkbox"/>	
<input type="checkbox"/>		<input type="checkbox"/>
	<input type="checkbox"/>	
<input type="checkbox"/>		<input type="checkbox"/>

※1. このプリントは、しながわ・目黒こどもスクールのウェブサイトでダウンロードができます。無断複写・引用はご遠慮ください。

※2. このプリントを活用したオンライン授業のスケジュールは、しながわ・目黒こどもスクールのウェブサイトでご確認ください。

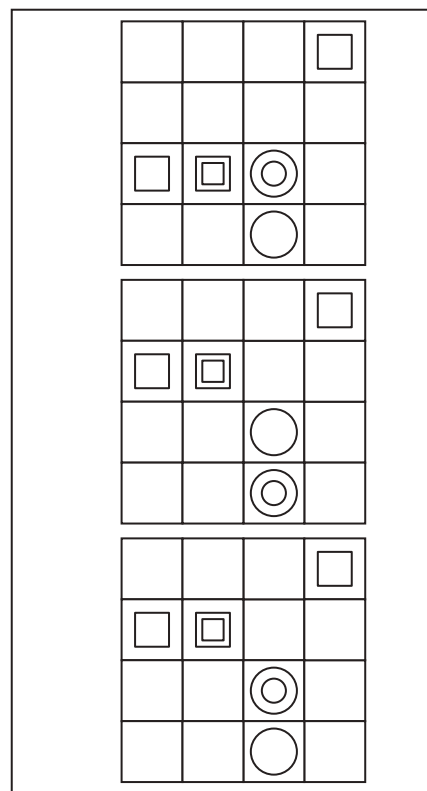
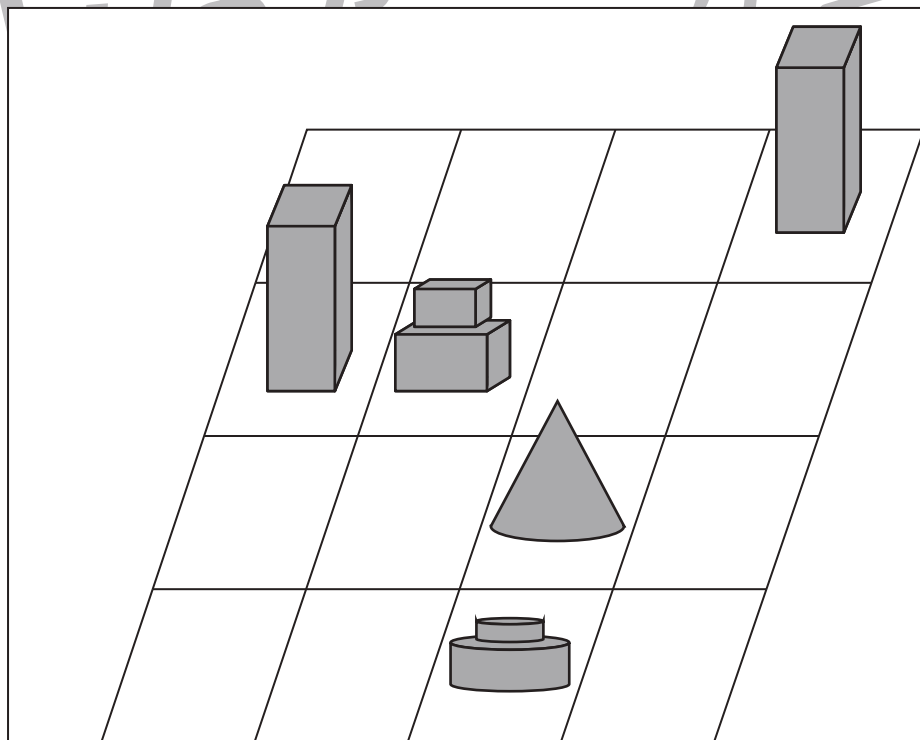
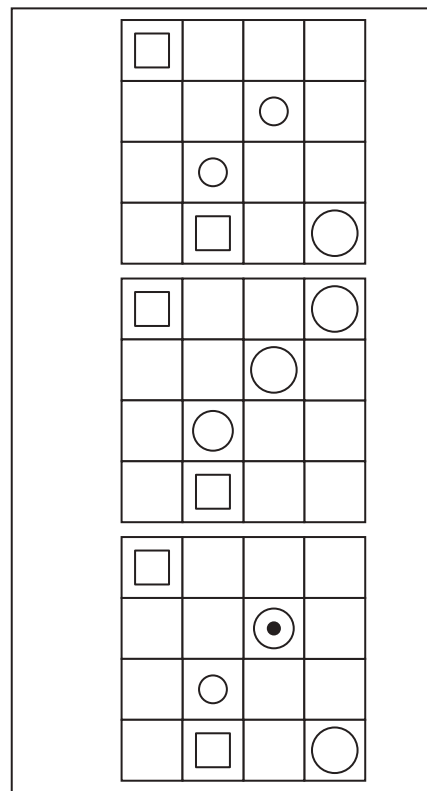
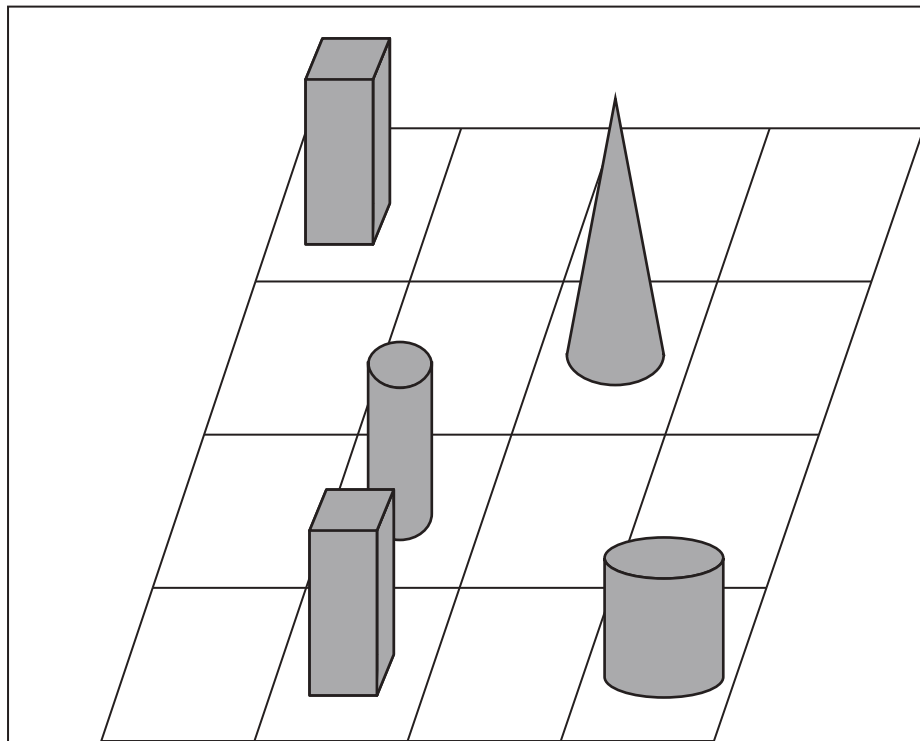


# おうちで、やろう。

Study at home. 小学校受験の家庭学習教材

## 推理：四方観察 11

マス目の上に積み木が置かれています。この絵を上から見ると、どのように見えますか。正しいものを右の四角から選んで○をつけます。



※1. このプリントは、しながわ・目黒こどもスクールのウェブサイトでダウンロードができます。無断複写・引用はご遠慮ください。  
※2. このプリントを活用したオンライン授業のスケジュールは、しながわ・目黒こどもスクールのウェブサイトでご確認ください。



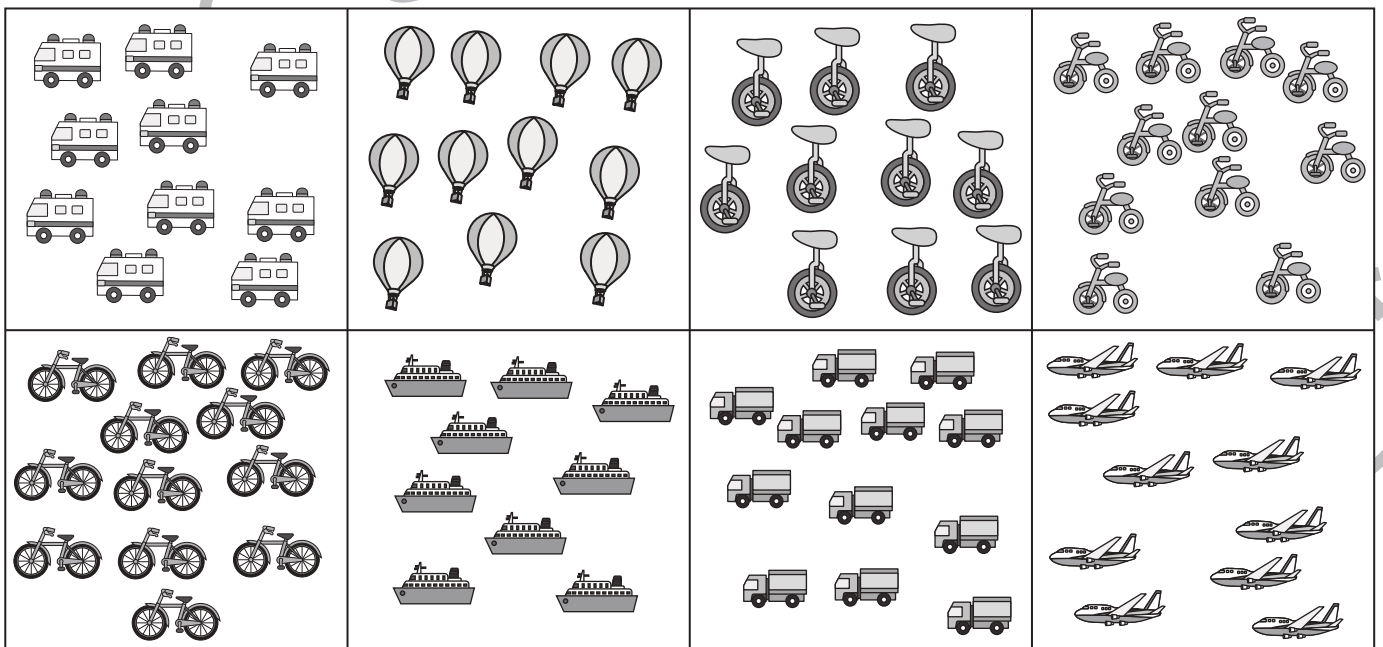


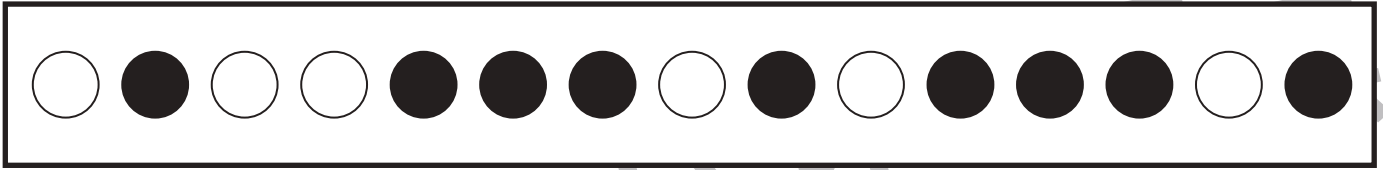


# おうちで、やろう。

Study at home. 小学校受験の家庭学習教材

数量：同数 4

太い四角の中の黒い丸の数と同じ数のものを下の四角から見つけて、○をつけます。



※1. このプリントは、しながわ・目黒こどもスクールのウェブサイトでダウンロードができます。無断複写・引用はご遠慮ください。  
 ※2. このプリントを活用したオンライン授業のスケジュールは、しながわ・目黒こどもスクールのウェブサイトでご確認ください。



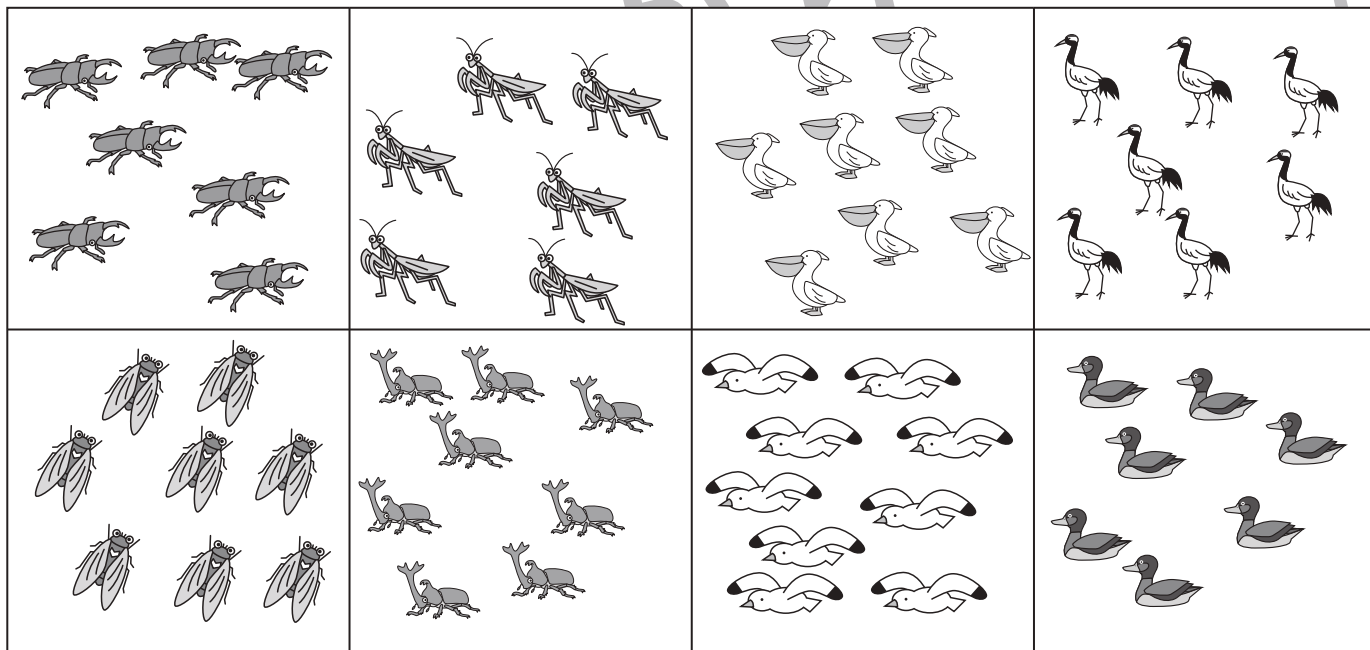
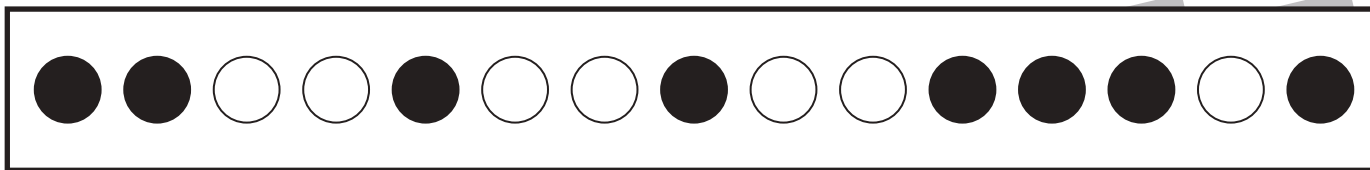


# おうちで、やろう。

Study at home. 小学校受験の家庭学習教材

数量：同数5

下の四角の絵の中で、上の太い四角の中の黒い丸の数と同じ数のものには○を、白い丸の数と同じものには×をつけます。



※1. このプリントは、しながわ・目黒こどもスクールのウェブサイトでダウンロードができます。無断複写・引用はご遠慮ください。  
 ※2. このプリントを活用したオンライン授業のスケジュールは、しながわ・目黒こどもスクールのウェブサイトでご確認ください。



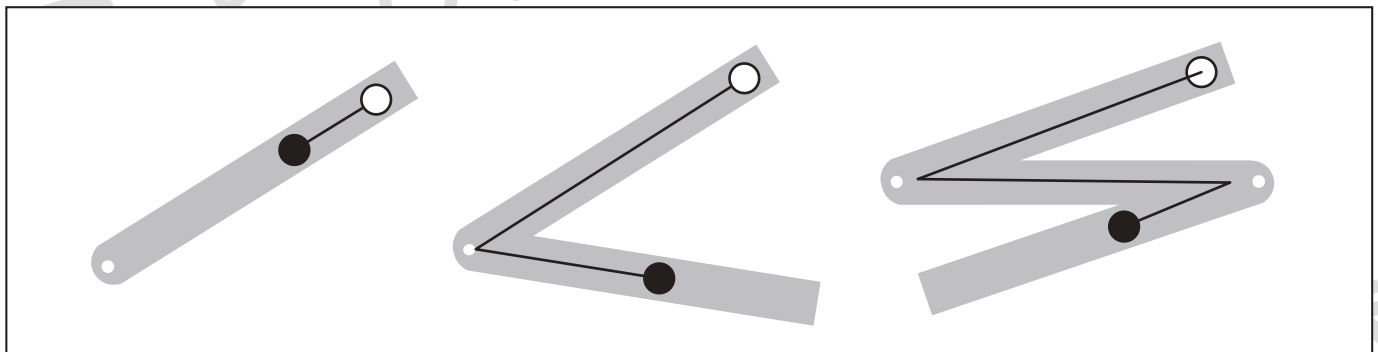
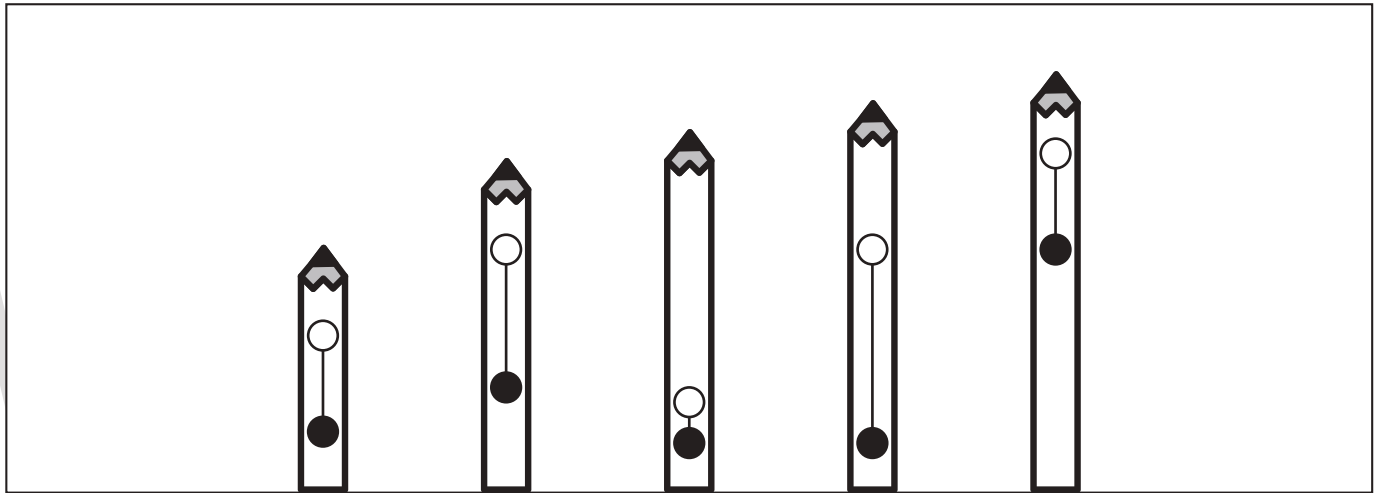
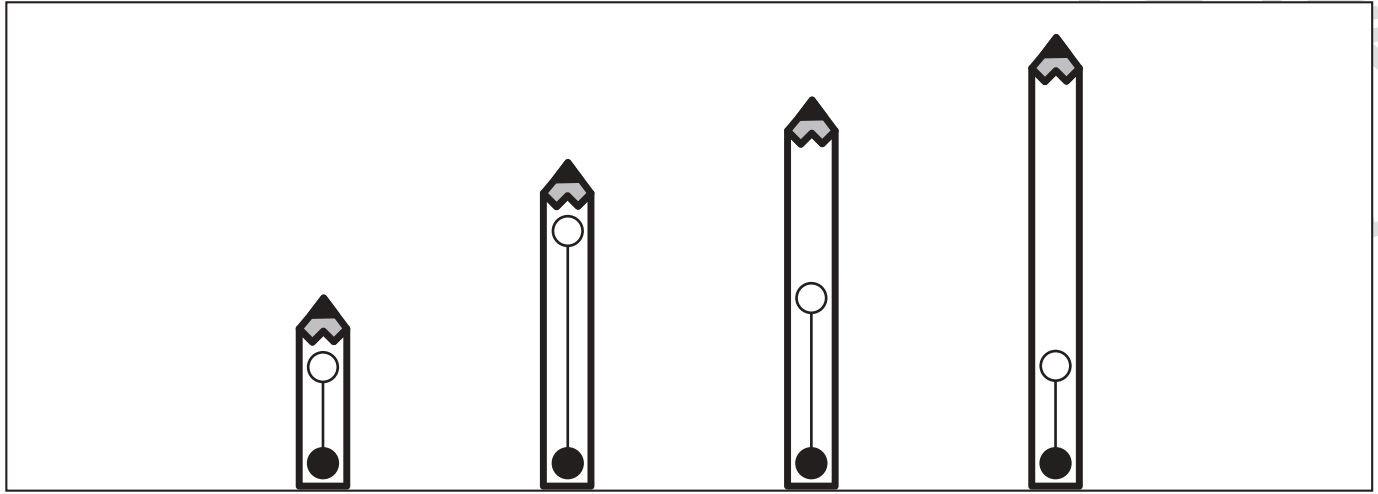


# おうちで、やろう。

Study at home. 小学校受験の家庭学習教材

数量：比較 7

それぞれの四角の中で、●から○までの長さが一番長いものに○をつけましょう。



※1. このプリントは、しながわ・目黒こどもスクールのウェブサイトでダウンロードができます。無断複写・引用はご遠慮ください。  
※2. このプリントを活用したオンライン授業のスケジュールは、しながわ・目黒こどもスクールのウェブサイトでご確認ください。




# おうちで、やろう。

Study at home. 小学校受験の家庭学習教材

絵画：想像画 5

春の絵を描きます。紙の向きは縦横自由です。



※1. このプリントは、しながわ・目黒こどもスクールのウェブサイトでダウンロードができます。無断複写・引用はご遠慮ください。  
※2. このプリントを活用したオンライン授業のスケジュールは、しながわ・目黒こどもスクールのウェブサイトでご確認ください。