



おうちで、やろう。

Study at home. 小学校受験の家庭学習教材

言語：音の理解 20

左の絵のはじめから2番目の音と、右の絵のおわりの音が同じものを見つけて、点と点を線でむすびます。

※1. このプリントは、しながわ・目黒こどもスクールのウェブサイトでダウンロードができます。無断複写・引用はご遠慮ください。
 ※2. このプリントを活用したオンライン授業のスケジュールは、しながわ・目黒こどもスクールのウェブサイトでご確認ください。









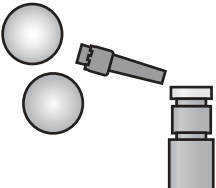





おうちで、やろう。

Study at home. 小学校受験の家庭学習教材

言語：音の理解 21

左の絵のはじめから2番目の音と、右の絵のはじめから3番目の音が同じものを見つけて、点と点を線でむすびます。

※1. このプリントは、しながわ・目黒こどもスクールのウェブサイトでダウンロードができます。無断複写・引用はご遠慮ください。
 ※2. このプリントを活用したオンライン授業のスケジュールは、しながわ・目黒こどもスクールのウェブサイトでご確認ください。





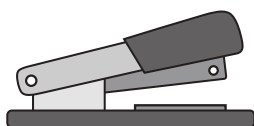
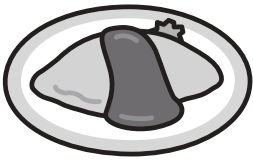




















おうちで、やろう。

Study at home. 小学校受験の家庭学習教材

言語：音の理解 22

四角の中の絵が、はじめの音が全て同じものには○を、おわりの音が全て同じものには△を、はじめから2番目の音が全て同じものには×を、右の太い四角の中にかきます。

※1. このプリントは、しながわ・目黒こどもスクールのウェブサイトダウンロードができます。無断複写・引用はご遠慮ください。

※2. このプリントを活用したオンライン授業のスケジュールは、しながわ・目黒こどもスクールのウェブサイトでご確認ください。



おうちで、やろう。

Study at home. 小学校受験の家庭学習教材

常識：仲間探し 1

左の四角の中の絵は、同じ仲間のものになります。右の太い四角の中から、もう1つ同じ仲間を見つけて○をつけます。

※1. このプリントは、しながわ・目黒こどもスクールのウェブサイトからダウンロードできます。無断複写・引用はご遠慮ください。

※2. このプリントを活用したオンライン授業のスケジュールは、しながわ・目黒こどもスクールのウェブサイトでご確認ください。



おうちで、やろう。

Study at home. 小学校受験の家庭学習教材

図形：移動 24

左の四角がお手本です。このお手本の○を真ん中の太い四角の中の矢印の方向へ1マスずつ動かします。移動した後の場所を考えて、右の四角の中に○をかきます。

①

	○	

↘
↓
←
→

		○

 ⑥

○		

↘
↗
↘
↗

		○

②

○		

↘
↗
↓
↑

		○

 ⑦

		○

↘
←
↑
↗

	○	

③

	○	

↘
↗
↑
→

		○

 ⑧

○		

→
↘
←
↘

		○

④

○		

↗
↘
↑
↓

	○	

 ⑨

○		

→
↗
→
↘

		○

⑤

		○

←
↘
↑
↗

	○	

 ⑩

	○	

←
↘
↘
↑

	○	

※1. このプリントは、しながわ・目黒こどもスクールのウェブサイトでダウンロードができます。無断複写・引用はご遠慮ください。
※2. このプリントを活用したオンライン授業のスケジュールは、しながわ・目黒こどもスクールのウェブサイトでご確認ください。

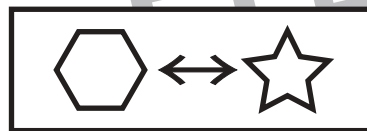
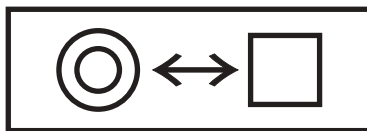
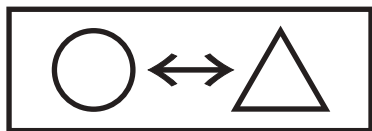


おうちで、よろう。

Study at home. 小学校受験の家庭学習教材

図形：置き換え 8

太い四角の中の印は、裏返しにすると別の印に変わります。四角の中が変わり方のお約束の時、左の四角の形を裏返したものはどれですか。右から見つけて○をつけます。



※1. このプリントは、しながわ・目黒こどもスクールのウェブサイトでダウンロードができます。無断複写・引用はご遠慮ください。

※2. このプリントを活用したオンライン授業のスケジュールは、しながわ・目黒こどもスクールのウェブサイトでご確認ください。




おうちで、やろう。

Study at home. 小学校受験の家庭学習教材

図形：置き換え 9

太い四角の中の印は、裏返しにすると別の印に変わります。四角の中が変わり方のお約束の時、左の四角の形を裏返したものはどれですか。右から見つけて○をつけます。



※1. このプリントは、しながわ・目黒こどもスクールのウェブサイトでダウンロードができます。無断複写・引用はご遠慮ください。
 ※2. このプリントを活用したオンライン授業のスケジュールは、しながわ・目黒こどもスクールのウェブサイトでご確認ください。


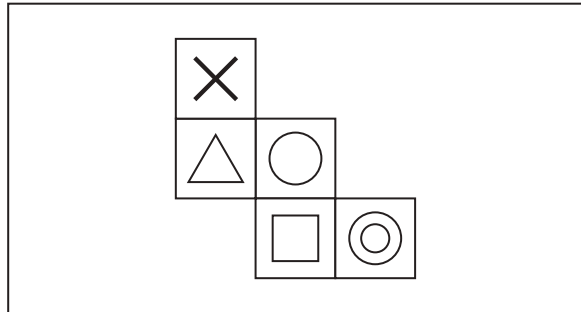
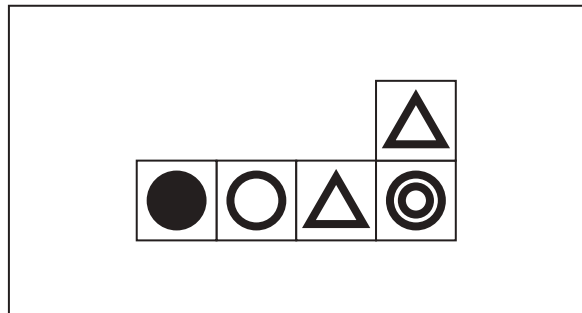
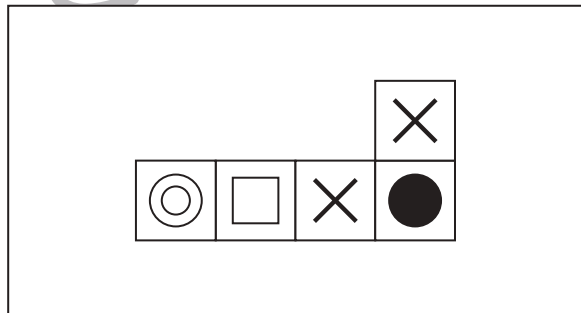

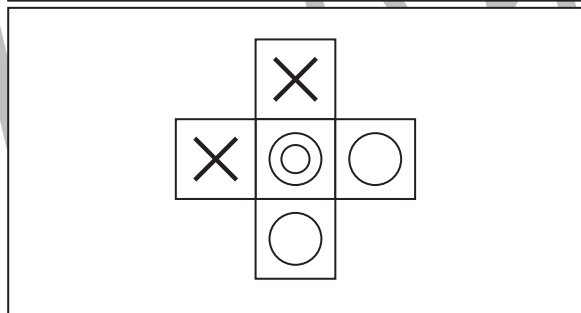

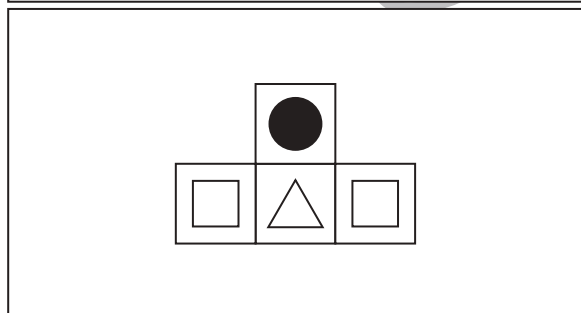
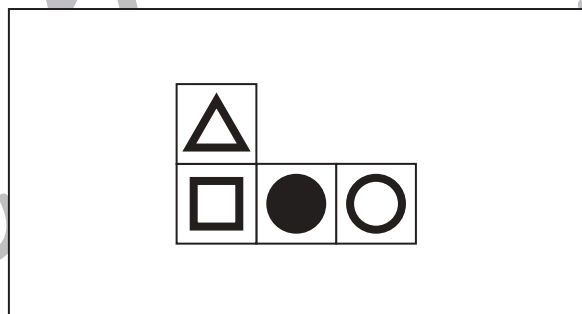
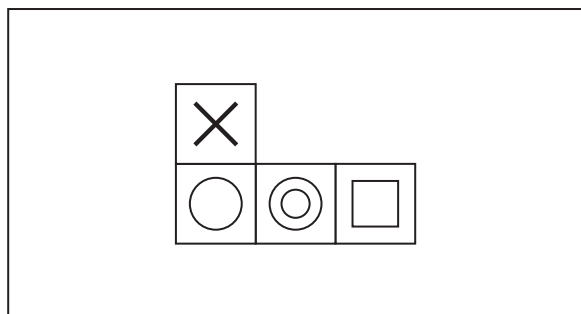
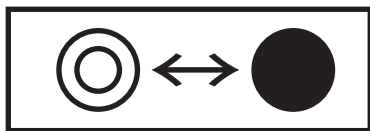
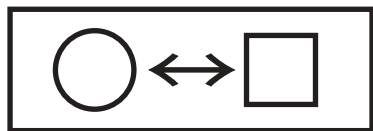


おうちで、やろう。

Study at home. 小学校受験の家庭学習教材

図形：置き換え 10

太い四角の中の印は、裏返しにすると別の印に変わります。四角の中が変わり方のお約束の時、左の四角の形を裏返したものを右の四角の形にかきます。



※1. このプリントは、しながわ・目黒こどもスクールのウェブサイトでダウンロードができます。無断複写・引用はご遠慮ください。

※2. このプリントを活用したオンライン授業のスケジュールは、しながわ・目黒こどもスクールのウェブサイトでご確認ください。



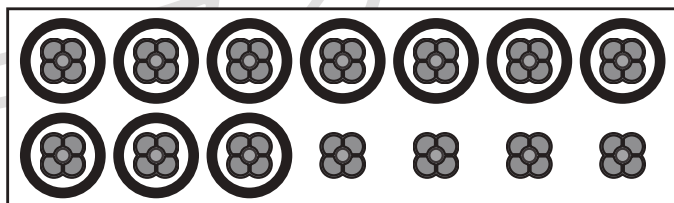
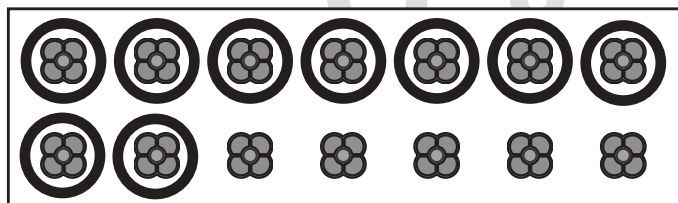


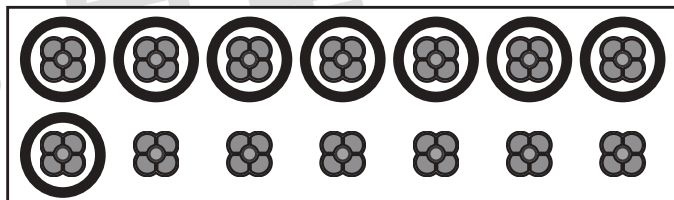
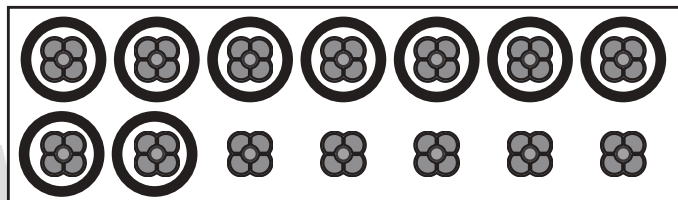
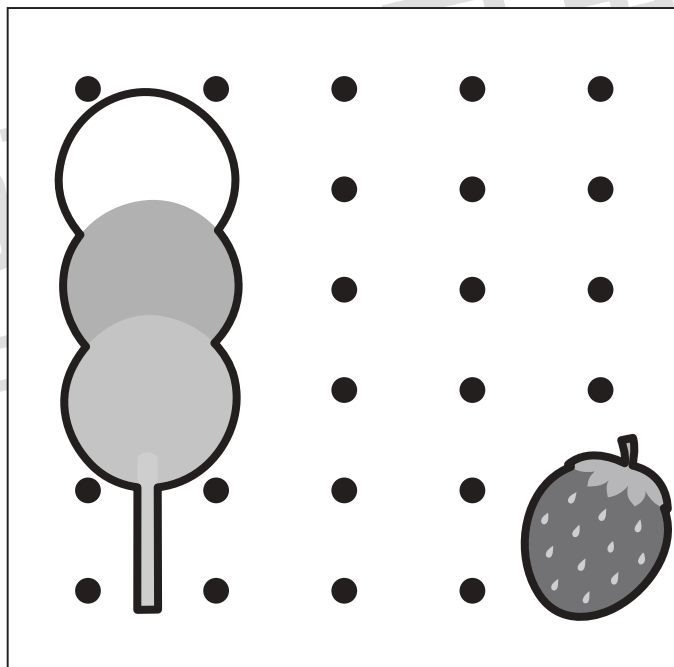
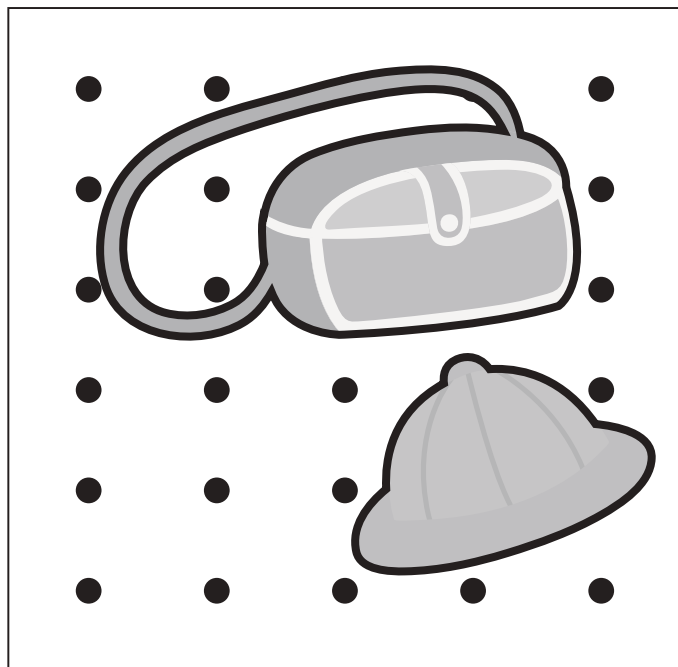


おうちで、やろう。

Study at home. 小学校受験の家庭学習教材

数量：かくれた数 4

黒い点が並んでいますが、絵でかかれている所があります。かかれている点の数を数えて、その数だけ下の四角の中のおはじきを1つずつ囲みます。



※1. このプリントは、しながわ・目黒こどもスクールのウェブサイトでダウンロードができます。無断複写・引用はご遠慮ください。

※2. このプリントを活用したオンライン授業のスケジュールは、しながわ・目黒こどもスクールのウェブサイトでご確認ください。



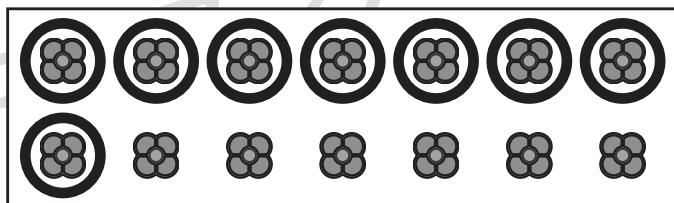
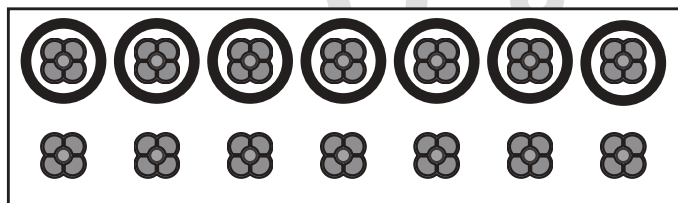

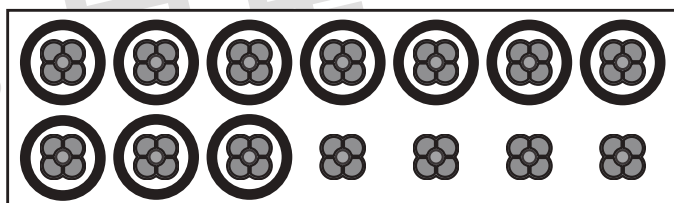
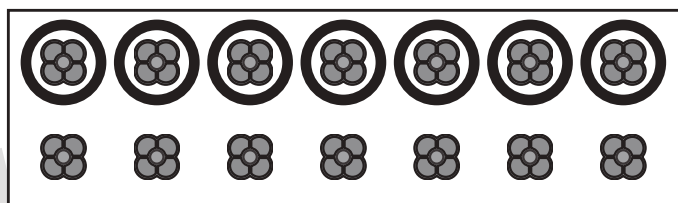




おうちで、やろう。

Study at home. 小学校受験の家庭学習教材

数量：かくれた数5

黒い点が並んでいますが、絵でかかれています。かかれています点の数を数えて、その数だけ下の四角の中のおはじきを1つずつ囲みます。



※1. このプリントは、しながわ・目黒こどもスクールのウェブサイトからダウンロードできます。無断複写・引用はご遠慮ください。
※2. このプリントを活用したオンライン授業のスケジュールは、しながわ・目黒こどもスクールのウェブサイトでご確認ください。

