







# おうちで、やろう。

Study at home. 小学校受験の家庭学習教材

## 常識：仲間外れ2

四角の中の絵の中で仲間外れを見つけて○をつけます。また、その理由もお話しましょう。



※1. このプリントは、しながわ・目黒こどもスクールのウェブサイトからダウンロードできます。無断複写・引用はご遠慮ください。

※2. このプリントを活用したオンライン授業のスケジュールは、しながわ・目黒こどもスクールのウェブサイトでご確認ください。







# おうちで、やろう。

Study at home. 小学校受験の家庭学習教材

## 常識：仲間外れ 3

四角の中の絵の中で仲間外れを見つけて○をつけます。また、その理由もお話しましょう。



※1. このプリントは、しながわ・目黒こどもスクールのウェブサイトでダウンロードができます。無断複写・引用はご遠慮ください。  
※2. このプリントを活用したオンライン授業のスケジュールは、しながわ・目黒こどもスクールのウェブサイトでご確認ください。



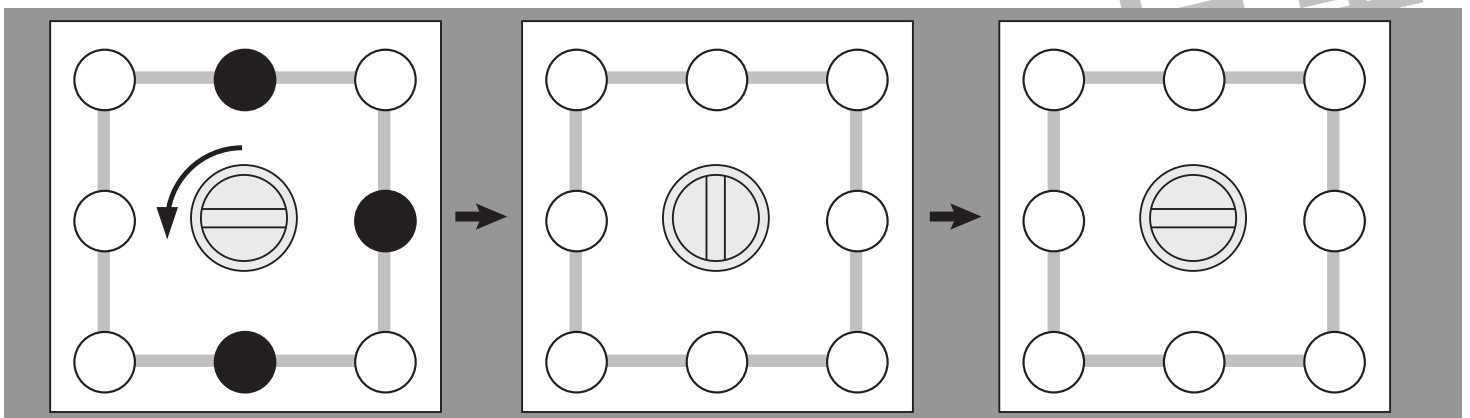
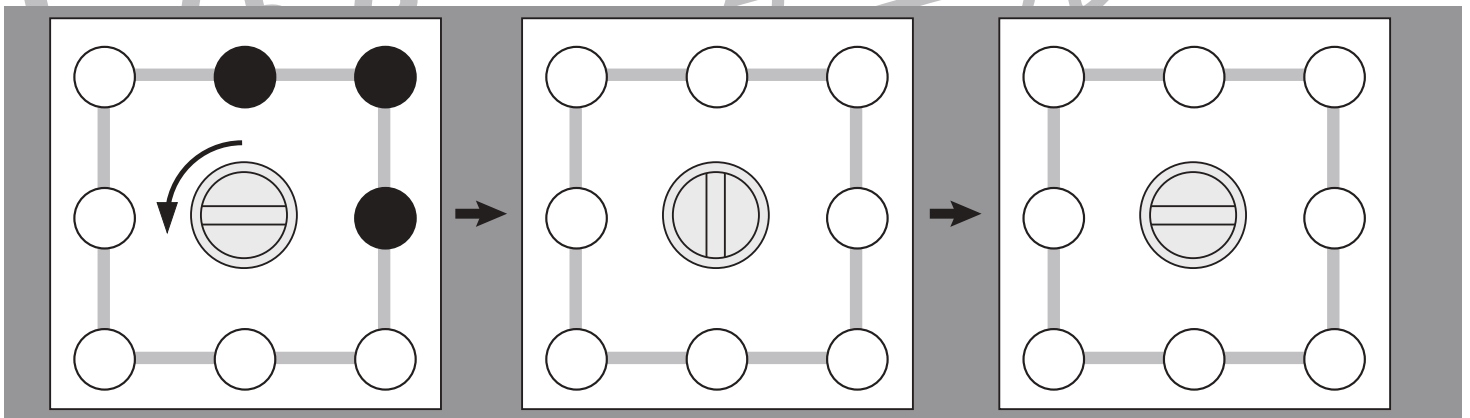
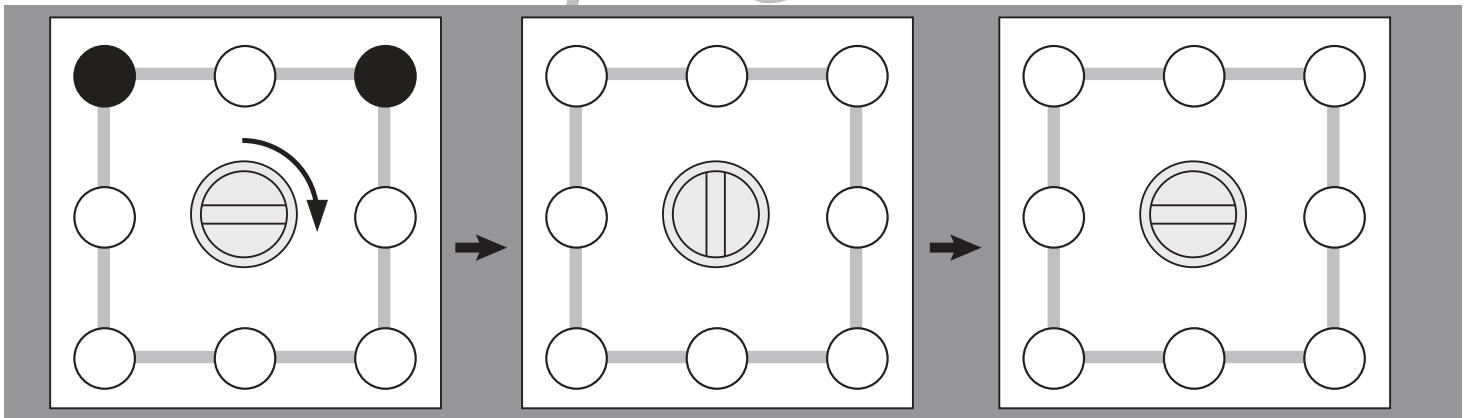
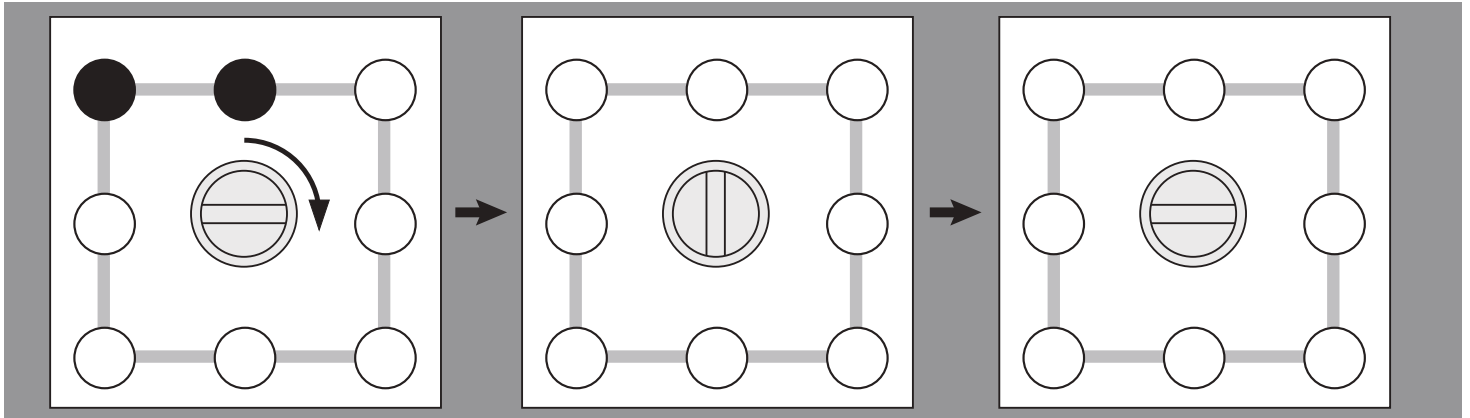


# おうちで、やろう。

Study at home. 小学校受験の家庭学習教材

## 図形：移動 25

四角の真ん中にあるハンドルを矢印の方向に1回まわすと、丸が矢印の向きに1つ動きます。  
ハンドルを矢印の方向に1回ずつまわした後の黒丸の場所を考えて塗ります。



※1. このプリントは、しながわ・目黒こどもスクールのウェブサイトからダウンロードできます。無断複写・引用はご遠慮ください。  
 ※2. このプリントを活用したオンライン授業のスケジュールは、しながわ・目黒こどもスクールのウェブサイトでご確認ください。



# おうちで、やろう。

Study at home. 小学校受験の家庭学習教材

## 図形：移動 26

四角の真ん中にあるハンドルを矢印の方向に1回まわすと、丸が矢印の向きに1つ動きます。  
ハンドルを矢印の方向に1回ずつまわした後の黒丸の場所を考えて塗ります。

※1. このプリントは、しながわ・目黒こどもスクールのウェブサイトでダウンロードができます。無断複写・引用はご遠慮ください。

※2. このプリントを活用したオンライン授業のスケジュールは、しながわ・目黒こどもスクールのウェブサイトでご確認ください。



# おうちで、やろう。

Study at home. 小学校受験の家庭学習教材

## 推理：条件推理 18

上の四角の中の形が矢印の方向へ落ち、下のマスに順番に入ります。ただし、太い二本線を通ると黒い形は消えてしまいます。この約束ですべての形を落とした後の様子を下の四角にかきます。


↓ ↓



↓ ↓



↓ ↓



↓ ↓



↓ ↓



↓ ↓



↓ ↓



↓ ↓


※1. このプリントは、しながわ・目黒こどもスクールのウェブサイトでダウンロードができます。無断複写・引用はご遠慮ください。  
※2. このプリントを活用したオンライン授業のスケジュールは、しながわ・目黒こどもスクールのウェブサイトでご確認ください。



# おうちで、やろう。

Study at home. 小学校受験の家庭学習教材

## 推理：条件推理 19

上の四角の中の形が矢印の方向へ落ち、下のマスに順番に入ります。ただし、太い二本線を通ると黒い形は消えてしまいます。この約束ですべての形を落とした後の様子を下の四角にかきます。

▽	▽	△
●	▽	▶
○	●	○

↓ ↓ ↓


▶	▽	□
●	△	■
○	■	●

↓ ↓ ↓


▲	○	●
□	▲	○
○	▶	■

↓ ↓ ↓


○	▽	●
●	□	▲
△	■	▶

↓ ↓ ↓


▽	●	△
▼	▽	●
○	▶	○

↓ ↓ ↓


▶	■	▽
■	▽	●
○	■	●

↓ ↓ ↓


◀	○	■
■	▲	▶
○	○	●

↓ ↓ ↓


○	▼	▶
■	○	●
△	▲	□

↓ ↓ ↓


※1. このプリントは、しながわ・目黒こどもスクールのウェブサイトでダウンロードができます。無断複写・引用はご遠慮ください。  
※2. このプリントを活用したオンライン授業のスケジュールは、しながわ・目黒こどもスクールのウェブサイトでご確認ください。



# おうちで、やろう。

Study at home. 小学校受験の家庭学習教材

数量：複合 4

横に並んだ4つの四角の中の果物のうち、数が一番多いものと一番少ないものの数の違いはいくつですか。  
違う数だけ右の四角の中に○をかきます。

--	--	--	--	--

--	--	--	--	--

--	--	--	--	--

--	--	--	--	--

※1. このプリントは、しながわ・目黒こどもスクールのウェブサイトでダウンロードができます。無断複写・引用はご遠慮ください。  
※2. このプリントを活用したオンライン授業のスケジュールは、しながわ・目黒こどもスクールのウェブサイトでご確認ください。



# おうちで、やろう。

Study at home. 小学校受験の家庭学習教材

数量：複合5

横に並んだ4つの四角の中の果物のうち、数が2番目に多いものと2番目に少ないものの数の違いはいくつですか。  
違う数だけ右の四角の中に○をかきます。

--	--	--	--	--

--	--	--	--	--

--	--	--	--	--

--	--	--	--	--

※1. このプリントは、しながわ・目黒こどもスクールのウェブサイトでダウンロードができます。無断複写・引用はご遠慮ください。  
 ※2. このプリントを活用したオンライン授業のスケジュールは、しながわ・目黒こどもスクールのウェブサイトでご確認ください。




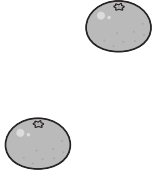
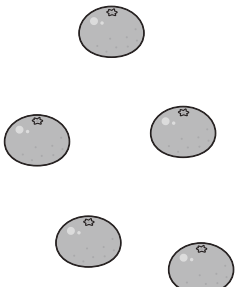
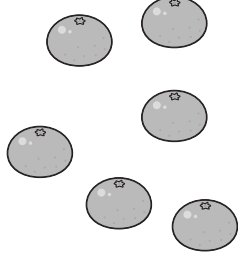


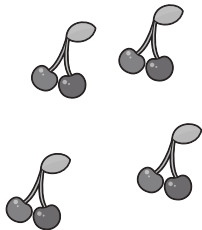
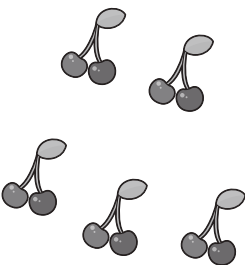
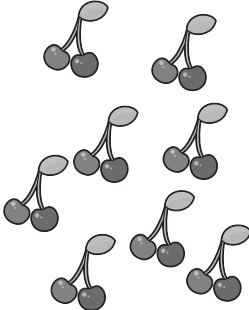
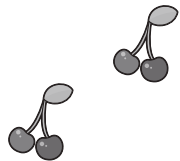
# おうちで、やろう。

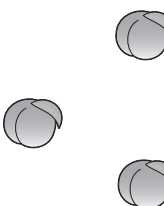
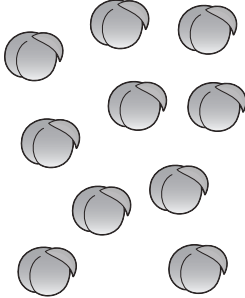
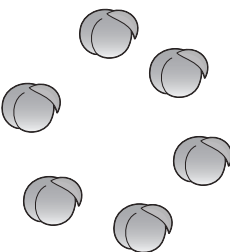
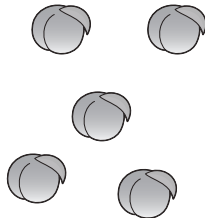
Study at home. 小学校受験の家庭学習教材





数量：複合6

横に並んだ4つの四角の中の果物のうち、数が1番目に多いものと2番目に少ないものの数の違いはいくつですか。  
違う数だけ右の四角の中に○をかきます。

				
---	---	---	--	--

				
--	--	--	--	--

				
---	---	---	--	--

				
---	---	---	--	--

※1. このプリントは、しながわ・目黒こどもスクールのウェブサイトからダウンロードできます。無断複写・引用はご遠慮ください。  
 ※2. このプリントを活用したオンライン授業のスケジュールは、しながわ・目黒こどもスクールのウェブサイトでご確認ください。


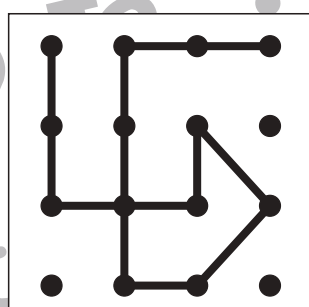

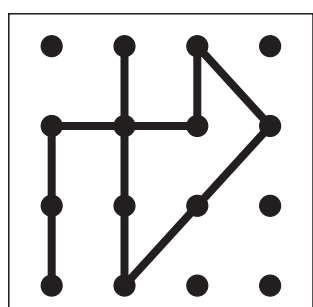

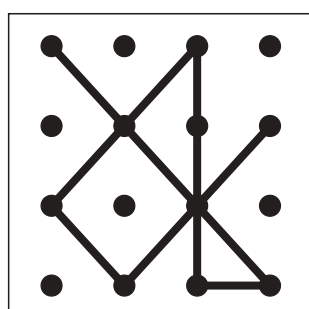

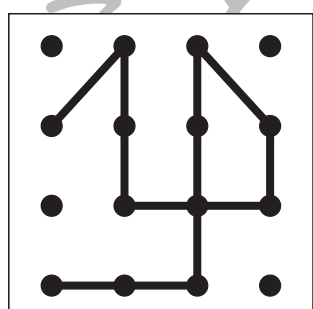

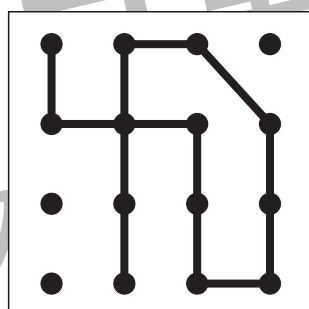

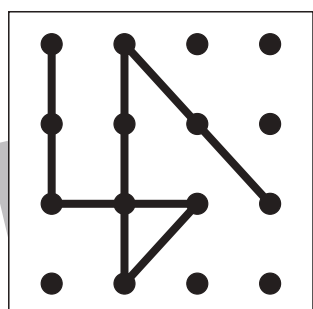

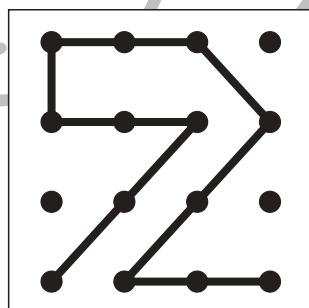

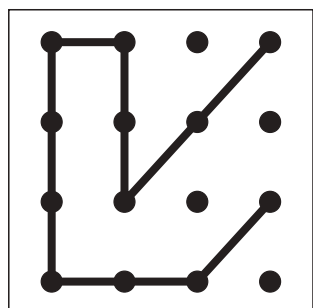

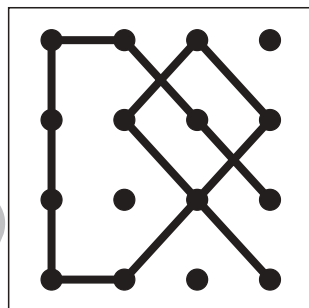

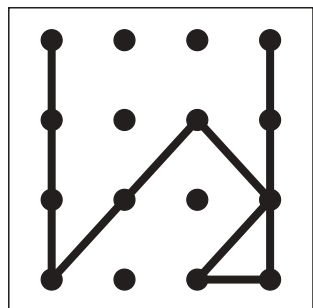


# おうちで、やろう。

Study at home. 小学校受験の家庭学習教材

## 図形：点図形 26

左のお手本と同じになるように右の四角に線をかきます。 ※このプリントに解答はありません。



※1. このプリントは、しながわ・目黒こどもスクールのウェブサイトでダウンロードができます。無断複写・引用はご遠慮ください。  
※2. このプリントを活用したオンライン授業のスケジュールは、しながわ・目黒こどもスクールのウェブサイトでご確認ください。