



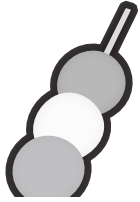
おうちで、やろう。

Study at home. 小学校受験の家庭学習教材

常識：仲間外れ 2

四角の中の絵の中で仲間外れを見つけて○をつけます。また、その理由もお話しましょう。




※理由は一例です。他の答えでも正しいことがお話できれば正解としてください。




※他のものはお菓子だけど、ブドウだけ果物だから違います。




※他のものは果物だけど、カボチャだけ野菜だから違います。



※他のものは夏のものだけど、桜だけ春のものだから違います。



※他のものは天気だけど、月だけ天気でないので違います。



※他のものは陸にいるけど、ペンギンだけ水の中を泳げるから違います。

※1. このプリントは、しながわ・目黒こどもスクールのウェブサイトでダウンロードができます。無断複写・引用はご遠慮ください。

※2. このプリントを活用したオンライン授業のスケジュールは、しながわ・目黒こどもスクールのウェブサイトでご確認ください。








おうちで、やろう。

Study at home. 小学校受験の家庭学習教材


常識：仲間外れ 3

四角の中の絵の中で仲間外れを見つけて○をつけます。また、その理由もお話しましょう。




※理由は一例です。他の答えでも正しいことがお話できれば正解としてください。





※他のものは土の中で育つけど、ナスだけ土の上で育つから違います。





※他のものは草を食べるけど、ライオンだけ肉を食べるから違います。



※他のものは夏のものだけど、タケノコだけ春のものだから違います。



※他のものは米からできているけど、プリンだけ違います。



※他のものは秋のものだけど、クリスマスツリーだけ冬のものだから違います。

※1. このプリントは、しながわ・目黒こどもスクールのウェブサイトでダウンロードができます。無断複写・引用はご遠慮ください。

※2. このプリントを活用したオンライン授業のスケジュールは、しながわ・目黒こどもスクールのウェブサイトでご確認ください。

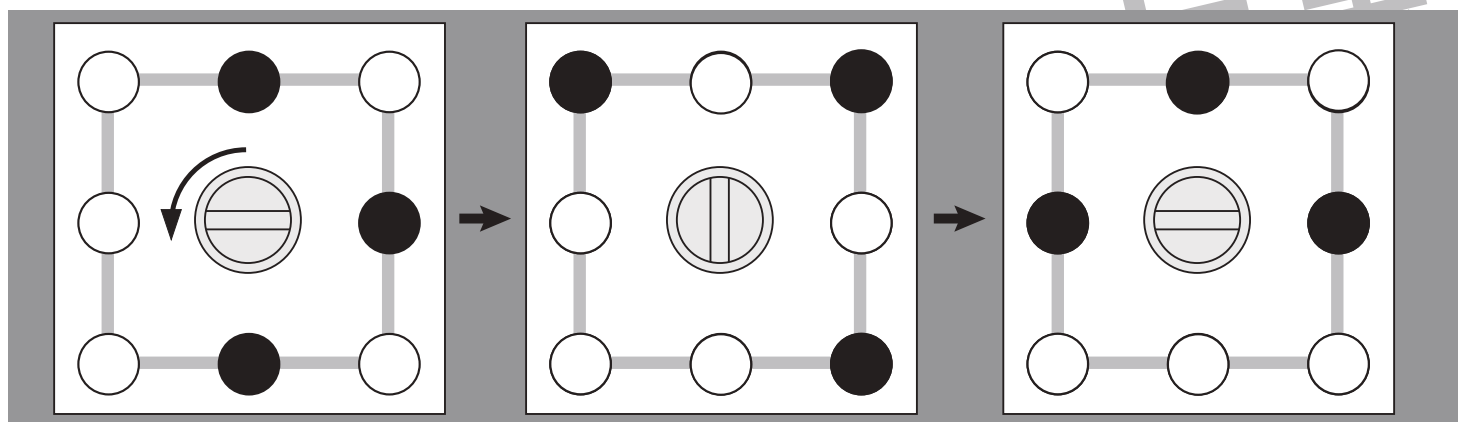
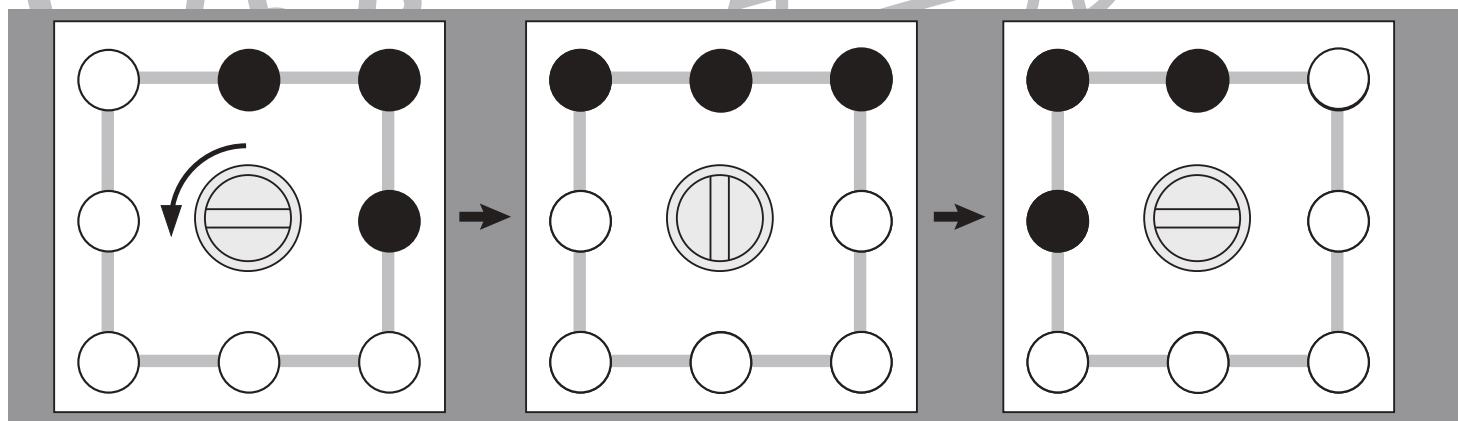
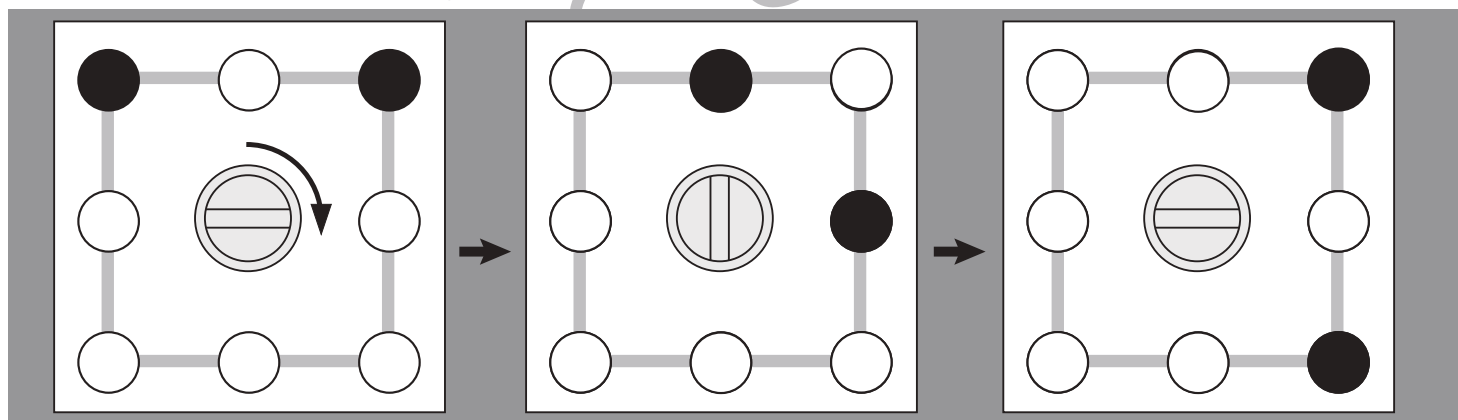
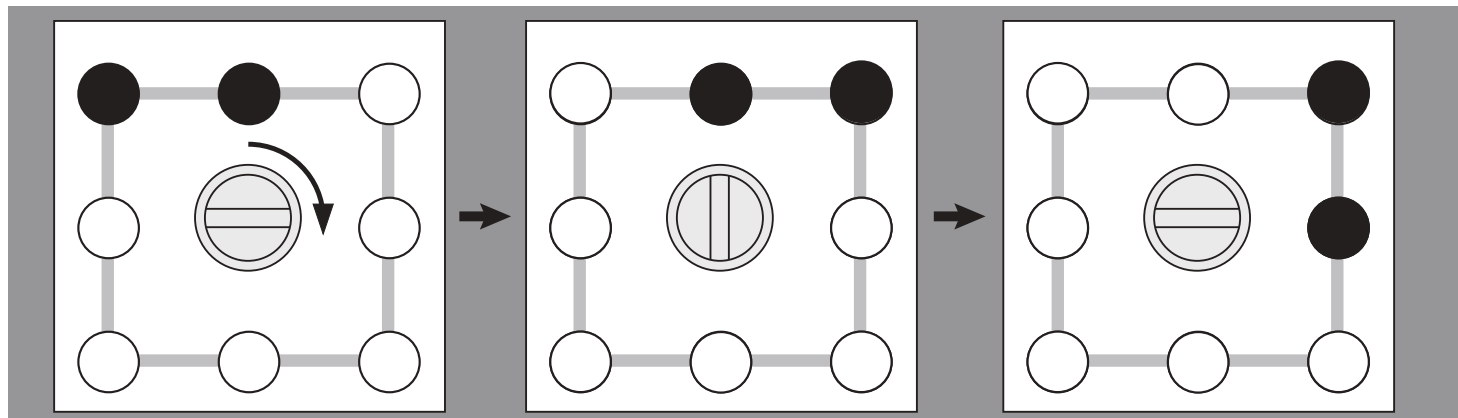


おうちで、やろう。

Study at home. 小学校受験の家庭学習教材

図形：移動 25

四角の真ん中にあるハンドルを矢印の方向に1回まわすと、丸が矢印の向きに1つ動きます。
ハンドルを矢印の方向に1回ずつまわした後の黒丸の場所を考えて塗ります。



※1. このプリントは、しながわ・目黒こどもスクールのウェブサイトでダウンロードができます。無断複写・引用はご遠慮ください。

※2. このプリントを活用したオンライン授業のスケジュールは、しながわ・目黒こどもスクールのウェブサイトでご確認ください。

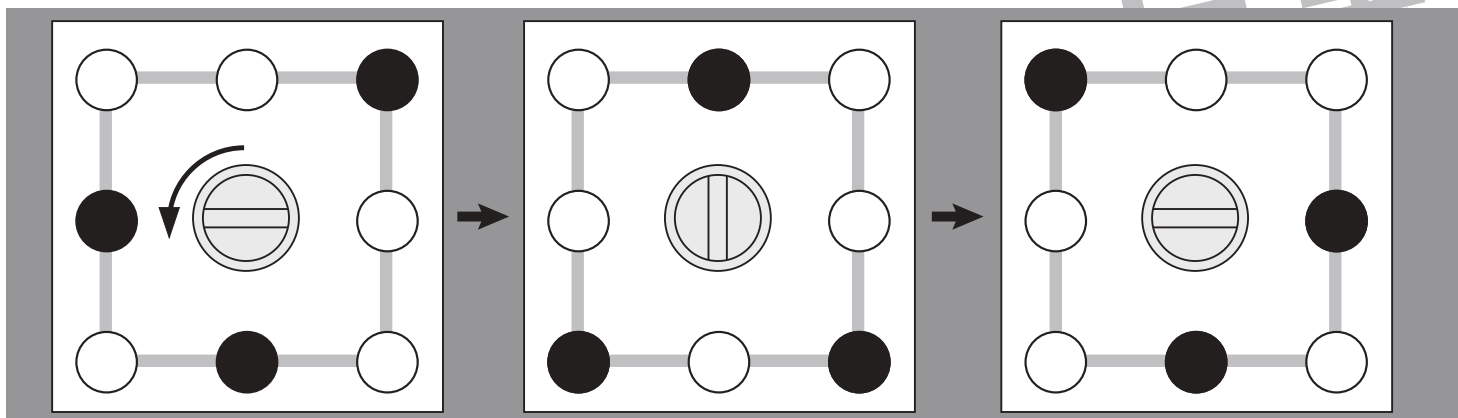
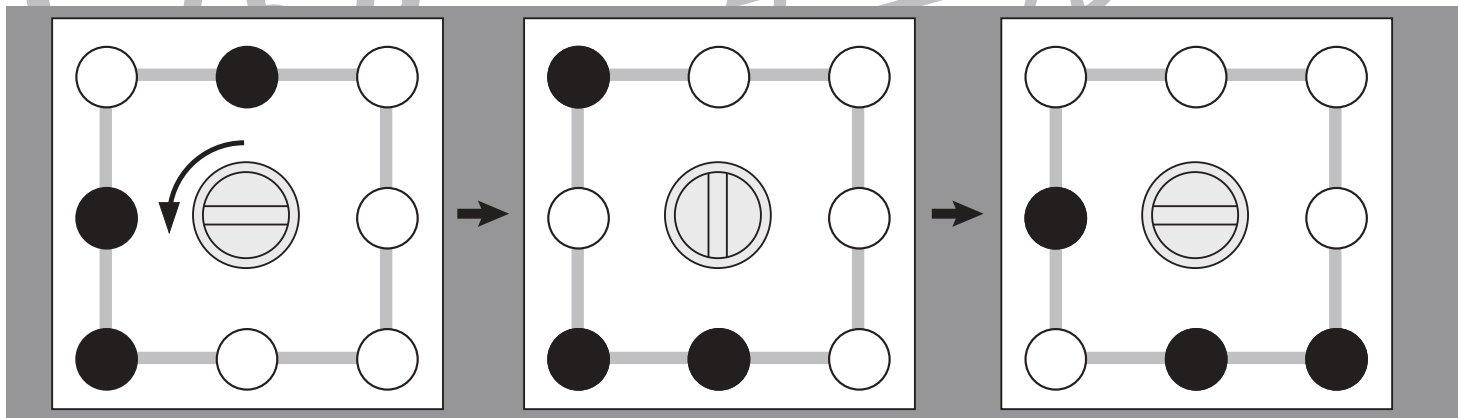
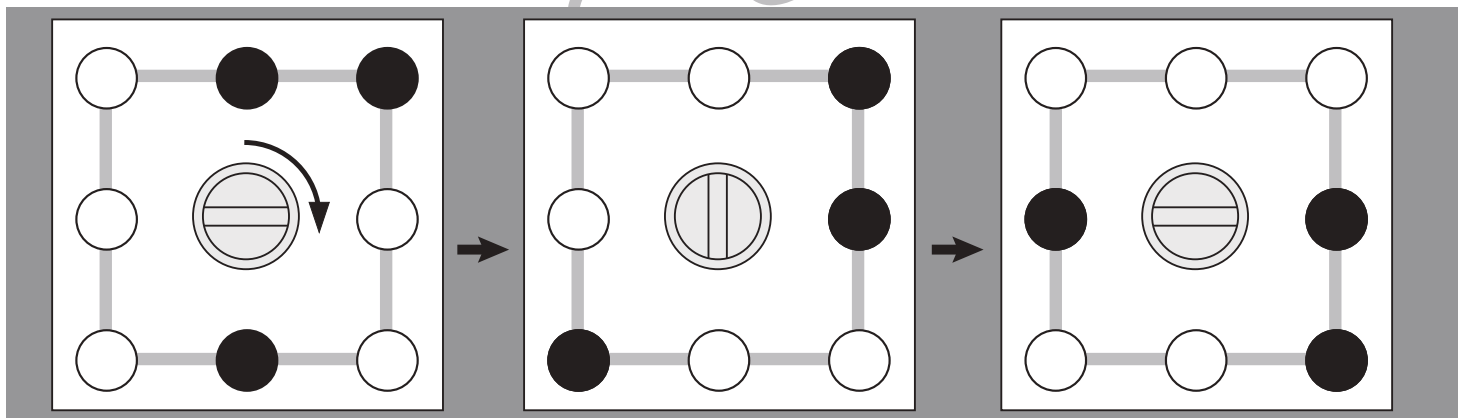
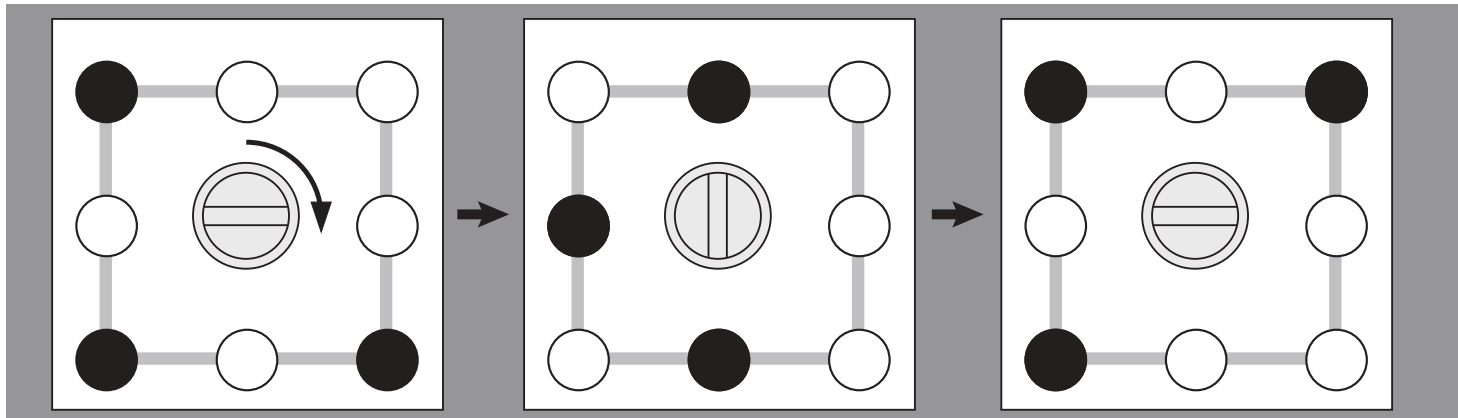


おうちで、やろう。

Study at home. 小学校受験の家庭学習教材

図形：移動 26

四角の真ん中にあるハンドルを矢印の方向に1回まわすと、丸が矢印の向きに1つ動きます。
ハンドルを矢印の方向に1回ずつまわした後の黒丸の場所を考えて塗ります。



※1. このプリントは、しながわ・目黒こどもスクールのウェブサイトでダウンロードができます。無断複写・引用はご遠慮ください。

※2. このプリントを活用したオンライン授業のスケジュールは、しながわ・目黒こどもスクールのウェブサイトでご確認ください。



おうちで、やろう。

Study at home. 小学校受験の家庭学習教材

推理：条件推理 18

上の四角の中の形が矢印の方向へ落ち、下のマスに順番に入ります。ただし、太い二本線を通ると黒い形は消えてしまいます。この約束ですべての形を落とした後の様子を下の四角にかきます。

↓ ↓

↓ ↓

↓ ↓

↓ ↓

↓ ↓

↓ ↓

↓ ↓

↓ ↓

※1. このプリントは、しながわ・目黒こどもスクールのウェブサイトでダウンロードができます。無断複写・引用はご遠慮ください。
※2. このプリントを活用したオンライン授業のスケジュールは、しながわ・目黒こどもスクールのウェブサイトでご確認ください。



おうちで、よろう。

Study at home. 小学校受験の家庭学習教材

推理：条件推理 19

上の四角の中の形が矢印の方向へ落ち、下のマスに順番に入ります。ただし、太い二本線を通ると黒い形は消えてしまいます。この約束ですべての形を落とした後の様子を下の四角にかきます。

▽	▽	△
●	▽	▶
○	●	○

↓ ↓ ↓

▽	▽	△
○	▽	○

▶	▽	□
●	△	■
○	■	●

↓ ↓ ↓

▶	▽	
○	△	□

▲	○	●
□	▲	○
○	▶	■

↓ ↓ ↓

□	○	
○	▶	○

○	▽	●
●	□	▲
△	■	▶

↓ ↓ ↓

○	▽	
△	□	

▽	●	△
▼	▽	●
○	▶	○

↓ ↓ ↓

▽		△
○	▽	○

▶	■	▽
■	▽	●
○	■	●

↓ ↓ ↓

▶		
○	▽	▽

◀	○	■
■	▲	▶
○	○	●

↓ ↓ ↓

◀	○	
○	○	▶

○	▼	▶
■	○	●
△	▲	□

↓ ↓ ↓

○		
△	○	□

※1. このプリントは、しながわ・目黒こどもスクールのウェブサイトでダウンロードができます。無断複写・引用はご遠慮ください。
※2. このプリントを活用したオンライン授業のスケジュールは、しながわ・目黒こどもスクールのウェブサイトでご確認ください。



おうちで、やろう。

Study at home. 小学校受験の家庭学習教材

数量：複合 4

横に並んだ4つの四角の中の果物のうち、数が一番多いものと一番少ないものの数の違いはいくつですか。
違う数だけ右の四角の中に○をかきます。

				$\bigcirc \times 4$
--	--	--	--	---------------------

				$\bigcirc \times 3$
--	--	--	--	---------------------

				$\bigcirc \times 3$
--	--	--	--	---------------------

				$\bigcirc \times 3$
--	--	--	--	---------------------

※1. このプリントは、しながわ・目黒こどもスクールのウェブサイトからダウンロードができます。無断複写・引用はご遠慮ください。
※2. このプリントを活用したオンライン授業のスケジュールは、しながわ・目黒こどもスクールのウェブサイトでご確認ください。



おうちで、やろう。

Study at home. 小学校受験の家庭学習教材

数量：複合5

横に並んだ4つの四角の中の果物のうち、数が2番目に多いものと2番目に少ないものの数の違いはいくつですか。
違う数だけ右の四角の中に○をかきます。

				$\bigcirc \times 1$
--	--	--	--	---------------------

				$\bigcirc \times 1$
--	--	--	--	---------------------

				$\bigcirc \times 3$
--	--	--	--	---------------------

				$\bigcirc \times 1$
--	--	--	--	---------------------

※1. このプリントは、しながわ・目黒こどもスクールのウェブサイトでダウンロードができます。無断複写・引用はご遠慮ください。
 ※2. このプリントを活用したオンライン授業のスケジュールは、しながわ・目黒こどもスクールのウェブサイトでご確認ください。


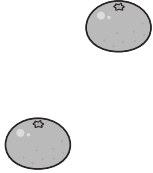

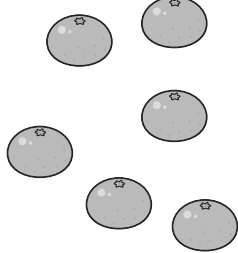


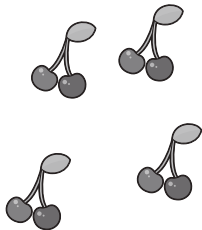
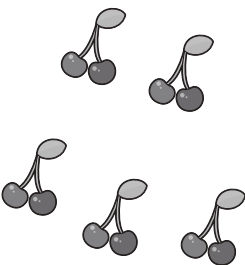
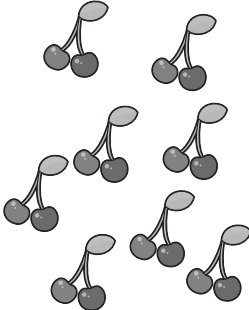
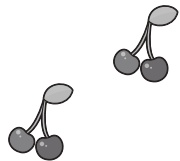
おうちで、やろう。

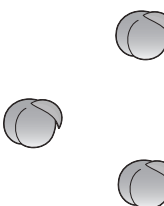
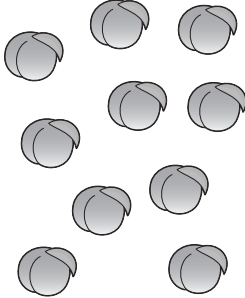
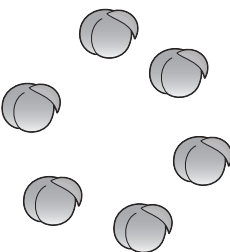
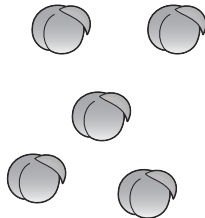
Study at home. 小学校受験の家庭学習教材





数量：複合6

横に並んだ4つの四角の中の果物のうち、数が1番目に多いものと2番目に少ないものの数の違いはいくつですか。
違う数だけ右の四角の中に○をかきます。

				$\bigcirc \times 4$
---	---	---	--	---------------------

				$\bigcirc \times 4$
--	--	--	--	---------------------

				$\bigcirc \times 5$
---	---	---	--	---------------------

				$\bigcirc \times 5$
---	---	---	--	---------------------

※1. このプリントは、しながわ・目黒こどもスクールのウェブサイトでダウンロードができます。無断複写・引用はご遠慮ください。

※2. このプリントを活用したオンライン授業のスケジュールは、しながわ・目黒こどもスクールのウェブサイトでご確認ください。