







えを ひきざんの しきに なおそう。

①  から  とると 




しき

$$3 - 2 = 1$$

②  から  とると 

しき

$$5 - 2 = 3$$

③  から  とると 




しき

$$2 - 1 = 1$$

④  から  とると 

しき




$$4 - 2 = 2$$

⑤  から  とると 

しき




$$5 - 4 = 1$$

えを ひきざんの しきに なおそう。

①  から  とると 




しき

$$8 - 3 = 5$$

②  から  とると 




しき

$$7 - 1 = 6$$

③  から  とると 




しき

$$10 - 2 = 8$$

④  から  とると 

しき

$$6 - 4 = 2$$

⑤  から  とると 

しき

$$8 - 1 = 7$$



えを ひきざんの しきに なおそう。



しき

$$4 - 3 = 1$$




しき

$$3 - 1 = 2$$



しき

$$5 - 3 = 2$$



しき




$$4 - 3 = 1$$



しき




$$5 - 1 = 4$$

えを ひきざんの しきに なおそう。

①  から  とると 




しき

$$7 - 3 = 4$$

②  から  とると 




しき

$$9 - 2 = 7$$

③  から  とると 




しき

$$6 - 1 = 5$$

④  から  とると 

しき

$$10 - 4 = 6$$




⑤  から  とると 

しき

$$8 - 5 = 3$$






えを ひきざんの しきに なおそう。

①  から  とると 

しき

$$7 - 5 = 2$$

②  から  とると 

しき

$$9 - 5 = 4$$

③  から  とると 




しき

$$4 - 1 = 3$$

④  から  とると 

しき

$$3 - 2 = 1$$




⑤  から  とると 

しき

$$10 - 3 = 7$$



えを ひきざんの しきに なおそう。

①  から  とると 




しき

$$9 - 3 = 6$$

②  から  とると 


しき

$$5 - 4 = 1$$

③  から  とると 

しき

$$10 - 5 = 5$$

④  から  とると 

しき


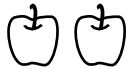

$$8 - 2 = 6$$

⑤  から  とると 

しき




$$3 - 1 = 2$$

□ に あてはまる えを かこう。

①  -  = 

こたえ



②  -  = 



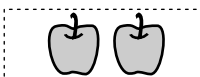
こたえ



③  -  = 


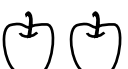

こたえ



④  -  = 

こたえ



⑤  -  = 

こたえ



□ に あてはまる えを かこう。

① - =

こたえ



② - =

こたえ



③ - =

こたえ



④ - =

こたえ



⑤ - =


こたえ






に あてはまる えを かこう。


①  -  = 


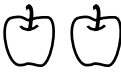
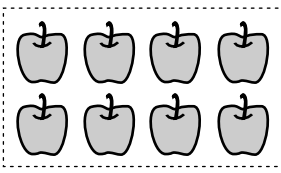
こたえ



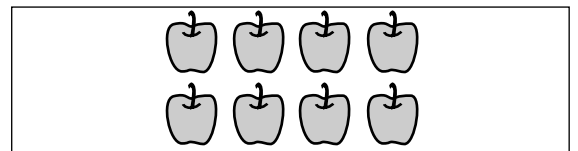
②  -  = 

こたえ




③  -  = 




こたえ



④  -  = 

こたえ



⑤  -  = 

こたえ

