





## ひきざんの しき




のこりは いくつ？




3つの あめから 2つ とりました。  
 のこりは いくつ？ えを かいて かんがえよう。

 から  とると  ?  
 3 - 2 = ?




1つに なるのが わかるかな？

 れいだい のこりは いくつに なるのかな。 ひきざんの しきも かこう。

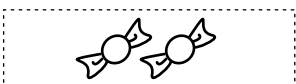


①  から  とると  ?

②  から  とると  ?

 こたえ 1つ  $4 - 3 = 1$




①  から  とると 



1つ  $2 - 1 = 1$

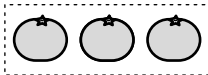


②  から  とると 





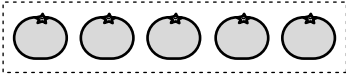
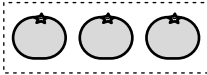

みかんは いくつに なるのかな。ひきざんの しきと こたえを かこう。



①  から  とると 


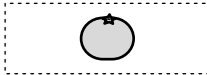

しき  こたえ 



②  から  とると 




しき  こたえ 



③  から  とると 

しき  こたえ 

④  から  とると 

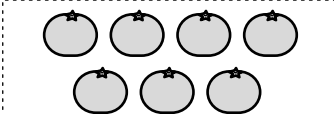
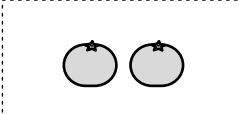

しき  こたえ 

⑤  から  とると 

しき  こたえ 

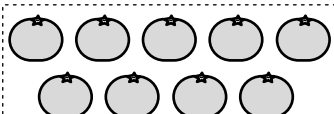
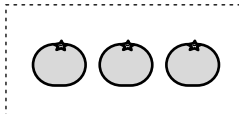



みかんは いくつに なるのかな。ひきざんの しきと こたえを かこう。

①  から  とると 

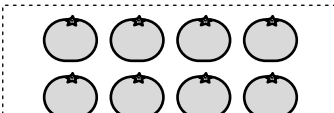
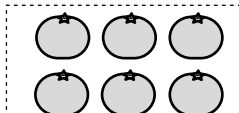

しき

こたえ

②  から  とると 

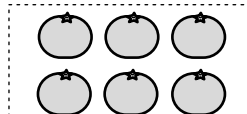
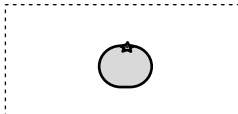

しき

こたえ

③  から  とると 

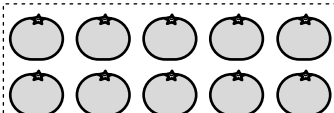
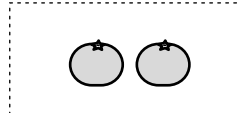

しき

こたえ

④  から  とると 

しき

こたえ

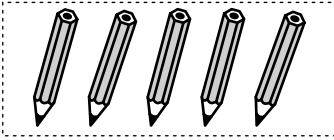

⑤  から  とると 

しき

こたえ

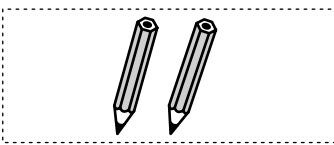



えんぴつは なんぼんに なるのかな。ひきざんの しきと こたえを かこう。

①  から  とると

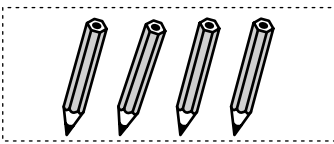

しき

こたえ

②  から  とると

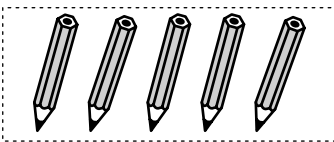
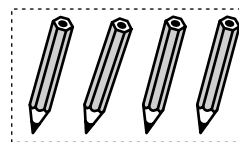
しき

こたえ

③  から  とると

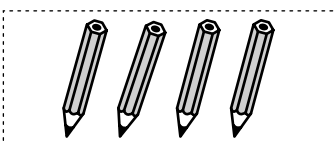
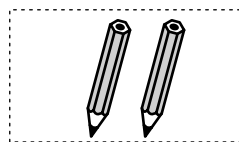
しき

こたえ

④  から  とると

しき

こたえ



⑤  から  とると

しき

こたえ





えんぴつは なんぼんに なるのかな。ひきざんの しきと こたえを かこう。

①  から  とると



しき

こたえ

②  から  とると


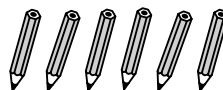
しき

こたえ

③  から  とると

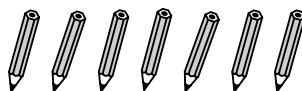

しき

こたえ

④  から  とると

しき

こたえ



⑤  から  とると

しき

こたえ





あめは なんこに なるのかな。ひきざんの しきと こたえを かこう。

①  から  とると



しき

こたえ

②  から  とると



しき

こたえ

③  から  とると



しき

こたえ

④  から  とると

しき

こたえ



⑤  から  とると

しき



こたえ





あめは なんこに なるのかな。ひきざんの しきと こたえを かこう。

①  から  とると



しき       こたえ

②  から  とると



しき       こたえ

③  から  とると

しき       こたえ

④  から  とると


しき       こたえ

⑤  から  とると


しき       こたえ

1 えをみて ひきざんの しきと こたえをかこう。

①



から




たべると なんこ？

しき

こたえ

②



から




にげると なんびき？


しき

こたえ

③



から



かえると なんにん？

しき

こたえ

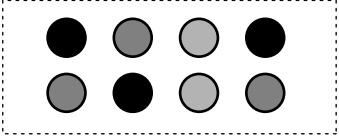
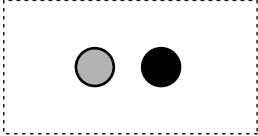
2 7まいのカードから 3まいあげたら のこりは なんまいかな。  
しきと こたえをかこう。

しき

こたえ





1 えをみてひきざんのしきとこたえをかこう。

①  から  あげると なんこ？

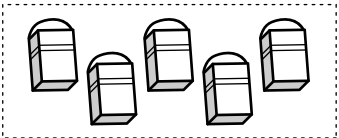
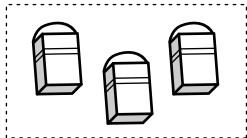
しき

こたえ

②  から  つむと なんぼん？

しき

こたえ

③  から  つかうと なんこ？

しき

こたえ

2 8ぴきのねこが5ひきいなくなったらのこりはなんぴきかな。しきとこたえをかこう。

しき

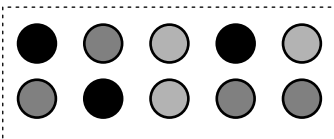
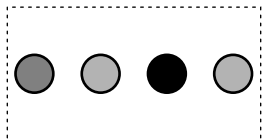
こたえ

1 えをみて ひきざんの しきと こたえを かこう。

①  から  たべると なんこ？

しき

こたえ

②  から  なくすと なんこ？

しき

こたえ

③  から  にげると なんびき？

しき

こたえ

2 6この おはじきから 5こ あげたら のこりは なんこかな。  
しきと こたえを かこう。

しき

こたえ