


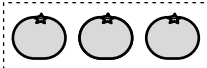
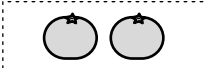
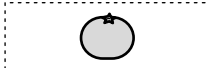





みかんは いくつに なるのかな。ひきざんの しきと こたえを かこう。

①  から  とると 

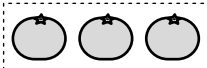
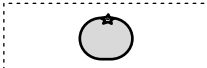
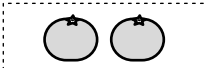
しき $4 - 1 = 3$ こたえ 3つ

②  から  とると 

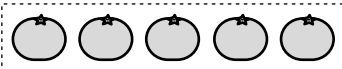
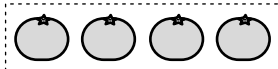
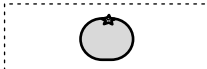
しき $3 - 2 = 1$ こたえ 1つ

③  から  とると 

しき $5 - 3 = 2$ こたえ 2つ

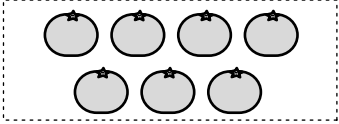
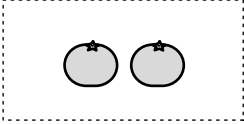
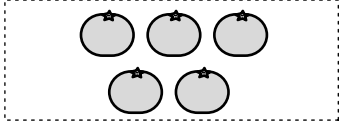
④  から  とると 

しき $3 - 1 = 2$ こたえ 2つ

⑤  から  とると 

しき $5 - 4 = 1$ こたえ 1つ

みかんは いくつに なるのかな。ひきざんの しきと こたえを かこう。

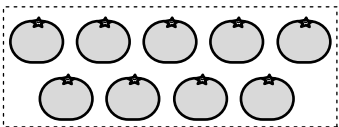
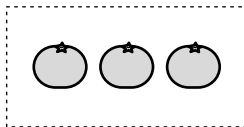
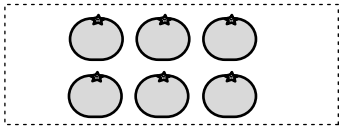
①  から  とると 

しき

$$7 - 2 = 5$$

こたえ

5つ

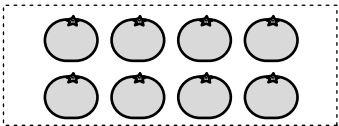
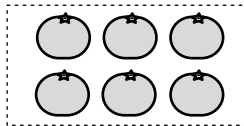
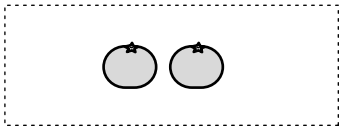
②  から  とると 

しき

$$9 - 3 = 6$$

こたえ

6つ

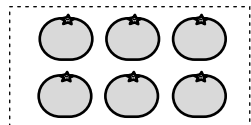
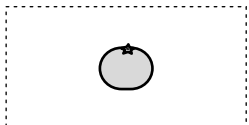
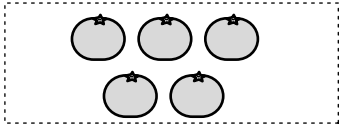
③  から  とると 

しき

$$8 - 6 = 2$$

こたえ

2つ

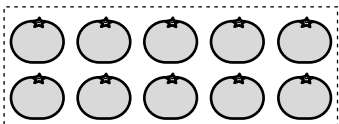
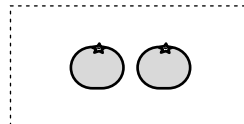
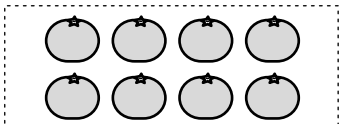
④  から  とると 

しき

$$6 - 1 = 5$$

こたえ

5つ

⑤  から  とると 

しき




$$10 - 2 = 8$$

こたえ

8つ



えんぴつは なんぼんに なるのかな。ひきざんの しきと こたえを かこう。




①  から  とると 

しき

$$5 - 2 = 3$$

こたえ

3ぼん


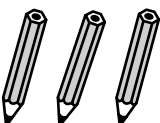

②  から  とると 

しき

$$2 - 1 = 1$$

こたえ

1ぼん


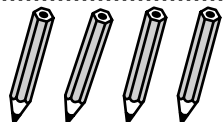

③  から  とると 

しき

$$4 - 3 = 1$$

こたえ

1ぼん

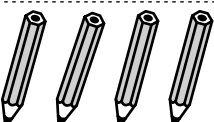
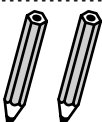
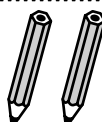
④  から  とると 

しき

$$5 - 4 = 1$$

こたえ

1ぼん

⑤  から  とると 

しき




$$4 - 2 = 2$$

こたえ

2ぼん



えんぴつは なんぼんに なるのかな。ひきざんの しきと こたえを かこう。

①  から  とると 

しき

$$8 - 4 = 4$$

こたえ

4ほん




②  から  とると 

しき

$$9 - 1 = 8$$

こたえ

8ほん


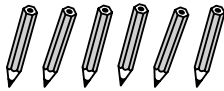
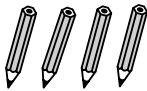
③  から  とると 

しき

$$6 - 5 = 1$$

こたえ

1ほん




④  から  とると 

しき

$$10 - 6 = 4$$

こたえ

4ほん

⑤  から  とると 

しき




$$7 - 4 = 3$$

こたえ

3ほん



あめは なんこに なるのかな。ひきざんの しきと きたえを かこう。




①  から  とると 

しき

$$5 - 2 = 3$$

きたえ

3こ

②  から  とると 

しき

$$7 - 5 = 2$$

きたえ

2こ




③  から  とると 

しき

$$4 - 1 = 3$$

きたえ

3こ




④  から  とると 

しき

$$9 - 8 = 1$$

きたえ

1こ

⑤  から  とると 

しき




$$6 - 4 = 2$$

きたえ

2こ



あめは なんこに なるのかな。ひきざんの しきと こたえを かこう。




①  から  とると 

しき

$$5 - 4 = 1$$

こたえ

1こ




②  から  とると 

しき

$$8 - 3 = 5$$

こたえ

5こ




③  から  とると 

しき

$$10 - 7 = 3$$

こたえ

3こ




④  から  とると 

しき

$$3 - 1 = 2$$

こたえ

2こ

⑤  から  とると 

しき


$$6 - 2 = 4$$

こたえ


4こ

1 えをみて ひきざんの しきと こたえをかこう。

①



から



たべると なんこ？


しき

$$6 - 3 = 3$$

こたえ

3こ

②



から



にげると なんびき？


しき

$$5 - 1 = 4$$


こたえ

4ひき

③



から



かえると なんにん？

しき

$$3 - 2 = 1$$

こたえ

ひとり

2 7まいのカードから 3まいあげたら のこりは なんまいかな。
しきと こたえをかこう。

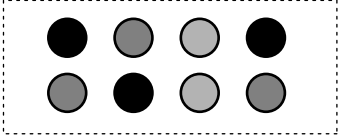
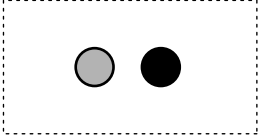
しき

$$7 - 3 = 4$$

こたえ

4まい

1 えをみて ひきざんの しきと こたえをかこう。



①  から  あげると なんこ？

しき

$$8 - 2 = 6$$

こたえ

6こ

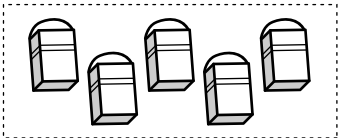
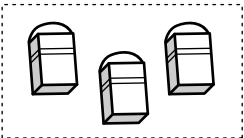
②  から  つむと なんぼん？

しき

$$6 - 4 = 2$$

こたえ

2ほん

③  から  つかうと なんこ？

しき

$$5 - 3 = 2$$

こたえ

2こ

2 8ぴきのねこが 5ひき いなくなったら のこりは なんびきかな。しきと こたえをかこう。



しき

$$8 - 5 = 3$$

こたえ

3びき

1 えをみて ひきざんの しきと こたえを かこう。

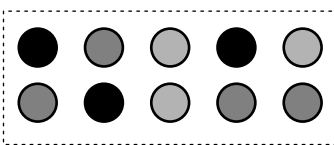
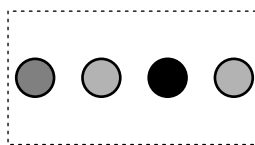
①  から  たべると なんこ？

しき

$$9 - 5 = 4$$

こたえ

4こ

②  から  なくすと なんこ？

しき

$$10 - 4 = 6$$

こたえ

6こ

③  から  にげると なんびき？

しき

$$4 - 2 = 2$$

こたえ

2ひき

2 6この おはじきから 5こ あげたら のこりは なんこかな。
しきと こたえを かこう。

しき

$$6 - 5 = 1$$

こたえ

1こ