
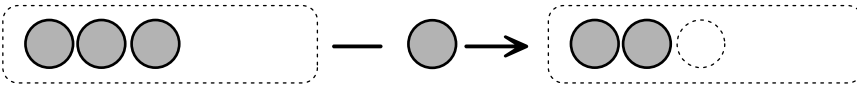




1のひきざん

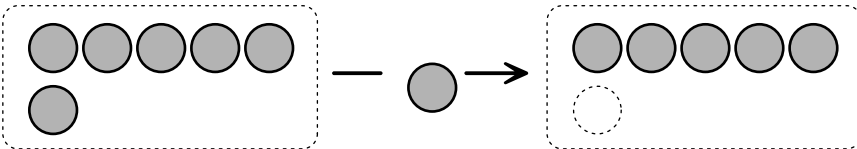
1をひいてみよう。

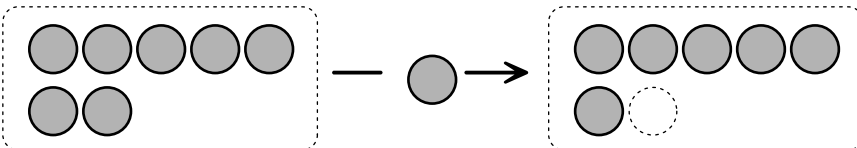

 $2 - 1 = 1$

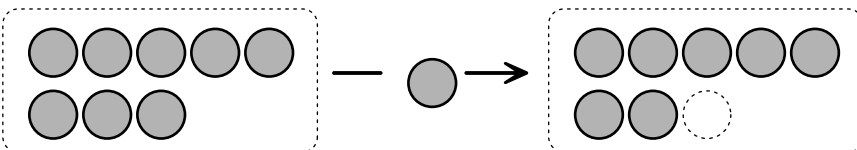

 $3 - 1 = 2$

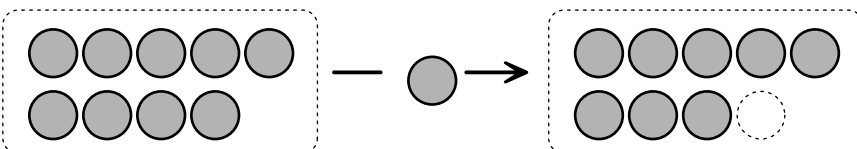

 $4 - 1 = 3$

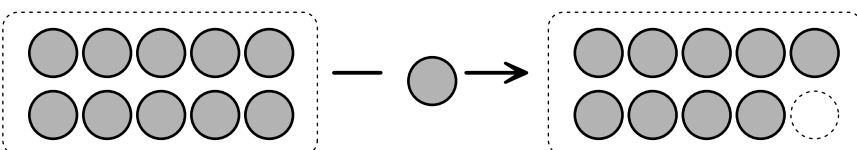

 $5 - 1 = 4$


 $6 - 1 = 5$


 $7 - 1 = 6$


 $8 - 1 = 7$


 $9 - 1 = 8$


 $10 - 1 = 9$

1のひきざん

れいだい ひきざんを しよう。

① $2 - 1 =$

② $3 - 1 =$

③ $4 - 1 =$

④ $5 - 1 =$

⑤ $6 - 1 =$

⑥ $7 - 1 =$

⑦ $8 - 1 =$

⑧ $9 - 1 =$

⑨ $10 - 1 =$

こたえ

① $2 - 1 = 1$

② $3 - 1 = 2$

③ $4 - 1 = 3$

④ $5 - 1 = 4$

⑤ $6 - 1 = 5$


⑥ $7 - 1 = 6$

⑦ $8 - 1 = 7$

⑧ $9 - 1 = 8$

⑨ $10 - 1 = 9$

ひきざんは わかったかな？





ひきざんを しよう。

$① \quad 2 - 1 =$

$② \quad 3 - 1 =$

$③ \quad 4 - 1 =$

$④ \quad 5 - 1 =$

$⑤ \quad 6 - 1 =$

$⑥ \quad 7 - 1 =$

$⑦ \quad 8 - 1 =$

$⑧ \quad 9 - 1 =$

$⑨ \quad 10 - 1 =$



ひきざんを しよう。

$① \quad 2 - 1 =$

$② \quad 9 - 1 =$

$③ \quad 3 - 1 =$

$④ \quad 5 - 1 =$

$⑤ \quad 10 - 1 =$

$⑥ \quad 6 - 1 =$

$⑦ \quad 8 - 1 =$

$⑧ \quad 7 - 1 =$

$⑨ \quad 4 - 1 =$



ひきざんを しよう。

$① \quad 2 - 1 =$

$② \quad 3 - 1 =$

$③ \quad 4 - 1 =$

$④ \quad 5 - 1 =$

$⑤ \quad 6 - 1 =$

$⑥ \quad 7 - 1 =$

$⑦ \quad 8 - 1 =$

$⑧ \quad 9 - 1 =$

$⑨ \quad 10 - 1 =$



ひきざんを しよう。

① $7 - 1 =$

② $10 - 1 =$

③ $4 - 1 =$

④ $8 - 1 =$

⑤ $2 - 1 =$

⑥ $9 - 1 =$

⑦ $6 - 1 =$

⑧ $5 - 1 =$

⑨ $3 - 1 =$



ひきざんを しよう。

$① \quad 8 - 1 =$

$② \quad 3 - 1 =$

$③ \quad 4 - 1 =$

$④ \quad 10 - 1 =$

$⑤ \quad 2 - 1 =$

$⑥ \quad 6 - 1 =$

$⑦ \quad 7 - 1 =$

$⑧ \quad 5 - 1 =$

$⑨ \quad 9 - 1 =$



ひきざんを しよう。

$① 10 - 1 =$

$② 2 - 1 =$

$③ 3 - 1 =$

$④ 8 - 1 =$

$⑤ 4 - 1 =$

$⑥ 6 - 1 =$

$⑦ 9 - 1 =$

$⑧ 7 - 1 =$

$⑨ 5 - 1 =$

1 ひきざんを しよう。

① $3 - 1 =$

② $2 - 1 =$

③ $10 - 1 =$

④ $5 - 1 =$

⑤ $6 - 1 =$

⑥ $4 - 1 =$

2 えをみて ひきざんの しきと こたえを かこう。

①



から

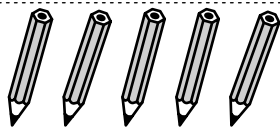


たべると なんこ？

しき

こたえ

②



から



あげると なんぼん？

しき

こたえ

1 ひきざんを しよう。

① $10 - 1 =$

② $7 - 1 =$

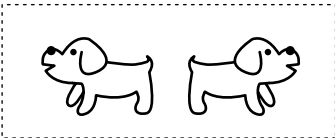

③ $6 - 1 =$

④ $4 - 1 =$

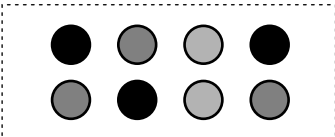

⑤ $8 - 1 =$

⑥ $5 - 1 =$

2 えをみて ひきざんの しきと こたえを かこう。

①  から  にげると なんびき?

しき こたえ

②  から  あげると なんこ?

しき こたえ

1 ひきざんを しよう。

① $4 - 1 =$

② $3 - 1 =$



③ $8 - 1 =$

④ $6 - 1 =$

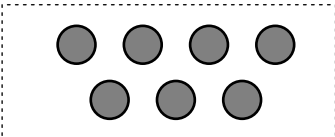
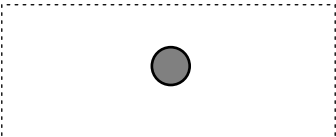
⑤ $2 - 1 =$

⑥ $9 - 1 =$

2 えをみて ひきざんの しきと こたえを かこう。

①  から  つむと なんぼん？

しき こたえ

②  から  おとすと なんこ？

しき こたえ