

こたえ

① $2 - 1 =$

1

② $3 - 1 =$

2

③ $4 - 1 =$

3

④ $5 - 1 =$

4

⑤ $6 - 1 =$

5

⑥ $7 - 1 =$

6

⑦ $8 - 1 =$

7

⑧ $9 - 1 =$

8

⑨ $10 - 1 =$

9

こたえ

① $2 - 1 =$

1

② $9 - 1 =$

8

③ $3 - 1 =$

2

④ $5 - 1 =$

4

⑤ $10 - 1 =$

9

⑥ $6 - 1 =$

5

⑦ $8 - 1 =$

7

⑧ $7 - 1 =$

6

⑨ $4 - 1 =$

3



こたえ

① $2 - 1 =$

1

② $3 - 1 =$

2

③ $4 - 1 =$

3

④ $5 - 1 =$

4

⑤ $6 - 1 =$

5

⑥ $7 - 1 =$

6

⑦ $8 - 1 =$

7

⑧ $9 - 1 =$

8

⑨ $10 - 1 =$

9



こたえ

① $7 - 1 =$

6

② $10 - 1 =$

9

③ $4 - 1 =$

3

④ $8 - 1 =$

7

⑤ $2 - 1 =$

1

⑥ $9 - 1 =$

8

⑦ $6 - 1 =$

5

⑧ $5 - 1 =$

4

⑨ $3 - 1 =$

2



こたえ

① $8 - 1 =$

7

② $3 - 1 =$

2

③ $4 - 1 =$

3

④ $10 - 1 =$

9

⑤ $2 - 1 =$

1

⑥ $6 - 1 =$

5

⑦ $7 - 1 =$

6

⑧ $5 - 1 =$

4

⑨ $9 - 1 =$

8



こたえ

① $10 - 1 =$

9

② $2 - 1 =$

1

③ $3 - 1 =$

2

④ $8 - 1 =$

7

⑤ $4 - 1 =$

3

⑥ $6 - 1 =$

5

⑦ $9 - 1 =$

8

⑧ $7 - 1 =$

6

⑨ $5 - 1 =$

4

1 こたえ

① $3 - 1 =$

2

② $2 - 1 =$

1

③ $10 - 1 =$

9

④ $5 - 1 =$

4

⑤ $6 - 1 =$

5

⑥ $4 - 1 =$

3

2 えをみてひきざんのしきとこたえをかこう。

①



から



たべるとなんこ？

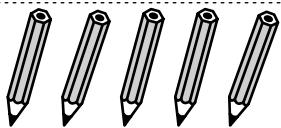
しき

$3 - 1 = 2$

こたえ

2こ

②



から



あげるとなんぼん？

しき

$5 - 1 = 4$

こたえ

4ぼん

1 こたえ

① $10 - 1 =$

9

② $7 - 1 =$

6

③ $6 - 1 =$

5

④ $4 - 1 =$

3

⑤ $8 - 1 =$

7

⑥ $5 - 1 =$

4

2 えをみて ひきざんの しきと こたえをかこう。

①



から



にげると なんびき？


しき

$2 - 1 = 1$

こたえ

1びき

②



から



あげると なんこ？

しき

$8 - 1 = 7$

こたえ

7こ

1 こたえ

① $4 - 1 =$

3

② $3 - 1 =$

2

③ $8 - 1 =$

7

④ $6 - 1 =$

5

⑤ $2 - 1 =$


1

⑥ $9 - 1 =$

8

2 えをみて ひきざんの しきと こたえをかこう。

①



から



つむと なんぼん?

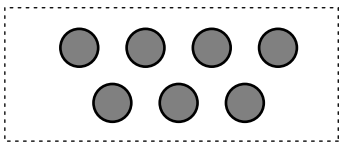
しき

$4 - 1 = 3$

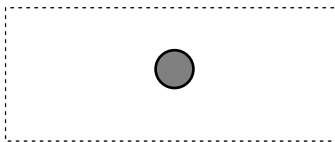
こたえ

3ぼん

②



から



おとすと なんこ?

しき

$7 - 1 = 6$

こたえ

6こ