



おうちで、やろう。 年中児版

Study at home. 小学校受験の家庭学習教材

言語：しりとり7

左から右までしりとりでつなげます。途中2つある場所はどちらを選ばよいかを考えて正しい絵に○をつけましょう。

目黒

しりとり

目黒

※1. このプリントは、しながわ・目黒こどもスクールのウェブサイトでダウンロードができます。無断複写・引用はご遠慮ください。

※2. このプリントを活用したオンライン授業のスケジュールは、しながわ・目黒こどもスクールのウェブサイトでご確認ください。







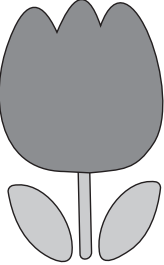




おうちで、やろう。 年中児版

Study at home. 小学校受験の家庭学習教材

指示の聞き取り7

- ①～③の話を読み、どの動物の話をしているのか考えましょう。
- ①チューリップの左隣にいる動物に○をつけましょう。
 - ②チューリップの一つ下の段の一番左の動物に×をつけましょう。
 - ③ハチの一つ下の段の左から二番目の動物に△をつけましょう。
 - ④ハチのいる段の一番右の動物に□をつけましょう。

※1. このプリントは、しながわ・目黒こどもスクールのウェブサイトでダウンロードができます。無断複写・引用はご遠慮ください。
 ※2. このプリントを活用したオンライン授業のスケジュールは、しながわ・目黒こどもスクールのウェブサイトでご確認ください。



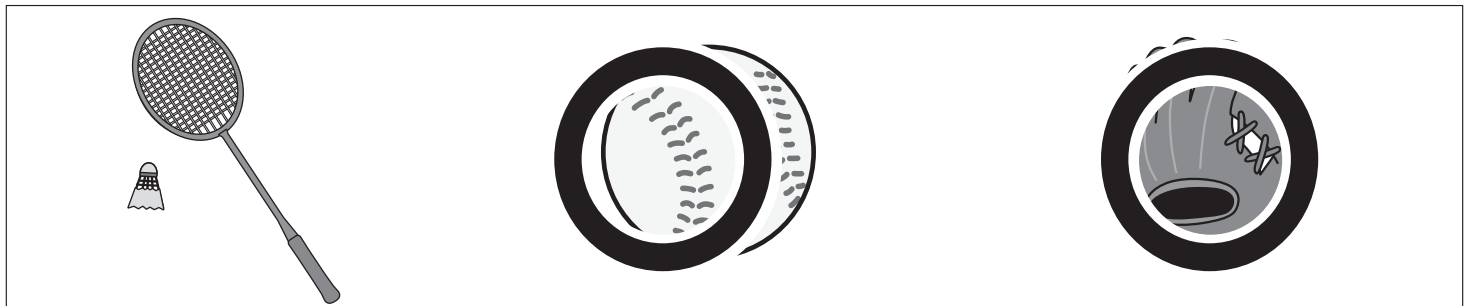

おうちで、やろう。 年中児版

Study at home. 小学校受験の家庭学習教材

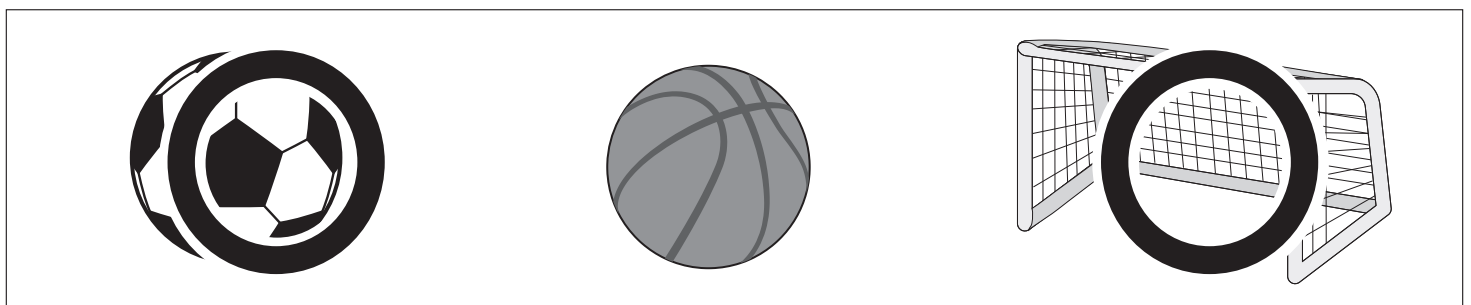
常識：スポーツ2

上の四角の中のスポーツをするときに使うものをすべて見つけて○をつけましょう。

①



②



※1. このプリントは、しながわ・目黒こどもスクールのウェブサイトでダウンロードができます。無断複写・引用はご遠慮ください。
※2. このプリントを活用したオンライン授業のスケジュールは、しながわ・目黒こどもスクールのウェブサイトでご確認ください。

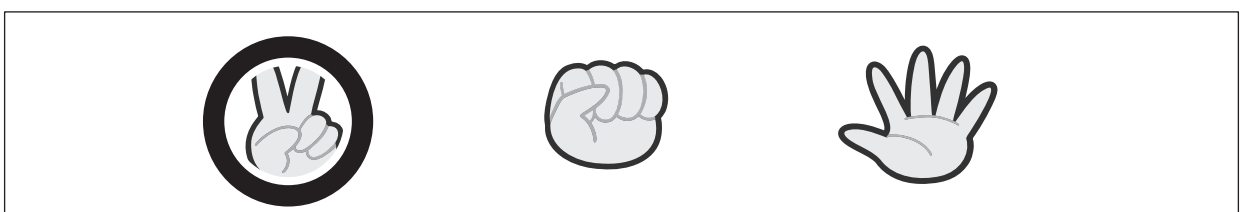
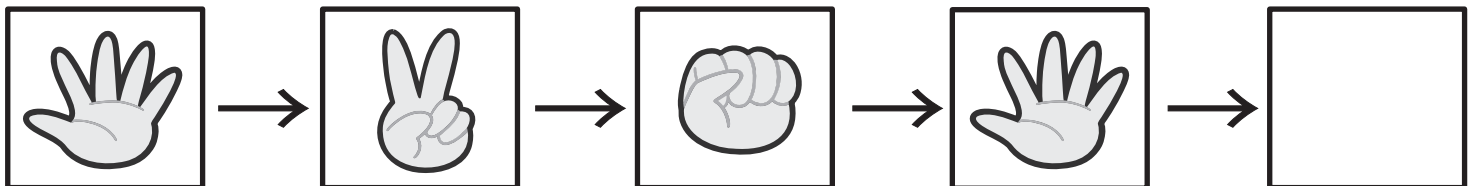







おうちで、やろう。 年中児版

Study at home. 小学校受験の家庭学習教材

推理：系列完成2

それぞれの太い四角の中に、絵が矢印の順番にある決まりに並んでいます。空いている四角に入るものを下の四角から選んで○を書きましょう。



※1. このプリントは、しながわ・目黒こどもスクールのウェブサイトからダウンロードできます。無断複写・引用はご遠慮ください。
※2. このプリントを活用したオンライン授業のスケジュールは、しながわ・目黒こどもスクールのウェブサイトでご確認ください。



おうちで、やろう。 年中児版

Study at home. 小学校受験の家庭学習教材

推理：重ね3

白・黒・灰色の四角が重なっています。白の四角が1番上にあるものをすべて見つけて、○をつけます。

※1. このプリントは、しながわ・目黒こどもスクールのウェブサイトでダウンロードができます。無断複写・引用はご遠慮ください。
 ※2. このプリントを活用したオンライン授業のスケジュールは、しながわ・目黒こどもスクールのウェブサイトでご確認ください。







おうちで、やろう。 年中児版

Study at home. 小学校受験の家庭学習教材

図形：同図形 8

左の四角の中の絵がお手本です。お手本と同じ絵を右の3つの中から選び、○をつけましょう。



※1. このプリントは、しながわ・目黒こどもスクールのウェブサイトでダウンロードができます。無断複写・引用はご遠慮ください。

※2. このプリントを活用したオンライン授業のスケジュールは、しながわ・目黒こどもスクールのウェブサイトでご確認ください。




おうちで、やろう。 年中児版

Study at home. 小学校受験の家庭学習教材

数量：加減5


- ①女の子が手に持っている花は合わせていくつありますか。その数だけ、下の四角に○をかきます。
- ②咲いている花は何本ありますか。その数だけ、下の四角に○をかきます。
- ③咲いている花と手に持っている花は合わせていくつありますか。その数だけ、下の四角に○をかきます。

①




○×2

②



○×8

③





○×12

※1. このプリントは、しながわ・目黒こどもスクールのウェブサイトからダウンロードができます。無断複写・引用はご遠慮ください。

※2. このプリントを活用したオンライン授業のスケジュールは、しながわ・目黒こどもスクールのウェブサイトでご確認ください。



上下の絵を見比べて、変わっているところを4つ探します。見つけたら、下の絵の変わっている部分に○をつけます。



※1. このプリントは、しながわ・目黒こどもスクールのウェブサイトからダウンロードできます。無断複写・引用はご遠慮ください。
※2. このプリントを活用したオンライン授業のスケジュールは、しながわ・目黒こどもスクールのウェブサイトでご確認ください。

