

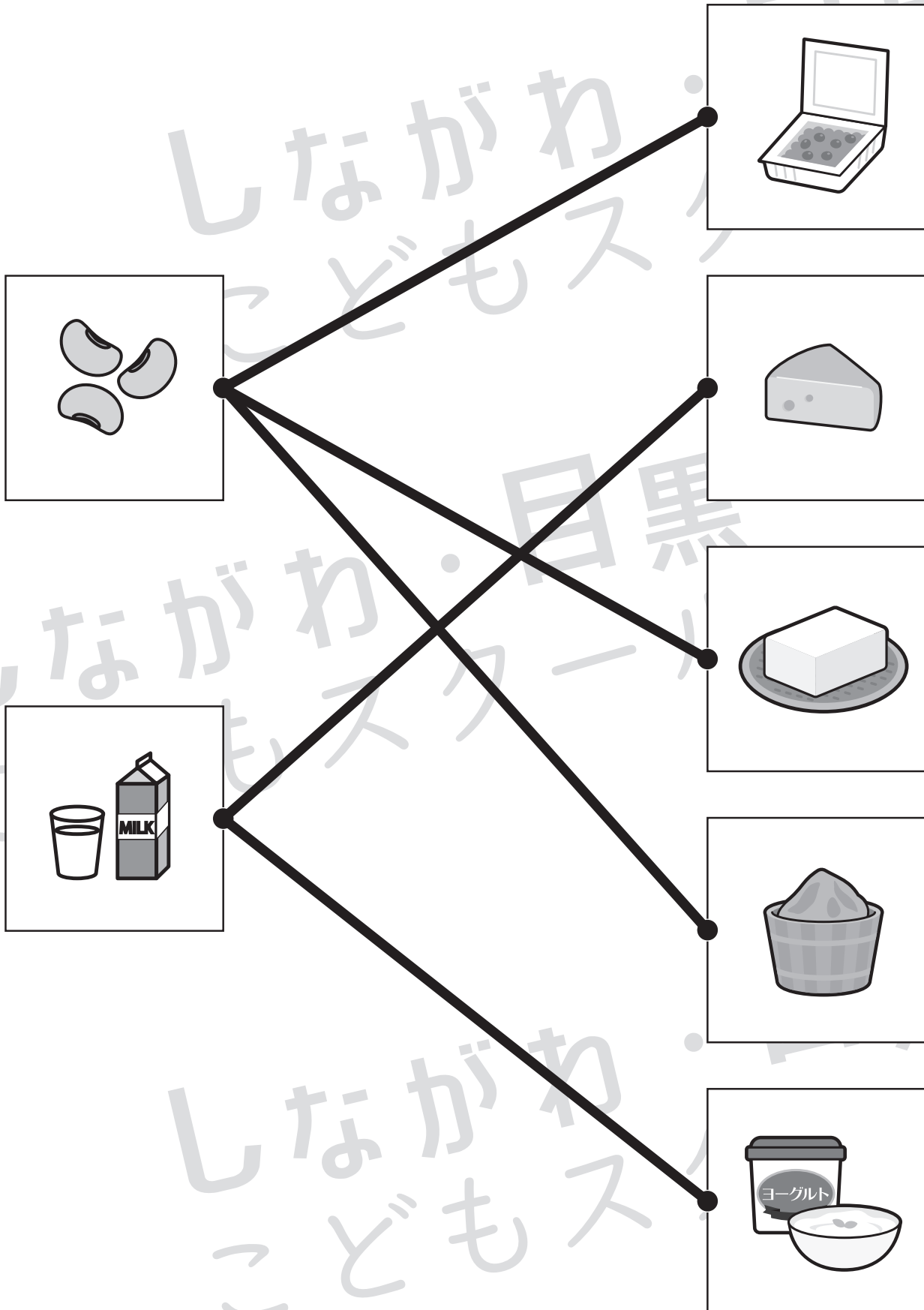


おうちで、やろう。

Study at home. 小学校受験の家庭学習教材

常識：生活3

左の大豆と牛乳からできるものを右の中から選んで点と点を線で結びます。



※ 1. このプリントは、しながわ・目黒こどもスクールのウェブサイトからダウンロードができます。無断複写・引用はご遠慮ください。

※ 2. このプリントを活用したオンライン授業のスケジュールは、しながわ・目黒こどもスクールのウェブサイトでご確認ください。

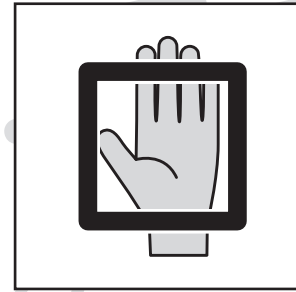




おうちで、やろう。

Study at home. 小学校受験の家庭学習教材

常識：生活4

下の四角の中の食べ物を食べる時に使う道具を考えます。箸で食べるものには○、スプーン・フォーク・ナイフで食べるものには△、手で食べるものには□をつけます。



※1. このプリントは、しながわ・目黒こどもスクールのウェブサイトからダウンロードできます。無断複写・引用はご遠慮ください。

※2. このプリントを活用したオンライン授業のスケジュールは、しながわ・目黒こどもスクールのウェブサイトでご確認ください。



おうちで、やろう。



Study at home. 小学校受験の家庭学習教材

常識：昔あそび1

昔あそびをあつめました。

①お手玉で遊んでいる絵に○をつけます。 ②竹とんぼで遊んでいる絵に△をつけます。

③竹馬で遊んでいる絵に口をつけます。 ④めんこで遊んでいる絵に×をつけます。



※ 1. このプリントは、しながわ・目黒こどもスクールのウェブサイトでダウンロードができます。無断複写・引用はご遠慮ください。

※ 2. このプリントを活用したオンライン授業のスケジュールは、しながわ・目黒こどもスクールのウェブサイトでご確認ください。





おうちで、やろう。

Study at home. 小学校受験の家庭学習教材

図形：鏡 19

左の太い四角の中の形を鏡に映したときの見え方を考えます。正しいものを右の四角の中から選んで○をつけます。

<table border="1"> <tr><td>○</td><td>●</td></tr> <tr><td>●</td><td>○</td></tr> </table>	○	●	●	○	<table border="1"> <tr><td>●</td><td>○</td></tr> <tr><td>●</td><td>○</td></tr> </table>	●	○	●	○	<table border="1"> <tr><td>○</td><td>●</td></tr> <tr><td>●</td><td>○</td></tr> </table>	○	●	●	○	<table border="1"> <tr><td>●</td><td>●</td></tr> <tr><td>○</td><td>●</td></tr> </table>	●	●	○	●	<table border="1"> <tr><td>○</td><td>○</td></tr> <tr><td>○</td><td>○</td></tr> </table>	○	○	○	○
○	●																							
●	○																							
●	○																							
●	○																							
○	●																							
●	○																							
●	●																							
○	●																							
○	○																							
○	○																							

<table border="1"> <tr><td>○</td><td>■</td></tr> <tr><td>□</td><td>●</td></tr> </table>	○	■	□	●	<table border="1"> <tr><td>□</td><td>○</td></tr> <tr><td>●</td><td>■</td></tr> </table>	□	○	●	■	<table border="1"> <tr><td>○</td><td>○</td></tr> <tr><td>○</td><td>○</td></tr> </table>	○	○	○	○	<table border="1"> <tr><td>■</td><td>□</td></tr> <tr><td>●</td><td>○</td></tr> </table>	■	□	●	○	<table border="1"> <tr><td>○</td><td>■</td></tr> <tr><td>□</td><td>●</td></tr> </table>	○	■	□	●
○	■																							
□	●																							
□	○																							
●	■																							
○	○																							
○	○																							
■	□																							
●	○																							
○	■																							
□	●																							

<table border="1"> <tr><td>●</td><td>□</td></tr> <tr><td>△</td><td>○</td></tr> </table>	●	□	△	○	<table border="1"> <tr><td>○</td><td>○</td></tr> <tr><td>○</td><td>○</td></tr> </table>	○	○	○	○	<table border="1"> <tr><td>□</td><td>●</td></tr> <tr><td>○</td><td>△</td></tr> </table>	□	●	○	△	<table border="1"> <tr><td>■</td><td>○</td></tr> <tr><td>○</td><td>△</td></tr> </table>	■	○	○	△	<table border="1"> <tr><td>□</td><td>●</td></tr> <tr><td>△</td><td>○</td></tr> </table>	□	●	△	○
●	□																							
△	○																							
○	○																							
○	○																							
□	●																							
○	△																							
■	○																							
○	△																							
□	●																							
△	○																							

<table border="1"> <tr><td>△</td><td>○</td></tr> <tr><td>●</td><td>○</td></tr> </table>	△	○	●	○	<table border="1"> <tr><td>○</td><td>△</td></tr> <tr><td>○</td><td>●</td></tr> </table>	○	△	○	●	<table border="1"> <tr><td>○</td><td>△</td></tr> <tr><td>●</td><td>○</td></tr> </table>	○	△	●	○	<table border="1"> <tr><td>○</td><td>○</td></tr> <tr><td>○</td><td>○</td></tr> </table>	○	○	○	○	<table border="1"> <tr><td>△</td><td>○</td></tr> <tr><td>●</td><td>○</td></tr> </table>	△	○	●	○
△	○																							
●	○																							
○	△																							
○	●																							
○	△																							
●	○																							
○	○																							
○	○																							
△	○																							
●	○																							

<table border="1"> <tr><td>○</td><td>▲</td></tr> <tr><td>○</td><td>△</td></tr> </table>	○	▲	○	△	<table border="1"> <tr><td>▲</td><td>○</td></tr> <tr><td>△</td><td>○</td></tr> </table>	▲	○	△	○	<table border="1"> <tr><td>○</td><td>○</td></tr> <tr><td>○</td><td>○</td></tr> </table>	○	○	○	○	<table border="1"> <tr><td>▲</td><td>○</td></tr> <tr><td>△</td><td>●</td></tr> </table>	▲	○	△	●	<table border="1"> <tr><td>○</td><td>▲</td></tr> <tr><td>○</td><td>△</td></tr> </table>	○	▲	○	△
○	▲																							
○	△																							
▲	○																							
△	○																							
○	○																							
○	○																							
▲	○																							
△	●																							
○	▲																							
○	△																							

※ 1. このプリントは、しながわ・目黒こどもスクールのウェブサイトでダウンロードができます。無断複写・引用はご遠慮ください。
 ※ 2. このプリントを活用したオンライン授業のスケジュールは、しながわ・目黒こどもスクールのウェブサイトでご確認ください。



おうちで、やろう。

Study at home. 小学校受験の家庭学習教材

図形：鏡 20

左の太い四角の中の形を鏡に映したときの見え方を考えます。正しいものを右の四角の中から選んで○をつけます。

--	--	--	--	--	--

--	--	--	--	--	--

--	--	--	--	--	--

--	--	--	--	--	--

--	--	--	--	--	--

※ 1. このプリントは、しながわ・目黒こどもスクールのウェブサイトでダウンロードができます。無断複写・引用はご遠慮ください。
 ※ 2. このプリントを活用したオンライン授業のスケジュールは、しながわ・目黒こどもスクールのウェブサイトでご確認ください。



おうちで、やろう。

Study at home. 小学校受験の家庭学習教材

図形：鏡21

左の太い四角の中の形を鏡に映したときの見え方を考えます。正しいものを右の四角の中から選んで○をつけます。

--	--	--	--	--

--	--	--	--	--

--	--	--	--	--

--	--	--	--	--

--	--	--	--	--

※ 1. このプリントは、しながわ・目黒こどもスクールのウェブサイトでダウンロードができます。無断複写・引用はご遠慮ください。
 ※ 2. このプリントを活用したオンライン授業のスケジュールは、しながわ・目黒こどもスクールのウェブサイトでご確認ください。

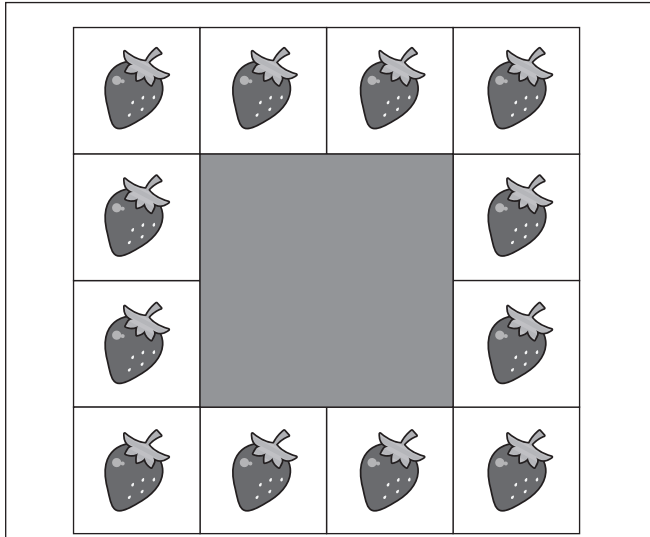


おうちで、やろう。


Study at home. 小学校受験の家庭学習教材

推理：かくれた数7

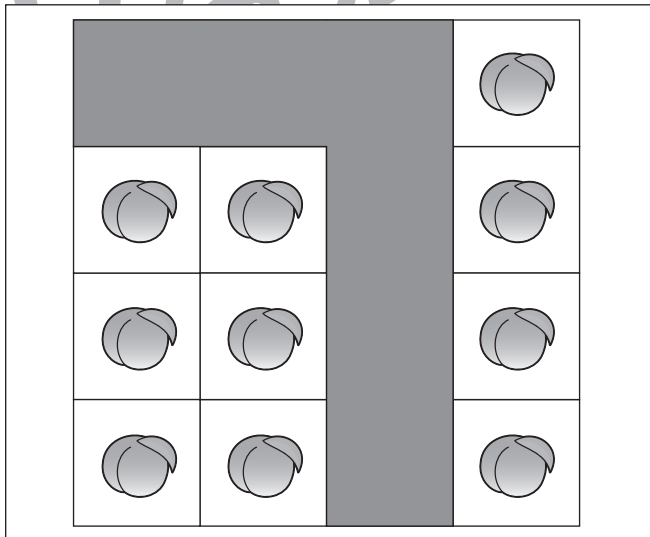
それぞれの四角の中のマスには同じ果物があります。灰色で隠れている場所に果物がいくつあるのかを考えて、その数だけ下の太い四角の中に○をかきます。



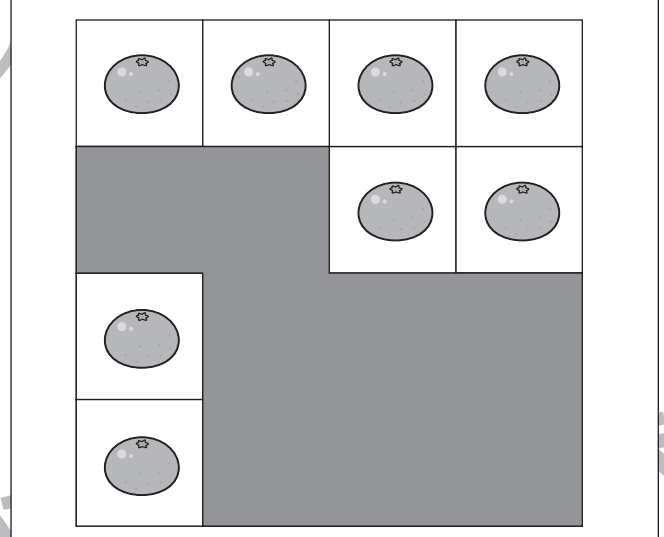
○ × 4



○ × 6



○ × 6



○ × 8

※ 1. このプリントは、しながわ・目黒こどもスクールのウェブサイトからダウンロードできます。無断複写・引用はご遠慮ください。
 ※ 2. このプリントを活用したオンライン授業のスケジュールは、しながわ・目黒こどもスクールのウェブサイトでご確認ください。

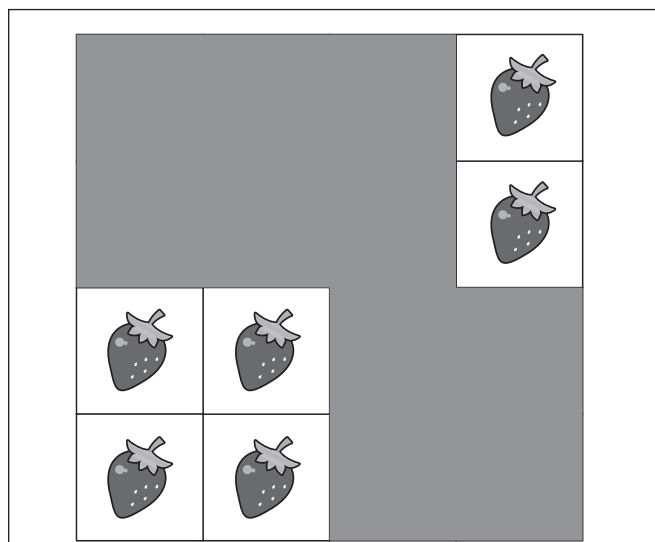


おうちで、やろう。

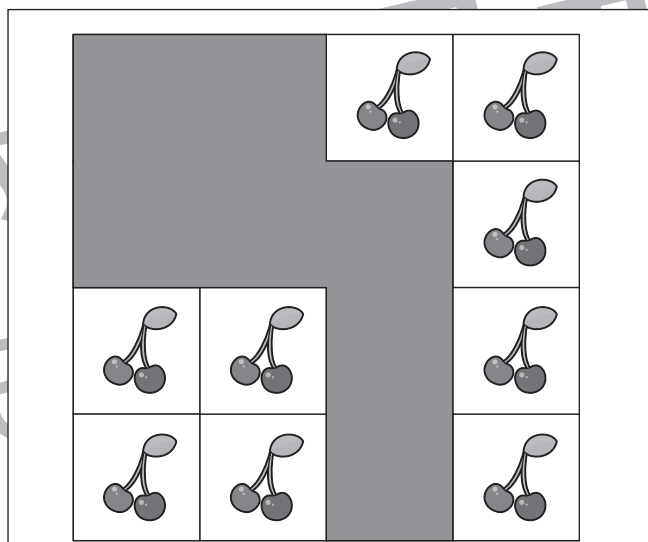
Study at home. 小学校受験の家庭学習教材

推理：かくれた数8

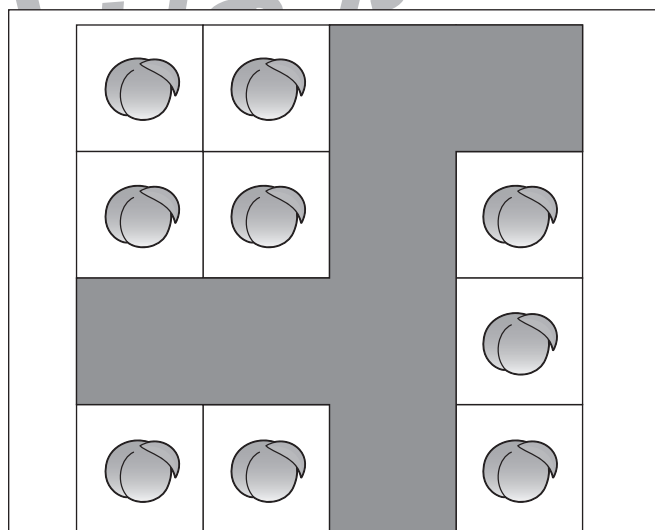
それぞれの四角の中のマスには同じ果物があります。灰色で隠れている場所に果物がいくつあるのかを考えて、その数だけ下の太い四角の中に○をかきます。



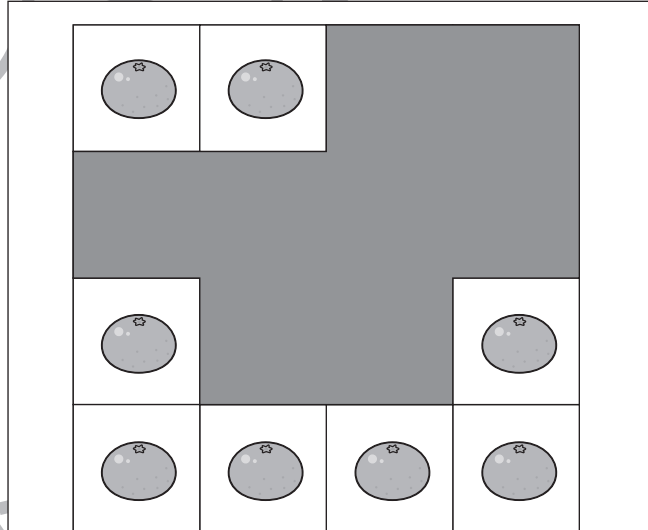
$$\bigcirc \times 10$$



$$\bigcirc \times 7$$



$$\bigcirc \times 7$$



$$\bigcirc \times 8$$

※ 1. このプリントは、しながわ・目黒こどもスクールのウェブサイトからダウンロードできます。無断複写・引用はご遠慮ください。
※ 2. このプリントを活用したオンライン授業のスケジュールは、しながわ・目黒こどもスクールのウェブサイトでご確認ください。

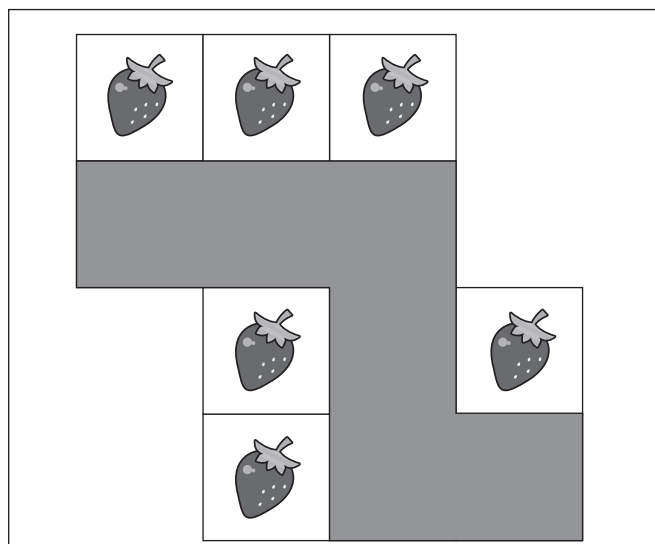


おうちで、やろう。

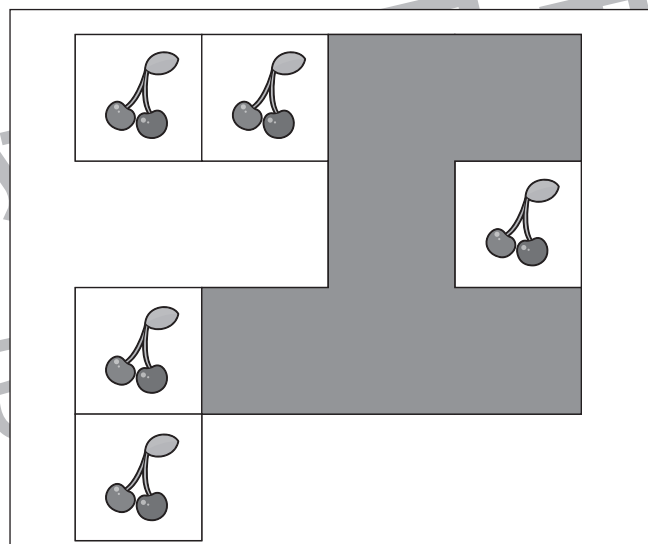
Study at home. 小学校受験の家庭学習教材

推理：かくれた数9

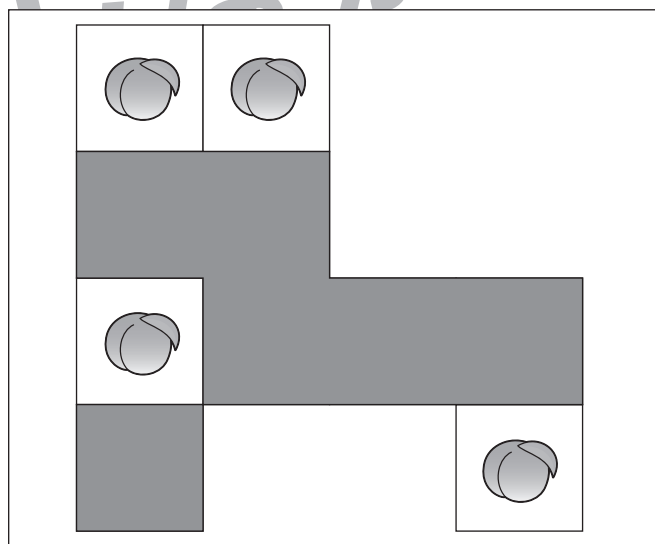
それぞれの四角の中のマスには同じ果物があります。灰色で隠れている場所に果物がいくつあるのかを考えて、その数だけ下の太い四角の中に○をかきます。



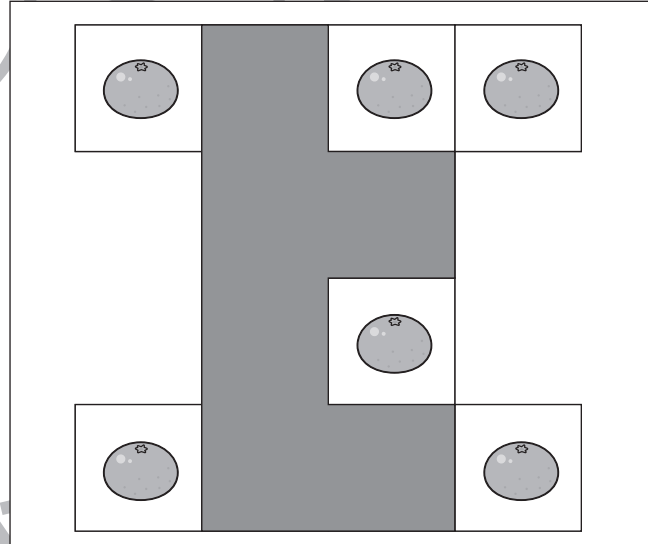
○ × 6



○ × 6



○ × 6



○ × 6

※ 1. このプリントは、しながわ・目黒こどもスクールのウェブサイトからダウンロードできます。無断複写・引用はご遠慮ください。
※ 2. このプリントを活用したオンライン授業のスケジュールは、しながわ・目黒こどもスクールのウェブサイトでご確認ください。

