

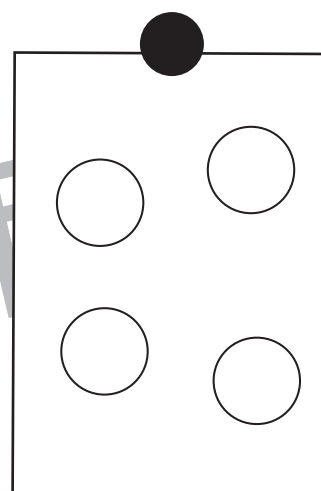

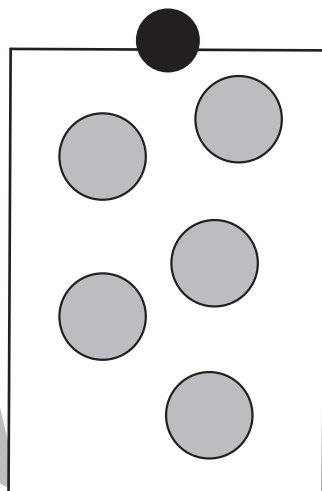
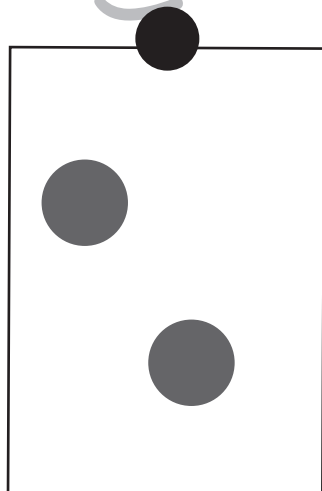


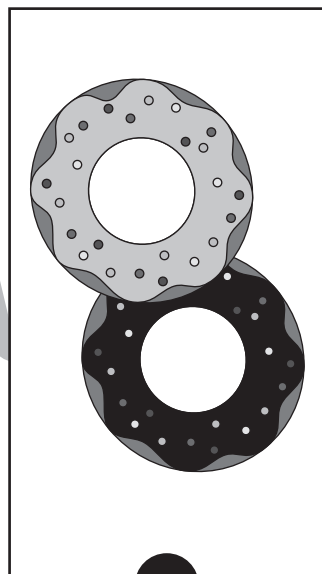



# おうちで、やろう。 年中児版


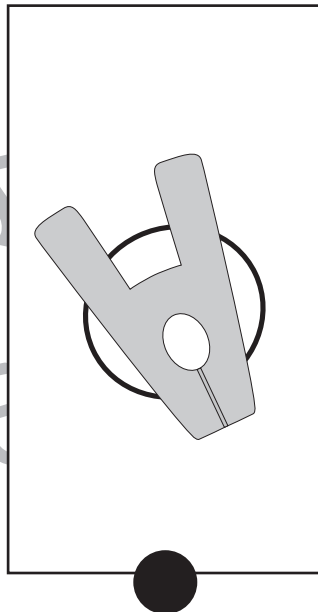


Study at home. 小学校受験の家庭学習教材

## 言語：音の理解7


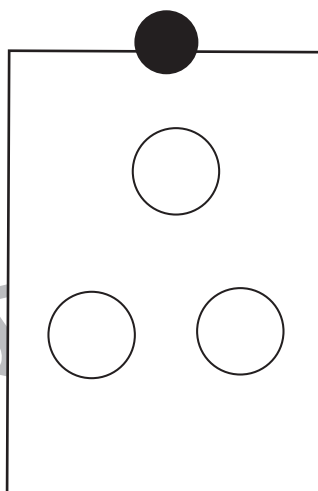

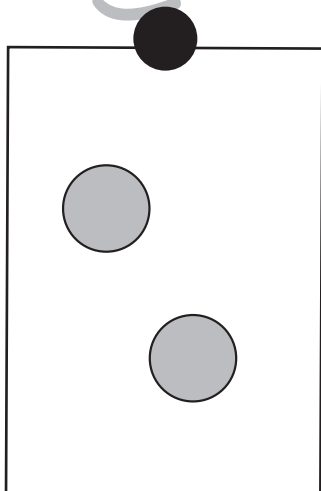
上の四角の中の絵の音の数と同じ数の丸を下の四角から選んで、点と点を線で結びましょう。



※1. このプリントは、しながわ・目黒こどもスクールのウェブサイトでダウンロードができます。無断複写・引用はご遠慮ください。  
※2. このプリントを活用したオンライン授業のスケジュールは、しながわ・目黒こどもスクールのウェブサイトでご確認ください。



しながわ・目黒  
こどもスクール



※1. このプリントは、しながわ・目黒こどもスクールのウェブサイトでダウンロードができます。無断複写・引用はご遠慮ください。  
※2. このプリントを活用したオンライン授業のスケジュールは、しながわ・目黒こどもスクールのウェブサイトでご確認ください。





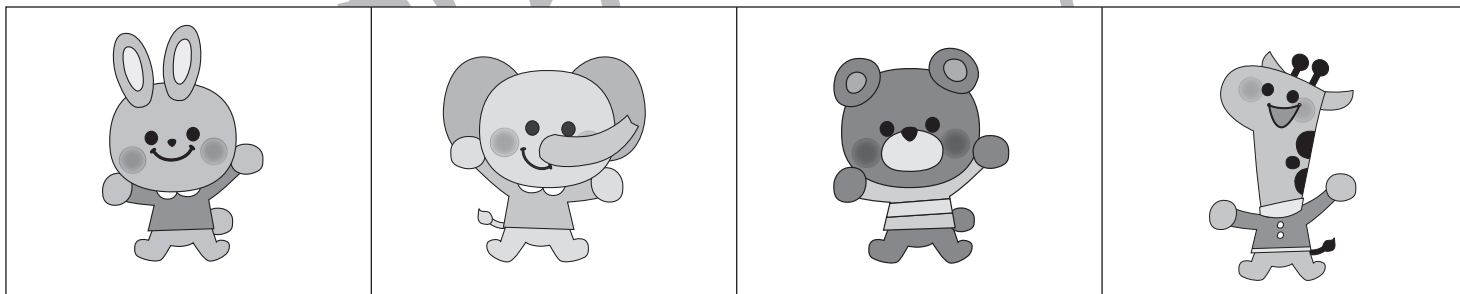





# おうちで、やろう。 年中児版

Study at home. 小学校受験の家庭学習教材

## 推理：系列完成4

下の四角の中のお手本はある約束の通りに並んでいます。太い四角の中に入る絵を考えて、それぞれの記号を下の四角の絵にかきましょう。



※1. このプリントは、しながわ・目黒こどもスクールのウェブサイトからダウンロードできます。無断複写・引用はご遠慮ください。  
 ※2. このプリントを活用したオンライン授業のスケジュールは、しながわ・目黒こどもスクールのウェブサイトでご確認ください。

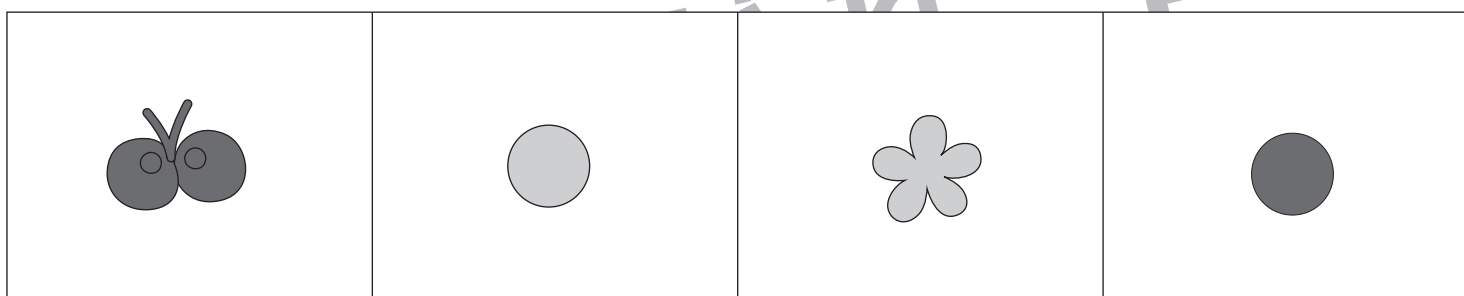

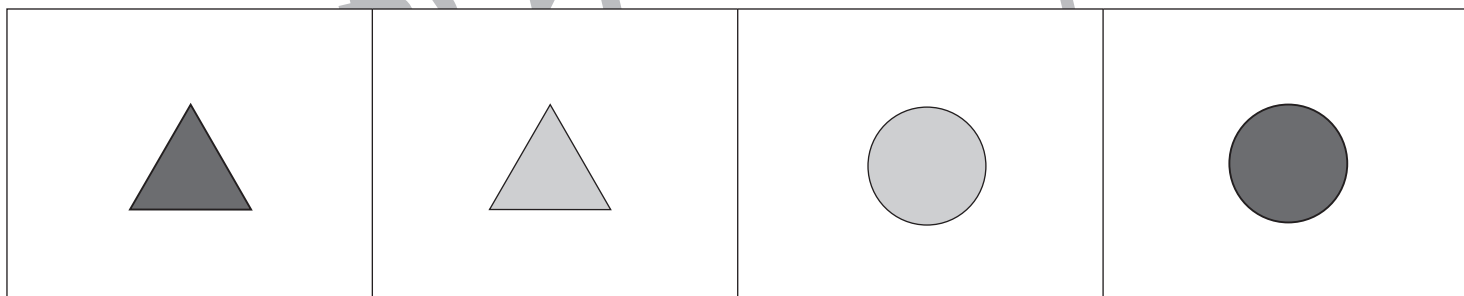
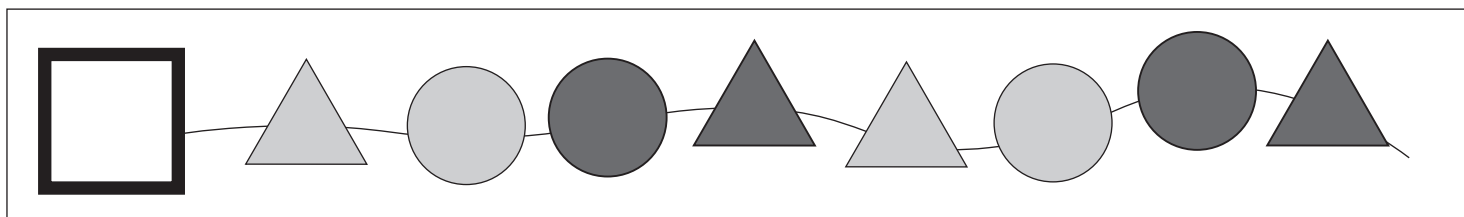
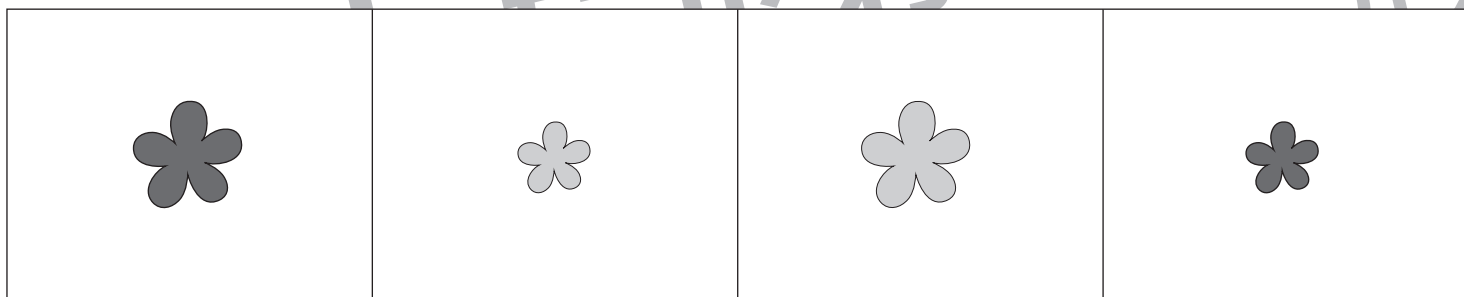
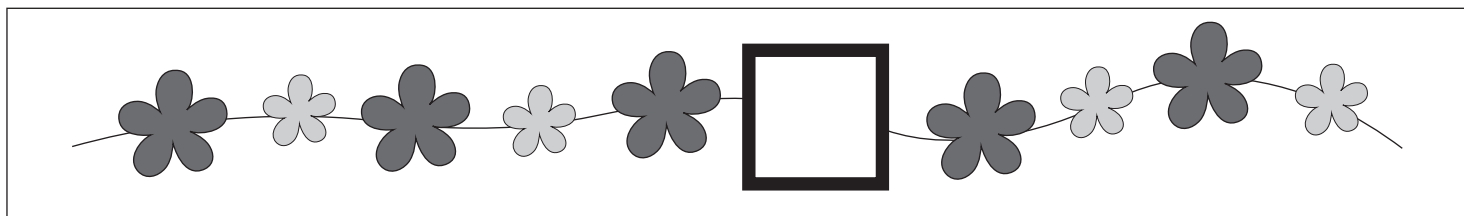


# おうちで、やろう。 年中児版

Study at home. 小学校受験の家庭学習教材

## 推理：系列完成5

下の四角の中のお手本はある約束の通りに並んでいます。太い四角の中に入る形を考えて、下の四角に○をつけましょう。



※1. このプリントは、しながわ・目黒こどもスクールのウェブサイトでダウンロードができます。無断複写・引用はご遠慮ください。  
 ※2. このプリントを活用したオンライン授業のスケジュールは、しながわ・目黒こどもスクールのウェブサイトでご確認ください。



# おうちで、やろう。 年中児版

Study at home. 小学校受験の家庭学習教材


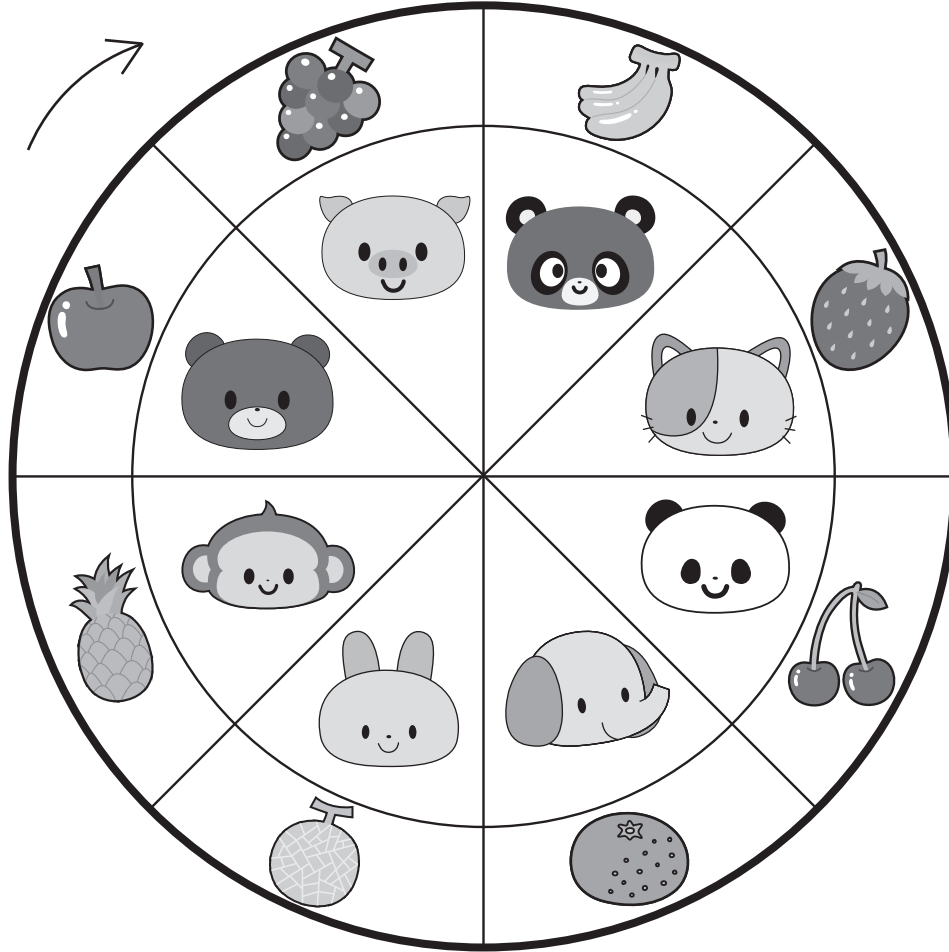
推理：条件推理 17

下の太い丸の中に、内側の動物だけが回るルーレットがあります。

①矢印の向きにネコが4つ動いたとき、どの果物のところにきますか。下の四角の中の果物に○をつけましょう。

②矢印の向きにサルが5つ動いたとき、どの果物のところにきますか。下の四角の中の果物に△をつけましょう。

③矢印の向きにウサギが6つ動いたとき、どの果物のところにきますか。下の四角の中の果物に□をつけましょう。



ICT 教育の小学校受験

※1. このプリントは、しながわ・目黒こどもスクールのウェブサイトからダウンロードできます。無断複写・引用はご遠慮ください。

※2. このプリントを活用したオンライン授業のスケジュールは、しながわ・目黒こどもスクールのウェブサイトでご確認ください。



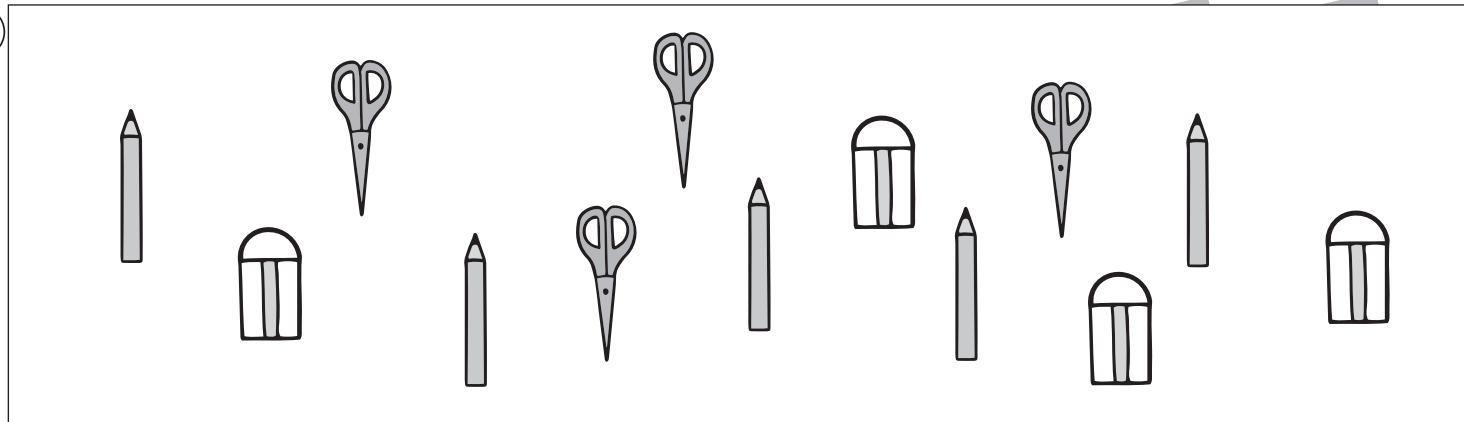
# おうちで、やろう。 年中児版

数量：加減6

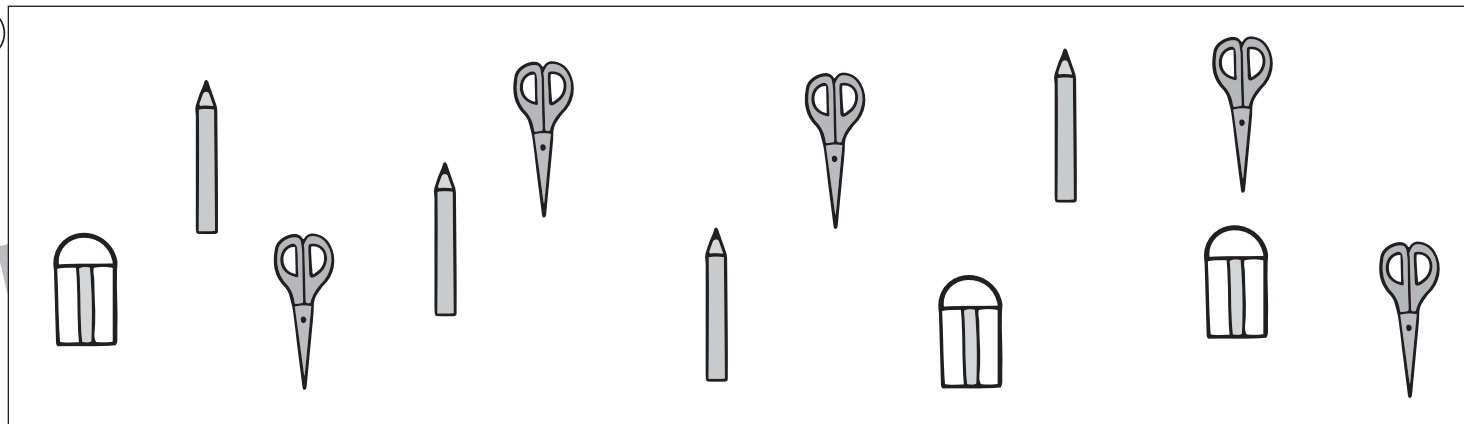
Study at home. 小学校受験の家庭学習教材

- ①はさみはいくつありますか。その数だけ、下の四角に○をかきましょう。
- ②鉛筆はいくつありますか。その数だけ、下の四角に○をかきましょう。
- ③はさみと消しゴムは合わせていくつありますか。その数だけ、下の四角に○をかきましょう。

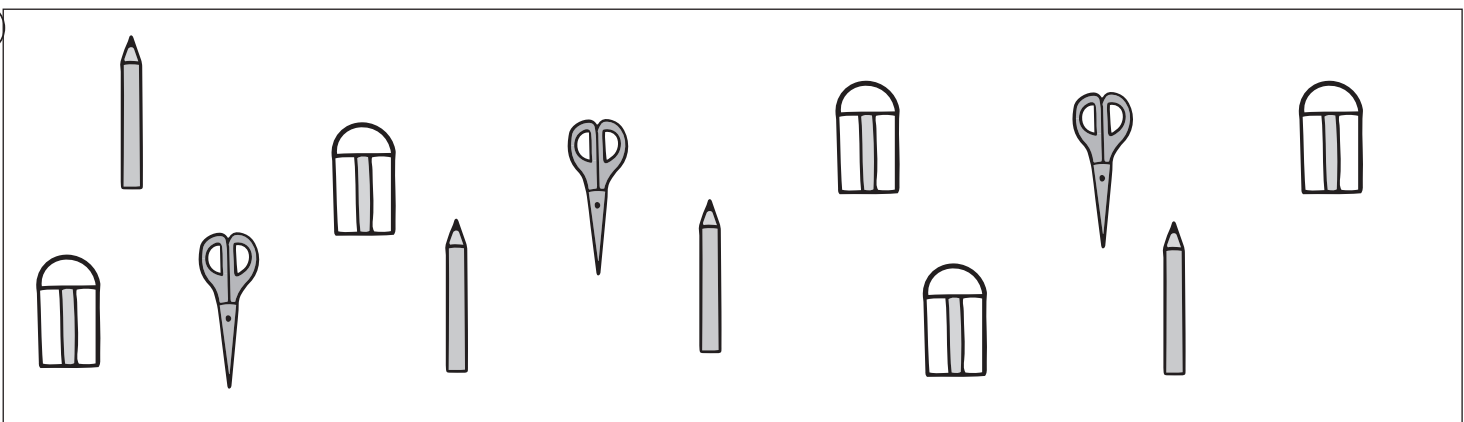
①



②



③



※1. このプリントは、しながわ・目黒こどもスクールのウェブサイトでダウンロードができます。無断複写・引用はご遠慮ください。

※2. このプリントを活用したオンライン授業のスケジュールは、しながわ・目黒こどもスクールのウェブサイトでご確認ください。



# おうちで、やろう。 年中児版

Study at home. 小学校受験の家庭学習教材

数量：すごろく2

クマ、ニワトリ、ライオンがすごろく遊びをしています。一番左の★のマスから、それぞれサイコロの目の数だけ右にむかって進んだとき、動物たちはどのマスにとまりますか。白クマがとまったマスに○、ニワトリがとまったマスに●、ライオンがとまったマスに×をかきましょう。

★			×	●	○			

★		●		×		○		

★				○		●		×

※1. このプリントは、しながわ・目黒こどもスクールのウェブサイトでダウンロードができます。無断複写・引用はご遠慮ください。  
※2. このプリントを活用したオンライン授業のスケジュールは、しながわ・目黒こどもスクールのウェブサイトでご確認ください。





# おうちで、やろう。 年中児版

Study at home. 小学校受験の家庭学習教材

## まちがいさがし 11

上下の絵を見比べて、変わっているところを4つ探します。見つけたら、下の絵の変わっている部分に○をつけましょう。



※1. このプリントは、しながわ・目黒こどもスクールのウェブサイトからダウンロードできます。無断複写・引用はご遠慮ください。  
 ※2. このプリントを活用したオンライン授業のスケジュールは、しながわ・目黒こどもスクールのウェブサイトでご確認ください。