



# おうちで、やろう。 年中児版

Study at home. 小学校受験の家庭学習教材

## 言語：音の理解7

上の四角の中の絵の音の数と同じ数の丸を下の四角から選んで、点と点を線で結びましょう。

The exercise consists of two rows of four rectangular boxes each. The top row contains illustrations: a bus, two donuts (one light-colored with white dots, one dark-colored with white dots), a pineapple, and a gift box with a ribbon. The bottom row contains boxes with dots: two black dots, five grey dots, six black dots, and four white dots. Lines connect the top boxes to the bottom boxes based on the number of items in the illustration: the bus connects to the box with 2 black dots, the donuts connect to the box with 2 grey dots, the pineapple connects to the box with 6 black dots, and the gift connects to the box with 4 white dots.

※1. このプリントは、しながわ・目黒こどもスクールのウェブサイトでダウンロードができます。無断複写・引用はご遠慮ください。  
 ※2. このプリントを活用したオンライン授業のスケジュールは、しながわ・目黒こどもスクールのウェブサイトでご確認ください。



※1. このプリントは、しながわ・目黒こどもスクールのウェブサイトでダウンロードができます。無断複写・引用はご遠慮ください。  
 ※2. このプリントを活用したオンライン授業のスケジュールは、しながわ・目黒こどもスクールのウェブサイトでご確認ください。



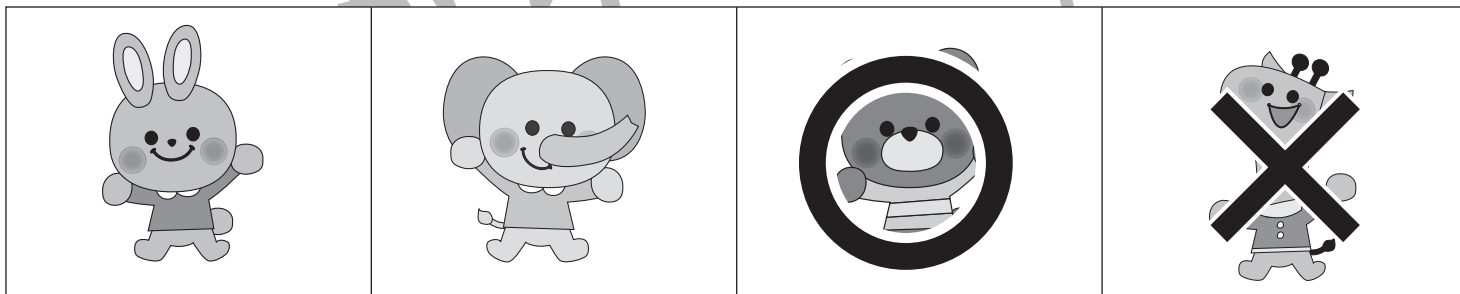





# おうちで、やろう。 年中児版

Study at home. 小学校受験の家庭学習教材

## 推理：系列完成4

下の四角の中のお手本はある約束の通りに並んでいます。太い四角の中に入る絵を考えて、それぞれの記号を下の四角の絵にかきましょう。



※1. このプリントは、しながわ・目黒こどもスクールのウェブサイトからダウンロードできます。無断複写・引用はご遠慮ください。  
 ※2. このプリントを活用したオンライン授業のスケジュールは、しながわ・目黒こどもスクールのウェブサイトでご確認ください。



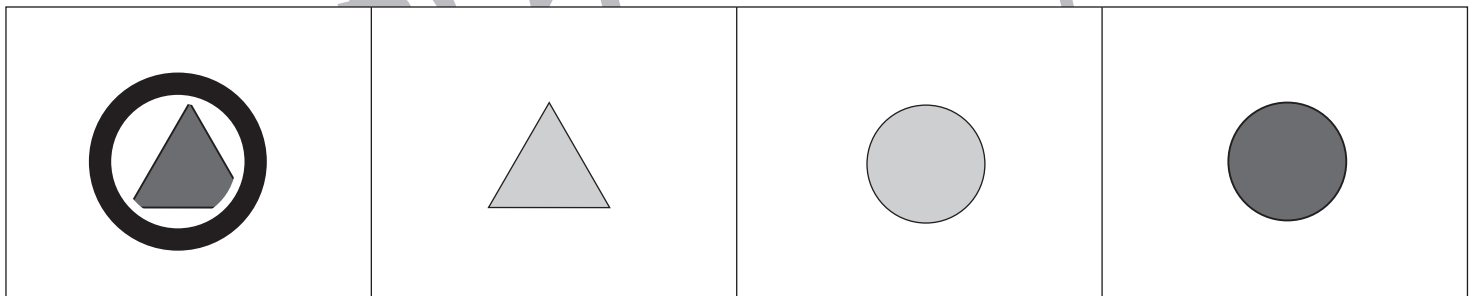
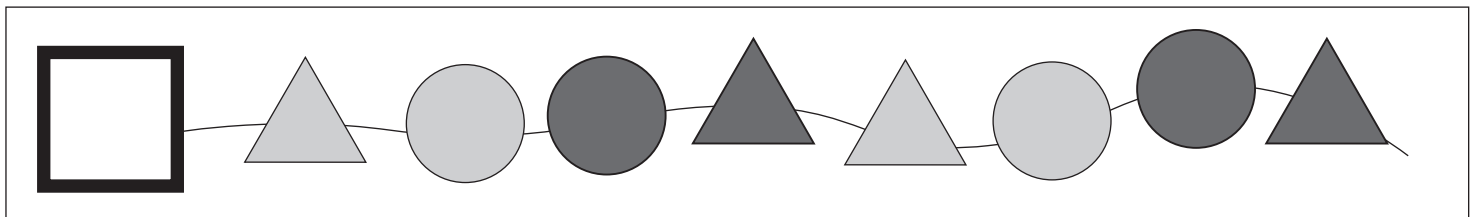
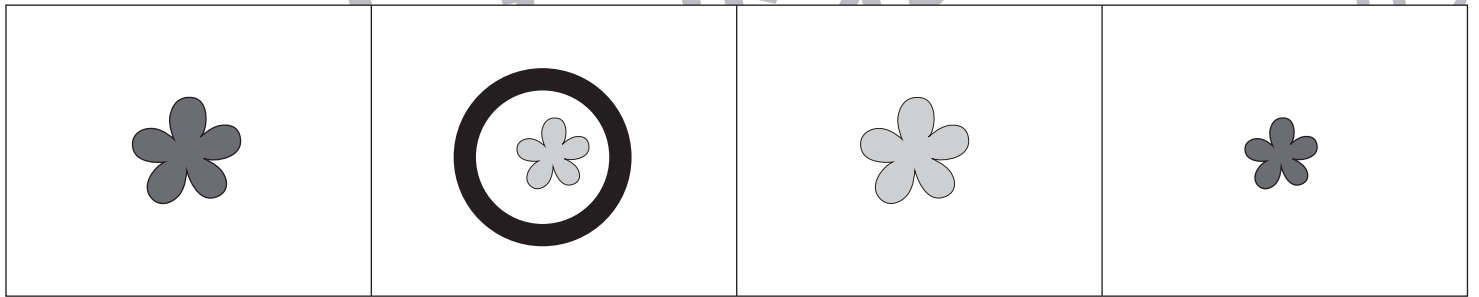



# おうちで、やろう。 年中児版

Study at home. 小学校受験の家庭学習教材

## 推理：系列完成5

下の四角の中のお手本はある約束の通りに並んでいます。太い四角の中に入る形を考えて、下の四角に○をつけましょう。



※1. このプリントは、しながわ・目黒こどもスクールのウェブサイトからダウンロードできます。無断複写・引用はご遠慮ください。  
 ※2. このプリントを活用したオンライン授業のスケジュールは、しながわ・目黒こどもスクールのウェブサイトでご確認ください。



# おうちで、やろう。 年中児版

Study at home. 小学校受験の家庭学習教材


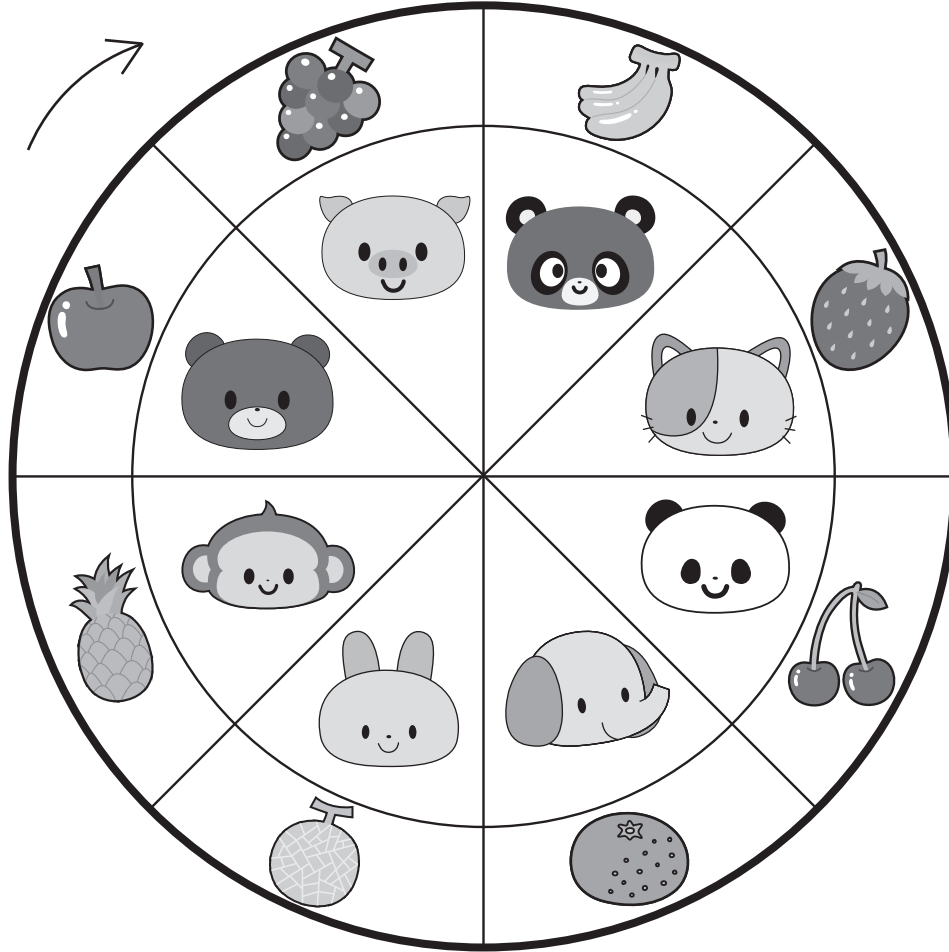
推理：条件推理 17

下の太い丸の中に、内側の動物だけが回るルーレットがあります。

①矢印の向きにネコが4つ動いたとき、どの果物のところにきますか。下の四角の中の果物に○をつけましょう。

②矢印の向きにサルが5つ動いたとき、どの果物のところにきますか。下の四角の中の果物に△をつけましょう。

③矢印の向きにウサギが6つ動いたとき、どの果物のところにきますか。下の四角の中の果物に□をつけましょう。



ICT 教育の小学校受験

※1. このプリントは、しながわ・目黒こどもスクールのウェブサイトでダウンロードができます。無断複写・引用はご遠慮ください。

※2. このプリントを活用したオンライン授業のスケジュールは、しながわ・目黒こどもスクールのウェブサイトでご確認ください。



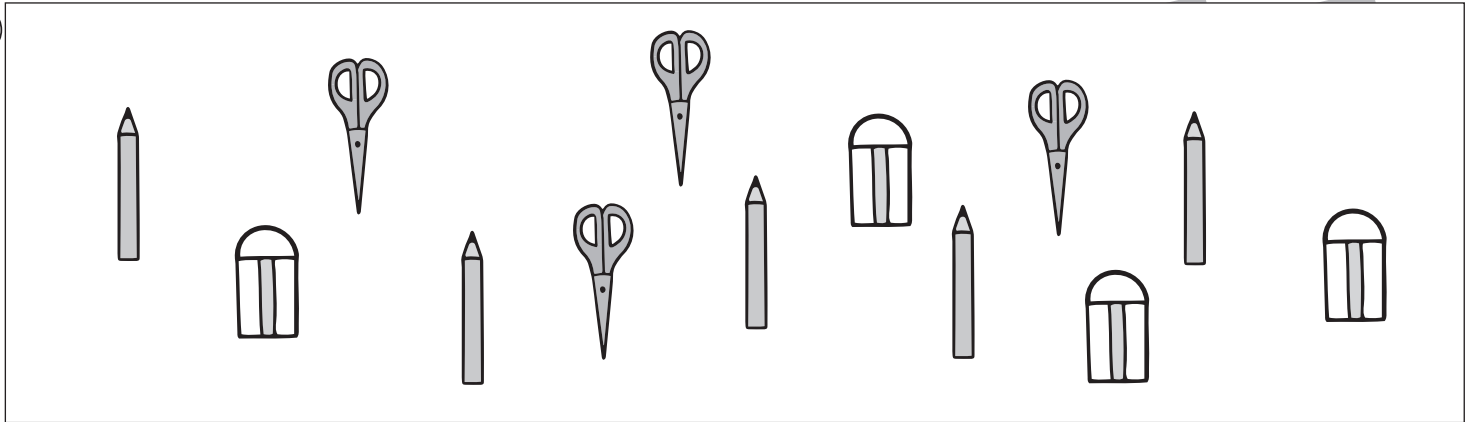
# おうちで、やろう。 年中児版

数量：加減6

Study at home. 小学校受験の家庭学習教材

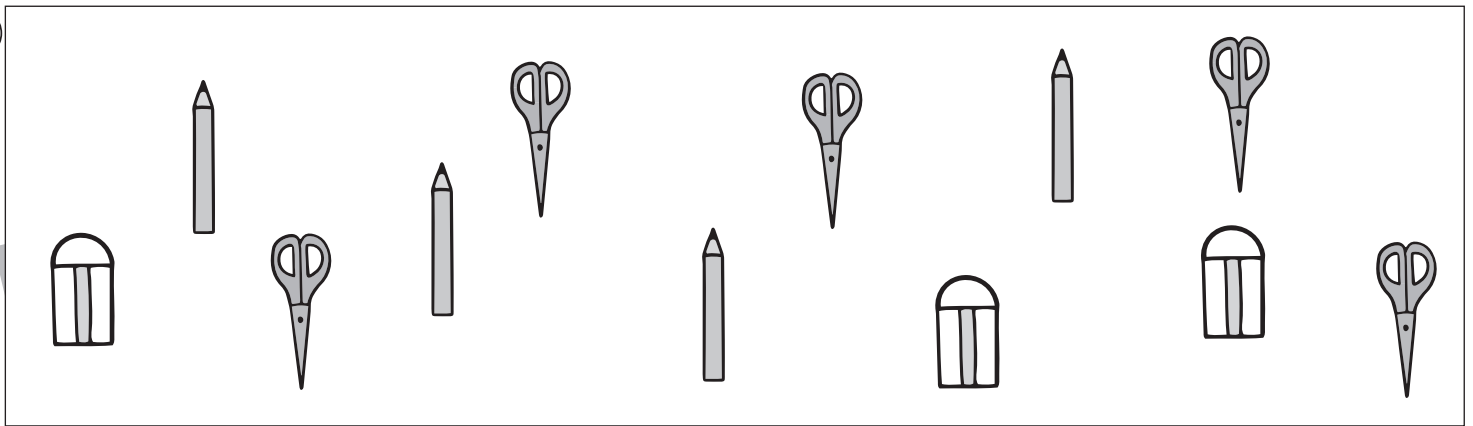
- ①はさみはいくつありますか。その数だけ、下の四角に○をかきましょう。
- ②鉛筆はいくつありますか。その数だけ、下の四角に○をかきましょう。
- ③はさみと消しゴムは合わせていくつありますか。その数だけ、下の四角に○をかきましょう。

①



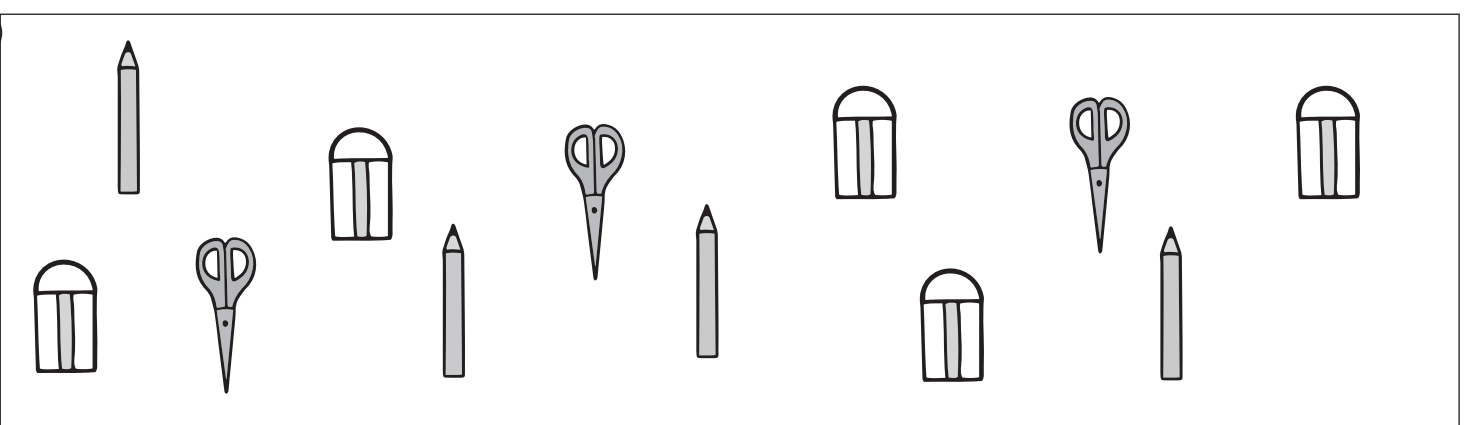
○×4

②



○×4

③



○×8

※1. このプリントは、しながわ・目黒こどもスクールのウェブサイトからダウンロードができます。無断複写・引用はご遠慮ください。

※2. このプリントを活用したオンライン授業のスケジュールは、しながわ・目黒こどもスクールのウェブサイトでご確認ください。



# おうちで、やろう。 年中児版

Study at home. 小学校受験の家庭学習教材

数量：すごろく2

クマ、ニワトリ、ライオンがすごろく遊びをしています。一番左の★のマスから、それぞれサイコロの目の数だけ右にむかって進んだとき、動物たちはどのマスにとまりますか。白クマがとまったマスに○、ニワトリがとまったマスに●、ライオンがとまったマスに×をかきましょう。

★			×	●	○			

★		●		×		○		

★				○		●		×

※1. このプリントは、しながわ・目黒こどもスクールのウェブサイトでダウンロードができます。無断複写・引用はご遠慮ください。  
※2. このプリントを活用したオンライン授業のスケジュールは、しながわ・目黒こどもスクールのウェブサイトでご確認ください。





# おうちで、やろう。 年中児版

Study at home. 小学校受験の家庭学習教材

## まちがいさがし 11

上下の絵を見比べて、変わっているところを4つ探します。見つけたら、下の絵の変わっている部分に○をつけましょう。



※1. このプリントは、しながわ・目黒こどもスクールのウェブサイトからダウンロードできます。無断複写・引用はご遠慮ください。  
 ※2. このプリントを活用したオンライン授業のスケジュールは、しながわ・目黒こどもスクールのウェブサイトでご確認ください。