



おうちで、やろう。 年中児版

Study at home. 小学校受験の家庭学習教材

言語：しりとり 10

左から右までしりとりでつなげます。途中2つある場所はどちらを選べばよいかを考えて正しい絵に○をつけましょう。

目黒

しりとり

目黒


※1. このプリントは、しながわ・目黒こどもスクールのウェブサイトからダウンロードできます。無断複写・引用はご遠慮ください。

※2. このプリントを活用したオンライン授業のスケジュールは、しながわ・目黒こどもスクールのウェブサイトでご確認ください。




下の①～④の絵の中には、それぞれ音の数が違うものが一つずつあります。違う音の数の絵を見つけて、○をつけましょう。

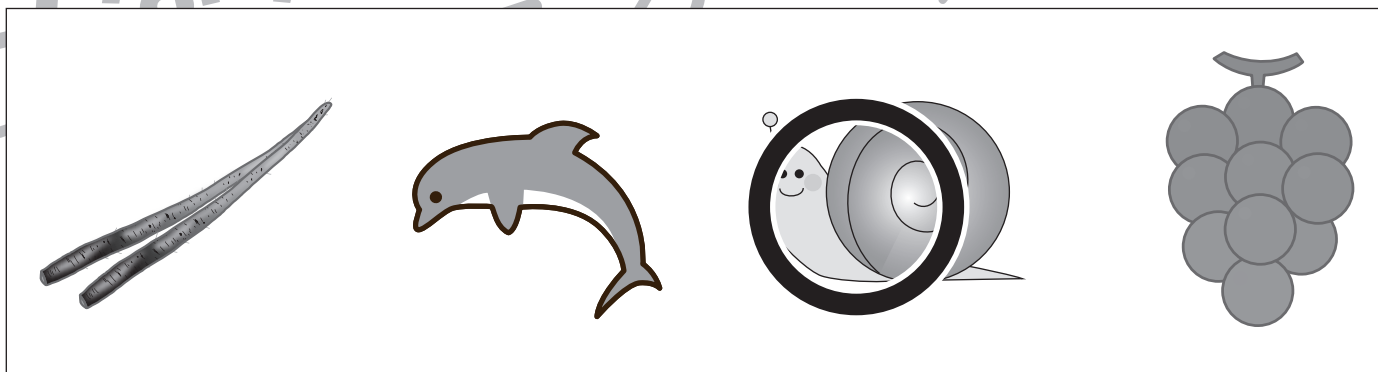
①




②



③



④



※1. このプリントは、しながわ・目黒こどもスクールのウェブサイトでダウンロードができます。無断複写・引用はご遠慮ください。

※2. このプリントを活用したオンライン授業のスケジュールは、しながわ・目黒こどもスクールのウェブサイトでご確認ください。





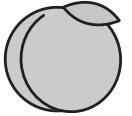





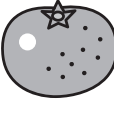
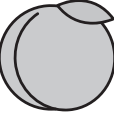
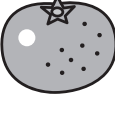
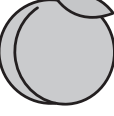


おうちで、やろう。 年中児版







Study at home. 小学校受験の家庭学習教材

処理能力：置き換え 2

上の太い四角が約束です。それぞれの絵を矢印の先の記号に変えます。上のマスにある絵の場所をよく考えて、下のマスに約束通りの記号をかきましょう。

 → 	 → 	 → 
---	---	---

※1. このプリントは、しながわ・目黒こどもスクールのウェブサイトでダウンロードができます。無断複写・引用はご遠慮ください。
 ※2. このプリントを活用したオンライン授業のスケジュールは、しながわ・目黒こどもスクールのウェブサイトでご確認ください。
















おうちで、やろう。年中児版








Study at home. 小学校受験の家庭学習教材

処理能力：置き換え 3

上の太い四角が約束です。それぞれの絵を矢印の先の記号に変えます。上のマスにある絵の場所をよく考えて、下のマスに約束通りの記号をかきましょう。

 → 	 → 	 → 
---	---	---

※1. このプリントは、しながわ・目黒こどもスクールのウェブサイトからダウンロードできます。無断複写・引用はご遠慮ください。
 ※2. このプリントを活用したオンライン授業のスケジュールは、しながわ・目黒こどもスクールのウェブサイトでご確認ください。



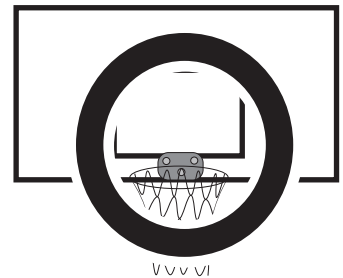

おうちで、やろう。 年中児版

Study at home. 小学校受験の家庭学習教材


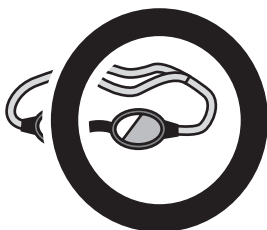
常識：スポーツ3

上の四角の中のスポーツをするときに使うものをすべて見つけて○をつけましょう。

①



②

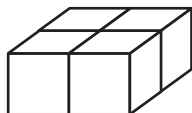


※1. このプリントは、しながわ・目黒こどもスクールのウェブサイトダウンロードができます。無断複写・引用はご遠慮ください。
※2. このプリントを活用したオンライン授業のスケジュールは、しながわ・目黒こどもスクールのウェブサイトでご確認ください。

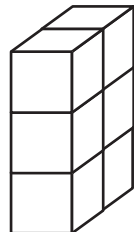




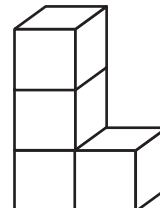
上の四角の中の積み木の数数を数えて、その数だけ下の四角に○をかきましょう。



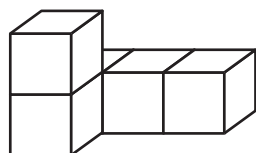
○×4



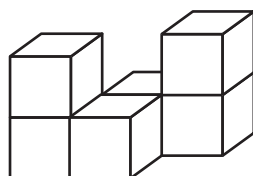
○×6



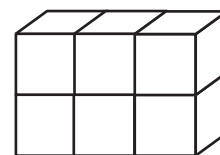
○×4



○×5




○×6



○×6



上下の絵を見比べて、変わっているところを4つ探します。見つけたら、下の絵の変わっている部分に○をつけましょう。



※1. このプリントは、しながわ・目黒こどもスクールのウェブサイトでダウンロードができます。無断複写・引用はご遠慮ください。
 ※2. このプリントを活用したオンライン授業のスケジュールは、しながわ・目黒こどもスクールのウェブサイトでご確認ください。