

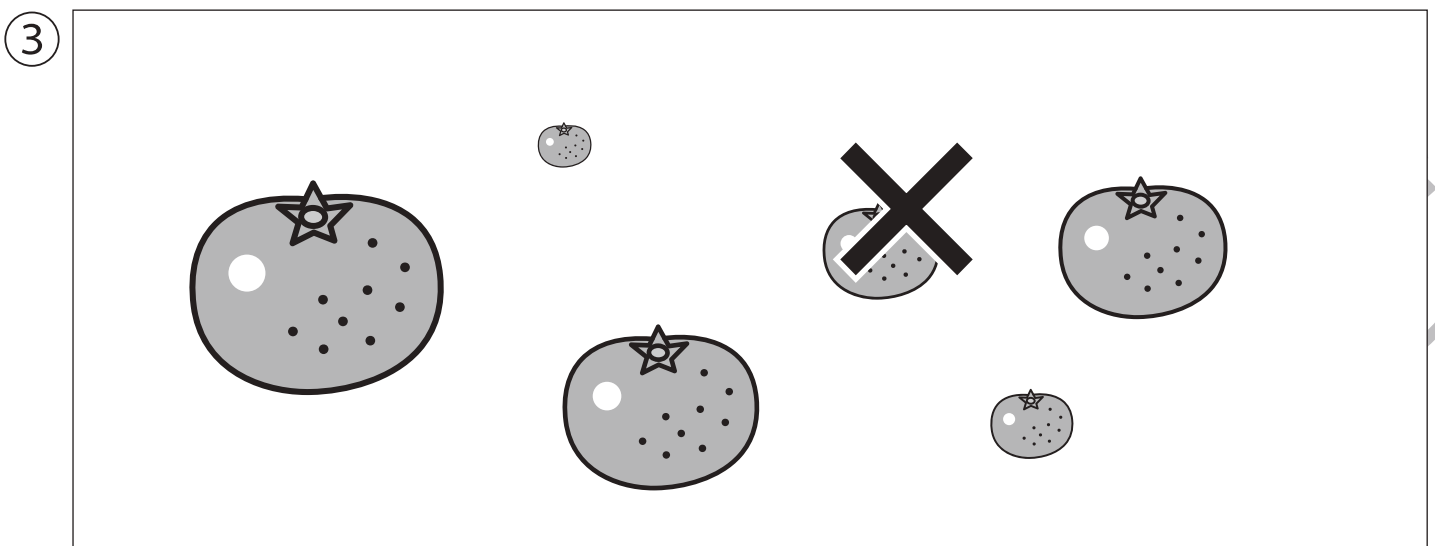




おうちで、やろう。 年中児版

Study at home. 小学校受験の家庭学習教材

推理：順位付け1

- ① 4つの星の中で2番目に小さい星を黄色のクーピーで塗ります。
- ② 6人の家族の中で5番目に背の高い人に○をつけます。
- ③ 6つのミカンの中で3番目に小さいものに×をつけます。



※1. このプリントは、しながわ・目黒こどもスクールのウェブサイトでダウンロードができます。無断複写・引用はご遠慮ください。
※2. このプリントを活用したオンライン授業のスケジュールは、しながわ・目黒こどもスクールのウェブサイトでご確認ください。







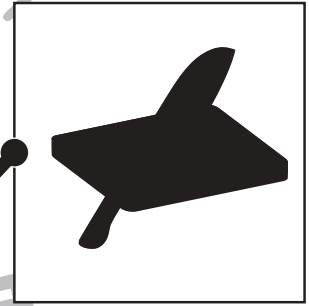




おうちで、やろう。 年中児版

Study at home. 小学校受験の家庭学習教材

推理：影5

右の四角の中は、左の四角の中の絵が影になったものです。同じ絵を見つけて、点と点を線で結びましょう。




※1. このプリントは、しながわ・目黒こどもスクールのウェブサイトでダウンロードができます。無断複写・引用はご遠慮ください。
※2. このプリントを活用したオンライン授業のスケジュールは、しながわ・目黒こどもスクールのウェブサイトでご確認ください。






下の①～④の絵の中には、それぞれ音の数が違うものが一つずつあります。違う音の数の絵を見つけて、○をつけましょう。


①




②



③



④



※1. このプリントは、しながわ・目黒こどもスクールのウェブサイトからダウンロードができます。無断複写・引用はご遠慮ください。

※2. このプリントを活用したオンライン授業のスケジュールは、しながわ・目黒こどもスクールのウェブサイトでご確認ください。





おうちで、やろう。 年中児版

Study at home. 小学校受験の家庭学習教材

常識：気持ち3

- ①下の絵の中から、「うれしいかお」だと思うものに○をつけましょう。
- ②下の絵の中から、「おこっているかお」だと思うものに◎をつけましょう。
- ③下の絵の中から、「かなしそうなかお」だと思うものに△をつけましょう。
- ④下の絵の中から、「こまっているかお」だと思うものに□をつけましょう。



※1. このプリントは、しながわ・目黒こどもスクールのウェブサイトでダウンロードができます。無断複写・引用はご遠慮ください。
※2. このプリントを活用したオンライン授業のスケジュールは、しながわ・目黒こどもスクールのウェブサイトでご確認ください。






おうちで、やろう。年中児版

Study at home. 小学校受験の家庭学習教材

常識：生活 6

下の四角の中から掃除に使うものに○、料理に使う道具に△をつけましょう。



※1. このプリントは、しながわ・目黒こどもスクールのウェブサイトからダウンロードできます。無断複写・引用はご遠慮ください。

※2. このプリントを活用したオンライン授業のスケジュールは、しながわ・目黒こどもスクールのウェブサイトでご確認ください。



おうちで、よろう。 年中児版

Study at home. 小学校受験の家庭学習教材

図形：重ね点図形3

左と右の点図形を重ねたとき、どんな形になりますか。矢印の右側の四角に書きましょう。

※1. このプリントは、しながわ・目黒こどもスクールのウェブサイトからダウンロードできます。無断複写・引用はご遠慮ください。

※2. このプリントを活用したオンライン授業のスケジュールは、しながわ・目黒こどもスクールのウェブサイトでご確認ください。

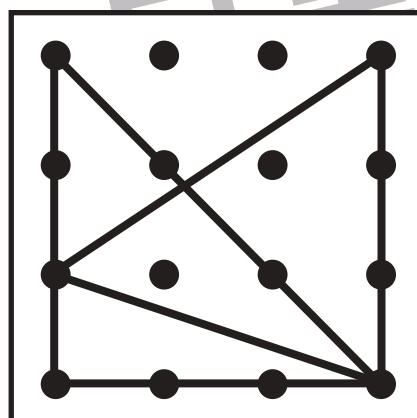
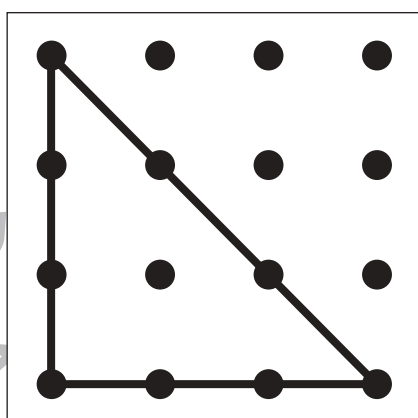
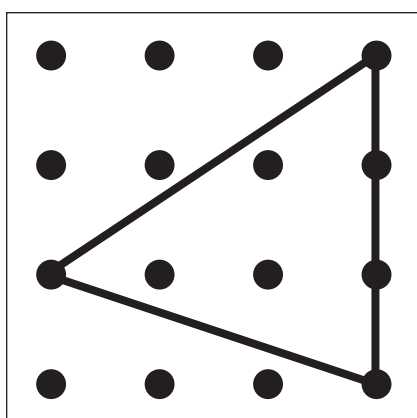
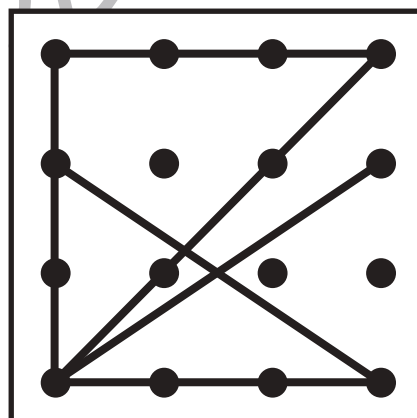
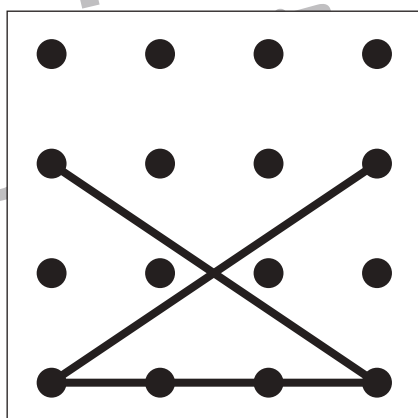
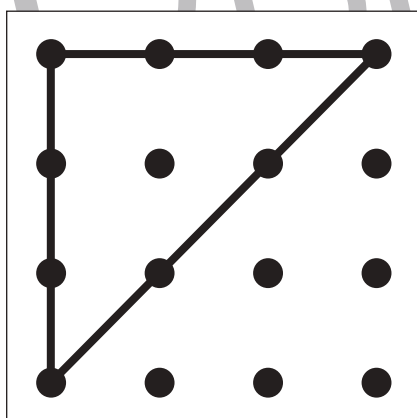
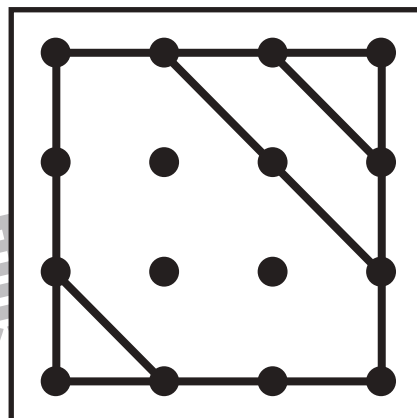
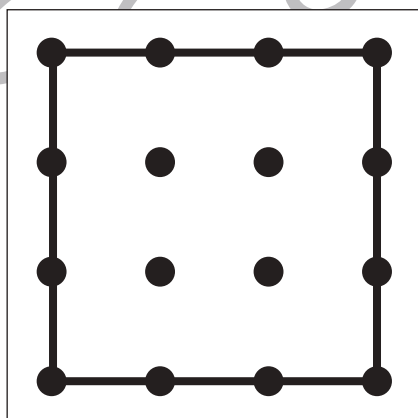
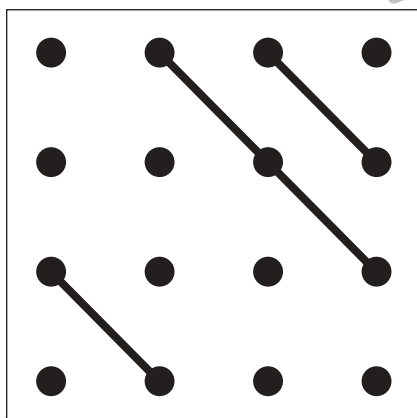
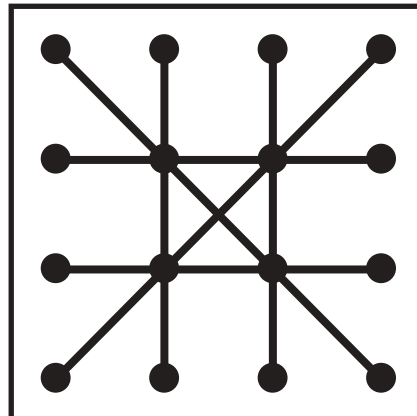
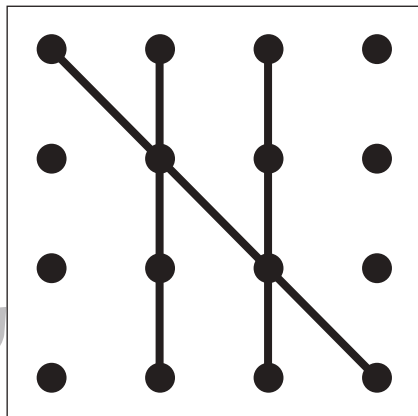
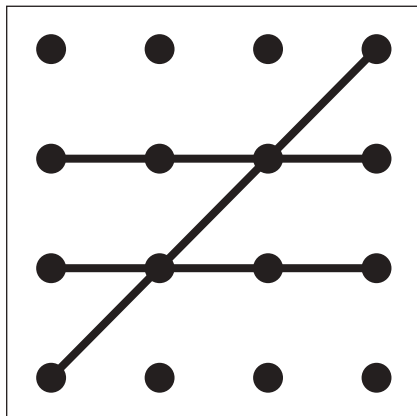


おうちで、よろう。 年中児版

Study at home. 小学校受験の家庭学習教材

図形：重ね点図形4

左と右の点図形を重ねたとき、どんな形になりますか。矢印の右側の四角に書きましょう。



※1. このプリントは、しながわ・目黒こどもスクールのウェブサイトからダウンロードできます。無断複写・引用はご遠慮ください。

※2. このプリントを活用したオンライン授業のスケジュールは、しながわ・目黒こどもスクールのウェブサイトでご確認ください。








おうちで、やろう。年中児版

Study at home. 小学校受験の家庭学習教材

数量：広さ6

左と右の四角の中で灰色の部分が広いのはどちらですか。広い方に○をつけましょう。



※1. このプリントは、しながわ・目黒こどもスクールのウェブサイトでダウンロードができます。無断複写・引用はご遠慮ください。
 ※2. このプリントを活用したオンライン授業のスケジュールは、しながわ・目黒こどもスクールのウェブサイトでご確認ください。