




おうちで、やろう。

Study at home. 小学校受験の家庭学習教材

年中児版

言語：はじめの音4

下の四角の中の絵を見て、名前の中に「ま」の音があるものに○、「い」の音があるものに□、「も」の音があるものに△をつけましょう。



※1. このプリントは、しながわ・目黒こどもスクールのウェブサイトからダウンロードできます。無断複写・引用はご遠慮ください。

※2. このプリントを活用したオンライン授業のスケジュールは、しながわ・目黒こどもスクールのウェブサイトでご確認ください。




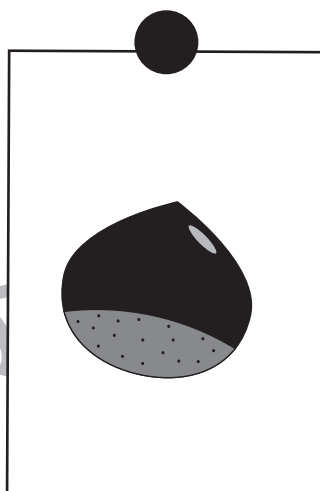
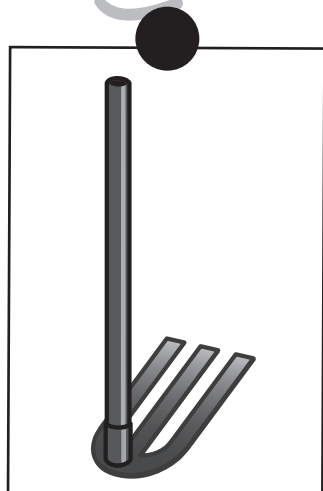

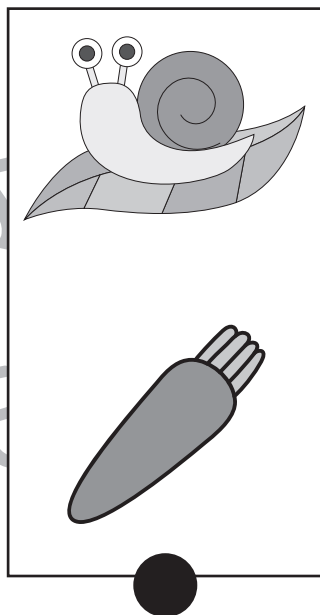
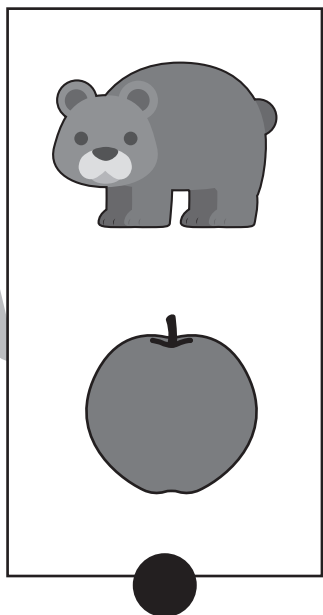



おうちで、やろう。 年中児版

Study at home. 小学校受験の家庭学習教材

言語：音の理解6

上の2つの絵の名前の始めの音を繋げて違う名前を作ります。正しいものを下の絵から選んで線で結びましょう。



※1. このプリントは、しながわ・目黒こどもスクールのウェブサイトでダウンロードができます。無断複写・引用はご遠慮ください。
※2. このプリントを活用したオンライン授業のスケジュールは、しながわ・目黒こどもスクールのウェブサイトでご確認ください。



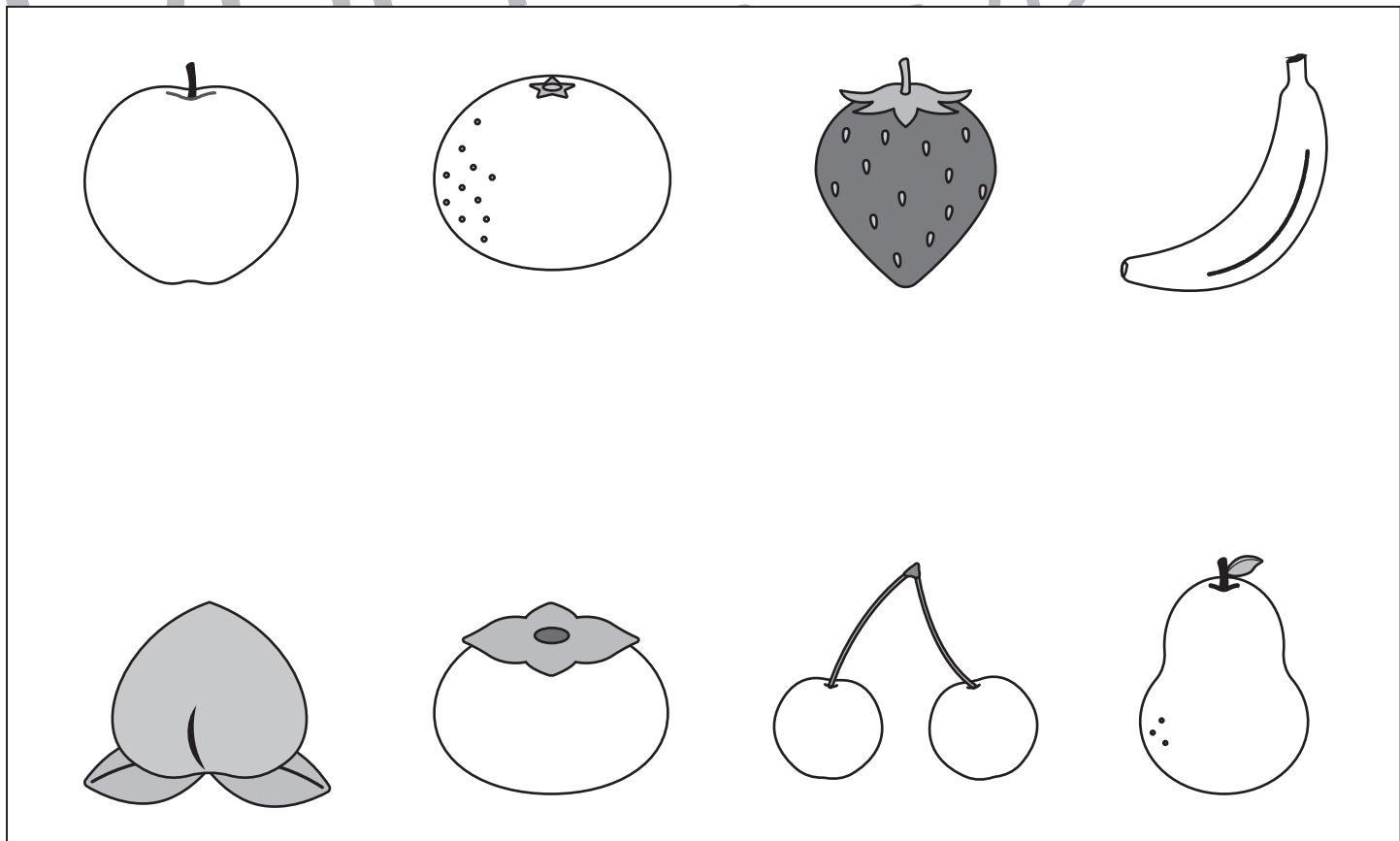
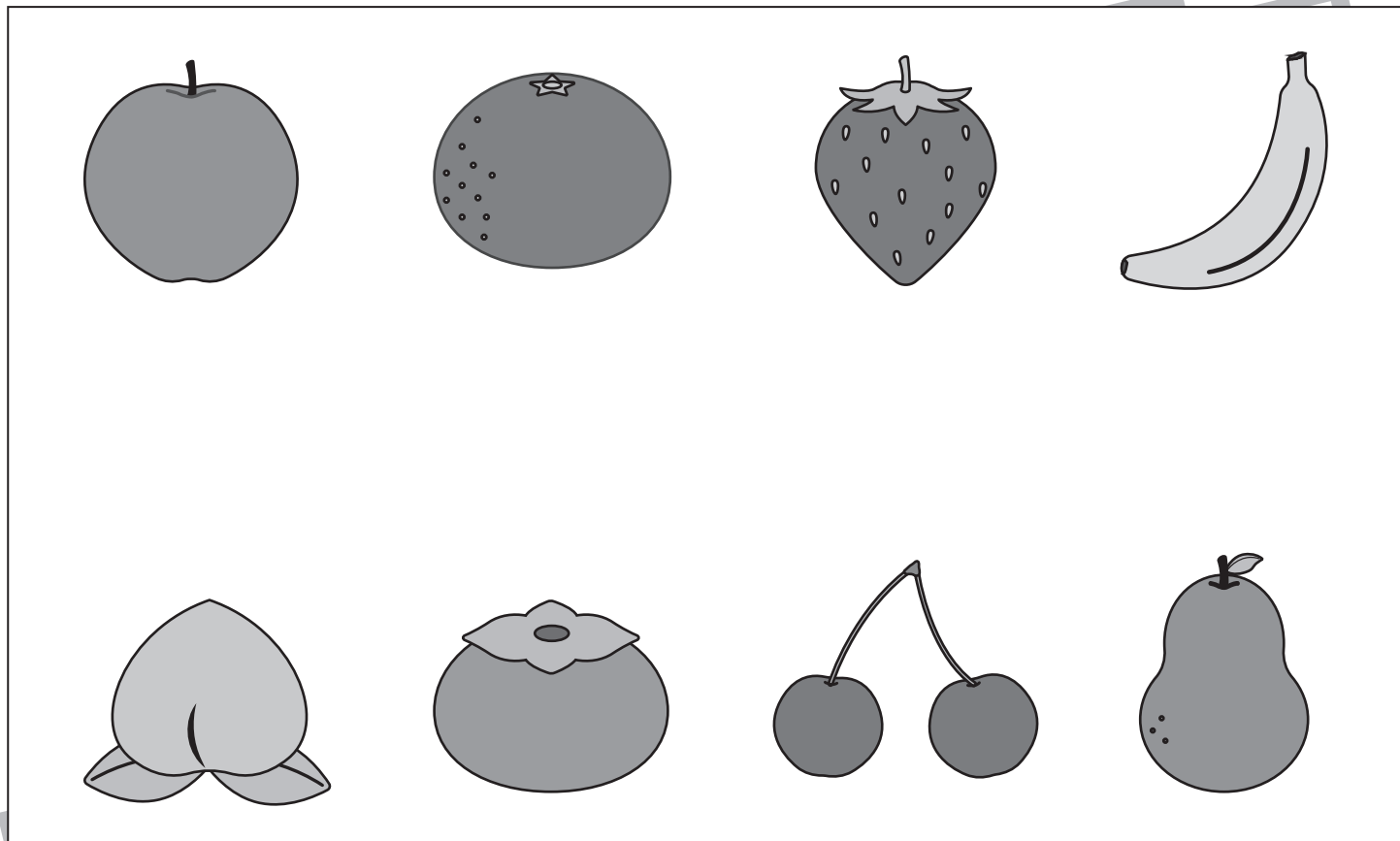


おうちで、やろう。 年中児版

Study at home. 小学校受験の家庭学習教材

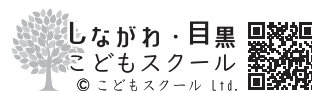
巧緻性：模写4

上の四角のお手本と同じになるように鉛筆で色を塗ります。色を塗る時は濃さの違いが分かるように塗りましょう。
※この問題に解答はありません。



ICT 教育の小学校受験

※1. このプリントは、しながわ・目黒こどもスクールのウェブサイトでダウンロードができます。無断複写・引用はご遠慮ください。
※2. このプリントを活用したオンライン授業のスケジュールは、しながわ・目黒こどもスクールのウェブサイトでご確認ください。







おうちで、やろう。 年中児版

Study at home. 小学校受験の家庭学習教材

下の四角の中には動物たちが住んでいるマンションです。

- ★①一番上の階の一番右に住んでいる動物に○をかきましょう。
- ★②上から二段目の右から二番目に住んでいる動物に×をかきましょう。
- ①一番下の段の左から二番目に住んでいる動物に○をかきましょう。
- ②上から三段目の右から二番目に住んでいる動物に×をかきましょう。



※1. このプリントは、しながわ・目黒こどもスクールのウェブサイトでダウンロードができます。無断複写・引用はご遠慮ください。
 ※2. このプリントを活用したオンライン授業のスケジュールは、しながわ・目黒こどもスクールのウェブサイトでご確認ください。

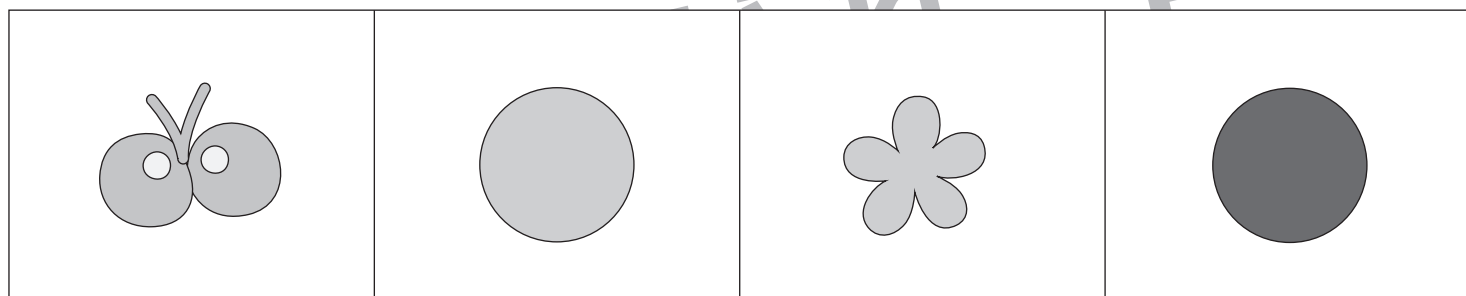
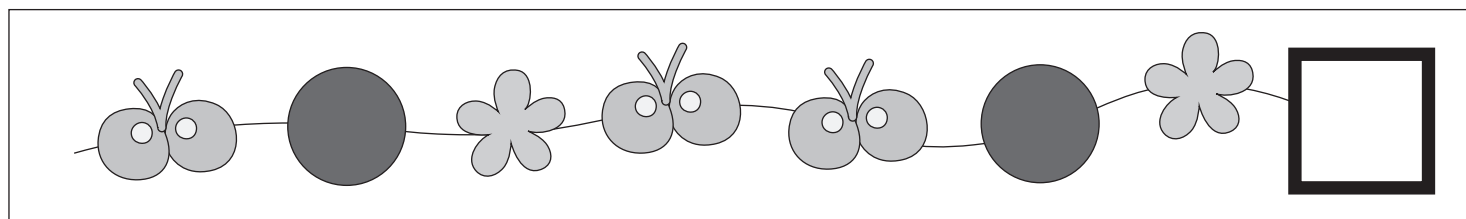
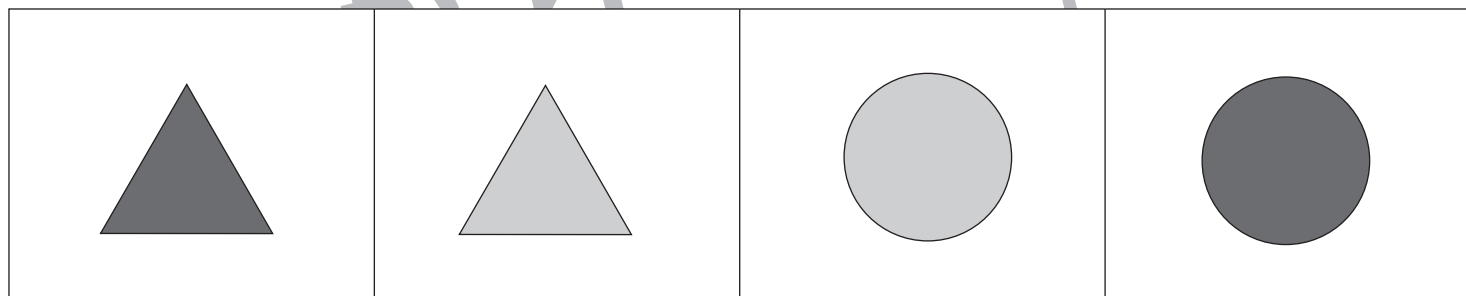
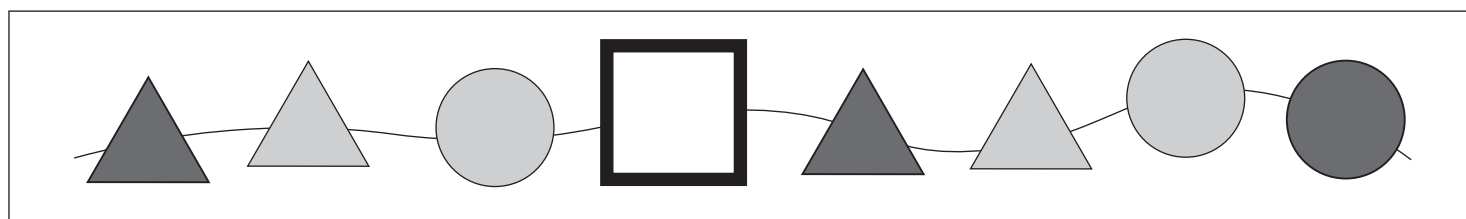
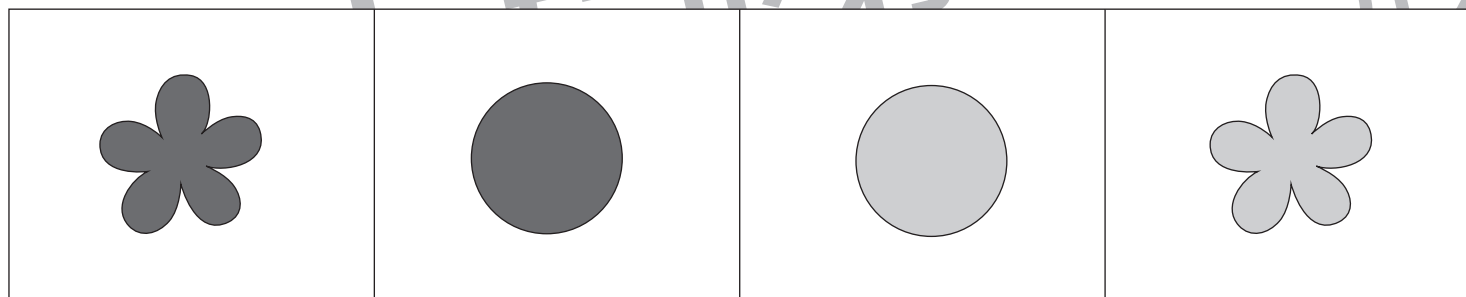
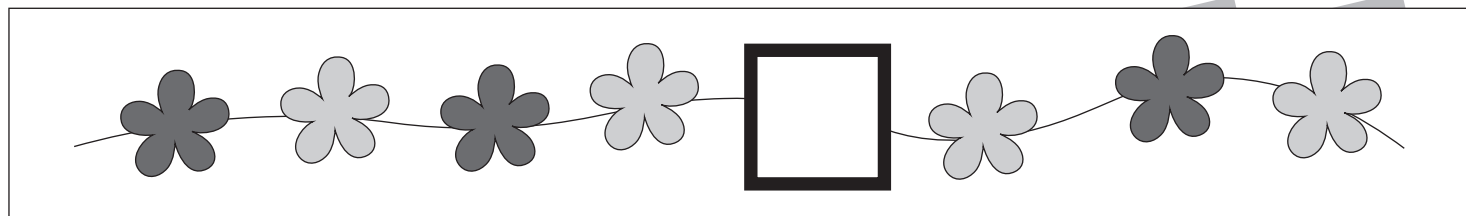


おうちで、やろう。年中児版

Study at home. 小学校受験の家庭学習教材

推理：系列完成3

下の四角の中のお手本はある約束の通りに並んでいます。太い四角の中に入る形を考えて、下の四角に○をつけましょう。



※1. このプリントは、しながわ・目黒こどもスクールのウェブサイトでダウンロードができます。無断複写・引用はご遠慮ください。
 ※2. このプリントを活用したオンライン授業のスケジュールは、しながわ・目黒こどもスクールのウェブサイトでご確認ください。



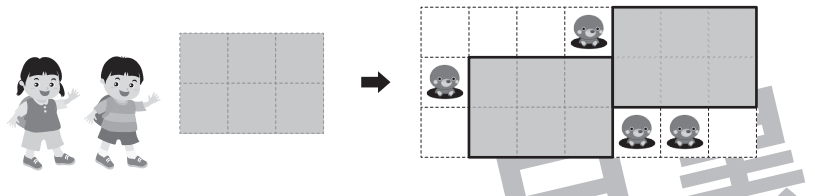
おうちで、やろう。

Study at home. 小学校受験の家庭学習教材

年中児版

図形：平面6

左のレジャーシートをシートの向きを変えたりしながら敷ける場所をすべて考えて、その場所を囲みましょう。穴の開いている場所には敷くことはできません。（右例を参考）



Example 1: A 3x3 grid of mats is shown on the left. An arrow points to a 5x5 grid on the right where mats are placed in the following positions (row, column): (1,2), (1,4), (2,1), (2,3), (3,3), (4,2), (4,4), (5,1).

Example 2: A 3x3 grid of mats is shown on the left. An arrow points to a 5x5 grid on the right where mats are placed in the following positions (row, column): (1,1), (1,3), (1,5), (2,2), (2,4), (3,1), (3,3), (4,2), (4,4).

Example 3: A 3x3 grid of mats is shown on the left. An arrow points to a 5x5 grid on the right where mats are placed in the following positions (row, column): (1,3), (1,5), (2,4), (3,2), (3,4), (4,1), (4,3).

※1. このプリントは、しながわ・目黒こどもスクールのウェブサイトでダウンロードができます。無断複写・引用はご遠慮ください。

※2. このプリントを活用したオンライン授業のスケジュールは、しながわ・目黒こどもスクールのウェブサイトでご確認ください。



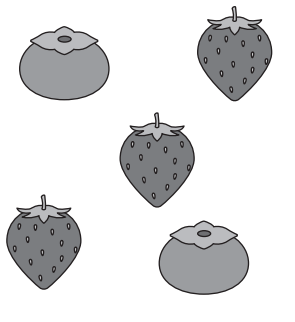

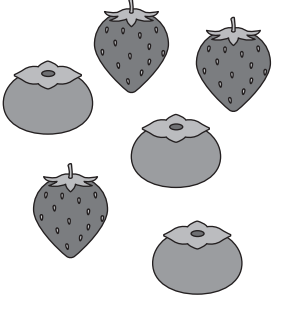





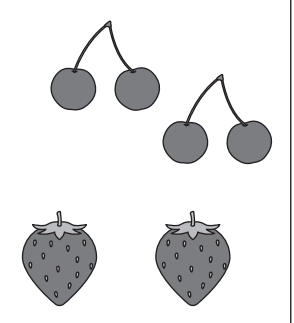

それぞれの動物がお母さんにお買い物頼まりました。お母さんに頼まれたものと同じものを買っている絵をみつけてその絵の下の四角に○をつけましょう。


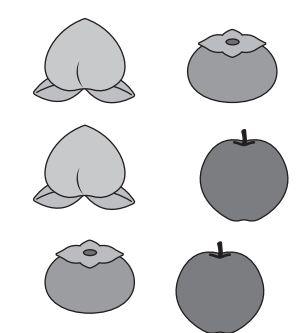
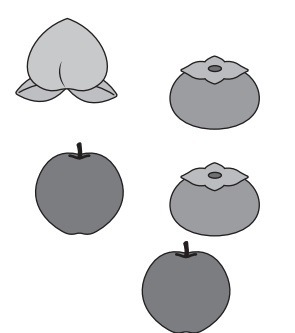
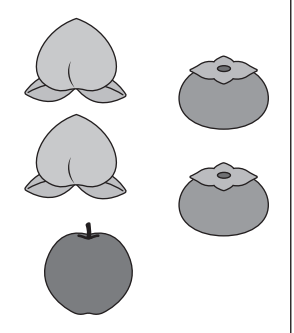
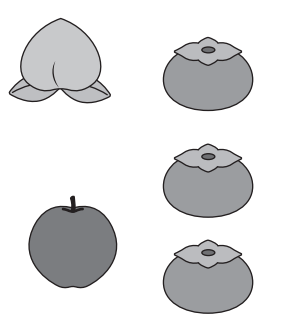
①ウサギは「かきを1つ、いちごを3つお願いね」と頼まりました。

②リスは「さくらんぼを3つ、いちごを2つお願いね」と頼まりました。

③イヌは「ももを2つ、かきを2つ、りんごを1つお願いね」と頼まりました。

① 				
	<input type="checkbox"/>	<input type="checkbox"/>	<input type="checkbox"/>	<input type="checkbox"/>

② 				
	<input type="checkbox"/>	<input type="checkbox"/>	<input type="checkbox"/>	<input type="checkbox"/>

③ 				
	<input type="checkbox"/>	<input type="checkbox"/>	<input type="checkbox"/>	<input type="checkbox"/>





おうちで、やろう。 年中児版

Study at home. 小学校受験の家庭学習教材

まちがいさがし 10

上下の絵を見比べて、変わっているところを4つ探します。見つけたら、下の絵の変わっている部分に○をつけます。



※1. このプリントは、しながわ・目黒こどもスクールのウェブサイトからダウンロードできます。無断複写・引用はご遠慮ください。
 ※2. このプリントを活用したオンライン授業のスケジュールは、しながわ・目黒こどもスクールのウェブサイトでご確認ください。