



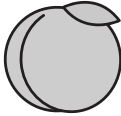





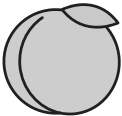




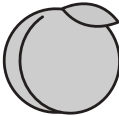
おうちで、やろう。 年中児版

Study at home. 小学校受験の家庭学習教材

処理能力：置き換え1

上の太い四角が約束です。それぞれの絵を矢印の先の記号に変えます。上のマスにある絵の場所をよく考えて、下のマスに約束通りの記号をかきましょう。


 → 	 → 	 → 
---	---	---

※1. このプリントは、しながわ・目黒こどもスクールのウェブサイトでダウンロードができます。無断複写・引用はご遠慮ください。
 ※2. このプリントを活用したオンライン授業のスケジュールは、しながわ・目黒こどもスクールのウェブサイトでご確認ください。



下の大きな四角の中で、実を食べる野菜に○をつけましょう。



※1. このプリントは、しながわ・目黒こどもスクールのウェブサイトからダウンロードできます。無断複写・引用はご遠慮ください。

※2. このプリントを活用したオンライン授業のスケジュールは、しながわ・目黒こどもスクールのウェブサイトでご確認ください。



おうちで、やろう。年中児版

Study at home. 小学校受験の家庭学習教材

常識：季節9

春のものは○、夏のは□を、下の大きな四角から見つけてつけましょう。



※1. このプリントは、しながわ・目黒こどもスクールのウェブサイトからダウンロードできます。無断複写・引用はご遠慮ください。

※2. このプリントを活用したオンライン授業のスケジュールは、しながわ・目黒こどもスクールのウェブサイトでご確認ください。



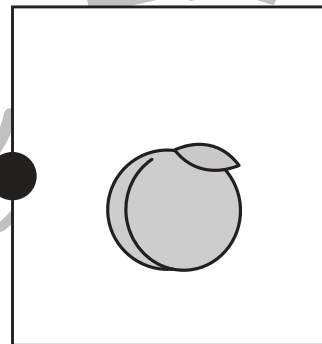











おうちで、やろう。 年中児版

Study at home. 小学校受験の家庭学習教材

言語：はじめの音5

左と右の四角の中のはじめの音が同じ絵を見つけて、点と点を線で結びましょう。



※1. このプリントは、しながわ・目黒こどもスクールのウェブサイトからダウンロードができます。無断複写・引用はご遠慮ください。

※2. このプリントを活用したオンライン授業のスケジュールは、しながわ・目黒こどもスクールのウェブサイトでご確認ください。





おうちで、やろう。年中児版

Study at home. 小学校受験の家庭学習教材

数量：分割5

上のお菓子をウサギとクマで同じ数ずつ分けるとき、それぞれ何個もらえますか。その数だけウサギとクマそれぞれの四角に○をかきましょう。

①

②

③

※1. このプリントは、しながわ・目黒こどもスクールのウェブサイトからダウンロードできます。無断複製・引用はご遠慮ください。

※2. このプリントを活用したオンライン授業のスケジュールは、しながわ・目黒こどもスクールのウェブサイトでご確認ください。







おうちで、やろう。年中児版

Study at home. 小学校受験の家庭学習教材





数量：分割6

上のお菓子をウサギとクマとネコで同じ数ずつ分けるとき、それぞれ何個もらえますか。その数だけウサギとクマとネコそれぞれの四角に○をかきましょう。





①

②

③

※1. このプリントは、しながわ・目黒こどもスクールのウェブサイトからダウンロードができます。無断複写・引用はご遠慮ください。

※2. このプリントを活用したオンライン授業のスケジュールは、しながわ・目黒こどもスクールのウェブサイトでご確認ください。




おうちで、やろう。 年中児版

Study at home. 小学校受験の家庭学習教材

数量：数の推理 1

上の四角が約束です。それぞれの袋の中には矢印の右の数だけ飴が入っています。左の四角の中の袋の中の飴を全て合わせた数はいくつですか。その数だけ右の四角に○をかきましょう。



--	--

--	--

--	--

--	--

※1. このプリントは、しながわ・目黒こどもスクールのウェブサイトでダウンロードができます。無断複写・引用はご遠慮ください。
 ※2. このプリントを活用したオンライン授業のスケジュールは、しながわ・目黒こどもスクールのウェブサイトでご確認ください。




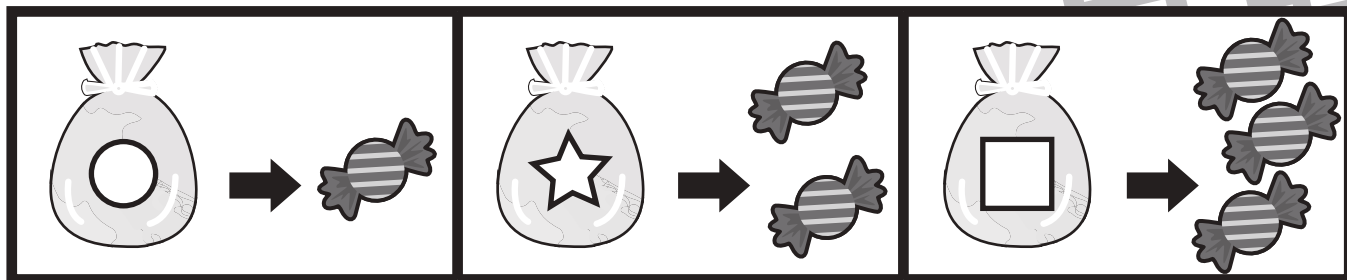


おうちで、やろう。 年中児版

Study at home. 小学校受験の家庭学習教材

数量：数の推理 2

上の四角が約束です。それぞれの袋の中には矢印の右の数だけ飴が入っています。左の四角の中の袋の中の飴を全て合わせた数はいくつですか。その数だけ右の四角に○をかきましょう



※1. このプリントは、しながわ・目黒こどもスクールのウェブサイトでダウンロードができます。無断複写・引用はご遠慮ください。
 ※2. このプリントを活用したオンライン授業のスケジュールは、しながわ・目黒こどもスクールのウェブサイトでご確認ください。