



おうちで、やろう。

Study at home. 小学校受験の家庭学習教材

図形：マッチ 4

四角の中の形をそれぞれの下にあるマッチで作ります。
全部で何本あれば上の形ができるのかを考えてその数だけ下の四角に○をかきます。

※1. このプリントは、しながわ・目黒こどもスクールのウェブサイトでダウンロードができます。無断複写・引用はご遠慮ください。
 ※2. このプリントを活用したオンライン授業のスケジュールは、しながわ・目黒こどもスクールのウェブサイトでご確認ください。



おうちで、やろう。

Study at home. 小学校受験の家庭学習教材

図形：マッチ5

四角の中の形をそれぞれの下にあるマッチで作ります。
全部で何本あれば上の形ができるのかを考えてその数だけ下の四角に○をかきます。

※1. このプリントは、しながわ・目黒こどもスクールのウェブサイトでダウンロードができます。無断複写・引用はご遠慮ください。
 ※2. このプリントを活用したオンライン授業のスケジュールは、しながわ・目黒こどもスクールのウェブサイトでご確認ください。



おうちで、やろう。

Study at home. 小学校受験の家庭学習教材

図形：マッチ6

上の太い四角の中に入っているマッチの数でできている形を下の四角の中から選んで○をつけます。

※1. このプリントは、しながわ・目黒こどもスクールのウェブサイトでダウンロードができます。無断複写・引用はご遠慮ください。
 ※2. このプリントを活用したオンライン授業のスケジュールは、しながわ・目黒こどもスクールのウェブサイトでご確認ください。



おうちで、やろう。

Study at home. 小学校受験の家庭学習教材

図形：折り線 2

左の四角の中にある折り紙を開いた時、折り線がどのようなになっているかを考えて右の中から選んで○をつけます。

--	--	--	--

--	--	--	--

--	--	--	--

--	--	--	--

--	--	--	--

※1. このプリントは、しながわ・目黒こどもスクールのウェブサイトでダウンロードができます。無断複写・引用はご遠慮ください。

※2. このプリントを活用したオンライン授業のスケジュールは、しながわ・目黒こどもスクールのウェブサイトでご確認ください。












おうちで、やろう。

Study at home. 小学校受験の家庭学習教材

図形：島作り 3

黒い丸を全部通って島を作ります。横と縦、斜めに進むことができます。1本の線でつなぎます。
※解答は一例です。ルールに沿って線をつなげていたら正解になります。



※1. このプリントは、しながわ・目黒こどもスクールのウェブサイトでダウンロードができます。無断複写・引用はご遠慮ください。
※2. このプリントを活用したオンライン授業のスケジュールは、しながわ・目黒こどもスクールのウェブサイトでご確認ください。














おうちで、やろう。

Study at home. 小学校受験の家庭学習教材

図形：島作り 4

黒い丸を全部通って島を作ります。横と縦、斜めに進むことができます。1本の線でつなぎます。
※解答は一例です。ルールに沿って線をつなげていたら正解になります。



※1. このプリントは、しながわ・目黒こどもスクールのウェブサイトでダウンロードができます。無断複写・引用はご遠慮ください。
※2. このプリントを活用したオンライン授業のスケジュールは、しながわ・目黒こどもスクールのウェブサイトでご確認ください。



おうちで、やろう。

Study at home. 小学校受験の家庭学習教材

推理：比較4

それぞれ、二番目に長いものに○、同じ長さのものに△をつけます。

The image contains three rows of visual comparison problems within a large rectangular frame:

- Top Row:** Seven pencils of different lengths are shown, all pointing to the right. From top to bottom, their lengths are: long, medium-long, medium, medium-long, medium, short, and long.
- Middle Row:** Four trees are shown on a ground with four different levels. From left to right, the trees are: short, medium, medium, and tall.
- Bottom Row:** A grid with 10 vertical columns and 7 horizontal rows. Seven horizontal bars of different lengths are placed within the grid. From top to bottom, the bars span: columns 7-10, columns 1-6, columns 3-7, columns 2-4, columns 1-5, and columns 4-9.

※1. このプリントは、しながわ・目黒こどもスクールのウェブサイトでダウンロードができます。無断複写・引用はご遠慮ください。

※2. このプリントを活用したオンライン授業のスケジュールは、しながわ・目黒こどもスクールのウェブサイトでご確認ください。



おうちで、やろう。

Study at home. 小学校受験の家庭学習教材

推理：比較5

①②二番目に長い・高いものに○、同じ長さ・高さのものに△をつけます。

③二番目に長いものに○、同じ長さのものに△をつけます。同じ長さのものが無いときは、一番短いものに×をつけます。

※1. このプリントは、しながわ・目黒こどもスクールのウェブサイトからダウンロードができます。無断複写・引用はご遠慮ください。

※2. このプリントを活用したオンライン授業のスケジュールは、しながわ・目黒こどもスクールのウェブサイトでご確認ください。

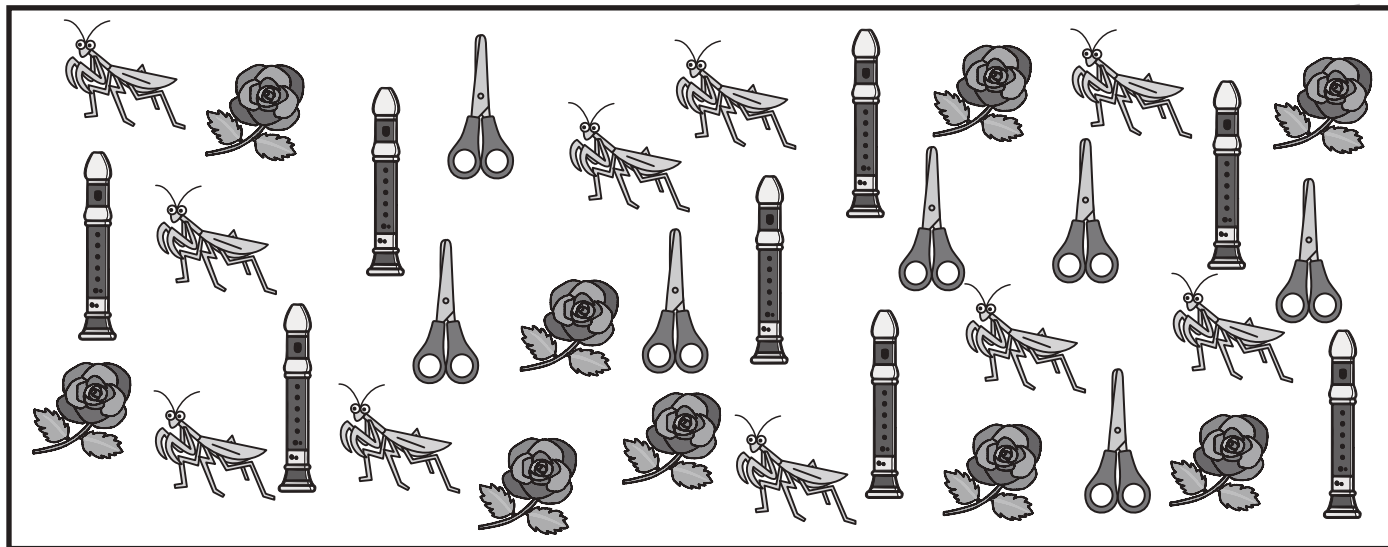






おうちで、やろう。


Study at home. 小学校受験の家庭学習教材





数量：計数 30

太い四角の中の絵は、それぞれいくつありますか。その数だけ、絵と同じ仲間の四角に○をかきます。





※1. このプリントは、しながわ・目黒こどもスクールのウェブサイトでダウンロードができます。無断複写・引用はご遠慮ください。
 ※2. このプリントを活用したオンライン授業のスケジュールは、しながわ・目黒こどもスクールのウェブサイトでご確認ください。




おうちで、やろう。

Study at home. 小学校受験の家庭学習教材

絵画：想像画 6

菜の花が出てくる絵を描きます。紙の向きは縦横自由です。



※1. このプリントは、しながわ・目黒こどもスクールのウェブサイトでダウンロードができます。無断複写・引用はご遠慮ください。
※2. このプリントを活用したオンライン授業のスケジュールは、しながわ・目黒こどもスクールのウェブサイトでご確認ください。