



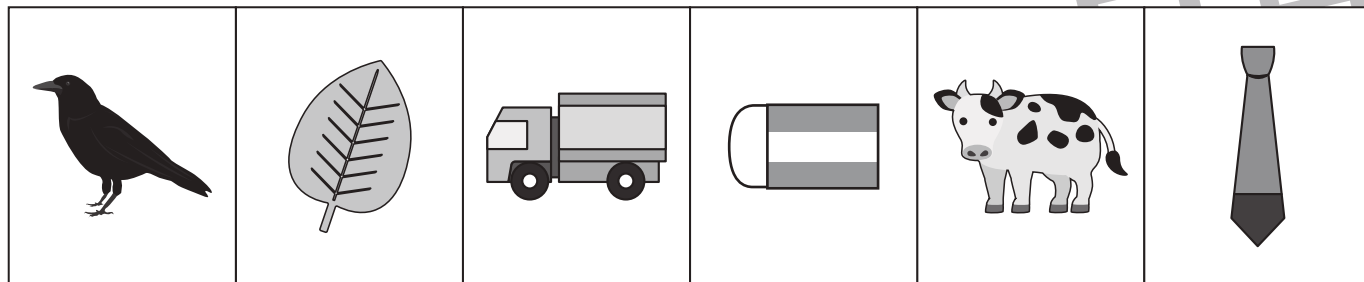


# おうちで、やろう。

Study at home. 小学校受験の家庭学習教材

言語：数え方 8

上の四角の絵の数え方と同じ数え方をするものを、真ん中の段と下の段から見つけて点と点を線でむすびます。



※1. このプリントは、しながわ・目黒こどもスクールのウェブサイトでダウンロードができます。無断複写・引用はご遠慮ください。  
※2. このプリントを活用したオンライン授業のスケジュールは、しながわ・目黒こどもスクールのウェブサイトでご確認ください。



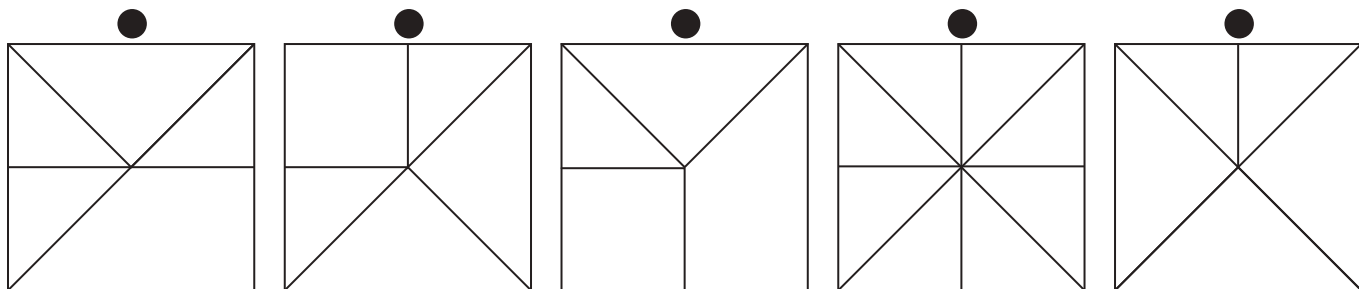
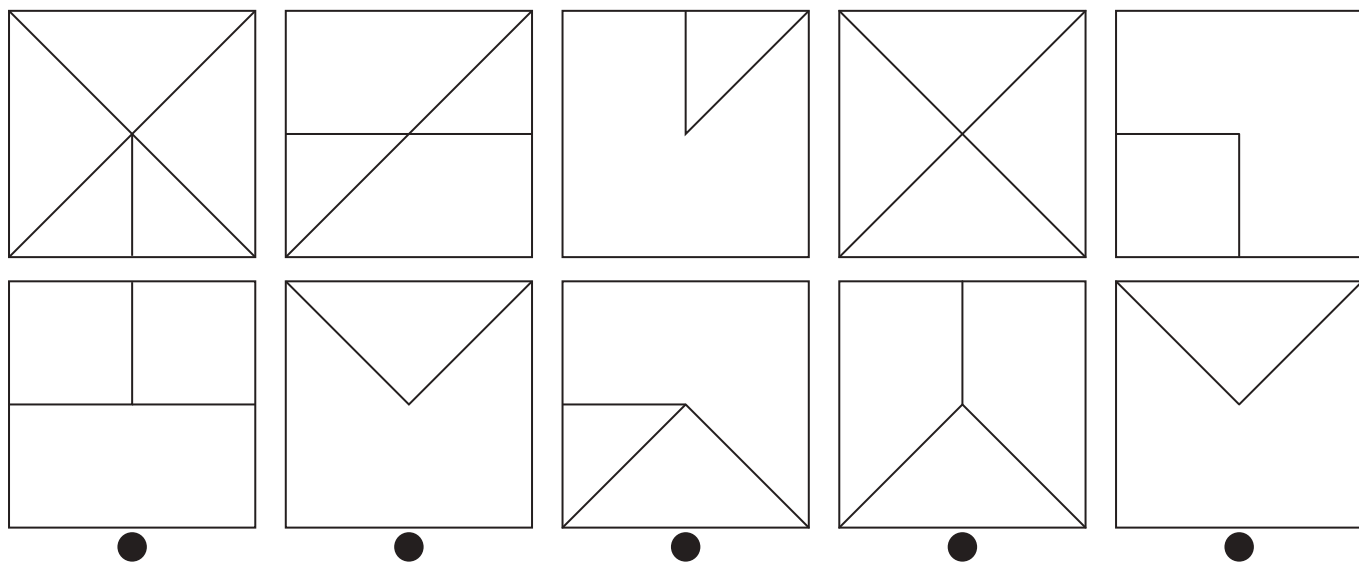
# おうちで、よろう。

Study at home. 小学校受験の家庭学習教材

図形：重ね 26

上の2枚の透明な板が重なった時の見え方を考えて、正しいものを下から見つけて点と点を線でむすびます。

口里



こどもへ

※1. このプリントは、しながわ・目黒こどもスクールのウェブサイトでダウンロードができます。無断複写・引用はご遠慮ください。  
 ※2. このプリントを活用したオンライン授業のスケジュールは、しながわ・目黒こどもスクールのウェブサイトでご確認ください。



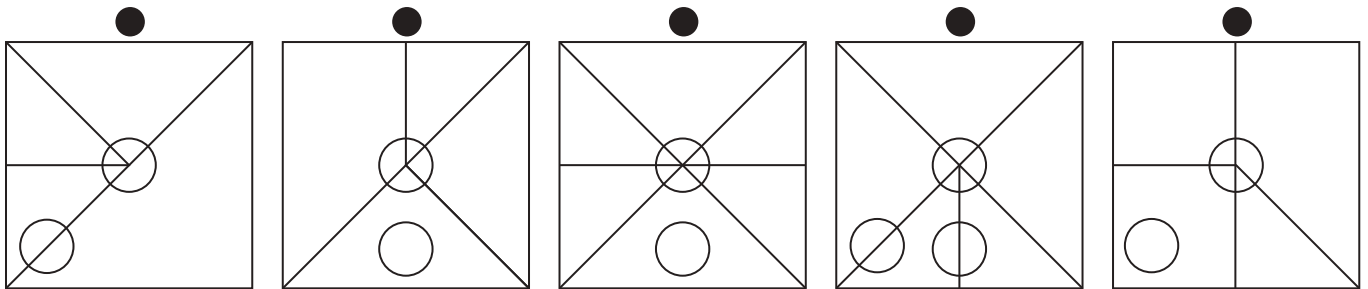
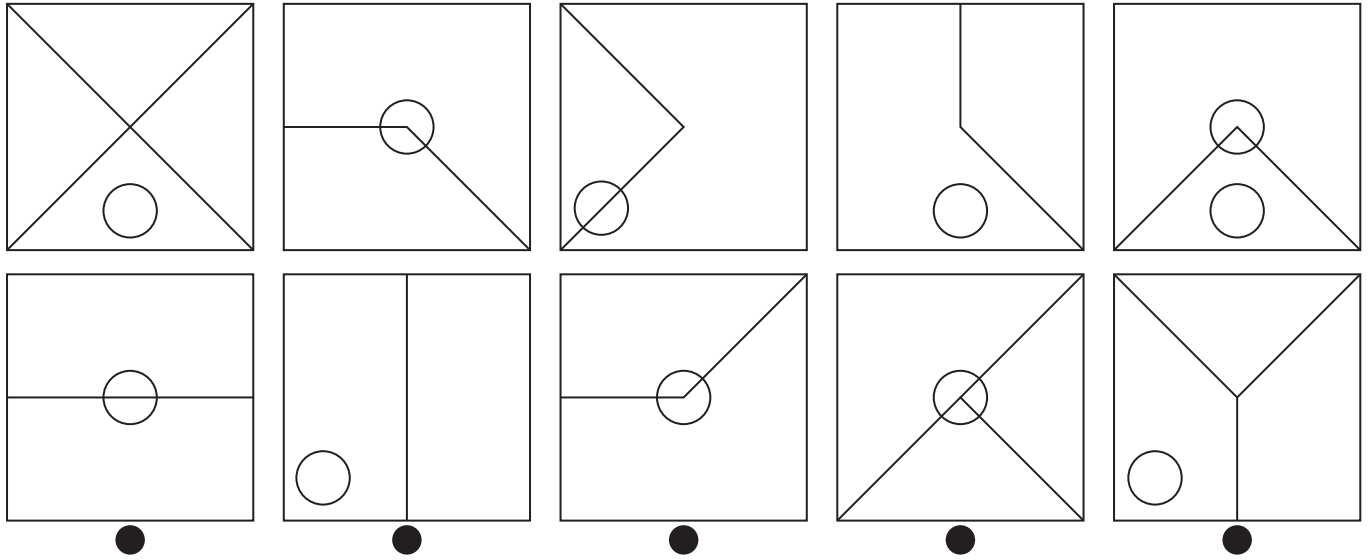
# おうちで、やろう。

Study at home. 小学校受験の家庭学習教材

図形：重ね 27

上の2枚の透明な板が重なった時の見え方を考えて、正しいものを下から見つけて点と点を線でむすびます。

只里



こどもへ

※1. このプリントは、しながわ・目黒こどもスクールのウェブサイトでダウンロードができます。無断複写・引用はご遠慮ください。  
 ※2. このプリントを活用したオンライン授業のスケジュールは、しながわ・目黒こどもスクールのウェブサイトでご確認ください。

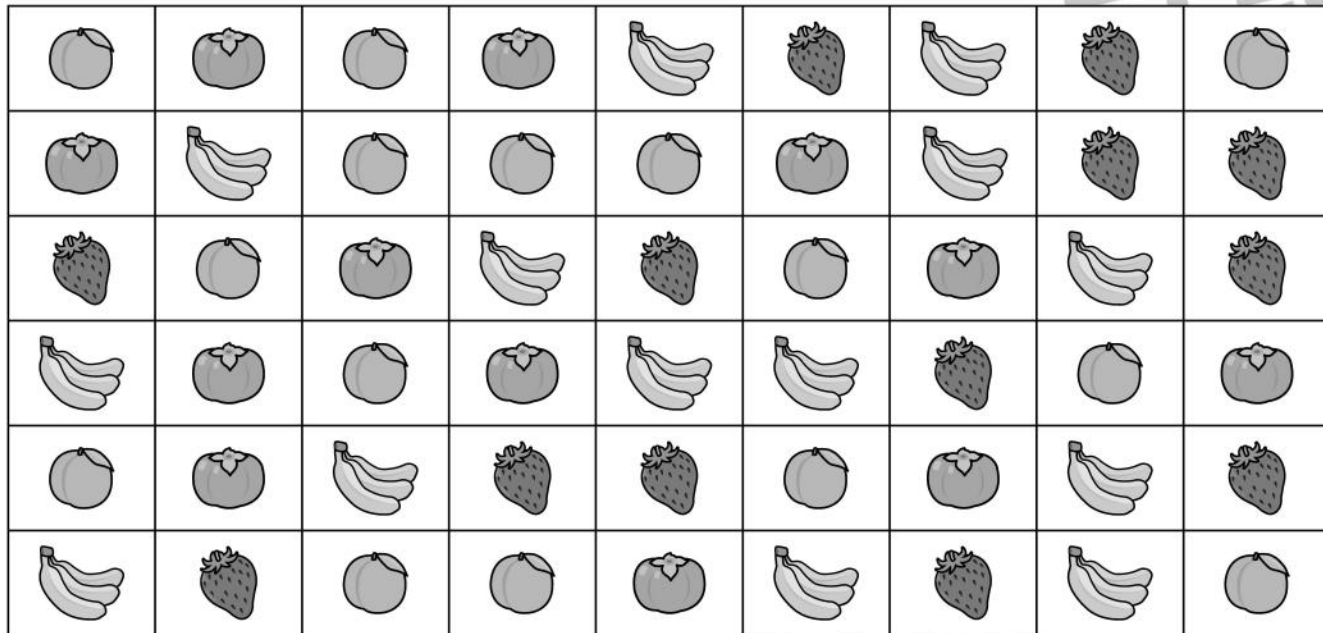
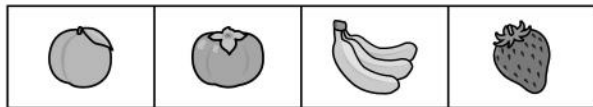


# おうちで、やろう。



Study at home. 小学校受験の家庭学習教材

図形：同図形 10

上の四角がお手本です。お手本と同じ並び方をしている所を見つけて囲みます。また囲んだ数だけ、★の横の四角に○をかきます。



--



--

※1. このプリントは、しながわ・目黒こどもスクールのウェブサイトでダウンロードができます。無断複写・引用はご遠慮ください。  
 ※2. このプリントを活用したオンライン授業のスケジュールは、しながわ・目黒こどもスクールのウェブサイトでご確認ください。







# おうちで、やろう。

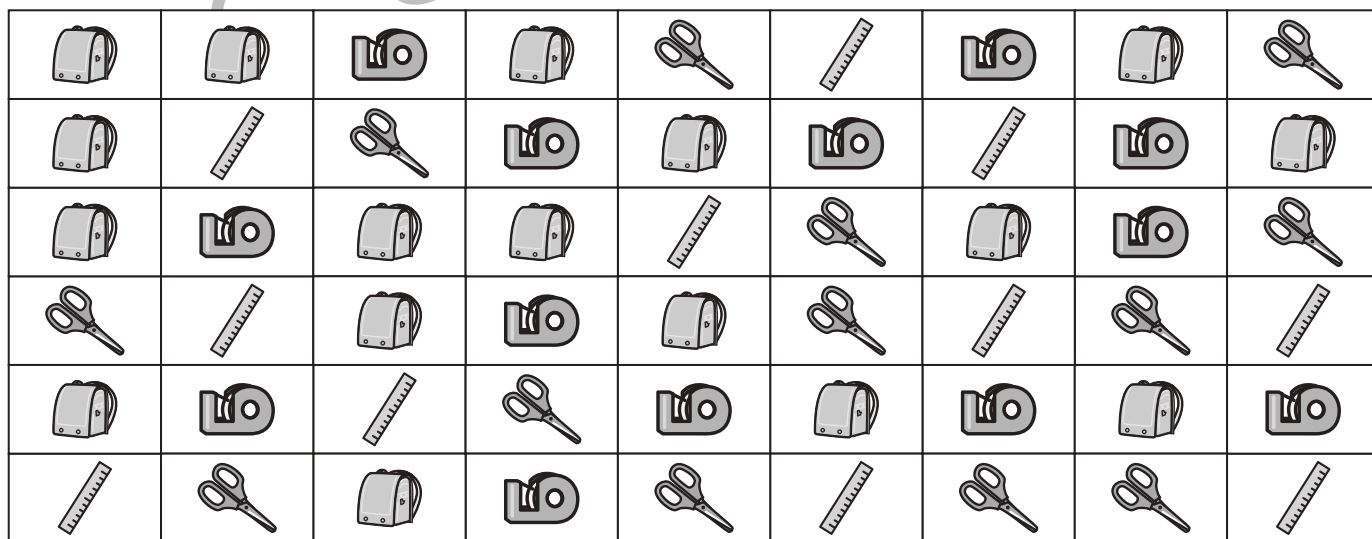

Study at home. 小学校受験の家庭学習教材

図形：同図形 11

上の四角がお手本です。お手本と同じ並び方をしている所を見つけて囲みます。また囲んだ数だけ、★の横の四角に○をかきます。



--



--

※1. このプリントは、しながわ・目黒こどもスクールのウェブサイトでダウンロードができます。無断複写・引用はご遠慮ください。

※2. このプリントを活用したオンライン授業のスケジュールは、しながわ・目黒こどもスクールのウェブサイトでご確認ください。



# おうちで、やろう。

Study at home. 小学校受験の家庭学習教材

## 推理：あみだくじ7

▲からスタートして、☆に着くようにあみだくじを進みます。途中にある点線のうちどれか1本をなぞって通る時、どの点線をなぞれば良いですか。その点線をなぞります。

The image contains four mazes arranged in a 2x2 grid. Each maze is a square with a solid black triangle at the top and a white star at the bottom. The mazes are formed by vertical lines and horizontal lines connecting them. The horizontal lines are either solid or dashed. The goal is to trace a path from the triangle to the star by choosing one dashed line to follow at each junction.

- Top-Left Maze:** Triangle at top, star at bottom. Vertical lines are at x=10, 20, 30, 40. Horizontal lines connect them. Dashed lines are at y=15, 25, 35, 45.
- Top-Right Maze:** Triangle at top, star at bottom. Vertical lines are at x=10, 20, 30, 40. Horizontal lines connect them. Dashed lines are at y=15, 25, 35, 45.
- Bottom-Left Maze:** Triangle at top, star at bottom. Vertical lines are at x=10, 20, 30, 40. Horizontal lines connect them. Dashed lines are at y=15, 25, 35, 45.
- Bottom-Right Maze:** Triangle at top, star at bottom. Vertical lines are at x=10, 20, 30, 40. Horizontal lines connect them. Dashed lines are at y=15, 25, 35, 45.

※1. このプリントは、しながわ・目黒こどもスクールのウェブサイトダウンロードができます。無断複写・引用はご遠慮ください。

※2. このプリントを活用したオンライン授業のスケジュールは、しながわ・目黒こどもスクールのウェブサイトでご確認ください。



# おうちで、やろう。

Study at home. 小学校受験の家庭学習教材

## 推理：あみだくじ8

▲からスタートして、☆に着くようにあみだくじを進みます。途中にある点線のうちどれか2本をなぞって通る時、どの点線をなぞれば良いですか。その点線をなぞります。

The image contains four Amida-kuzushiji puzzles arranged in a 2x2 grid. Each puzzle has four vertical lines and several horizontal lines connecting them. The horizontal lines are either solid or dashed. A black triangle (▲) is at the top and a white star (☆) is at the bottom of each puzzle. The puzzles are arranged in a 2x2 grid.

※1. このプリントは、しながわ・目黒こどもスクールのウェブサイトでダウンロードができます。無断複写・引用はご遠慮ください。  
 ※2. このプリントを活用したオンライン授業のスケジュールは、しながわ・目黒こどもスクールのウェブサイトでご確認ください。



# おうちで、やろう。

Study at home. 小学校受験の家庭学習教材

## 推理：比較6

横に並んだ4つの四角の中で、灰色のマスが1番多いものに○をつけます。

--	--	--	--

--	--	--	--

--	--	--	--

--	--	--	--

--	--	--	--

※1. このプリントは、しながわ・目黒こどもスクールのウェブサイトでダウンロードができます。無断複写・引用はご遠慮ください。  
 ※2. このプリントを活用したオンライン授業のスケジュールは、しながわ・目黒こどもスクールのウェブサイトでご確認ください。





# おうちで、やろう。

Study at home. 小学校受験の家庭学習教材

## 推理：比較 7

横に並んだ4つの四角の中で、灰色のマスが1番少ないものに○をつけます。


※1. このプリントは、しながわ・目黒こどもスクールのウェブサイトからダウンロードできます。無断複写・引用はご遠慮ください。  
 ※2. このプリントを活用したオンライン授業のスケジュールは、しながわ・目黒こどもスクールのウェブサイトでご確認ください。



# おうちで、やろう。

Study at home. 小学校受験の家庭学習教材

数量：加減 22

男の子と女の子がそれぞれお皿の上の数だけクッキーを持っています。2人のクッキーが3つ違う四角に○をつけます。


※1. このプリントは、しながわ・目黒こどもスクールのウェブサイトでダウンロードができます。無断複写・引用はご遠慮ください。

※2. このプリントを活用したオンライン授業のスケジュールは、しながわ・目黒こどもスクールのウェブサイトでご確認ください。