

















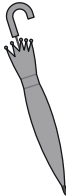



おうちで、やろう。

Study at home. 小学校受験の家庭学習教材

言語：数え方 8

上の四角の絵の数え方と同じ数え方をするものを、真ん中の段と下の段から見つけて点と点を線でむすびます。

※1. このプリントは、しながわ・目黒こどもスクールのウェブサイトでダウンロードができます。無断複写・引用はご遠慮ください。
※2. このプリントを活用したオンライン授業のスケジュールは、しながわ・目黒こどもスクールのウェブサイトでご確認ください。



おうちで、やろう。

Study at home. 小学校受験の家庭学習教材

図形：重ね 26

上の2枚の透明な板が重なった時の見え方を考えて、正しいものを下から見つけて点と点を線でむすびます。

口里

The puzzle consists of two rows of five squares each. The top row contains five different geometric patterns. The bottom row contains five squares, each with a different combination of lines. Lines connect dots on the bottom of the top row to dots on the top of the bottom row, forming a matching puzzle.

こどもへ

※1. このプリントは、しながわ・目黒こどもスクールのウェブサイトでダウンロードができます。無断複写・引用はご遠慮ください。
※2. このプリントを活用したオンライン授業のスケジュールは、しながわ・目黒こどもスクールのウェブサイトでご確認ください。



おうちで、やろう。

Study at home. 小学校受験の家庭学習教材

図形：重ね 27

上の2枚の透明な板が重なった時の見え方を考えて、正しいものを下から見つけて点と点を線でむすびます。

只里

子どもへ

※1. このプリントは、しながわ・目黒こどもスクールのウェブサイトでダウンロードができます。無断複写・引用はご遠慮ください。
 ※2. このプリントを活用したオンライン授業のスケジュールは、しながわ・目黒こどもスクールのウェブサイトでご確認ください。

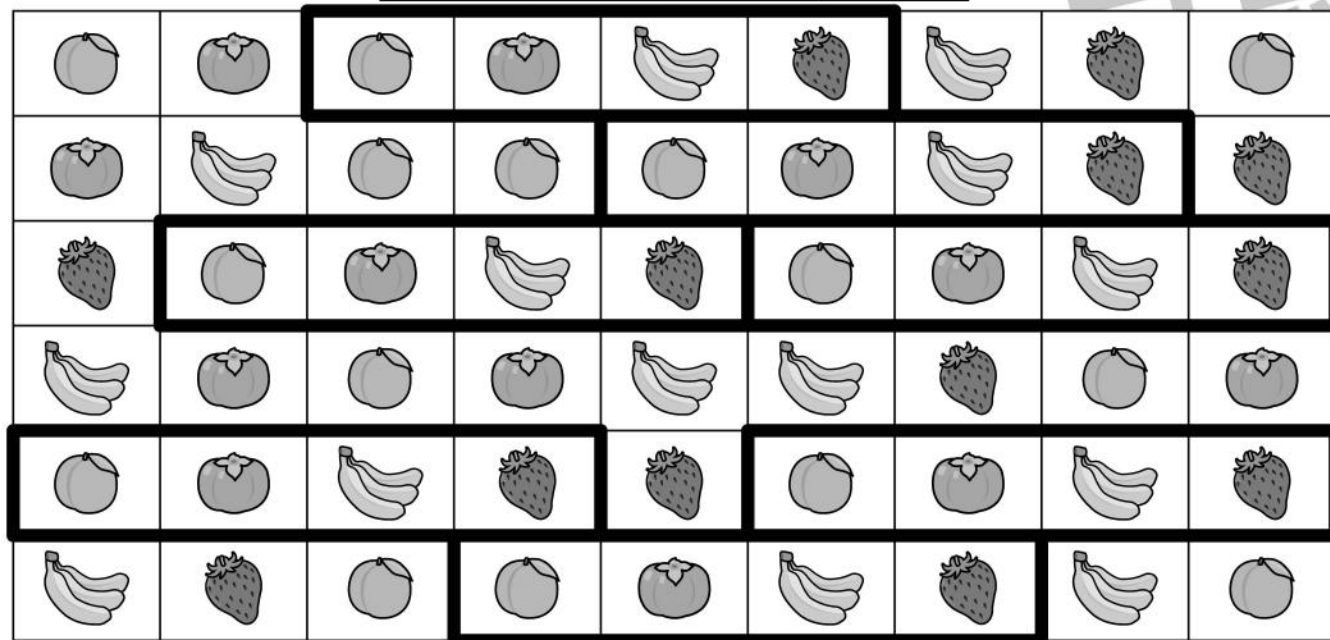
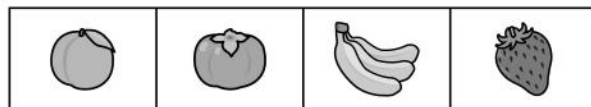


おうちで、やろう。



Study at home. 小学校受験の家庭学習教材

図形：同図形 10

上の四角がお手本です。お手本と同じ並び方をしている所を見つけて囲みます。また囲んだ数だけ、★の横の四角に○をかきます。



★ ○×7



★ ○×8

※1. このプリントは、しながわ・目黒こどもスクールのウェブサイトでダウンロードができます。無断複写・引用はご遠慮ください。
※2. このプリントを活用したオンライン授業のスケジュールは、しながわ・目黒こどもスクールのウェブサイトでご確認ください。







おうちで、やろう。

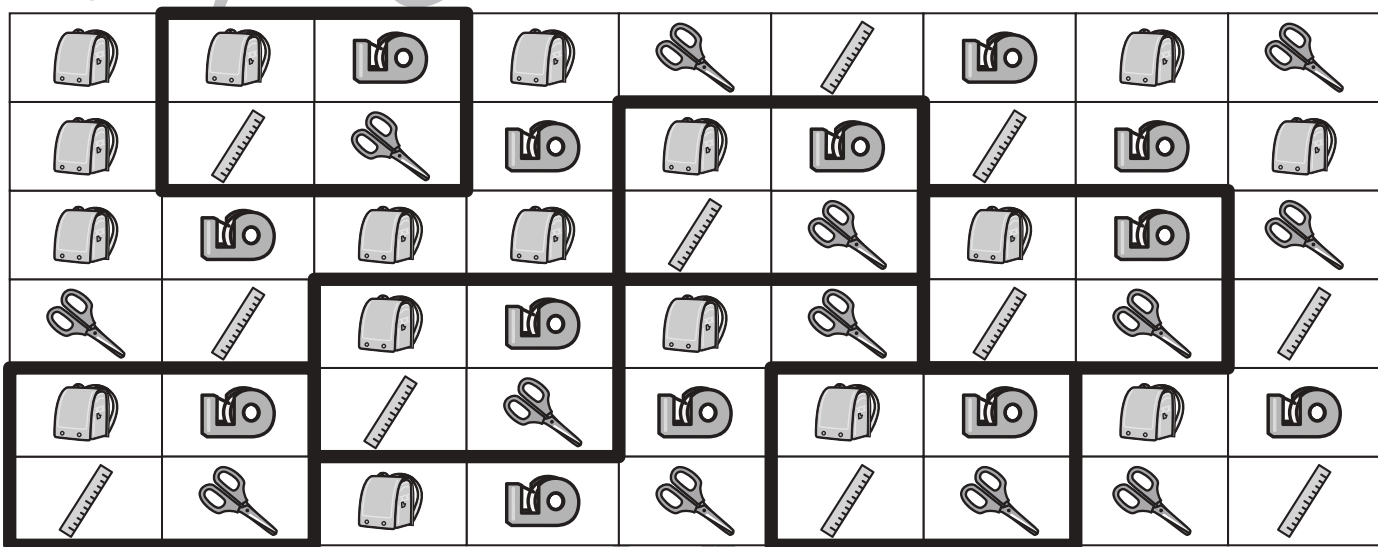

Study at home. 小学校受験の家庭学習教材

図形：同図形 11

上の四角がお手本です。お手本と同じ並び方をしている所を見つけて囲みます。また囲んだ数だけ、★の横の四角に○をかきます。



○×8



○×6

※1. このプリントは、しながわ・目黒こどもスクールのウェブサイトでダウンロードができます。無断複写・引用はご遠慮ください。
※2. このプリントを活用したオンライン授業のスケジュールは、しながわ・目黒こどもスクールのウェブサイトでご確認ください。





おうちで、やろう。

Study at home. 小学校受験の家庭学習教材

推理：あみだくじ

▲からスタートして、☆に着くようにあみだくじを進みます。途中にある点線のうちどれか1本をなぞって通る時、どの点線をなぞれば良いですか。その点線をなぞります。

The puzzles are arranged in a 2x2 grid. Each puzzle has two vertical paths. The top path starts with a triangle (▲) and the bottom path ends with a star (☆). The paths are connected by horizontal lines. In each puzzle, one of the horizontal lines is thickened to indicate the correct path to follow.

- Top-left puzzle:** The thickened line is the second dashed line from the top.
- Top-right puzzle:** The thickened line is the first dashed line from the top.
- Bottom-left puzzle:** The thickened line is the second dashed line from the bottom.
- Bottom-right puzzle:** The thickened line is the first dashed line from the bottom.

※1. このプリントは、しながわ・目黒こどもスクールのウェブサイトダウンロードができます。無断複写・引用はご遠慮ください。

※2. このプリントを活用したオンライン授業のスケジュールは、しながわ・目黒こどもスクールのウェブサイトでご確認ください。



おうちで、やろう。

Study at home. 小学校受験の家庭学習教材

推理：あみだくじ8

▲からスタートして、☆に着くようにあみだくじを進みます。途中にある点線のうちどれか2本をなぞって通る時、どの点線をなぞれば良いですか。その点線をなぞります。

The image contains four Amida-kuji puzzles arranged in a 2x2 grid. Each puzzle has three vertical lines and several horizontal bars connecting them. A solid black triangle (▲) is at the top and a white star (☆) is at the bottom. Dashed lines indicate potential paths. In each puzzle, two dashed lines are highlighted with thick black bars to indicate the correct path to follow.

※1. このプリントは、しながわ・目黒こどもスクールのウェブサイトでダウンロードができます。無断複写・引用はご遠慮ください。
 ※2. このプリントを活用したオンライン授業のスケジュールは、しながわ・目黒こどもスクールのウェブサイトでご確認ください。



おうちで、やろう。

Study at home. 小学校受験の家庭学習教材

推理：比較6

横に並んだ4つの四角の中で、灰色のマスが1番多いものに○をつけます。

※1. このプリントは、しながわ・目黒こどもスクールのウェブサイトでダウンロードができます。無断複写・引用はご遠慮ください。
 ※2. このプリントを活用したオンライン授業のスケジュールは、しながわ・目黒こどもスクールのウェブサイトでご確認ください。



おうちで、やろう。

Study at home. 小学校受験の家庭学習教材

推理：比較 7

横に並んだ4つの四角の中で、灰色のマスが1番少ないものに○をつけます。

--	--	--	--

--	--	--	--

--	--	--	--

--	--	--	--

--	--	--	--

※1. このプリントは、しながわ・目黒こどもスクールのウェブサイトでダウンロードができます。無断複写・引用はご遠慮ください。
 ※2. このプリントを活用したオンライン授業のスケジュールは、しながわ・目黒こどもスクールのウェブサイトでご確認ください。



おうちで、やろう。

Study at home. 小学校受験の家庭学習教材

数量：加減 22

男の子と女の子がそれぞれお皿の上の数だけクッキーを持っています。2人のクッキーが3つ違う四角に○をつけます。

※1. このプリントは、しながわ・目黒こどもスクールのウェブサイトでダウンロードができます。無断複写・引用はご遠慮ください。
※2. このプリントを活用したオンライン授業のスケジュールは、しながわ・目黒こどもスクールのウェブサイトでご確認ください。

