





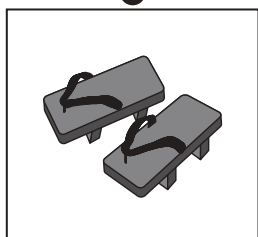





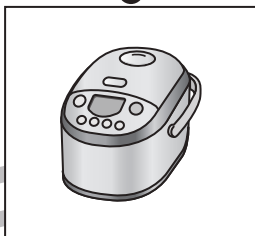










おうちで、やろう。

Study at home. 小学校受験の家庭学習教材

言語：しりとり 12

一番上の段から一番下の段まで順番にしりとりでつながるように、点と点を線でむすびます。



※1. このプリントは、しながわ・目黒こどもスクールのウェブサイトでダウンロードができます。無断複写・引用はご遠慮ください。
※2. このプリントを活用したオンライン授業のスケジュールは、しながわ・目黒こどもスクールウェブサイトでご確認ください。












おうちで、やろう。

Study at home. 小学校受験の家庭学習教材

言語：音の理解 25

太い四角がお手本です。絵の名前の音の数だけ絵の下に○があり、左端がはじめの音です。●の場所の音からはじまる絵を、下の四角の中から全て見つけて○をつけます。



※1. このプリントは、しながわ・目黒こどもスクールのウェブサイトでダウンロードができます。無断複写・引用はご遠慮ください。
※2. このプリントを活用したオンライン授業のスケジュールは、しながわ・目黒こどもスクールのウェブサイトでご確認ください。



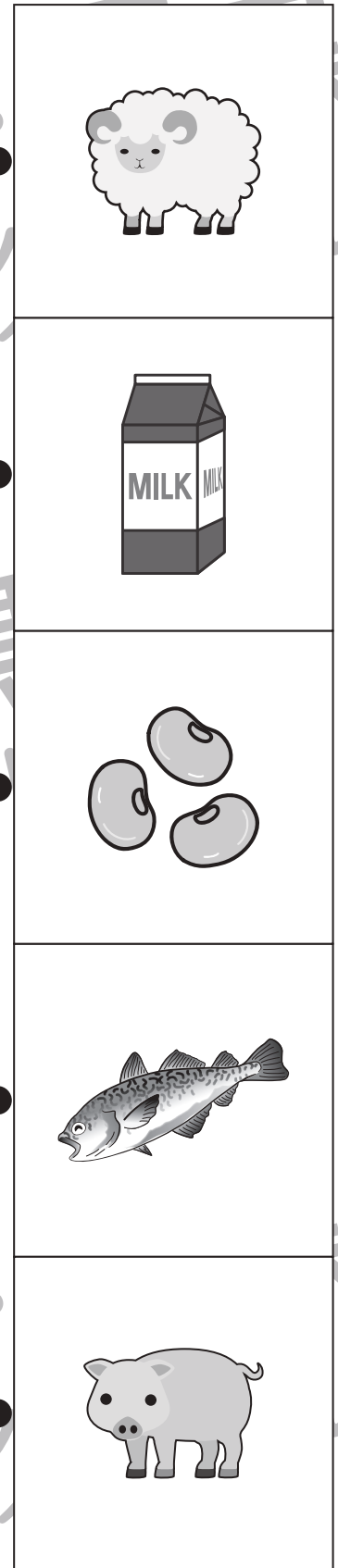



おうちで、やろう。

Study at home. 小学校受験の家庭学習教材

常識：生活5

左の四角の中のものは何からできていますか。正しいものを右から見つけて、点と点を線でむすびます。



※1. このプリントは、しながわ・目黒こどもスクールのウェブサイトでダウンロードができます。無断複写・引用はご遠慮ください。
 ※2. このプリントを活用したオンライン授業のスケジュールは、しながわ・目黒こどもスクールのウェブサイトでご確認ください。

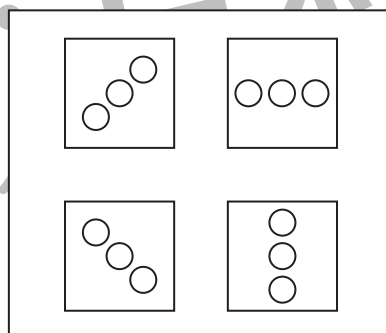
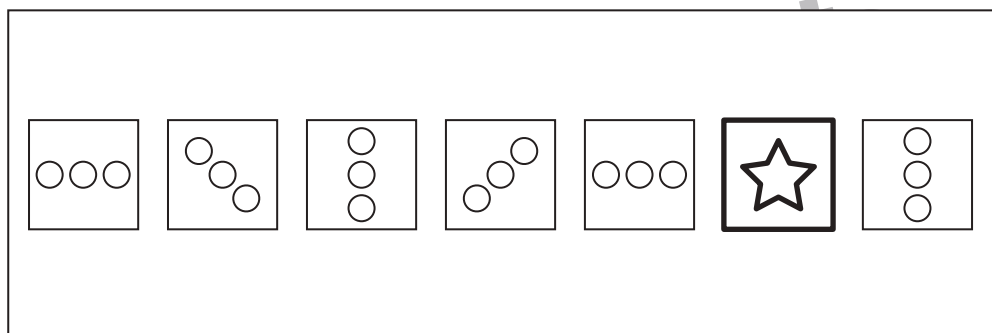
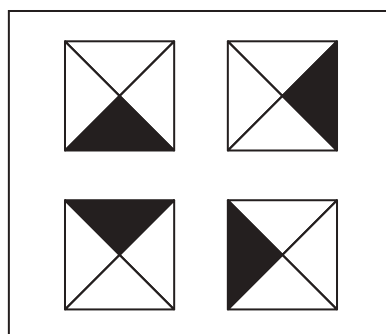

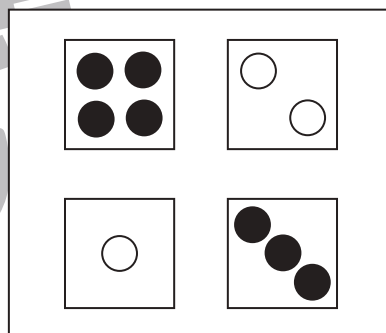
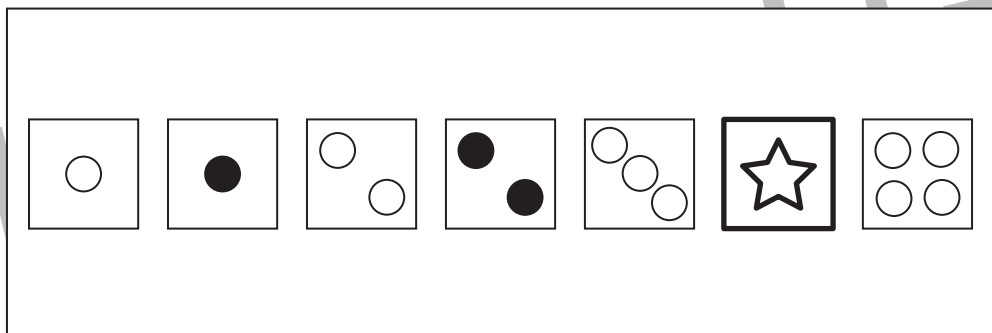
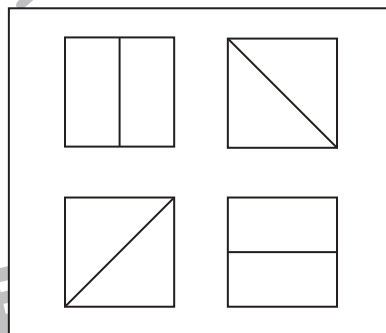

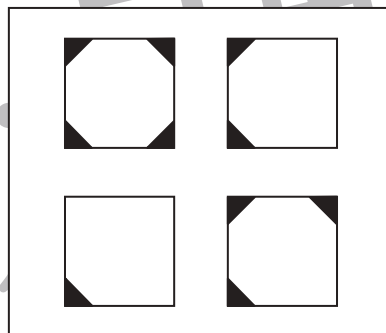
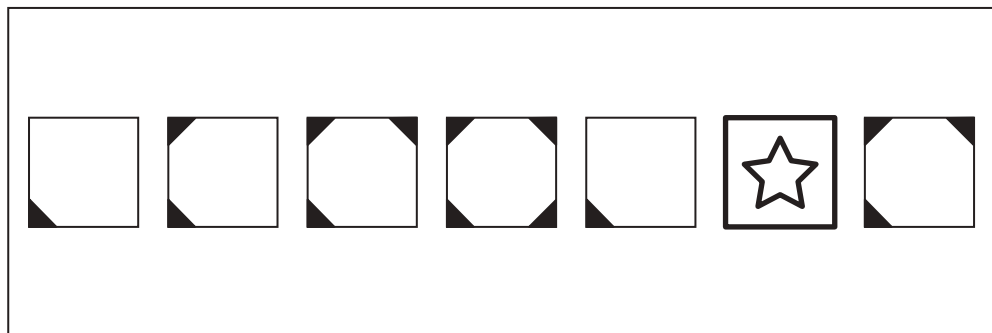


おうちで、やろう。

Study at home. 小学校受験の家庭学習教材

推理：系列完成 12

左から形や印がある決まりにしたがって並んでいます。星がかいてある四角のところに入るものを右の四角の中から見つけて○をつけます。



※1. このプリントは、しながわ・目黒こどもスクールのウェブサイトでダウンロードができます。無断複写・引用はご遠慮ください。
 ※2. このプリントを活用したオンライン授業のスケジュールは、しながわ・目黒こどもスクールのウェブサイトでご確認ください。

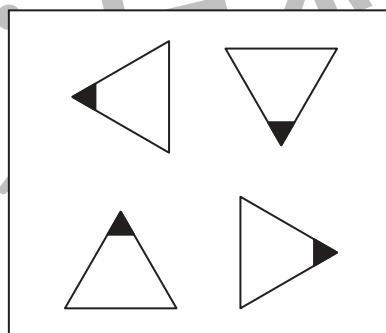
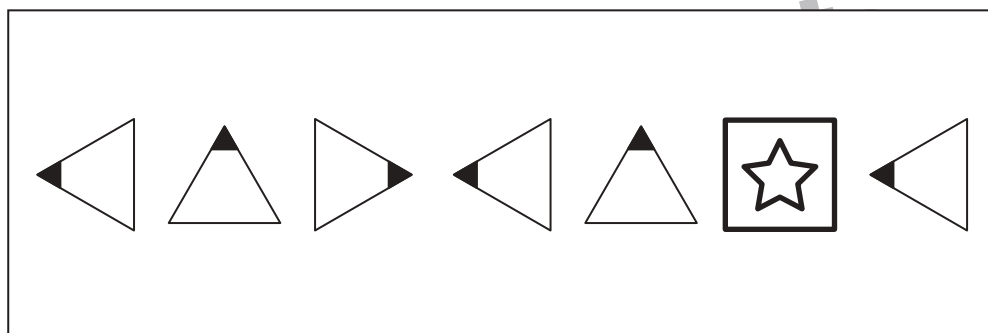
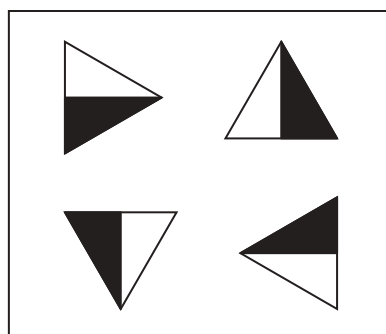
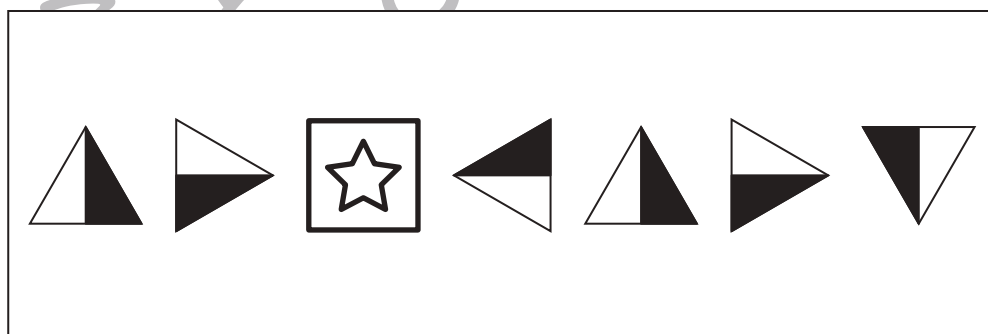
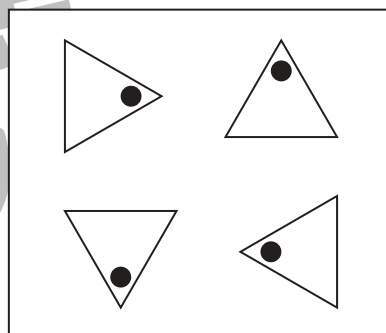
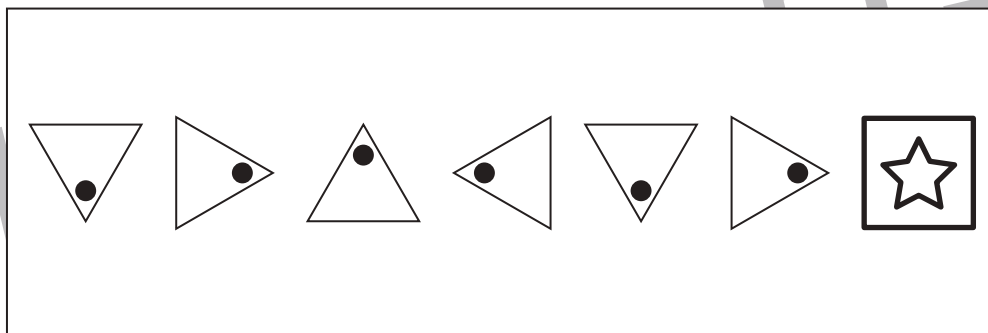
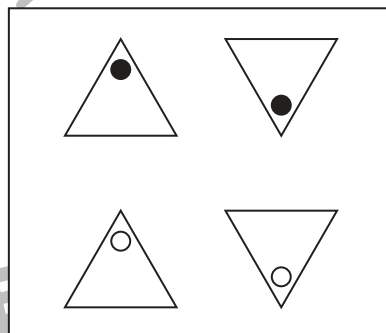
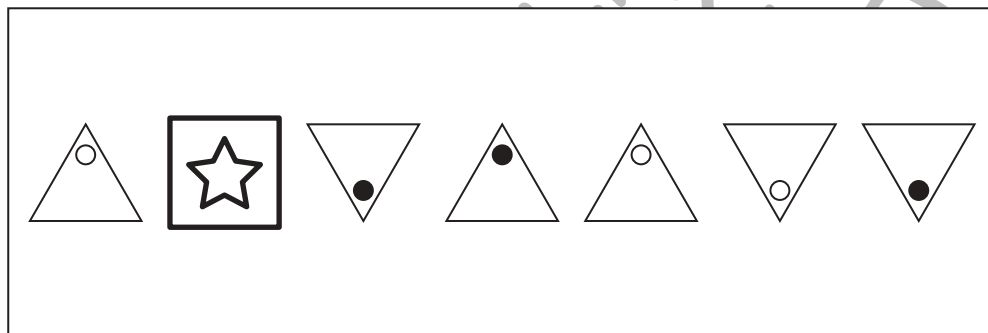
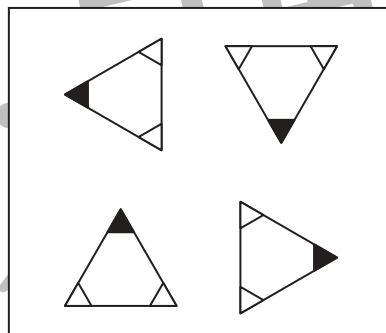
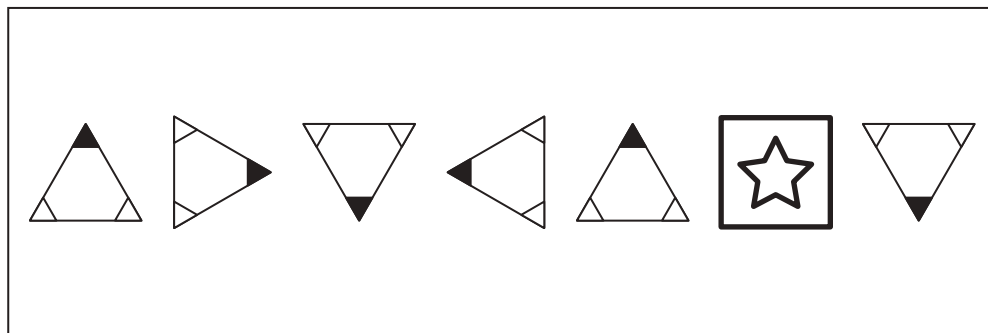


おうちで、やろう。

Study at home. 小学校受験の家庭学習教材

推理：系列完成 13

左から形や印がある決まりにしたがって並んでいます。星がかいてある四角のところに入るものを右の四角の中から見つけて○をつけます。



※1. このプリントは、しながわ・目黒こどもスクールのウェブサイトでダウンロードができます。無断複写・引用はご遠慮ください。
 ※2. このプリントを活用したオンライン授業のスケジュールは、しながわ・目黒こどもスクールのウェブサイトでご確認ください。



おうちで、やろう。

Study at home. 小学校受験の家庭学習教材

推理：系列完成 14

左から形や印がある決まりにしたがって並んでいます。星がかいてある四角のところに入るものを右の四角の中から見つけて○をつけます。

↑	→	↓	←	↑	★	↓
---	---	---	---	---	---	---

→	←
↑	↓

↖	↗	↘	↙	↖	★	↘
---	---	---	---	---	---	---

↖	↘
↙	↗

←	↓	★	↑	←	↓	↓
---	---	---	---	---	---	---

↑	↓
←	→

↓	★	←	←	↓	↑	←
---	---	---	---	---	---	---

↓	→
↑	←

↗	↖	↙	↘	★	↖	↙
---	---	---	---	---	---	---

↘	↗
↖	↙

※1. このプリントは、しながわ・目黒こどもスクールのウェブサイトでダウンロードができます。無断複写・引用はご遠慮ください。
 ※2. このプリントを活用したオンライン授業のスケジュールは、しながわ・目黒こどもスクールのウェブサイトでご確認ください。



おうちで、よろう。

Study at home. 小学校受験の家庭学習教材

推理：広さ6

太い四角の中の形がお手本です。黒いところの広さがお手本と同じになるものを、右の四角の中から見つけて○をつけます。

※1. このプリントは、しながわ・目黒こどもスクールのウェブサイトでダウンロードができます。無断複写・引用はご遠慮ください。
 ※2. このプリントを活用したオンライン授業のスケジュールは、しながわ・目黒こどもスクールのウェブサイトでご確認ください。



おうちで、よろう。

Study at home. 小学校受験の家庭学習教材

数量：広さ7

太い四角の中の形がお手本です。黒いところの広さがお手本と同じになるものを、右の四角の中から見つけて○をつけます。

※1. このプリントは、しながわ・目黒こどもスクールのウェブサイトでダウンロードができます。無断複写・引用はご遠慮ください。

※2. このプリントを活用したオンライン授業のスケジュールは、しながわ・目黒こどもスクールのウェブサイトでご確認ください。

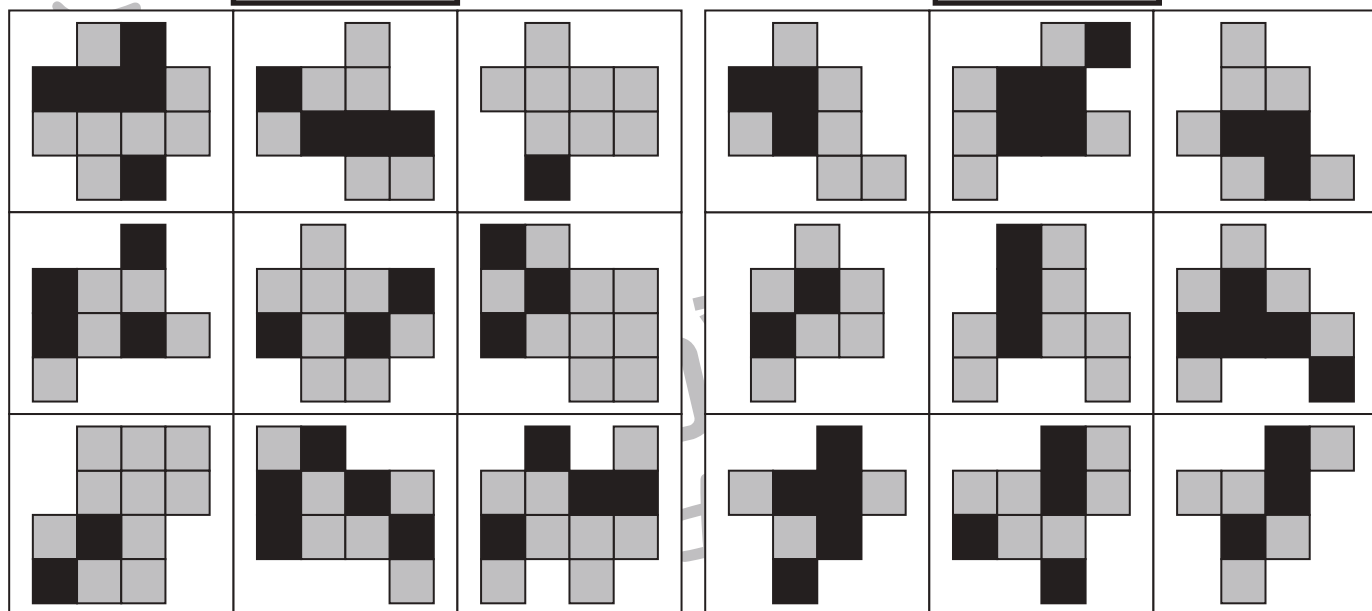
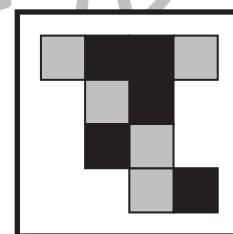
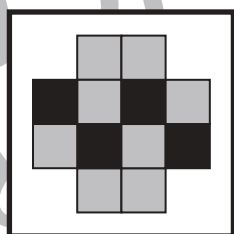
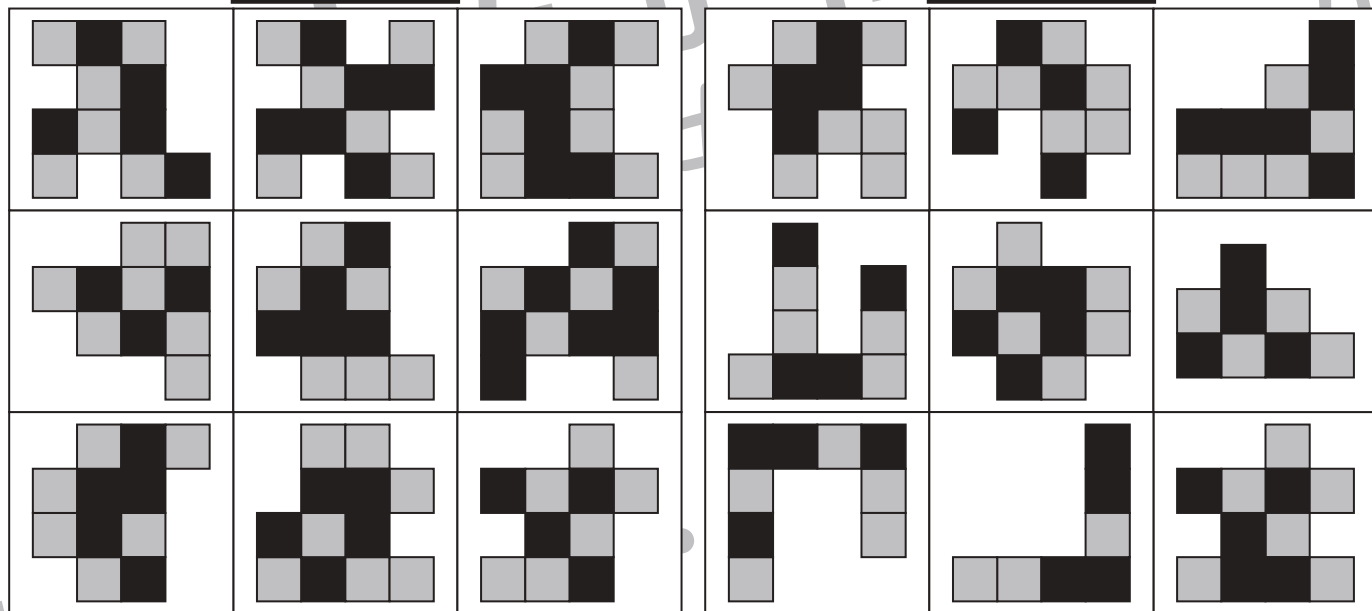
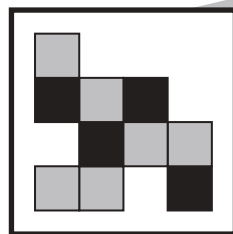



おうちで、やろう。

Study at home. 小学校受験の家庭学習教材

数量：広さ 8

太い四角の中のお手本と灰色の四角の数が同じものを、下の四角の中から全て見つけて○をつけます。



※1. このプリントは、しながわ・目黒こどもスクールのウェブサイトでダウンロードができます。無断複写・引用はご遠慮ください。
 ※2. このプリントを活用したオンライン授業のスケジュールは、しながわ・目黒こどもスクールのウェブサイトでご確認ください。

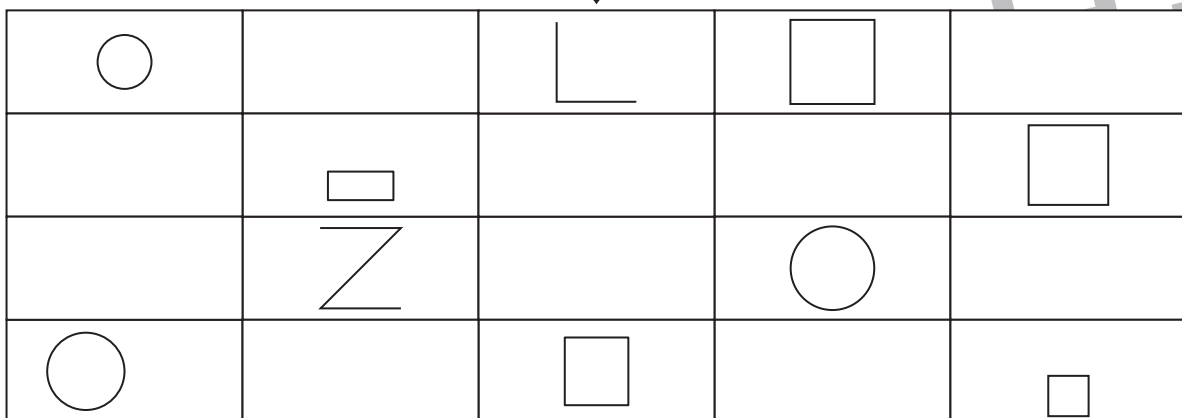
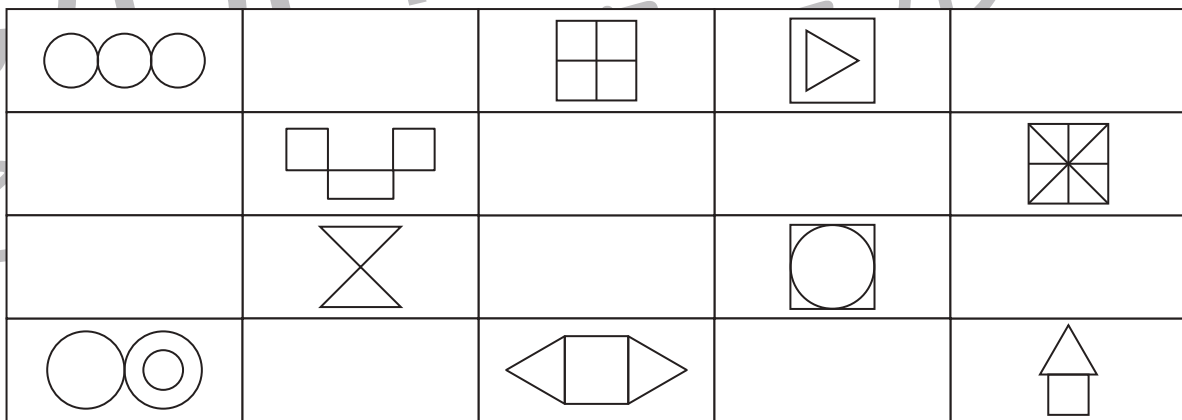
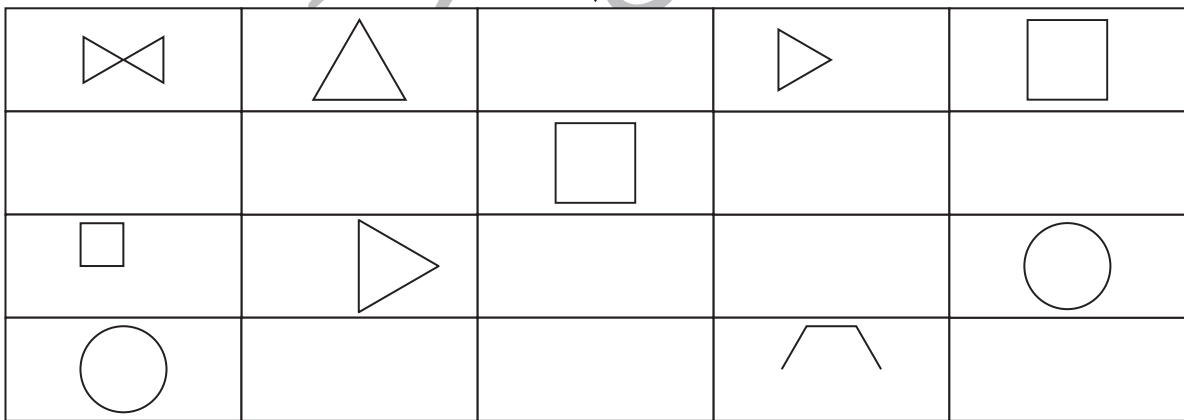
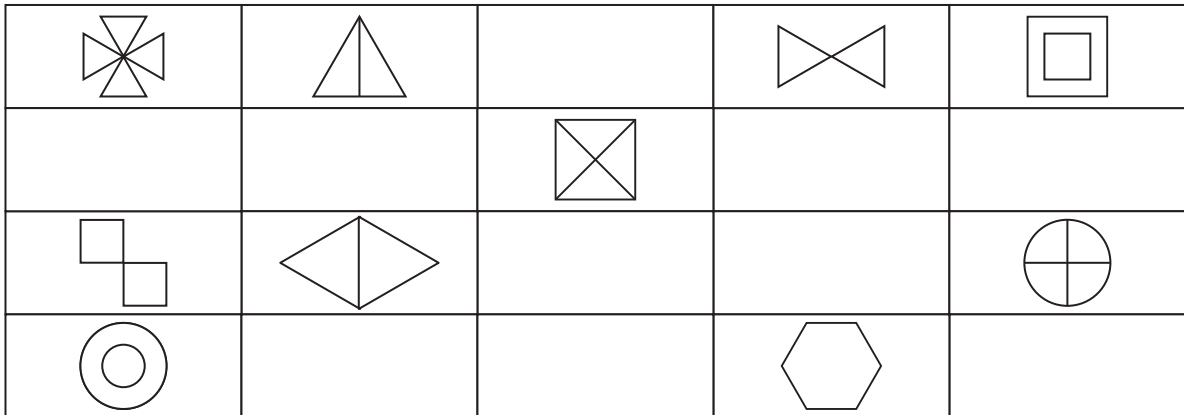


おうちで、やろう。

Study at home. 小学校受験の家庭学習教材

運筆：模写 14

上のお手本と同じようになるように、下の四角にかいてある形の足りないところをかきます。



※1. このプリントは、しながわ・目黒こどもスクールのウェブサイトでダウンロードができます。無断複写・引用はご遠慮ください。
 ※2. このプリントを活用したオンライン授業のスケジュールは、しながわ・目黒こどもスクールのウェブサイトでご確認ください。