

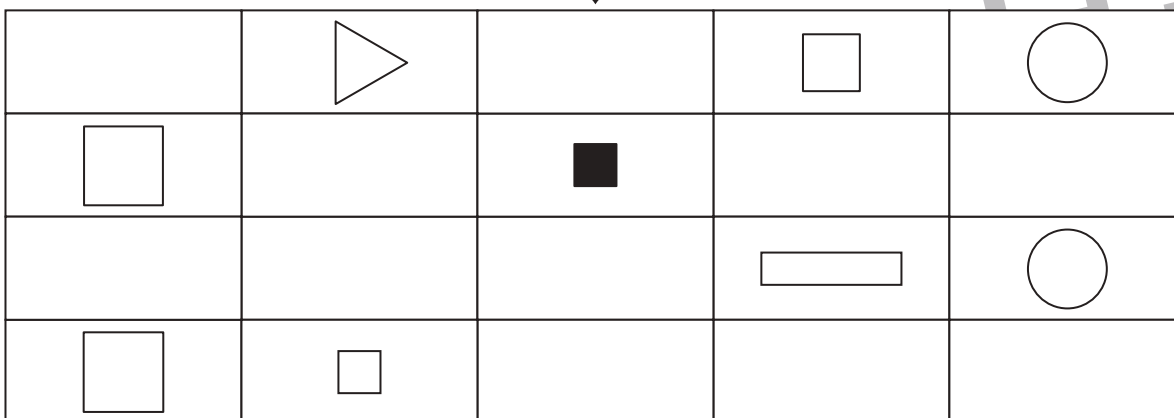
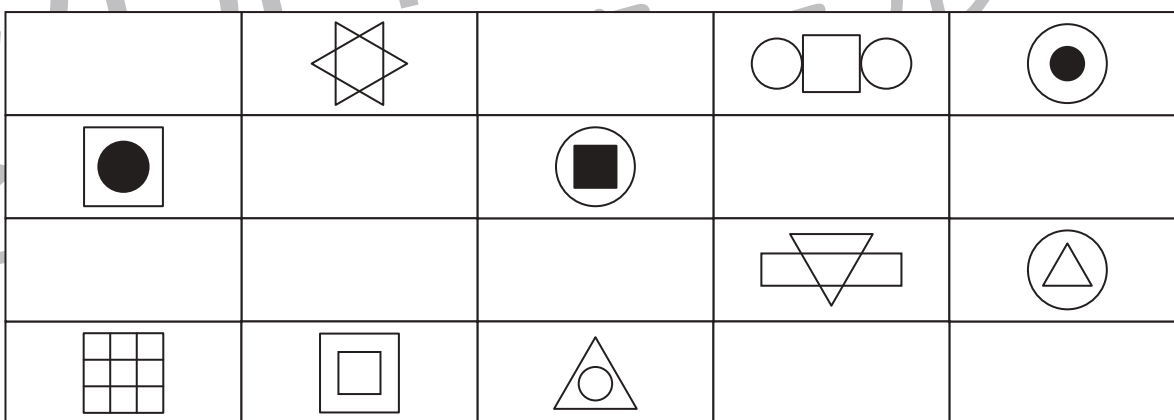
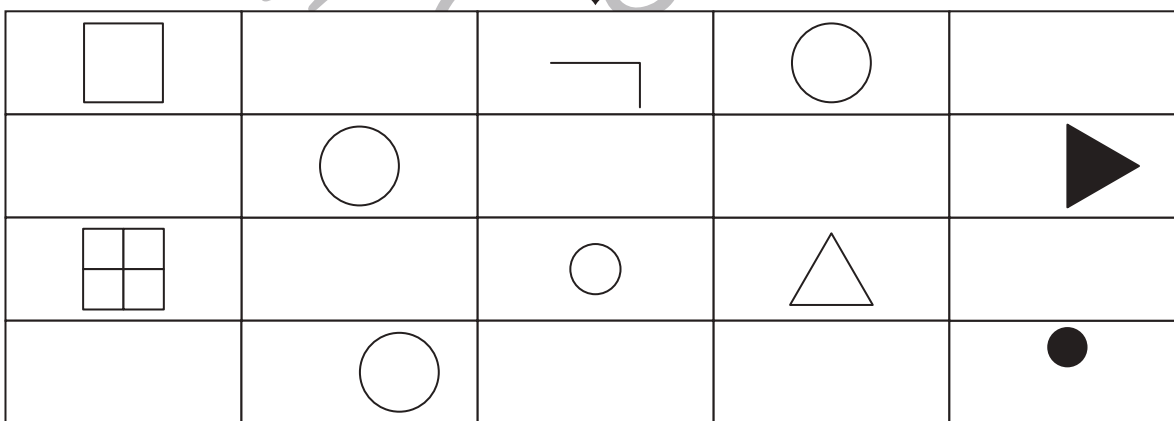
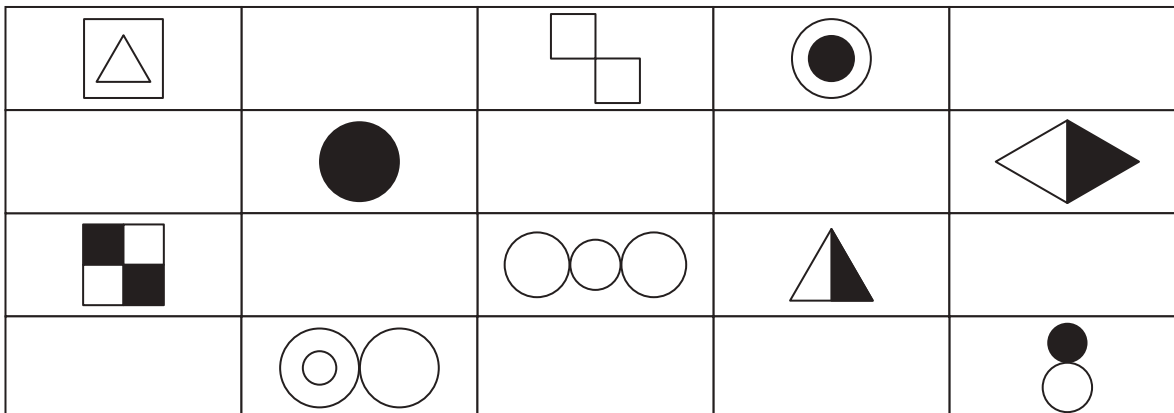


おうちで、やろう。

Study at home. 小学校受験の家庭学習教材

運筆：模写 15

上のお手本と同じようになるように、下の四角にかいてある形の足りないところをかいたり塗ったりします。



※1. このプリントは、しながわ・目黒こどもスクールのウェブサイトでダウンロードができます。無断複写・引用はご遠慮ください。
 ※2. このプリントを活用したオンライン授業のスケジュールは、しながわ・目黒こどもスクールのウェブサイトでご確認ください。




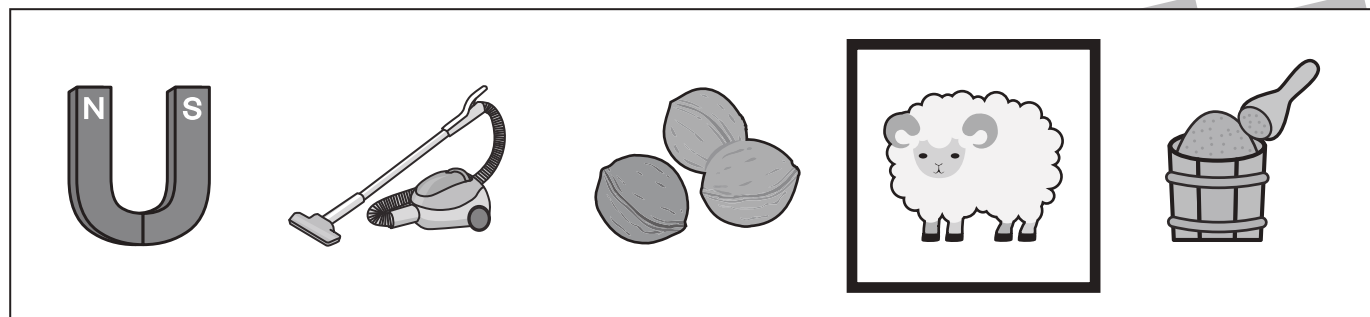


おうちで、やろう。

Study at home. 小学校受験の家庭学習教材

言語：しりとり 13

太い四角の中の絵から全部の絵をしりとりでつないだ時、1番最後になる絵に○をつけます。



※1. このプリントは、しながわ・目黒こどもスクールのウェブサイトからダウンロードできます。無断複写・引用はご遠慮ください。

※2. このプリントを活用したオンライン授業のスケジュールは、しながわ・目黒こどもスクールのウェブサイトでご確認ください。



おうちで、やろう。

Study at home. 小学校受験の家庭学習教材

処理能力：置き換え 6

上の太い四角の中が約束です。マスの中に並んでいる印を約束通りの印に置き換えて、下の四角の同じ場所にかきます。

○ → ×	× → △	△ → ○
-------	-------	-------

×	○	○	△	×
△	×	×	△	○
○	△	○	×	△
○	×	△	○	×



○ → △	× → □	△ → ×	□ → ○
-------	-------	-------	-------

○	○	△	□	□
□	×	△	○	×
×	□	○	×	△
○	△	△	□	○



※1. このプリントは、しながわ・目黒こどもスクールのウェブサイトでダウンロードができます。無断複写・引用はご遠慮ください。

※2. このプリントを活用したオンライン授業のスケジュールは、しながわ・目黒こどもスクールのウェブサイトでご確認ください。





おうちで、やろう。

Study at home. 小学校受験の家庭学習教材

推理：じゃんけん6

はなこさんとたろうくんがじゃんけんをして、階段をのぼっていきます。じゃんけんに勝つと階段を1段のぼれます。負けた時とあいこの時は階段をのぼることはできません。四角の中のようにじゃんけんをすると、はなこさんとたろうくんは、どこに着きますか。はなこさんが着いた段には○を、たろうくんが着いた段には△をかきます。





※1. このプリントは、しながわ・目黒こどもスクールのウェブサイトでダウンロードができます。無断複写・引用はご遠慮ください。

※2. このプリントを活用したオンライン授業のスケジュールは、しながわ・目黒こどもスクールのウェブサイトでご確認ください。


















おうちで、やろう。

















Study at home. 小学校受験の家庭学習教材


推理：じゃんけん7

はなこさんとたろうくんがじゃんけんをして、階段をのぼっていきます。じゃんけんに勝つと階段を2段のぼる事ができ、負けると1段下ります。あいこの時は1段のぼれます。四角の中のようにじゃんけんをすると、はなこさんとたろうくんは、最後にどこに着きますか。はなこさんが着いた段には○を、たろうくんが着いた段には×をかきます。

 ○							
 ×							



 ○							
 ×							



※1. このプリントは、しながわ・目黒こどもスクールのウェブサイトでダウンロードができます。無断複写・引用はご遠慮ください。
※2. このプリントを活用したオンライン授業のスケジュールは、しながわ・目黒こどもスクールのウェブサイトでご確認ください。

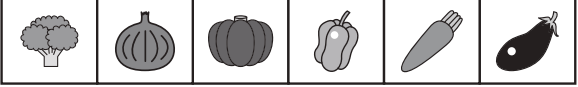
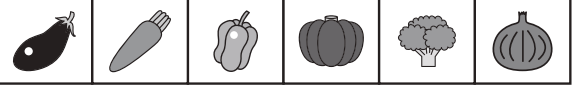

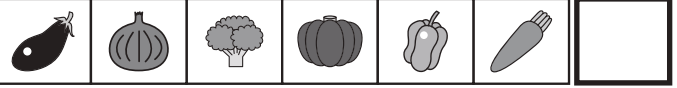


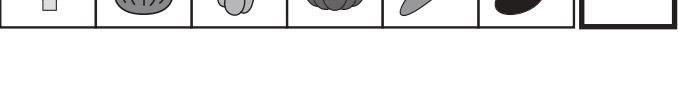
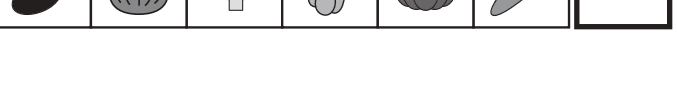
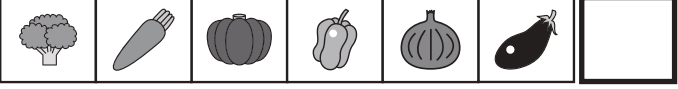
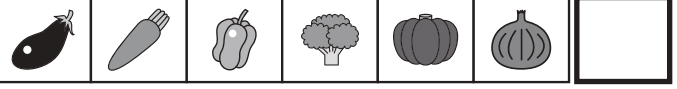

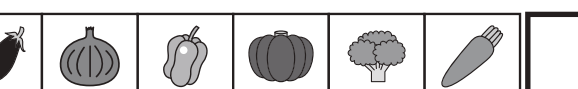










おうちで、やろう。

Study at home. 小学校受験の家庭学習教材

推理：観察力 1

いろいろな野菜や動物がー列に並んでいます。①・②一番上の列のたまねぎとにんじんを入れ替えるとどうなりますか。正しいものを下から見つけて、右の太い四角の中に○をかきます。③・④一番上の列のライオンとリスを入れ替えるとどうなりますか。正しいものを下から見つけて、右の太い四角の中に○をかきます。

<p>①</p> 	<p>②</p> 
	
	
	
	
<p>③</p> 	<p>④</p> 
	
	
	
	

※1. このプリントは、しながわ・目黒こどもスクールのウェブサイトでダウンロードができます。無断複写・引用はご遠慮ください。

※2. このプリントを活用したオンライン授業のスケジュールは、しながわ・目黒こどもスクールのウェブサイトでご確認ください。



おうちで、やろう。

Study at home. 小学校受験の家庭学習教材

推理：観察力 2

いろいろな形が並んでいます。①・②一番上の列の右から2番目の形と左から2番目の形を入れ替えるとどうなりますか。正しいものを下から見つけて、右の太い四角の中に○をかきます。③・④一番上の列の右端の形と左から3番目の形を入れ替えるとどうなりますか。正しいものを下から見つけて、右の太い四角の中に○をかきます。

<p>①</p>	<p>②</p>
<p>③</p>	<p>④</p>

※1. このプリントは、しながわ・目黒こどもスクールのウェブサイトからダウンロードできます。無断複写・引用はご遠慮ください。

※2. このプリントを活用したオンライン授業のスケジュールは、しながわ・目黒こどもスクールのウェブサイトでご確認ください。
















おうちで、やろう。

Study at home. 小学校受験の家庭学習教材

数量：タイヤの数 11

右と左の四角の中の乗り物の、タイヤの数を比べます。左の四角の中のタイヤの数が多い時は○を、右の四角の中のタイヤの数が
が多い時は×を、真ん中の太い四角の中にかきます。



※1. このプリントは、しながわ・目黒こどもスクールのウェブサイトでダウンロードができます。無断複写・引用はご遠慮ください。
※2. このプリントを活用したオンライン授業のスケジュールは、しながわ・目黒こどもスクールのウェブサイトでご確認ください。



おうちで、やろう。

Study at home. 小学校受験の家庭学習教材

数量：加減 25

左と右の四角の中には、四角があつまってできた形があります。左右の形で四角の数はいくつ違いますか。違う数だけ右の太い四角の中に○をかきます。

※1. このプリントは、しながわ・目黒こどもスクールのウェブサイトでダウンロードができます。無断複写・引用はご遠慮ください。

※2. このプリントを活用したオンライン授業のスケジュールは、しながわ・目黒こどもスクールのウェブサイトでご確認ください。



おうちで、やろう。

Study at home. 小学校受験の家庭学習教材

数量：加減 26

左と右の四角の中には、○でできた形があります。左右それぞれの形の○の数はいくつ違いますか。違う数だけ、右の太い四角の中に○をかきます。

※1. このプリントは、しながわ・目黒こどもスクールのウェブサイトでダウンロードができます。無断複写・引用はご遠慮ください。

※2. このプリントを活用したオンライン授業のスケジュールは、しながわ・目黒こどもスクールのウェブサイトでご確認ください。