

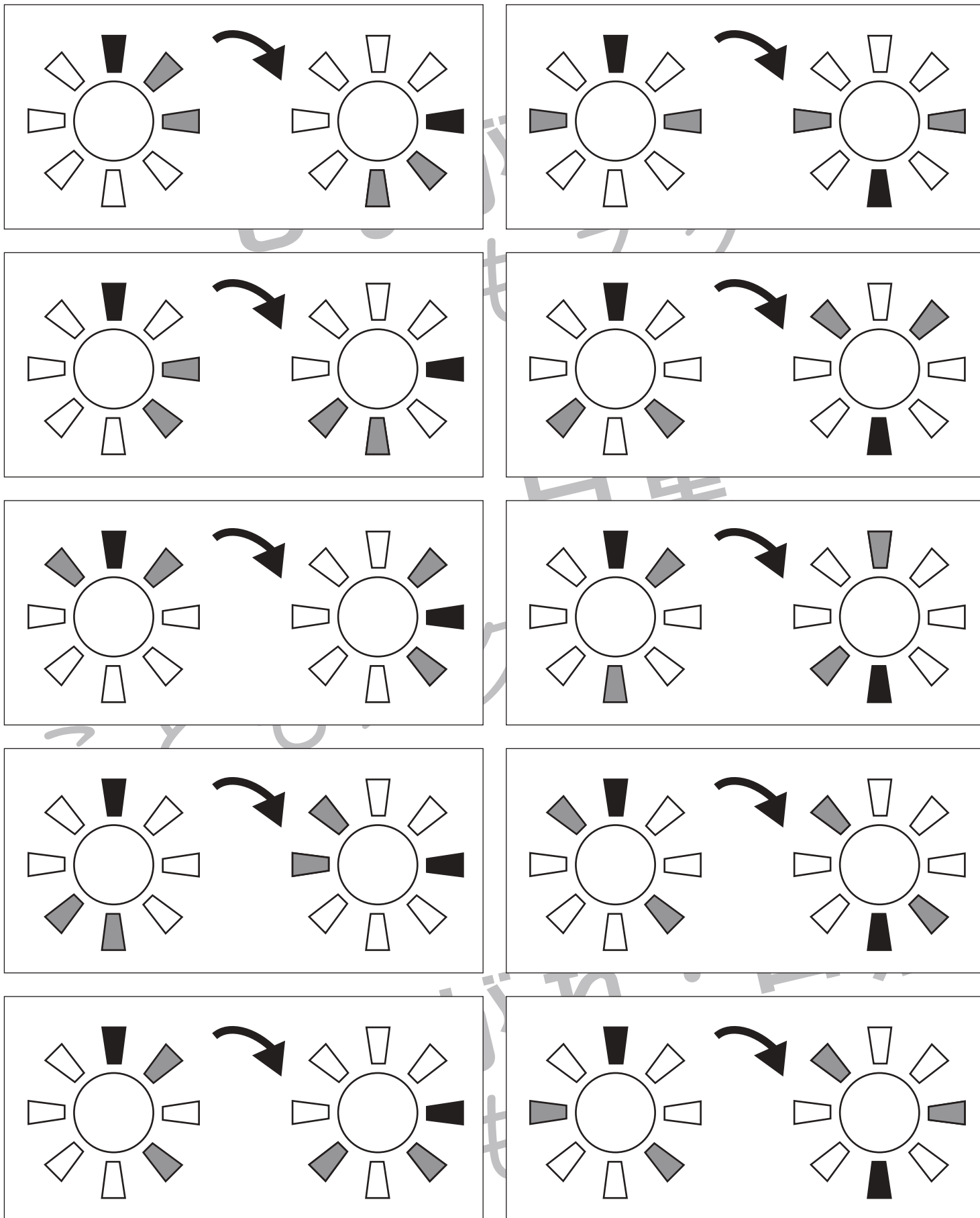


# おうちで、よろう。

Study at home. 小学校受験の家庭学習教材

## 図形：回転 31

左の太陽をまわして右の太陽の向きにかえました。このとき、灰色に塗られている場所を考えて右の太陽を塗ります。



※1. このプリントは、しながわ・目黒こどもスクールのウェブサイトでダウンロードができます。無断複写・引用はご遠慮ください。  
 ※2. このプリントを活用したオンライン授業のスケジュールは、しながわ・目黒こどもスクールのウェブサイトでご確認ください。

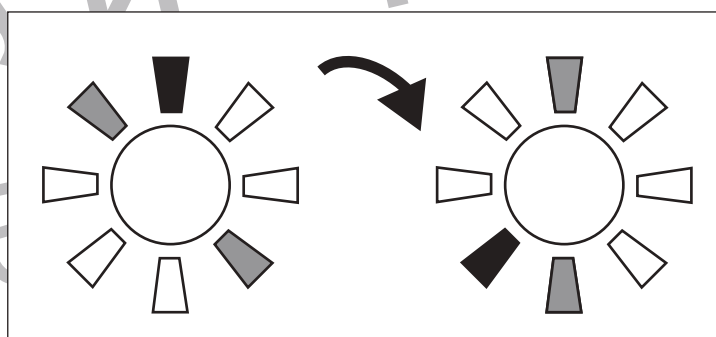
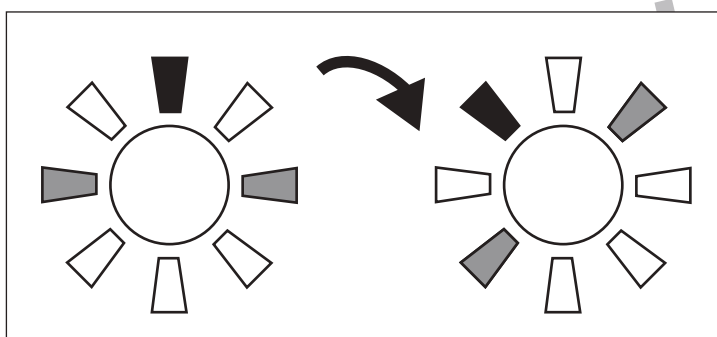
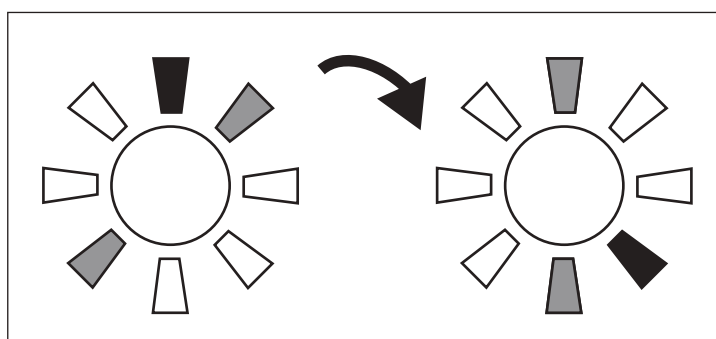
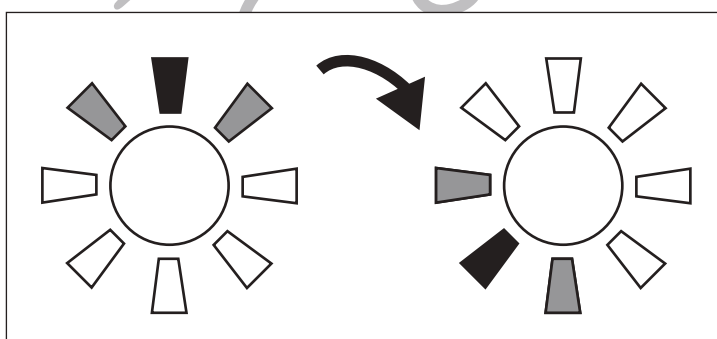
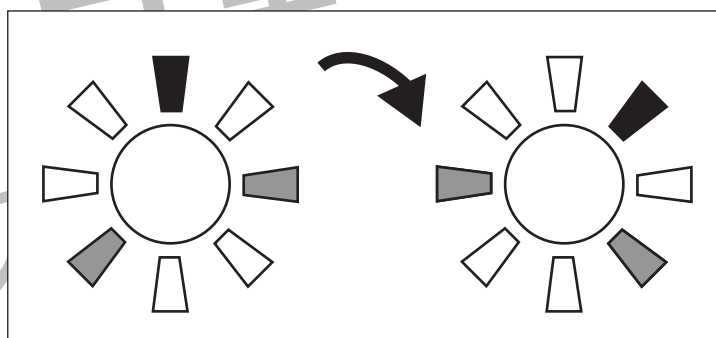
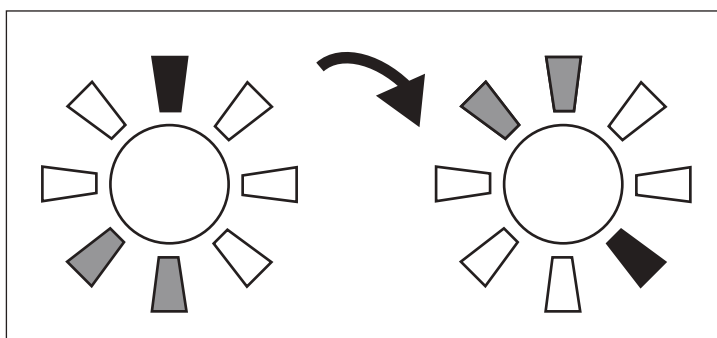
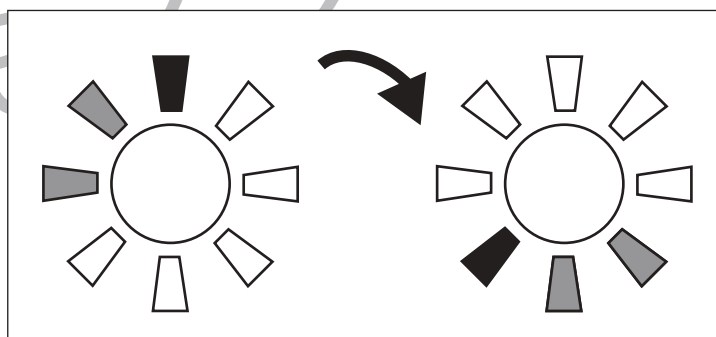
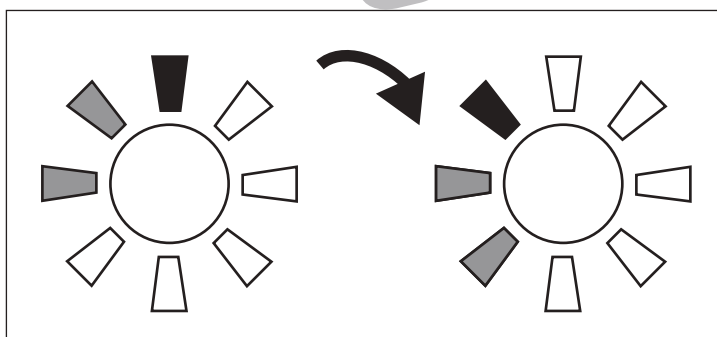
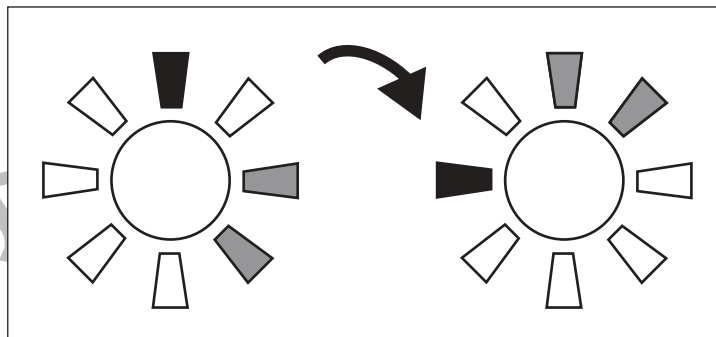
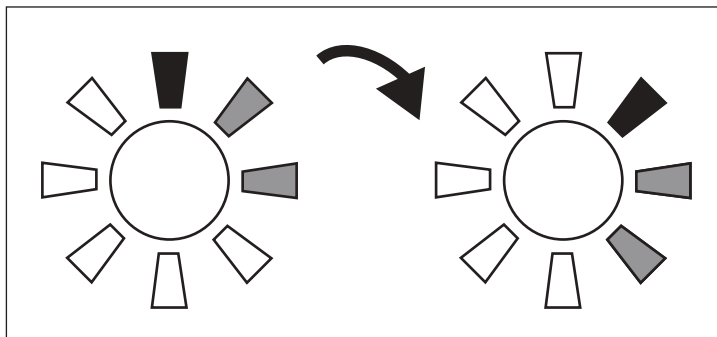


# おうちで、やろう。

Study at home. 小学校受験の家庭学習教材

## 図形：回転 32

左の太陽をまわして右の太陽の向きにかえました。このとき、灰色に塗られている場所を考えて右の太陽を塗ります。



※1. このプリントは、しながわ・目黒こどもスクールのウェブサイトでダウンロードができます。無断複写・引用はご遠慮ください。  
※2. このプリントを活用したオンライン授業のスケジュールは、しながわ・目黒こどもスクールのウェブサイトでご確認ください。

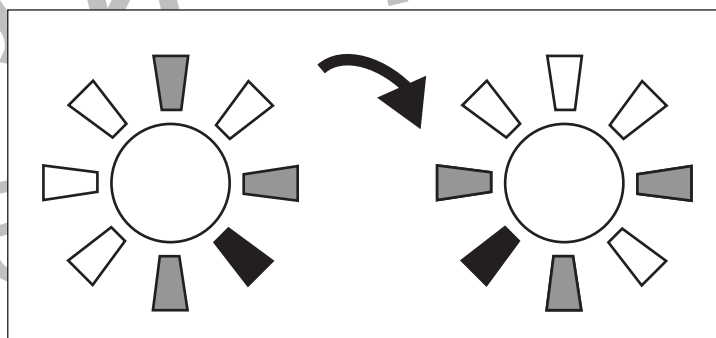
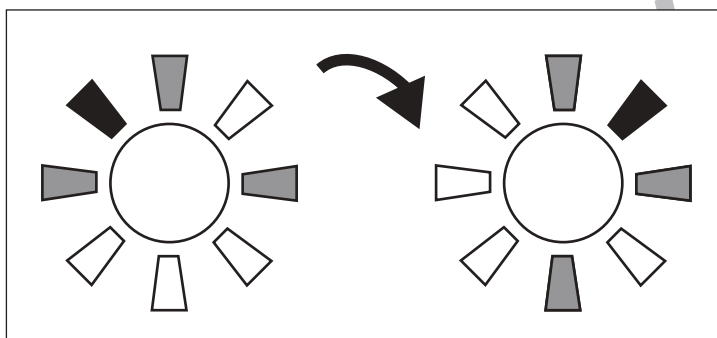
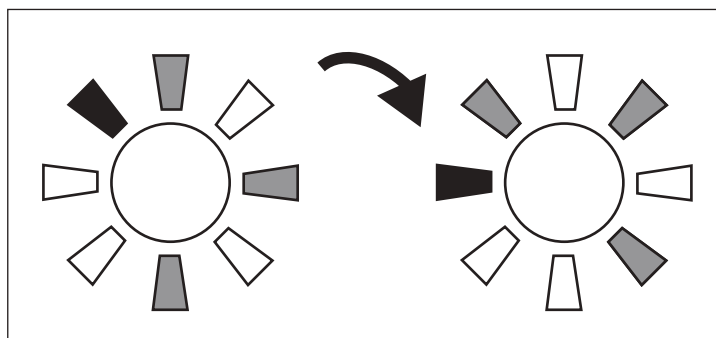
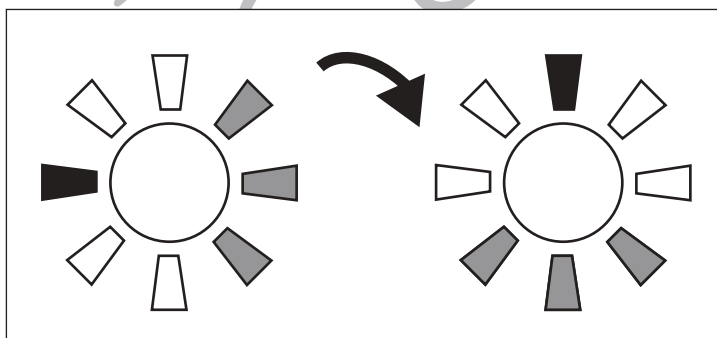
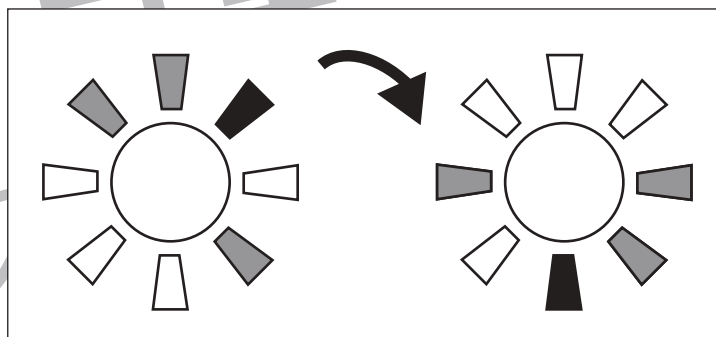
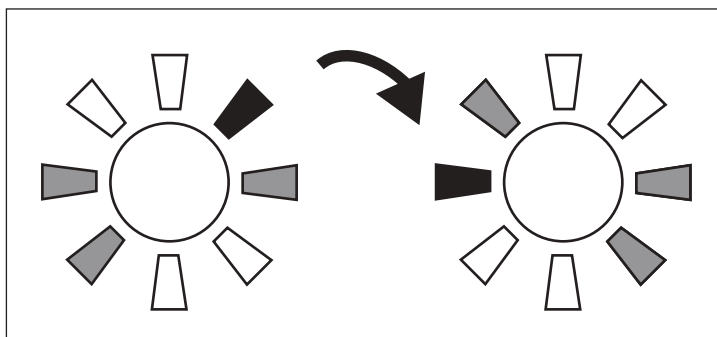
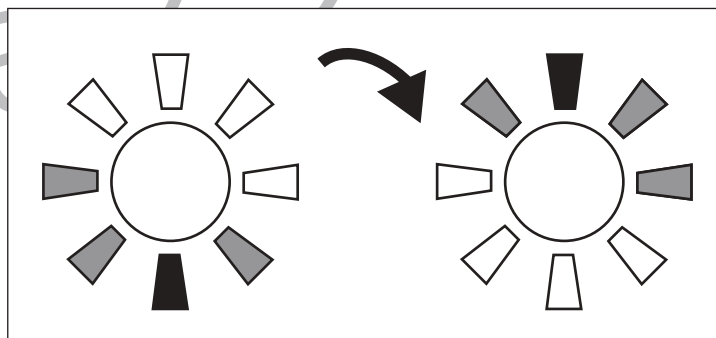
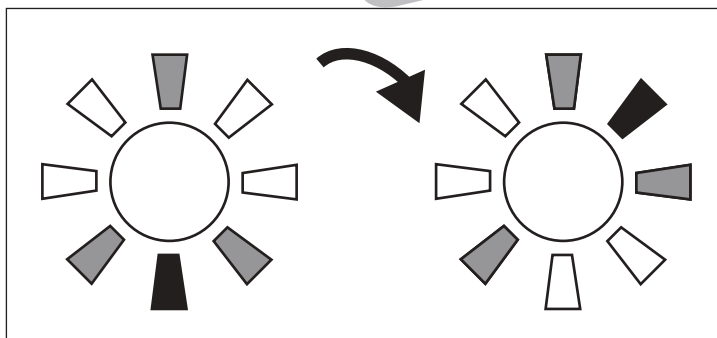
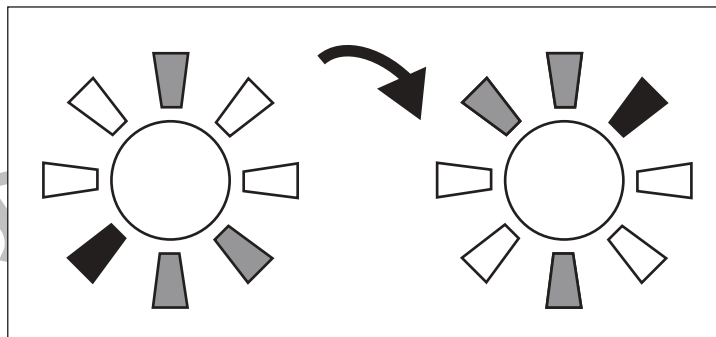
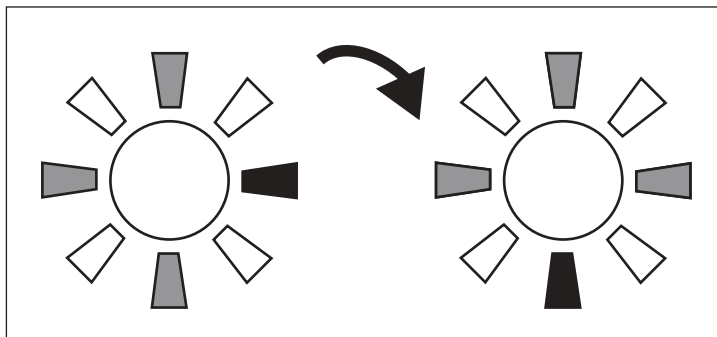


# おうちで、やろう。

Study at home. 小学校受験の家庭学習教材

## 図形：回転 33

左の太陽をまわして右の太陽の向きにかえました。このとき、灰色に塗られている場所を考えて右の太陽を塗ります。



※1. このプリントは、しながわ・目黒こどもスクールのウェブサイトでダウンロードができます。無断複写・引用はご遠慮ください。

※2. このプリントを活用したオンライン授業のスケジュールは、しながわ・目黒こどもスクールのウェブサイトでご確認ください。



# おうちで、やろう。

Study at home. 小学校受験の家庭学習教材

## 推理：四方観察 12

上の四角の中の積み木を矢印の方向（左）から見ます。このとき、見える積み木はいくつですか。その数だけ下の四角に○をかきます。

→

○ ○ ○

→

○ ○ ○ ○

→

○ ○ ○

→

○ ○ ○ ○

○

→

○ ○ ○ ○

○

→

○ ○ ○ ○

○ ○

※1. このプリントは、しながわ・目黒こどもスクールのウェブサイトからダウンロードできます。無断複写・引用はご遠慮ください。

※2. このプリントを活用したオンライン授業のスケジュールは、しながわ・目黒こどもスクールのウェブサイトでご確認ください。



# おうちで、やろう。

Study at home. 小学校受験の家庭学習教材

## 推理：四方観察 13

上の四角の中の積み木を矢印の方向（左）から見ます。このとき、見える積み木はいくつですか。その数だけ下の四角に○をかきます。

→

○	○	○	○

→

○	○	○	○
○	○		

→

○	○	○	○
○			

→

○	○	○	○
○	○		

→

○	○	○	○
○	○		

→

○	○	○	○
○	○		

※1. このプリントは、しながわ・目黒こどもスクールのウェブサイトからダウンロードができます。無断複写・引用はご遠慮ください。  
※2. このプリントを活用したオンライン授業のスケジュールは、しながわ・目黒こどもスクールのウェブサイトでご確認ください。



# おうちで、やろう。

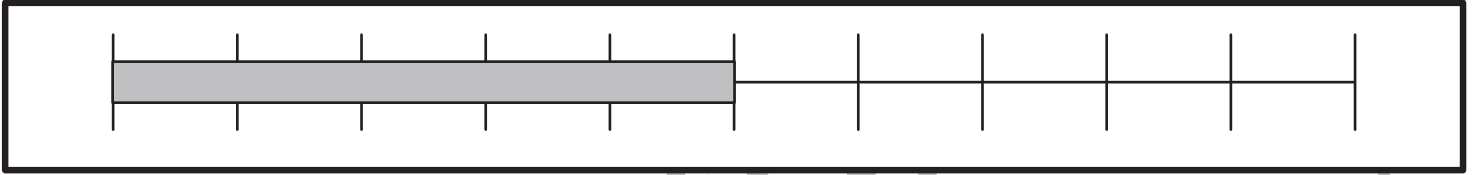
Study at home. 小学校受験の家庭学習教材

数量：長さ 1

上の太い四角の棒の長さがお手本です。①②の問題に答えましょう。

①お手本と同じ長さの棒をみつけて○をつけます。

②お手本より短い棒には○、お手本より長い棒には×をつけます。



①

②

※1. このプリントは、しながわ・目黒こどもスクールのウェブサイトでダウンロードができます。無断複写・引用はご遠慮ください。

※2. このプリントを活用したオンライン授業のスケジュールは、しながわ・目黒こどもスクールのウェブサイトでご確認ください。



# おうちで、やろう。

Study at home. 小学校受験の家庭学習教材

数量：長さ2

一番上の太い四角の中の棒の長さがお手本です。下の四角の棒の長さを合わせてお手本と同じ長さになるものを下の四角の中から選び○をつけます。

A large rectangular box containing a thick gray horizontal bar at the top. Below the bar is a horizontal line with 10 vertical tick marks, creating 10 equal segments. The bar's length is exactly 8 segments.

A box containing three gray horizontal bars of different lengths. Below them is a ruler with 5 segments. The top bar is 4 segments long, the middle bar is 3 segments long, and the bottom bar is 2 segments long. A large black circle is drawn around the middle bar.

A box containing three gray horizontal bars of different lengths. Below them is a ruler with 5 segments. The top bar is 4 segments long, the middle bar is 2 segments long, and the bottom bar is 3 segments long.

A box containing three gray horizontal bars of different lengths. Below them is a ruler with 5 segments. The top bar is 2 segments long, the middle bar is 3 segments long, and the bottom bar is 4 segments long.

A box containing three gray horizontal bars of different lengths. Below them is a ruler with 5 segments. The top bar is 2 segments long, the middle bar is 5 segments long, and the bottom bar is 1 segment long. A large black circle is drawn around the middle bar.

A box containing three gray horizontal bars of different lengths. Below them is a ruler with 5 segments. The top bar is 2 segments long, the middle bar is 4 segments long, and the bottom bar is 5 segments long. A large black circle is drawn around the middle bar.

A box containing three gray horizontal bars of different lengths. Below them is a ruler with 5 segments. The top bar is 3 segments long, the middle bar is 2 segments long, and the bottom bar is 5 segments long.

※1. このプリントは、しながわ・目黒こどもスクールのウェブサイトでダウンロードができます。無断複写・引用はご遠慮ください。  
 ※2. このプリントを活用したオンライン授業のスケジュールは、しながわ・目黒こどもスクールのウェブサイトでご確認ください。

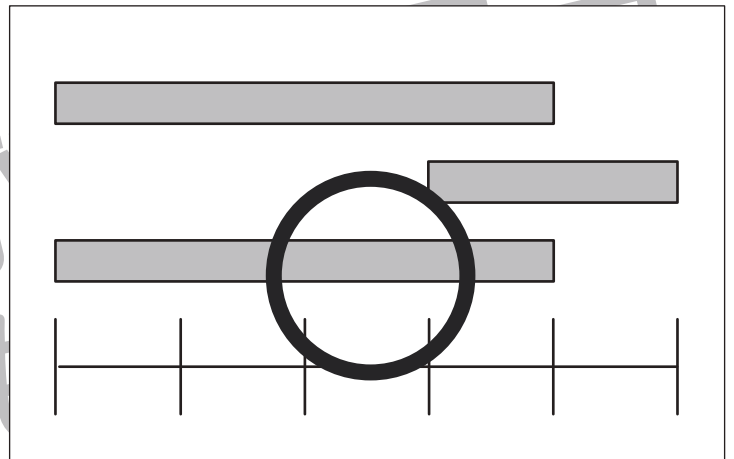
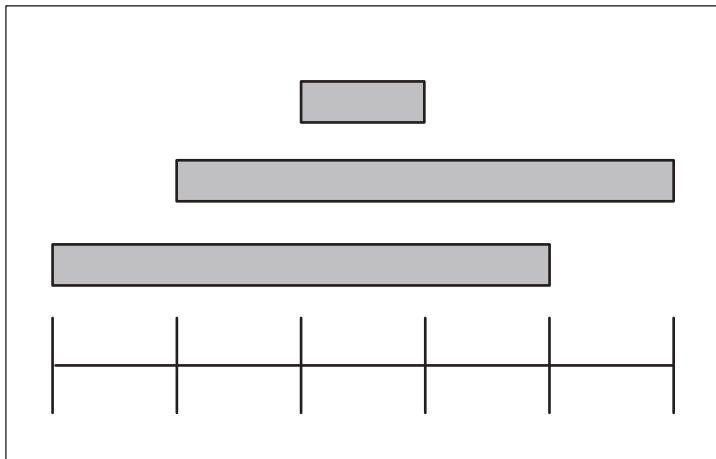
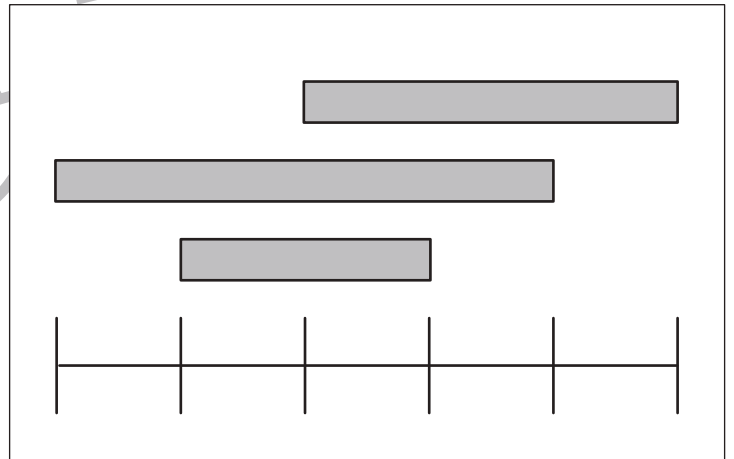
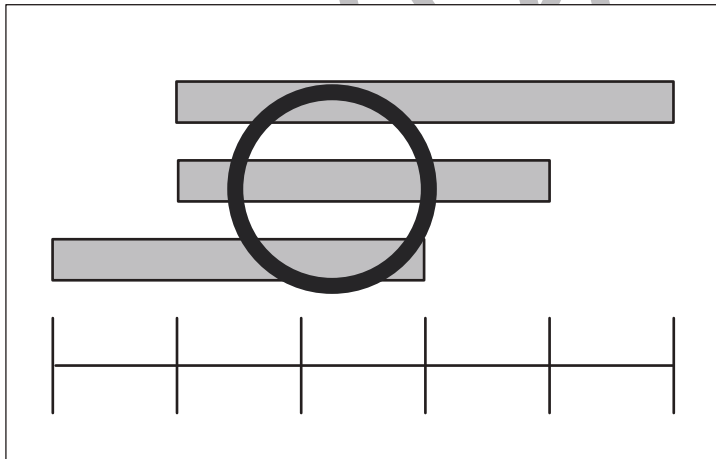
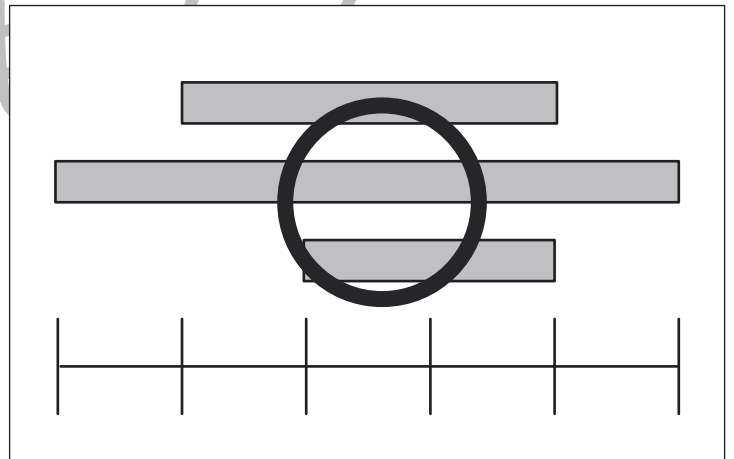
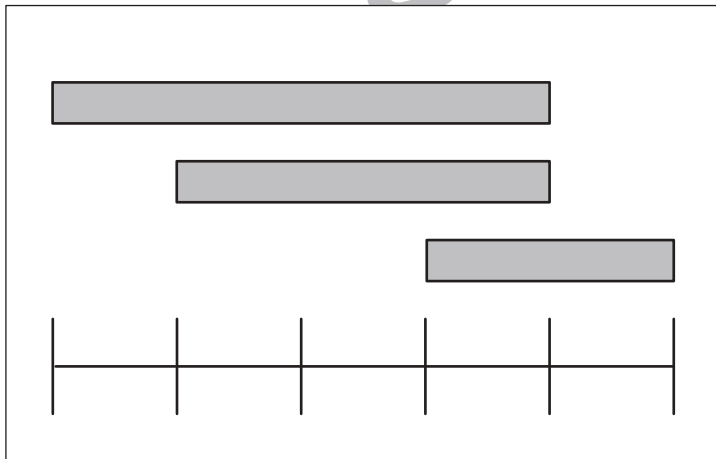
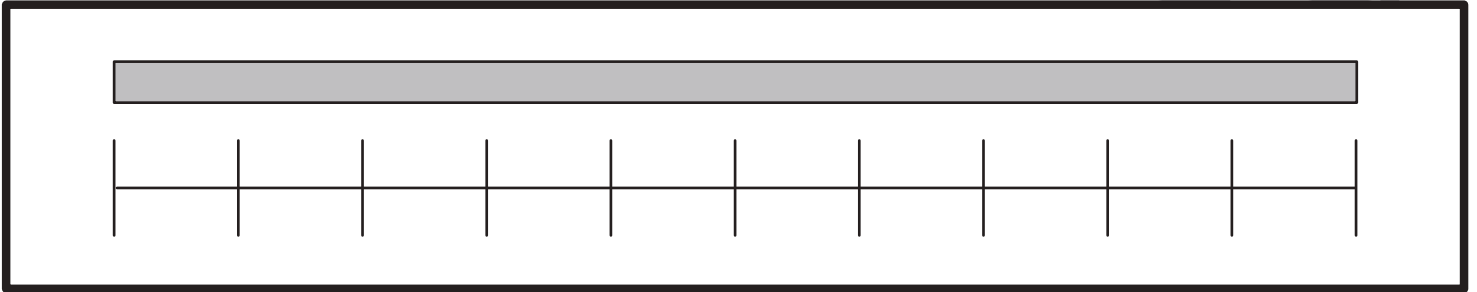


# おうちで、やろう。

Study at home. 小学校受験の家庭学習教材

数量：長さ3

一番上の太い四角の中の棒の長さがお手本です。下の四角の棒の長さを合わせてお手本と同じ長さになるものを下の四角の中から選び○をつけます。



※1. このプリントは、しながわ・目黒こどもスクールのウェブサイトでダウンロードができます。無断複写・引用はご遠慮ください。  
※2. このプリントを活用したオンライン授業のスケジュールは、しながわ・目黒こどもスクールのウェブサイトでご確認ください。



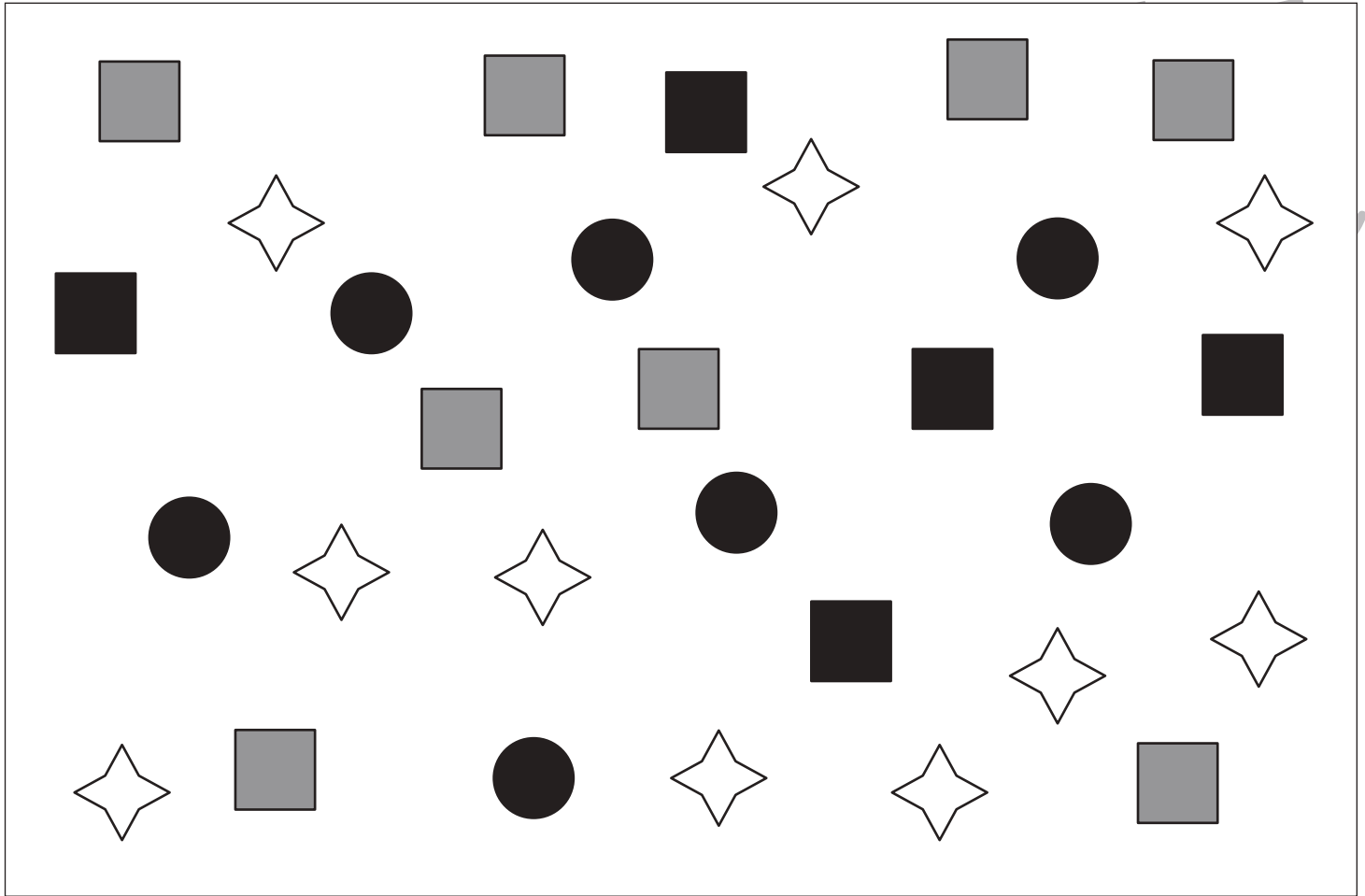


# おうちで、やろう。

Study at home. 小学校受験の家庭学習教材

処理：計数2

上の四角の中の絵の数をかぞえて、下の四角の同じ絵の右にその数だけ〇をかきます。  
この問題はスピードを意識して取り組む練習をしてみましょう。(1分～1分30秒)



○ × 8



○ × 5



○ × 7



○ × 10