






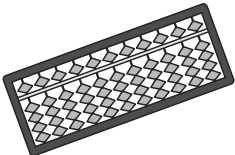





おうちで、やろう。

Study at home. 小学校受験の家庭学習教材

言語：音の理解 26

絵の名前の音の数だけ絵の下に○があり、左端がはじめの音です。左側と右側の絵の●の場所の音が同じものを見つけて、点と点を線でむすびます。

| | | | |
|---|-------------|---|-------------|
|  | ○ ○ ● ○ |  | ○ ○ ○ ○ ● ○ |
|  | ○ ○ ● ○ ○ |  | ○ ● ○ ○ |
|  | ○ ○ ○ ○ ○ ● |  | ○ ○ ● ○ ○ |
|  | ○ ○ ● ○ |  | ● ○ ○ ○ ○ |
|  | ○ ● ○ |  | ○ ○ ● |

※1. このプリントは、しながわ・目黒こどもスクールのウェブサイトでダウンロードができます。無断複写・引用はご遠慮ください。

※2. このプリントを活用したオンライン授業のスケジュールは、しながわ・目黒こどもスクールのウェブサイトでご確認ください。



おうちで、やろう。

Study at home. 小学校受験の家庭学習教材

言語：音の理解 27

大きな四角の中にある絵の名前のはじめの音をつなげて、左上の太い四角の中の絵の名前を作ります。使うもの全てに○をつけます。

| | | | |
|--|--|--|--|
| | | | |
| | | | |
| | | | |
| | | | |

※1. このプリントは、しながわ・目黒こどもスクールのウェブサイトからダウンロードできます。無断複写・引用はご遠慮ください。

※2. このプリントを活用したオンライン授業のスケジュールは、しながわ・目黒こどもスクールのウェブサイトでご確認ください。

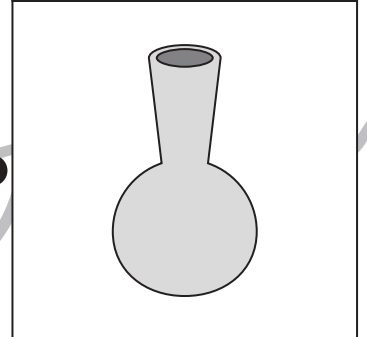
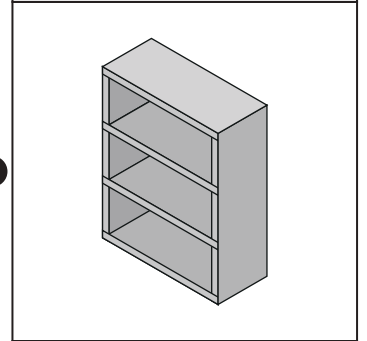
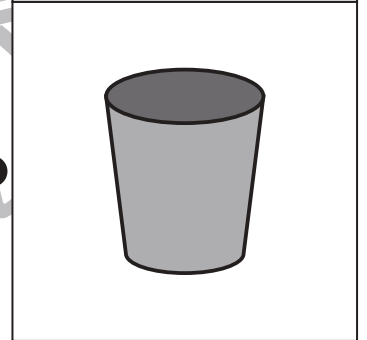
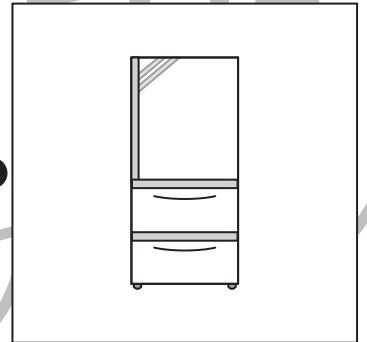

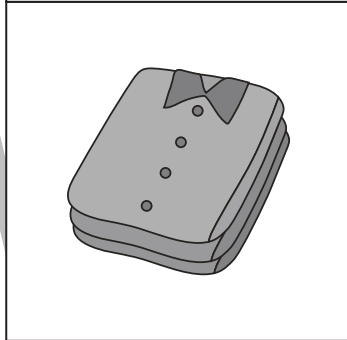




おうちで、やろう。

Study at home. 小学校受験の家庭学習教材

常識：生活 6

左側の絵のものを右のものの中に入れます。正しい組み合わせになるように展と点を線で結びます。



※1. このプリントは、しながわ・目黒こどもスクールのウェブサイトでダウンロードができます。無断複写・引用はご遠慮ください。
※2. このプリントを活用したオンライン授業のスケジュールは、しながわ・目黒こどもスクールのウェブサイトでご確認ください。

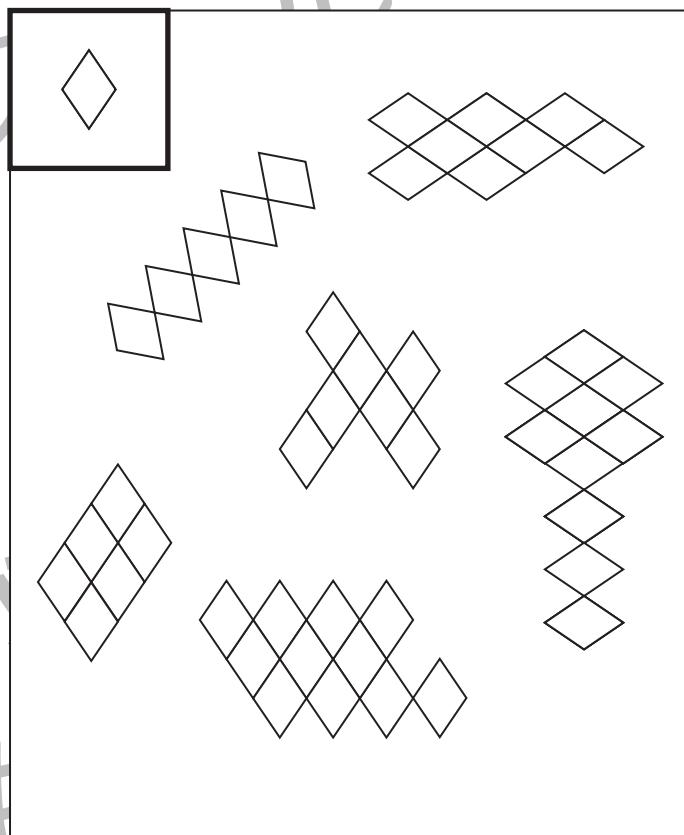
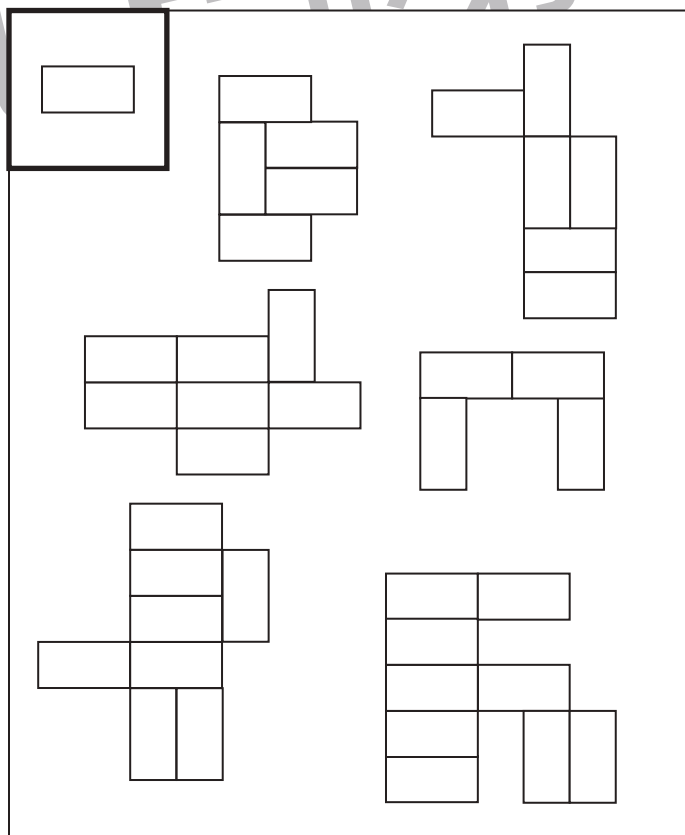
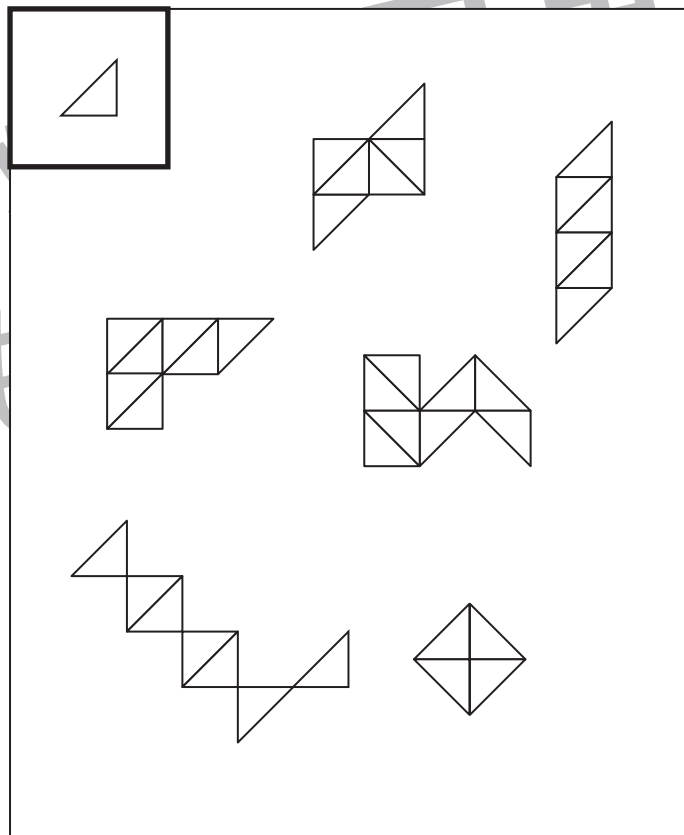



おうちで、やろう。

Study at home. 小学校受験の家庭学習教材

図形：構成 10

太い四角の中の形がお手本です。お手本の形を使って、大きな四角の中にある色々な形を作ります。お手本の形を1番多く使ってできている形に○をつけます。



※1. このプリントは、しながわ・目黒こどもスクールのウェブサイトでダウンロードができます。無断複写・引用はご遠慮ください。
 ※2. このプリントを活用したオンライン授業のスケジュールは、しながわ・目黒こどもスクールのウェブサイトでご確認ください。

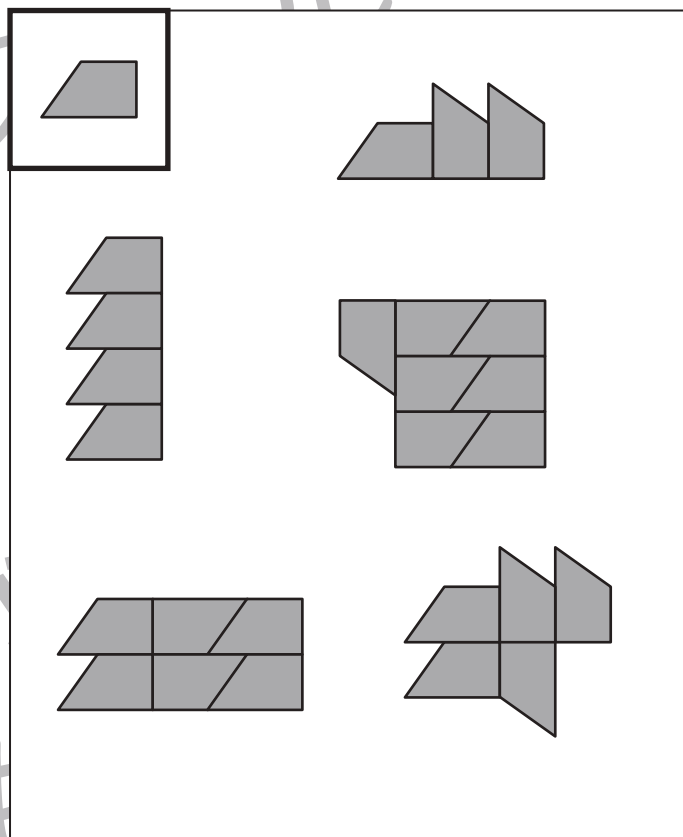
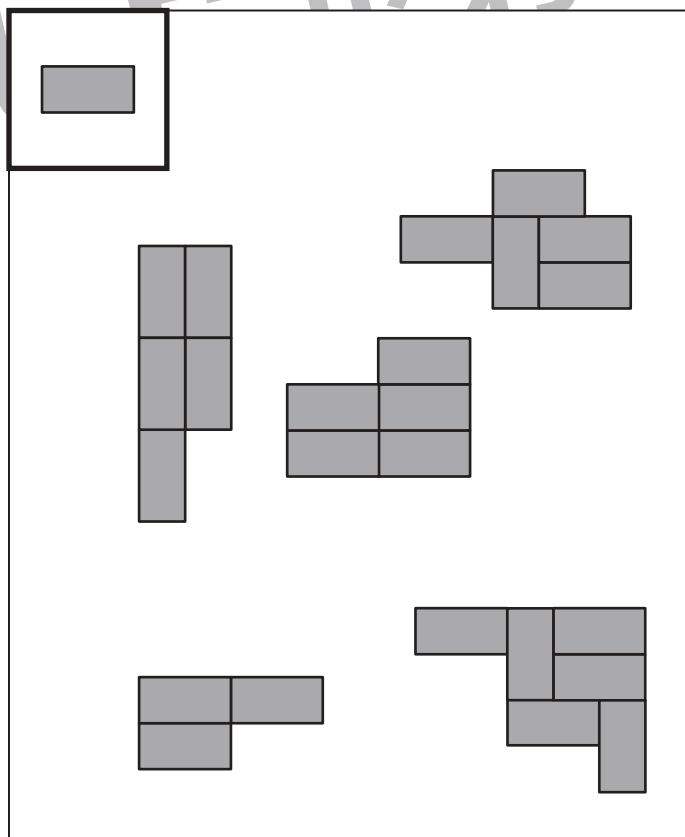
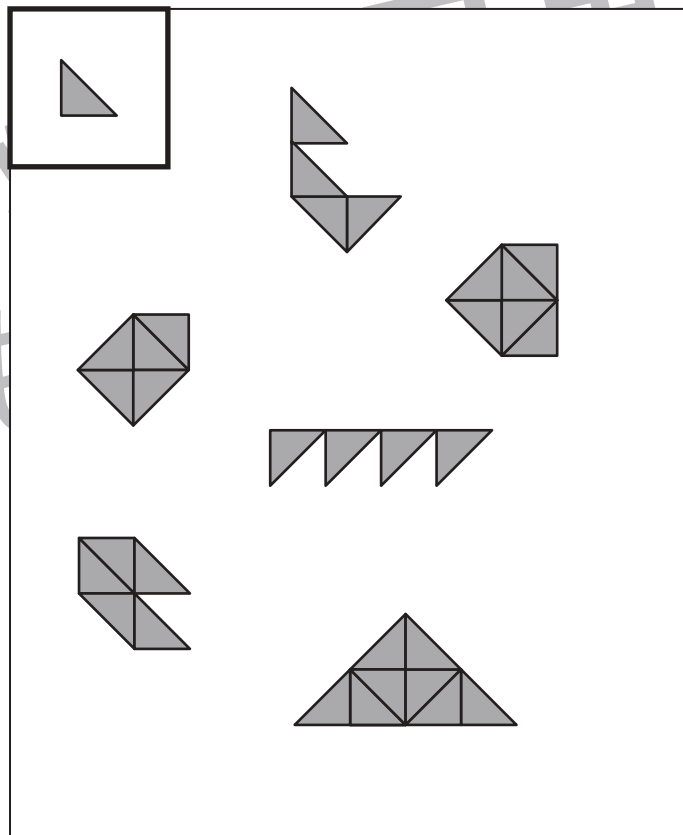
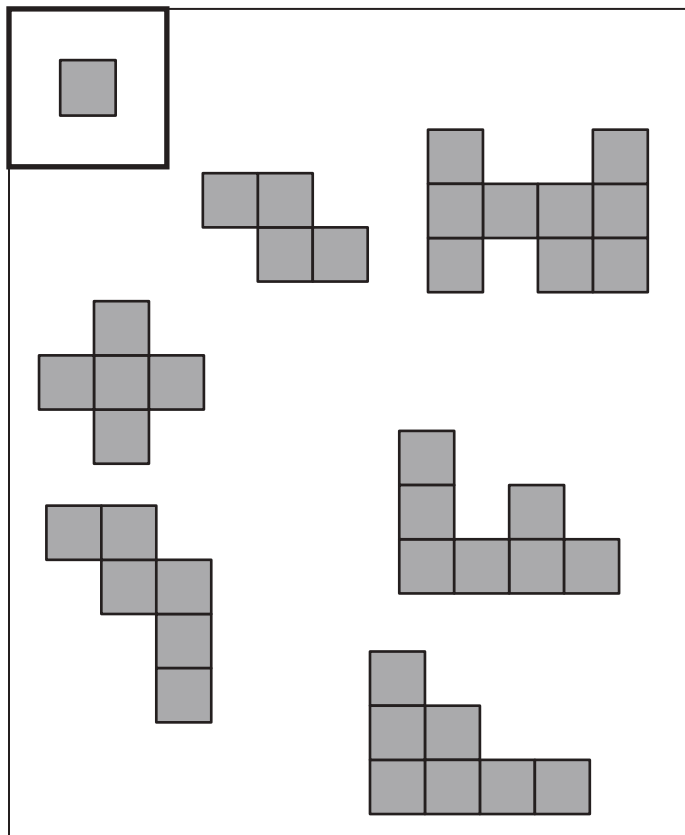


おうちで、やろう。

Study at home. 小学校受験の家庭学習教材

図形：構成 11

太い四角の中の形がお手本です。お手本の形を使って、大きな四角の中にある色々な形を作ります。お手本の形を1番多く使って出来ている形に○をつけます。



※1. このプリントは、しながわ・目黒こどもスクールのウェブサイトでダウンロードができます。無断複写・引用はご遠慮ください。
 ※2. このプリントを活用したオンライン授業のスケジュールは、しながわ・目黒こどもスクールのウェブサイトでご確認ください。

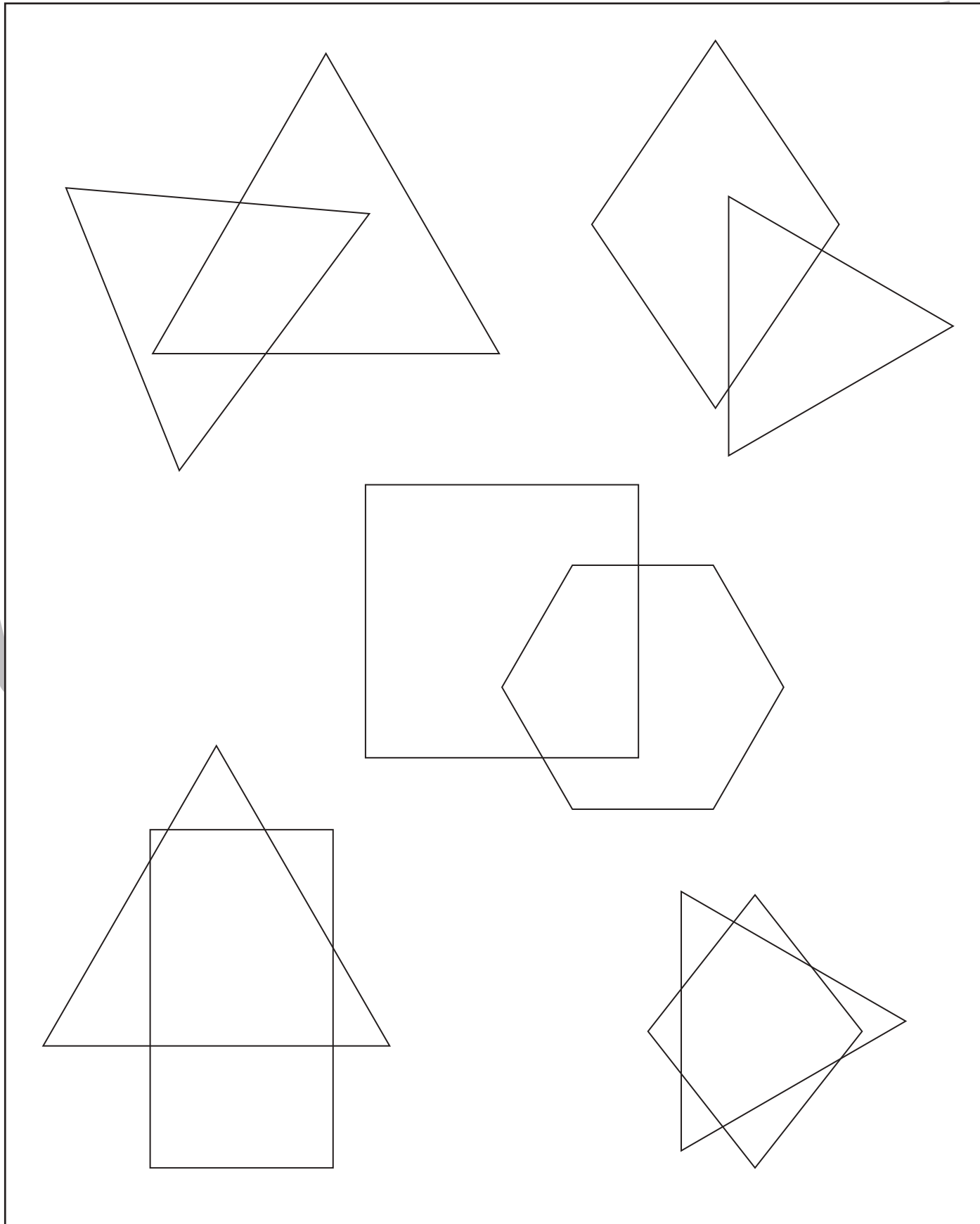


おうちで、やろう。

Study at home. 小学校受験の家庭学習教材

図形：重なり 12

色々な形が重なっています。2つの形が重なっているところを塗ります。



※1. このプリントは、しながわ・目黒こどもスクールのウェブサイトからダウンロードできます。無断複写・引用はご遠慮ください。
※2. このプリントを活用したオンライン授業のスケジュールは、しながわ・目黒こどもスクールのウェブサイトでご確認ください。





おうちで、やろう。

Study at home. 小学校受験の家庭学習教材

推理：観察力 3

それぞれの四角の中で、家がある方に進んでいる乗り物に○をつけます。



※1. このプリントは、しながわ・目黒こどもスクールのウェブサイトでダウンロードができます。無断複写・引用はご遠慮ください。
 ※2. このプリントを活用したオンライン授業のスケジュールは、しながわ・目黒こどもスクールのウェブサイトでご確認ください。

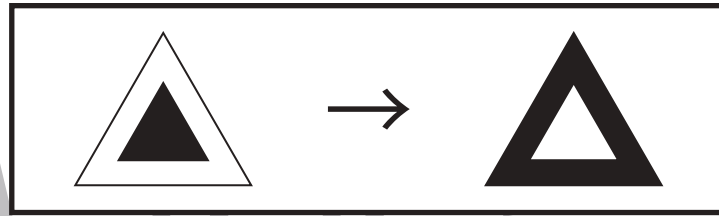


おうちで、よろう。

Study at home. 小学校受験の家庭学習教材

推理：条件推理 20

太い四角がお手本です。黒い所は白くなり、白い所は黒くなります。左の四角の中の形が、お手本と同じ約束で変わるとどのようなになりますか。正しいものを右から選んで○をつけます。



目黒

| | | | |
|--|--|--|--|
| | | | |
| | | | |
| | | | |
| | | | |
| | | | |

※1. このプリントは、しながわ・目黒こどもスクールのウェブサイトでダウンロードができます。無断複写・引用はご遠慮ください。
※2. このプリントを活用したオンライン授業のスケジュールは、しながわ・目黒こどもスクールのウェブサイトでご確認ください。



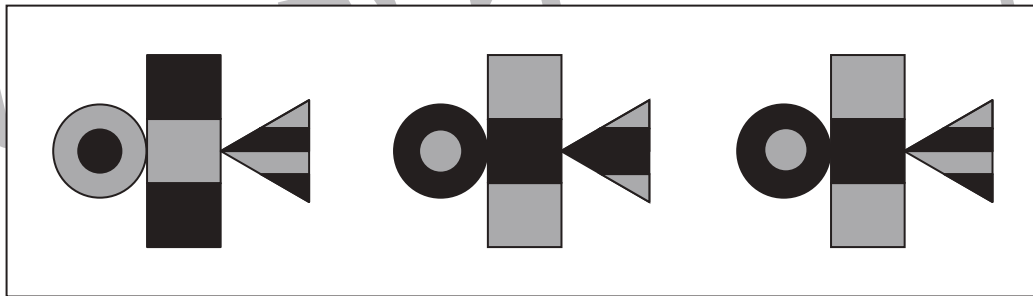
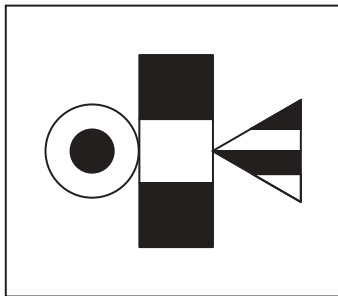
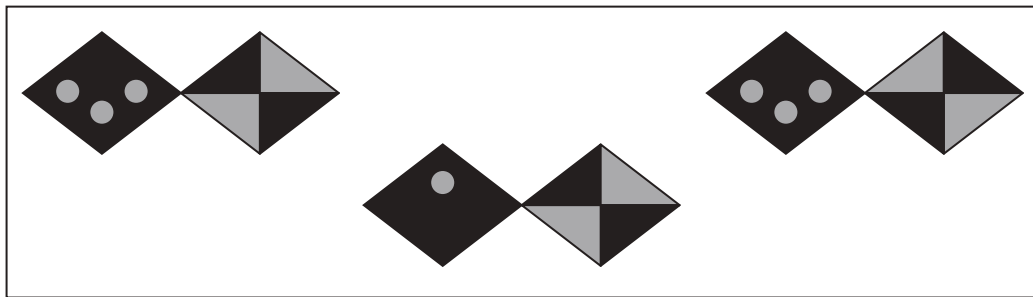
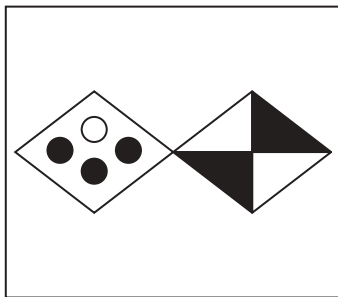
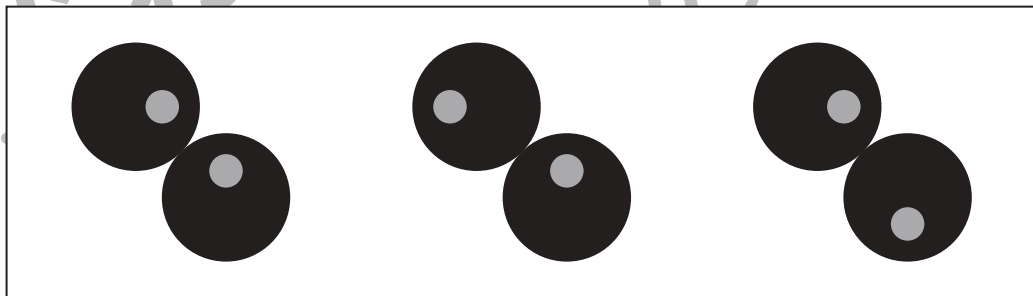

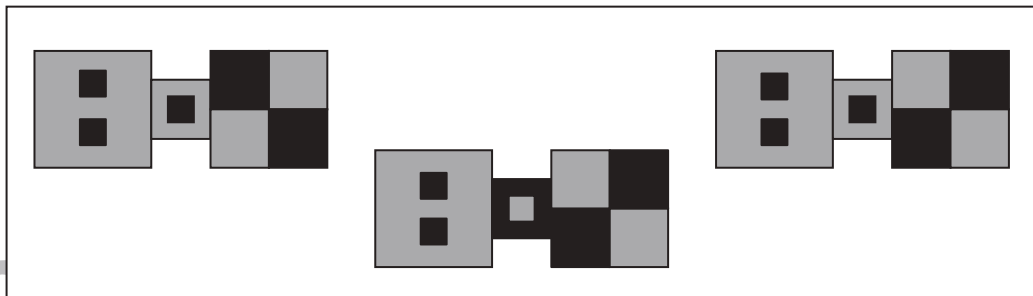
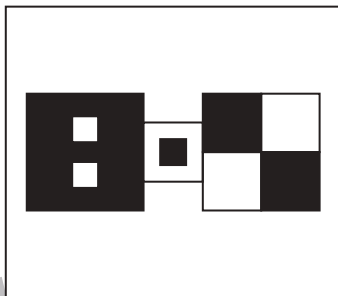
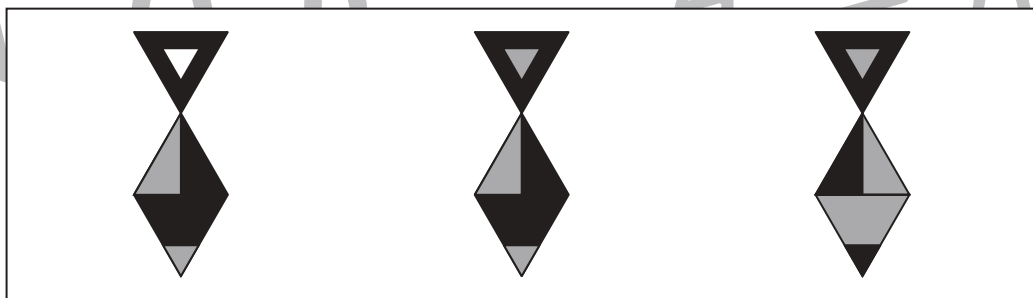

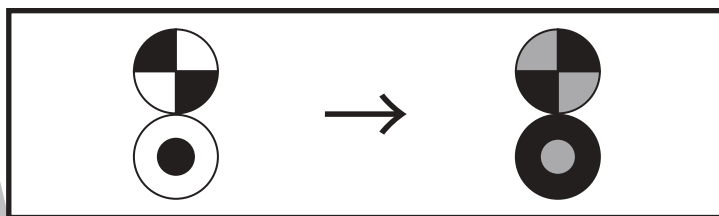


おうちで、やろう。

Study at home. 小学校受験の家庭学習教材

推理：条件推理 21

太い四角がお手本です。黒い所は灰色になり、白い所は黒くなります。左の四角の中の形が、お手本と同じ約束で変わるとどのようになりますか。正しいものを右から選んで○をつけます。



※1. このプリントは、しながわ・目黒こどもスクールのウェブサイトでダウンロードができます。無断複写・引用はご遠慮ください。
※2. このプリントを活用したオンライン授業のスケジュールは、しながわ・目黒こどもスクールのウェブサイトでご確認ください。





おうちで、やろう。

Study at home. 小学校受験の家庭学習教材

数量：加減 27

左と右の四角の中の積み木は、いくつ違いますか。違う数だけ、右の太い四角の中に○をかきます。

| | | |
|--|--|--|
| | | |
| | | |
| | | |
| | | |
| | | |
| | | |

※1. このプリントは、しながわ・目黒こどもスクールのウェブサイトでダウンロードができます。無断複写・引用はご遠慮ください。
 ※2. このプリントを活用したオンライン授業のスケジュールは、しながわ・目黒こどもスクールのウェブサイトでご確認ください。