
























おうちで、やろう。

Study at home. 小学校受験の家庭学習教材

処理能力：置き換え7















上の太い四角の約束の通り、印を別の印に置き換えて、下の四角の同じ場所にかきます。

 → 	 → 	 → 
---	---	---



 → 	 → 	 → 	 → 
---	---	--	---



※1. このプリントは、しながわ・目黒こどもスクールのウェブサイトでダウンロードができます。無断複写・引用はご遠慮ください。

※2. このプリントを活用したオンライン授業のスケジュールは、しながわ・目黒こどもスクールのウェブサイトでご確認ください。



おうちで、やろう。

Study at home. 小学校受験の家庭学習教材

常識：季節 13

4つの四角が並んでいます。左の四角から順番に春・夏・秋・冬となるように、それぞれの四角から絵を1つずつ選んで○をつけます。

※1. このプリントは、しながわ・目黒子どもスクールのウェブサイトでダウンロードができます。無断複写・引用はご遠慮ください。

※2. このプリントを活用したオンライン授業のスケジュールは、しながわ・目黒子どもスクールのウェブサイトでご確認ください。



おうちで、やろう。

Study at home. 小学校受験の家庭学習教材

常識：生物 5

左の四角の中の生き物が住んでいるところを右から見つけて、点と点を線でむすびます。

※1. このプリントは、しながわ・目黒こどもスクールのウェブサイトでダウンロードができます。無断複写・引用はご遠慮ください。

※2. このプリントを活用したオンライン授業のスケジュールは、しながわ・目黒こどもスクールのウェブサイトでご確認ください。



おうちで、やろう。

Study at home. 小学校受験の家庭学習教材

図形：構成 12

太い四角がお手本です。お手本の形をちょうど同じ数だけ作るには、左側の形にどのような形を組み合わせると良いですか。正しいものを右側から見つけて、点と点を線でむすびます。

Top: A large rectangle containing two squares.

Row 1: Left: square and right-angled triangle. Right: two triangles pointing left and right. Dot.

Row 2: Left: horizontal rectangle and square. Right: right-angled triangle. Dot.

Row 3: Left: square and two triangles meeting at a point. Right: horizontal rectangle. Dot.

Top: A large rectangle containing two circles.

Row 1: Left: semi-circle and quarter circle. Right: semi-circle and three quarter circles. Dot.

Row 2: Left: semi-circle and quarter circle. Right: quarter circle. Dot.

Row 3: Left: circle and quarter circle. Right: semi-circle and three quarter circles. Dot.

Top: A large rectangle containing two triangles.

Row 1: Left: two right-angled triangles. Right: right-angled triangle. Dot.

Row 2: Left: large triangle and small triangle. Right: two right-angled triangles. Dot.

Row 3: Left: large triangle and right-angled triangle. Right: two right-angled triangles. Dot.

Top: A large rectangle containing three horizontal rectangles.

Row 1: Left: horizontal rectangle and smaller horizontal rectangle. Right: horizontal rectangle and right-angled triangle. Dot.

Row 2: Left: horizontal rectangle, two smaller horizontal rectangles, and right-angled triangle. Right: horizontal rectangle and two right-angled triangles. Dot.

Row 3: Left: two horizontal rectangles and two smaller horizontal rectangles. Right: horizontal rectangle and smaller horizontal rectangle. Dot.

※1. このプリントは、しながわ・目黒こどもスクールのウェブサイトでダウンロードができます。無断複写・引用はご遠慮ください。
※2. このプリントを活用したオンライン授業のスケジュールは、しながわ・目黒こどもスクールのウェブサイトでご確認ください。

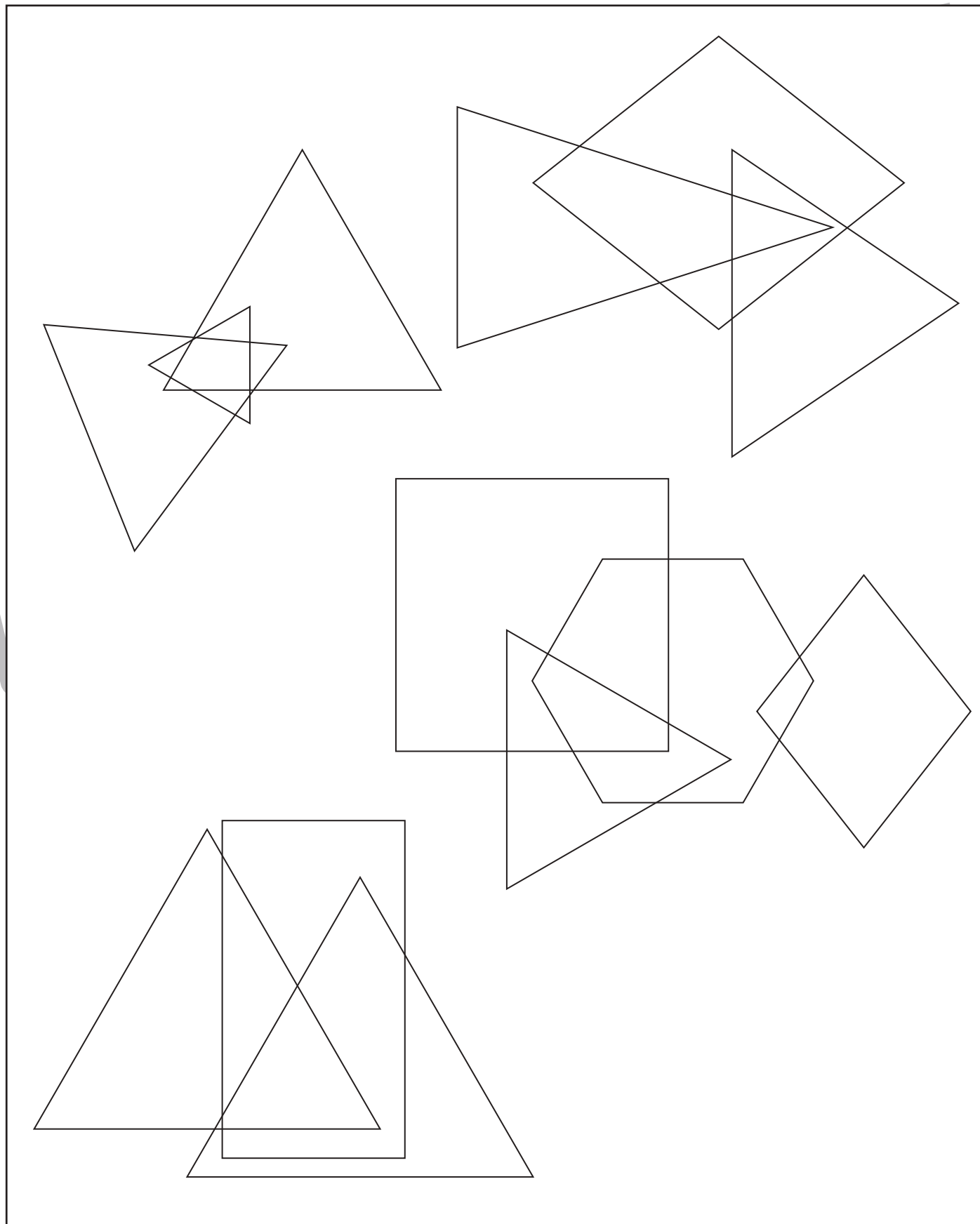


おうちで、やろう。

Study at home. 小学校受験の家庭学習教材

図形：重なり 13

色々な形が重なっています。3つの形が重なっているところを塗ります。



※1. このプリントは、しながわ・目黒こどもスクールのウェブサイトからダウンロードできます。無断複写・引用はご遠慮ください。
※2. このプリントを活用したオンライン授業のスケジュールは、しながわ・目黒こどもスクールのウェブサイトでご確認ください。







おうちで、やろう。

Study at home. 小学校受験の家庭学習教材

推理：条件推理 22

左側の汽車が木の所で止まり、走り出したあとの電車が右側です。木の所で降りた動物と乗った動物はどの動物になりますか。下の四角の中から見つけて、降りた動物には○を、乗った動物には×をつけます。



※1. このプリントは、しながわ・目黒こどもスクールのウェブサイトでダウンロードができます。無断複写・引用はご遠慮ください。
※2. このプリントを活用したオンライン授業のスケジュールは、しながわ・目黒こどもスクールのウェブサイトでご確認ください。







おうちで、やろう。

Study at home. 小学校受験の家庭学習教材

推理：条件推理 23

左側の汽車が木の所で止まり、走り出したあとの電車が右側です。木の所で降りた動物 2 匹と乗った動物 2 匹はどの動物になりますか。下の四角の中から見つけて、降りた動物には○を、乗った動物には×をつけます。



※1. このプリントは、しながわ・目黒こどもスクールのウェブサイトでダウンロードができます。無断複写・引用はご遠慮ください。
※2. このプリントを活用したオンライン授業のスケジュールは、しながわ・目黒こどもスクールのウェブサイトでご確認ください。



おうちで、やろう。

Study at home. 小学校受験の家庭学習教材

推理：長さ 1

四角の中のみもを太い黒線のところで切ると、ひもは何本になりますか。その数だけ、下の四角の中に○をかきます。

※1. このプリントは、しながわ・目黒こどもスクールのウェブサイトでダウンロードができます。無断複写・引用はご遠慮ください。

※2. このプリントを活用したオンライン授業のスケジュールは、しながわ・目黒こどもスクールのウェブサイトでご確認ください。



おうちで、やろう。

Study at home. 小学校受験の家庭学習教材

推理：長さ2

四角の中のみもを太い黒線のところで切ると、ひもは何本になりますか。その数だけ、下の四角の中に○をかきます。

※1. このプリントは、しながわ・目黒こどもスクールのウェブサイトでダウンロードができます。無断複写・引用はご遠慮ください。

※2. このプリントを活用したオンライン授業のスケジュールは、しながわ・目黒こどもスクールのウェブサイトでご確認ください。

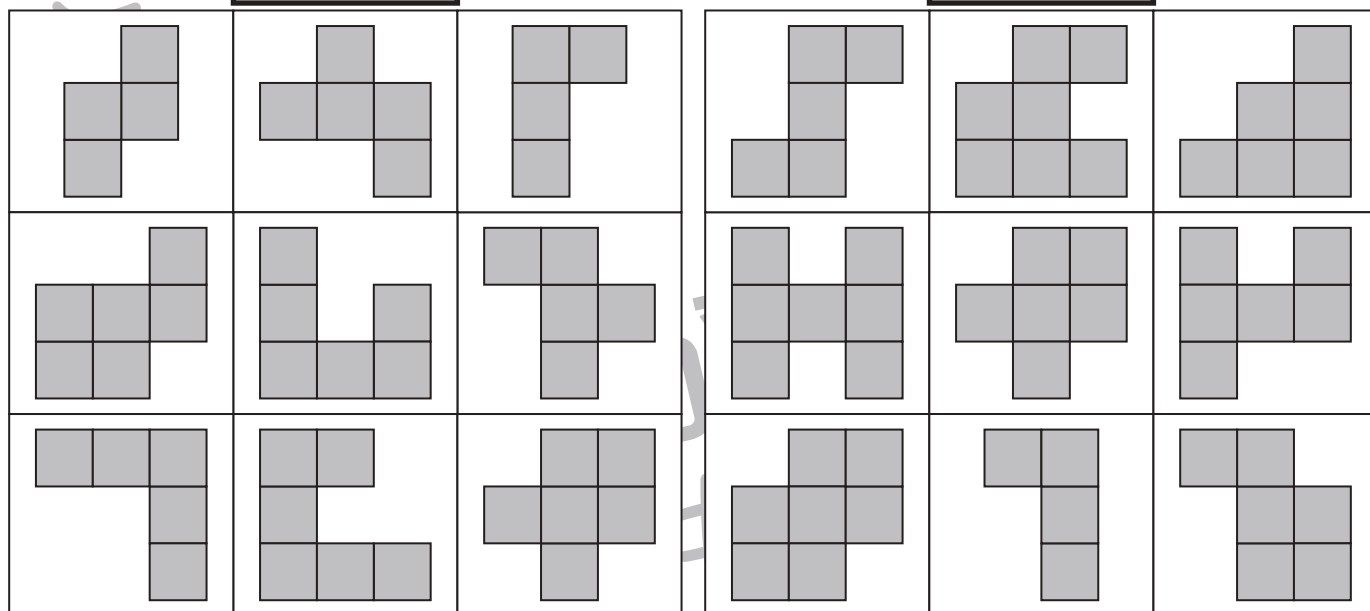
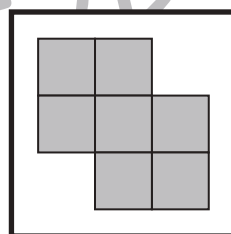
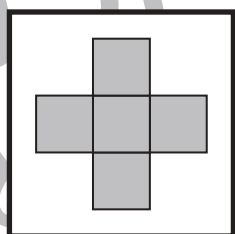
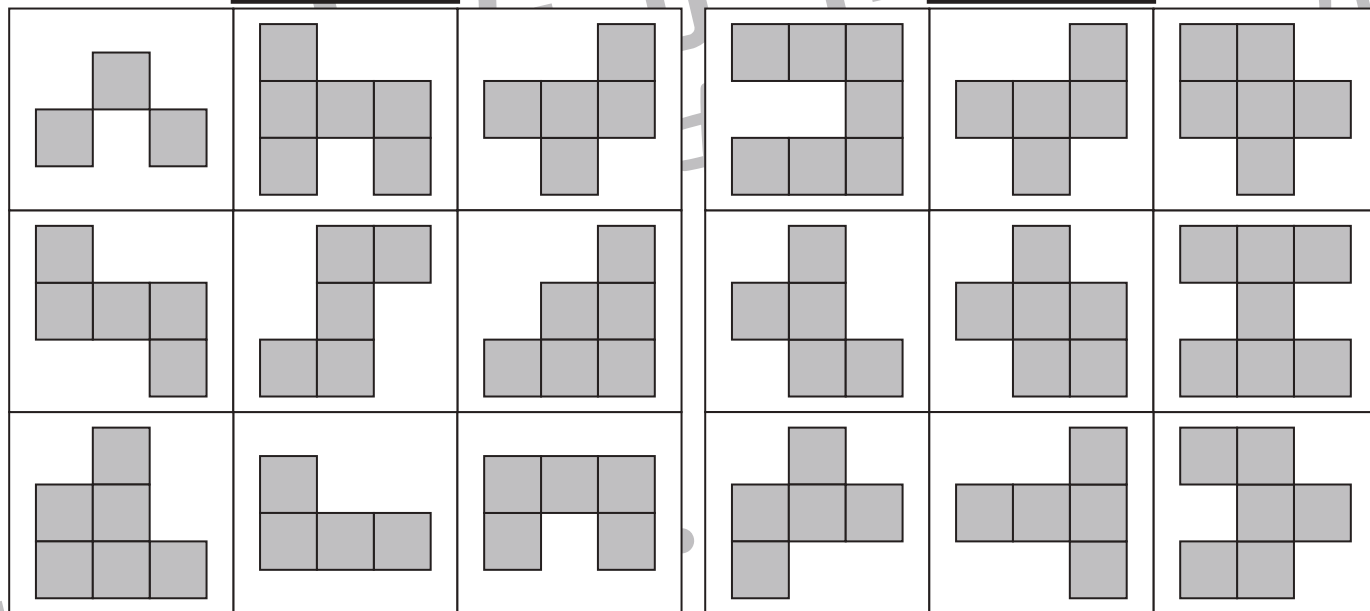
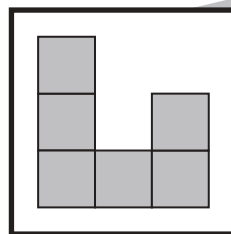
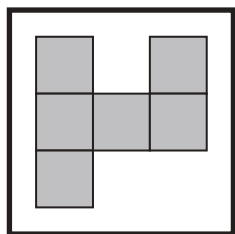


おうちで、やろう。

Study at home. 小学校受験の家庭学習教材

数量：計数 31

太い四角の中のお手本と同じ数の四角でできているものを、下の四角の中から全て見つけて○をつけます。



※1. このプリントは、しながわ・目黒こどもスクールのウェブサイトでダウンロードができます。無断複写・引用はご遠慮ください。
 ※2. このプリントを活用したオンライン授業のスケジュールは、しながわ・目黒こどもスクールのウェブサイトでご確認ください。