



# おうちで、やろう。

Study at home. 小学校受験の家庭学習教材

処理能力：置き換え7

上の太い四角の約束の通り、印を別の印に置き換えて、下の四角の同じ場所にかきます。

◁ → ▷	△ → ▽	× → ○
-------	-------	-------

×	◁	△	◁	×
◁		◁		△
	◁		×	△
△	×	×	△	



○	▷	▽	▷	○
▷		▷		▽
	▷		○	▽
▽	○	○	▽	

○ → ●	● → ○	△ → □	□ → ×
-------	-------	-------	-------

	□	○		△
●		□	●	
	△	●		□
□	○	●	△	●



	×	●		□
○		×	○	
	□	○		×
×	●	○	□	○

※1. このプリントは、しながわ・目黒こどもスクールのウェブサイトでダウンロードができます。無断複写・引用はご遠慮ください。  
 ※2. このプリントを活用したオンライン授業のスケジュールは、しながわ・目黒こどもスクールのウェブサイトでご確認ください。



# おうちで、やろう。

Study at home. 小学校受験の家庭学習教材

## 常識：季節 13

4つの四角が並んでいます。左の四角から順番に春・夏・秋・冬となるように、それぞれの四角から絵を1つずつ選んで○をつけます。


※1. このプリントは、しながわ・目黒こどもスクールのウェブサイトでダウンロードができます。無断複写・引用はご遠慮ください。  
 ※2. このプリントを活用したオンライン授業のスケジュールは、しながわ・目黒こどもスクールのウェブサイトでご確認ください。



# おうちで、やろう。

Study at home. 小学校受験の家庭学習教材

## 常識：生物5

左の四角の中の生き物が住んでいるところを右から見つけて、点と点を線でむすびます。


※1. このプリントは、しながわ・目黒こどもスクールのウェブサイトでダウンロードができます。無断複写・引用はご遠慮ください。

※2. このプリントを活用したオンライン授業のスケジュールは、しながわ・目黒こどもスクールのウェブサイトでご確認ください。



# おうちで、やろう。

Study at home. 小学校受験の家庭学習教材

## 図形：構成 12

太い四角がお手本です。お手本の形をちょうど同じ数だけ作るには、左側の形にどのような形を組み合わせると良いですか。正しいものを右側から見つけて、点と点を線でむすびます。

※1. このプリントは、しながわ・目黒こどもスクールのウェブサイトでダウンロードができます。無断複写・引用はご遠慮ください。  
 ※2. このプリントを活用したオンライン授業のスケジュールは、しながわ・目黒こどもスクールのウェブサイトでご確認ください。

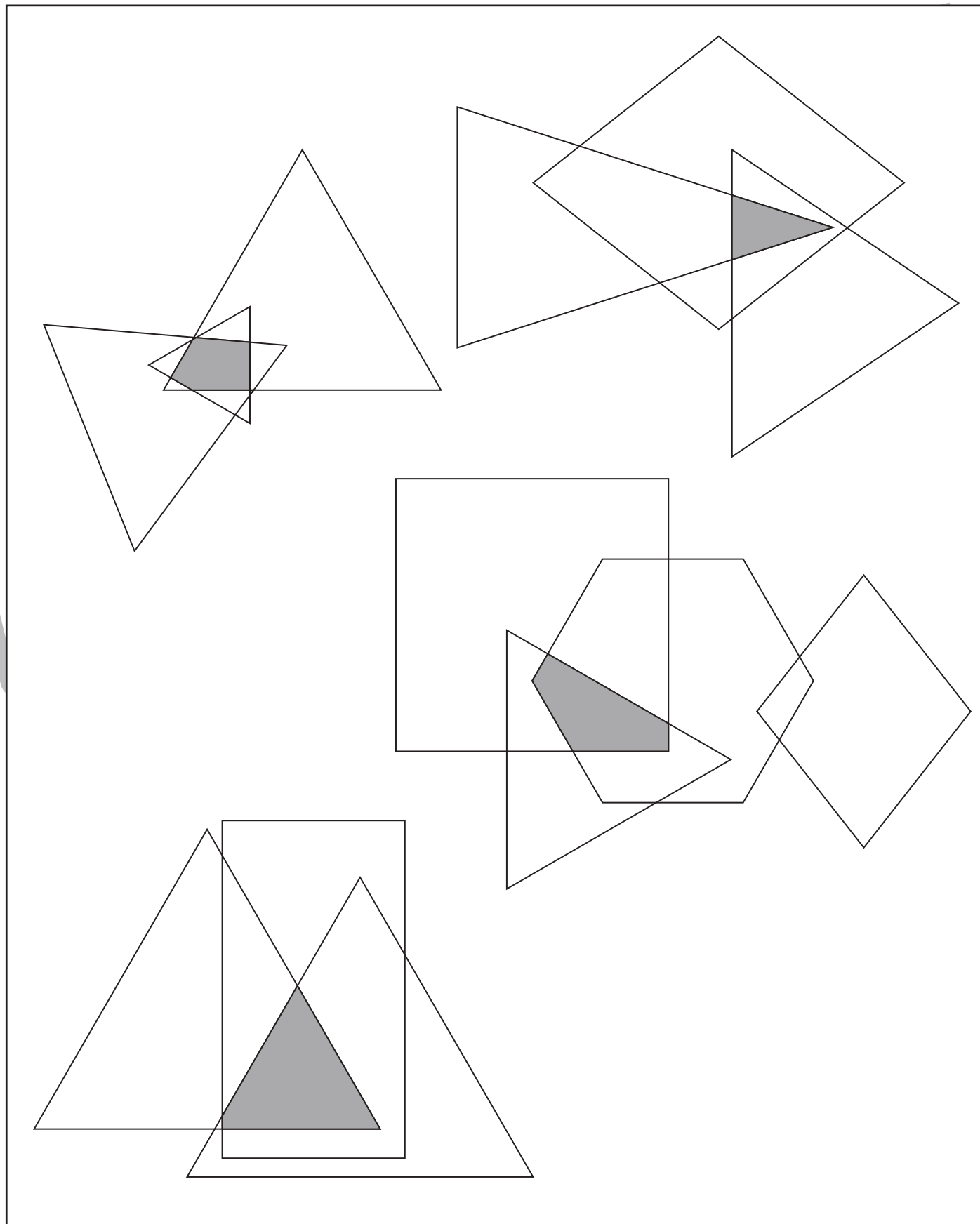


# おうちで、やろう。

Study at home. 小学校受験の家庭学習教材

## 図形：重なり 13

色々な形が重なっています。3つの形が重なっているところを塗ります。



※1. このプリントは、しながわ・目黒こどもスクールのウェブサイトでダウンロードができます。無断複写・引用はご遠慮ください。  
※2. このプリントを活用したオンライン授業のスケジュールは、しながわ・目黒こどもスクールのウェブサイトでご確認ください。








# おうちで、やろう。

Study at home. 小学校受験の家庭学習教材

## 推理：条件推理 22

左側の汽車が木の所で止まり、走り出したあとの電車が右側です。木の所で降りた動物と乗った動物はどの動物になりますか。下の四角の中から見つけて、降りた動物には○を、乗った動物には×をつけます。



※1. このプリントは、しながわ・目黒こどもスクールのウェブサイトでダウンロードができます。無断複写・引用はご遠慮ください。  
※2. このプリントを活用したオンライン授業のスケジュールは、しながわ・目黒こどもスクールのウェブサイトでご確認ください。








# おうちで、やろう。

Study at home. 小学校受験の家庭学習教材

## 推理：条件推理 23

左側の汽車が木の所で止まり、走り出したあとの電車が右側です。木の所で降りた動物 2 匹と乗った動物 2 匹はどの動物になりますか。下の四角の中から見つけて、降りた動物には○を、乗った動物には×をつけます。



※1. このプリントは、しながわ・目黒こどもスクールのウェブサイトでダウンロードができます。無断複写・引用はご遠慮ください。  
※2. このプリントを活用したオンライン授業のスケジュールは、しながわ・目黒こどもスクールのウェブサイトでご確認ください。

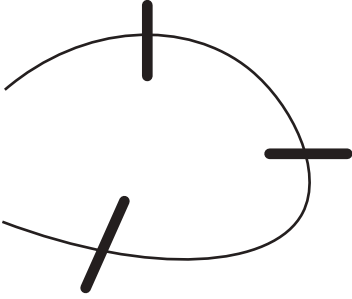
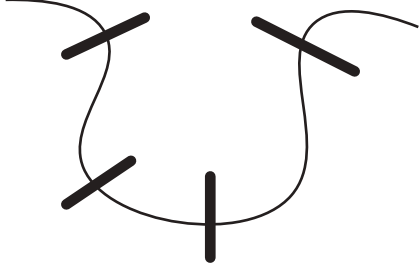
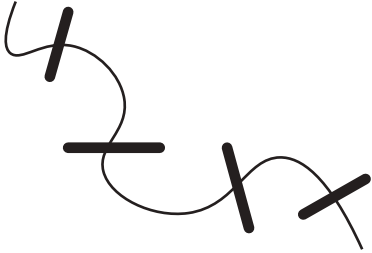
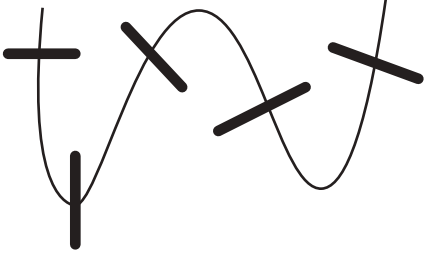

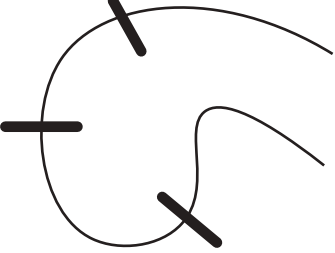

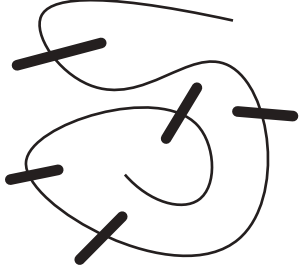


# おうちで、やろう。

Study at home. 小学校受験の家庭学習教材

推理：長さ 1

四角の中のみもを太い黒線のところで切ると、ひもは何本になりますか。その数だけ、下の四角の中に○をかきます。

	
○ × 4	○ × 5
	
○ × 5	○ × 6
	
○ × 7	○ × 4
	
○ × 8	○ × 6

※1. このプリントは、しながわ・目黒こどもスクールのウェブサイトでダウンロードができます。無断複写・引用はご遠慮ください。

※2. このプリントを活用したオンライン授業のスケジュールは、しながわ・目黒こどもスクールのウェブサイトでご確認ください。





# おうちで、やろう。

Study at home. 小学校受験の家庭学習教材

推理：長さ2

四角の中のみもを太い黒線のところで切ると、ひもは何本になりますか。その数だけ、下の四角の中に○をかきます。

○ × 4	○ × 5
○ × 4	○ × 7
○ × 7	○ × 7
○ × 5	○ × 6

※1. このプリントは、しながわ・目黒こどもスクールのウェブサイトでダウンロードができます。無断複写・引用はご遠慮ください。

※2. このプリントを活用したオンライン授業のスケジュールは、しながわ・目黒こどもスクールのウェブサイトでご確認ください。

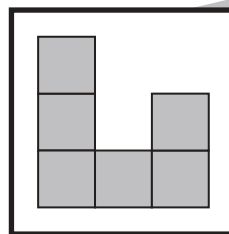
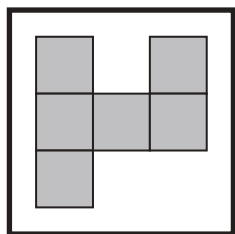


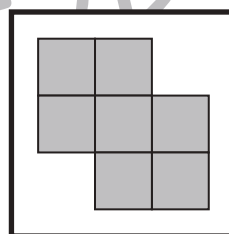
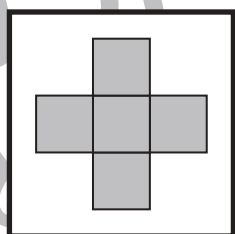
# おうちで、やろう。

Study at home. 小学校受験の家庭学習教材

数量：計数 31

太い四角の中のお手本と同じ数の四角でできているものを、下の四角の中から全て見つけて○をつけます。




※1. このプリントは、しながわ・目黒こどもスクールのウェブサイトでダウンロードができます。無断複写・引用はご遠慮ください。  
 ※2. このプリントを活用したオンライン授業のスケジュールは、しながわ・目黒こどもスクールのウェブサイトでご確認ください。