



おうちで、よろう。

Study at home. 小学校受験の家庭学習教材

図形：折り重ね 17

真ん中の太い線で折り重ねたとき、黒くなる丸を考えて下の四角の丸を塗ります。

※1. このプリントは、しながわ・目黒こどもスクールのウェブサイトでダウンロードができます。無断複写・引用はご遠慮ください。

※2. このプリントを活用したオンライン授業のスケジュールは、しながわ・目黒こどもスクールのウェブサイトでご確認ください。



おうちで、よろう。

Study at home. 小学校受験の家庭学習教材

図形：折り重ね 18

真ん中の太い線で折り重ねたとき、黒くなる丸を考えて下の四角の丸を塗ります。

The puzzle consists of 18 grids arranged in a 3x3 grid. Each grid is a 3x3 array of circles with a horizontal fold line between the second and third rows. The top half (rows 1 and 2) contains black circles in the following patterns:

- Grid 1 (top-left): (1,1), (1,3), (2,2), (2,3)
- Grid 2 (top-middle): (1,2), (2,1), (2,3)
- Grid 3 (top-right): (1,2), (2,1), (2,2)
- Grid 4 (middle-left): (1,3), (2,1), (2,3)
- Grid 5 (middle-middle): (1,1), (2,1), (2,2), (2,3)
- Grid 6 (middle-right): (1,1), (2,1), (2,2), (2,3)
- Grid 7 (bottom-left): (1,3), (2,1), (2,3), (3,2), (3,3)
- Grid 8 (bottom-middle): (1,1), (2,1), (2,2), (2,3), (3,1), (3,3)
- Grid 9 (bottom-right): (1,1), (2,1), (2,2), (2,3), (3,3)

The bottom half (row 3) of each grid is currently empty, and the task is to fill in the circles that will be black after folding.

※1. このプリントは、しながわ・目黒こどもスクールのウェブサイトでダウンロードができます。無断複写・引用はご遠慮ください。

※2. このプリントを活用したオンライン授業のスケジュールは、しながわ・目黒こどもスクールのウェブサイトでご確認ください。



おうちで、よろう。

Study at home. 小学校受験の家庭学習教材

図形：折り重ね 16

真ん中の太い線で折り重ねたとき、黒くなる丸を考えて下の四角の丸を塗ります。

※1. このプリントは、しながわ・目黒こどもスクールのウェブサイトダウンロードができます。無断複写・引用はご遠慮ください。
※2. このプリントを活用したオンライン授業のスケジュールは、しながわ・目黒こどもスクールのウェブサイトでご確認ください。


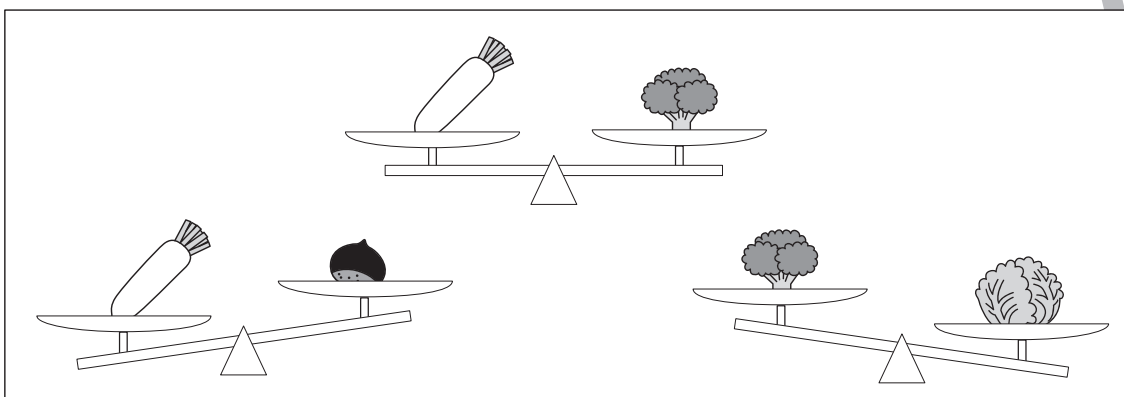


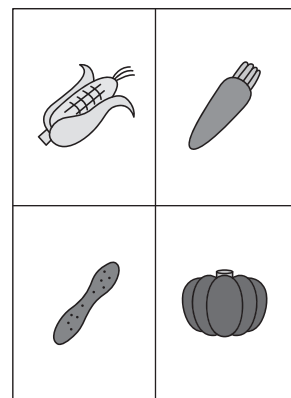


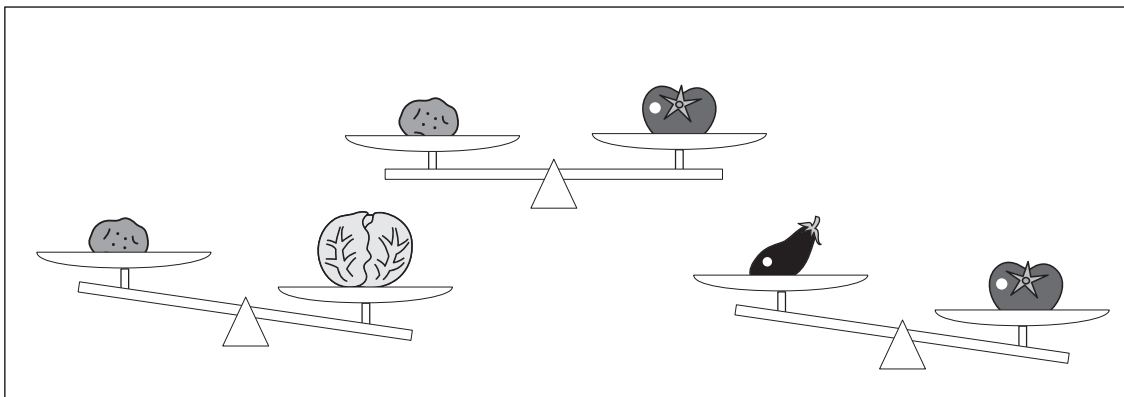


おうちで、やろう。

Study at home. 小学校受験の家庭学習教材

推理：重さ 11

天秤に野菜をのせて重さ比べをしました。一番重いものに○、一番軽いものに×をつけます。印は右の四角の中の野菜につけます。



※1. このプリントは、しながわ・目黒こどもスクールのウェブサイトでダウンロードができます。無断複写・引用はご遠慮ください。
 ※2. このプリントを活用したオンライン授業のスケジュールは、しながわ・目黒こどもスクールのウェブサイトでご確認ください。






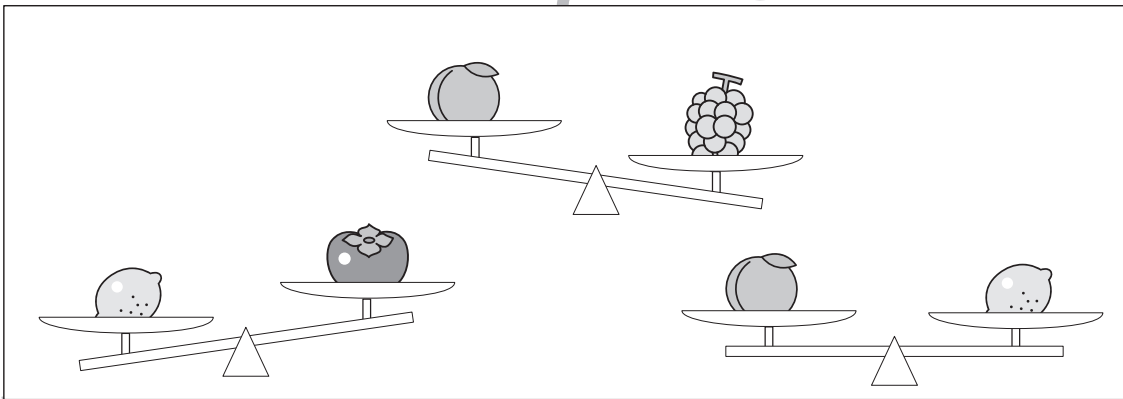




おうちで、やろう。

Study at home. 小学校受験の家庭学習教材

推理：重さ 12

天秤に果物をのせて重さ比べをしました。一番重くもなく、一番軽くもないものに○をつけます。



※1. このプリントは、しながわ・目黒こどもスクールのウェブサイトでダウンロードができます。無断複写・引用はご遠慮ください。
 ※2. このプリントを活用したオンライン授業のスケジュールは、しながわ・目黒こどもスクールのウェブサイトでご確認ください。




おうちで、やろう。

Study at home. 小学校受験の家庭学習教材

処理：計数3

上の四角の中の絵の数をかぞえて、下の四角の同じ絵の右にその数だけ〇をかきます。
この問題はスピードを意識して取り組む練習をしてみましょう。(1分～1分30秒)



| | |
|---|--|
|  | |
|  | |
|  | |
|  | |

※1. このプリントは、しながわ・目黒こどもスクールのウェブサイトでダウンロードができます。無断複写・引用はご遠慮ください。
※2. このプリントを活用したオンライン授業のスケジュールは、しながわ・目黒こどもスクールのウェブサイトでご確認ください。



おうちで、やろう。

Study at home. 小学校受験の家庭学習教材

処理能力：抹消3

上の太い四角の中の絵がお手本です。下のマスの中からお手本の絵をみつけて斜め線（/）をつけていきます。お手本を見つけるときは、一番上の段の左からはじめて、右端まで見ます。1段目ができたら2段目の左から右へ進み、次に3段目の左から右と順番に印をつけていきます。この問題はできるだけ早く印をつけます。それぞれ1分以内を目指し取り組みましょう。



| | | | | | | | | | |
|--|--|--|--|--|--|--|--|--|--|
| | | | | | | | | | |
| | | | | | | | | | |
| | | | | | | | | | |
| | | | | | | | | | |
| | | | | | | | | | |



| | | | | | | | | | |
|--|--|--|--|--|--|--|--|--|--|
| | | | | | | | | | |
| | | | | | | | | | |
| | | | | | | | | | |
| | | | | | | | | | |
| | | | | | | | | | |

※1. このプリントは、しながわ・目黒こどもスクールのウェブサイトでダウンロードができます。無断複写・引用はご遠慮ください。
※2. このプリントを活用したオンライン授業のスケジュールは、しながわ・目黒こどもスクールのウェブサイトでご確認ください。





おうちで、やろう。

Study at home. 小学校受験の家庭学習教材

巧緻性：ちぎり1

- ①点線をはさみで切ります。
- ②それぞれの果物の太い線の上をちぎりましょう。



※1. このプリントは、しながわ・目黒こどもスクールのウェブサイトでダウンロードができます。無断複写・引用はご遠慮ください。
※2. このプリントを活用したオンライン授業のスケジュールは、しながわ・目黒こどもスクールのウェブサイトでご確認ください。








おうちで、やろう。

Study at home. 小学校受験の家庭学習教材

巧緻性：ちぎり2

- ①点線をはさみで切ります。
- ②それぞれの果物の太い線の上をちぎりましょう。



※1. このプリントは、しながわ・目黒こどもスクールのウェブサイトでダウンロードができます。無断複写・引用はご遠慮ください。
※2. このプリントを活用したオンライン授業のスケジュールは、しながわ・目黒こどもスクールのウェブサイトでご確認ください。








おうちで、やろう。

Study at home. 小学校受験の家庭学習教材

巧緻性：ちぎり3

- ①点線をはさみで切ります。
- ②それぞれの果物の太い線の上をちぎりましょう。



※1. このプリントは、しながわ・目黒こどもスクールのウェブサイトでダウンロードができます。無断複写・引用はご遠慮ください。
※2. このプリントを活用したオンライン授業のスケジュールは、しながわ・目黒こどもスクールのウェブサイトでご確認ください。

