



おうちで、やろう。 年中児版

Study at home. 小学校受験の家庭学習教材

指示の聞き取り 1 1

- ①～④の話を聞き、正しい場所に印をつけましょう。
- ①上から3段目の右から2番目のマスに黄色のクーピーで塗りましょう。
- ②下から2段目の左から3番目のマスに青色のクーピーで○をかきましよう。
- ③1番上の段の真ん中のマスに緑色のクーピーで△をかきましよう。
- ④1番下の段の左から4番目のマスに紫色のクーピーで×をかきましよう。











おうちで、やろう。 年中児版

Study at home. 小学校受験の家庭学習教材





言語：しりとり 11

左の四角の中の絵からはじめて右の四角の中の絵でしりとりをします。すべての絵がしりとりでつながるときは○、つながらないときは×を一番右の四角にかきます。

	→	  	
---	---	--	--

	→	  	
--	---	---	--

	→	  	
---	---	--	--

	→	  	
---	---	--	--

※1. このプリントは、しながわ・目黒こどもスクールのウェブサイトからダウンロードできます。無断複写・引用はご遠慮ください。
 ※2. このプリントを活用したオンライン授業のスケジュールは、しながわ・目黒こどもスクールのウェブサイトでご確認ください。



おうちで、やろう。 年中児版

Study at home. 小学校受験の家庭学習教材

図形：重ね点図形5

左と右の点図形を重ねたとき、どんな形になりますか。矢印の右側の四角に書きましょう。

※1. このプリントは、しながわ・目黒こどもスクールのウェブサイトでダウンロードができます。無断複写・引用はご遠慮ください。
 ※2. このプリントを活用したオンライン授業のスケジュールは、しながわ・目黒こどもスクールのウェブサイトでご確認ください。

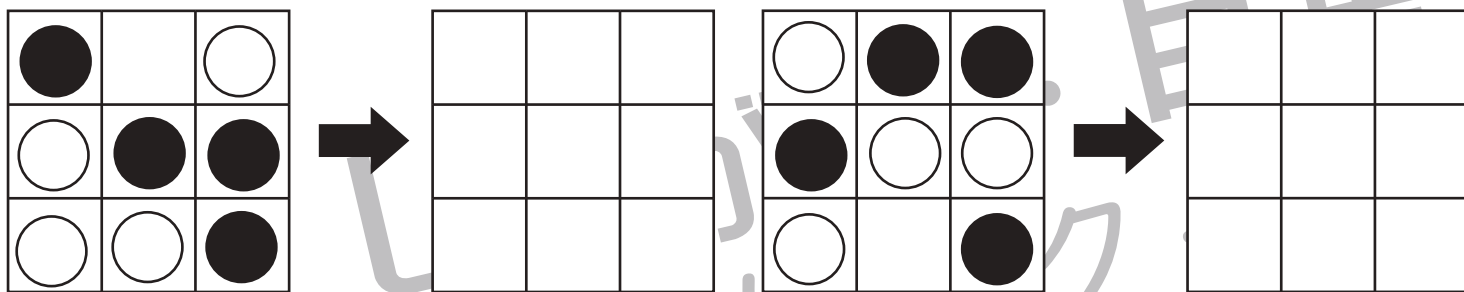
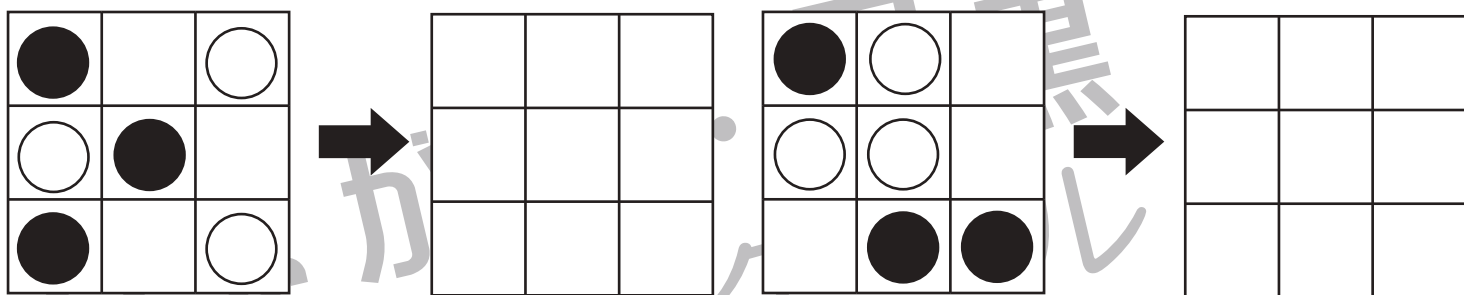
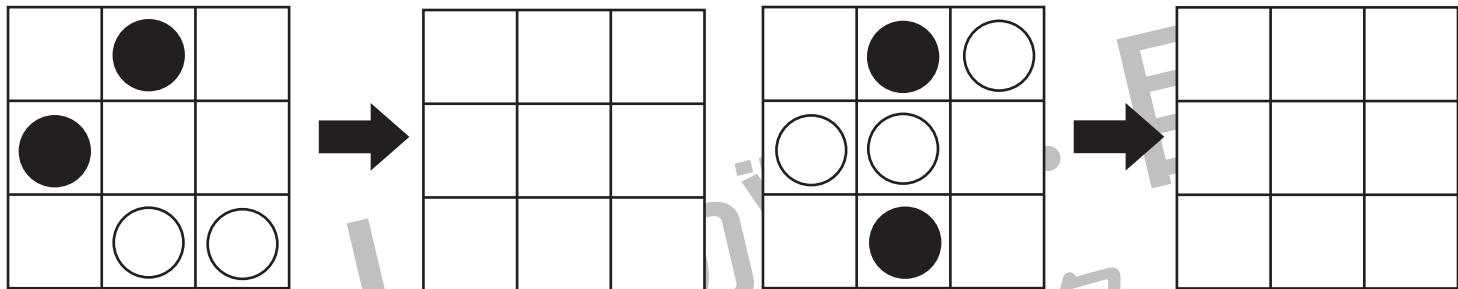


おうちで、やろう。 年中児版

Study at home. 小学校受験の家庭学習教材

図形：模写6

左のお手本の黒丸だけを矢印の右の四角の同じ場所にかきましょう。

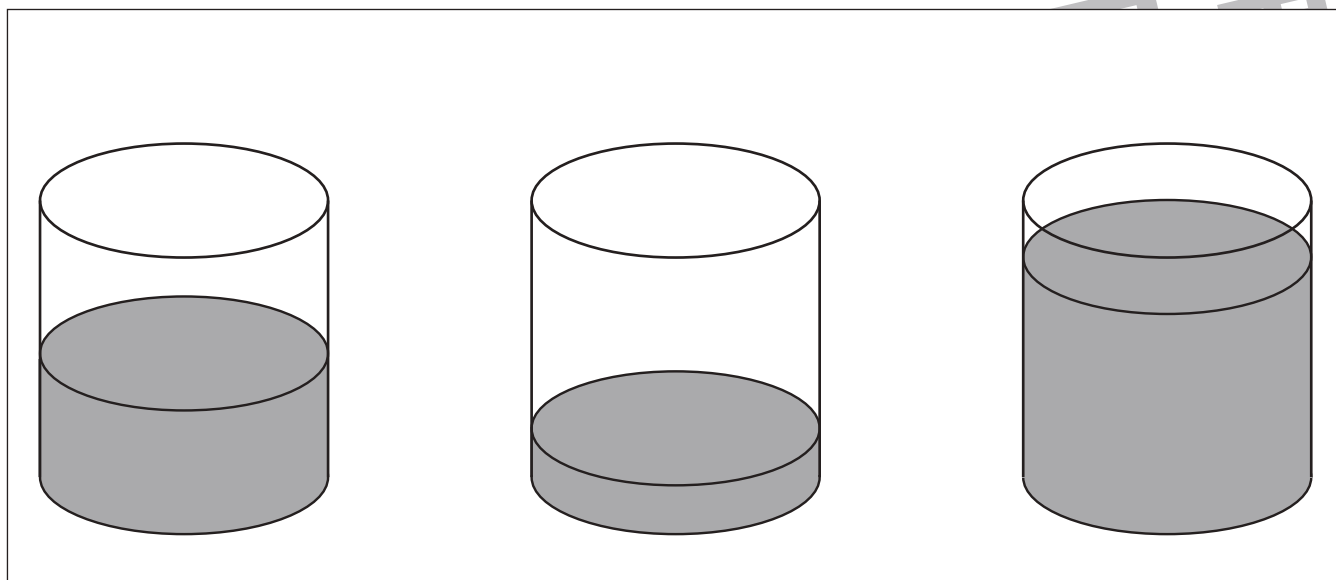


※1. このプリントは、しながわ・目黒こどもスクールのウェブサイトでダウンロードができます。無断複写・引用はご遠慮ください。
 ※2. このプリントを活用したオンライン授業のスケジュールは、しながわ・目黒こどもスクールのウェブサイトでご確認ください。

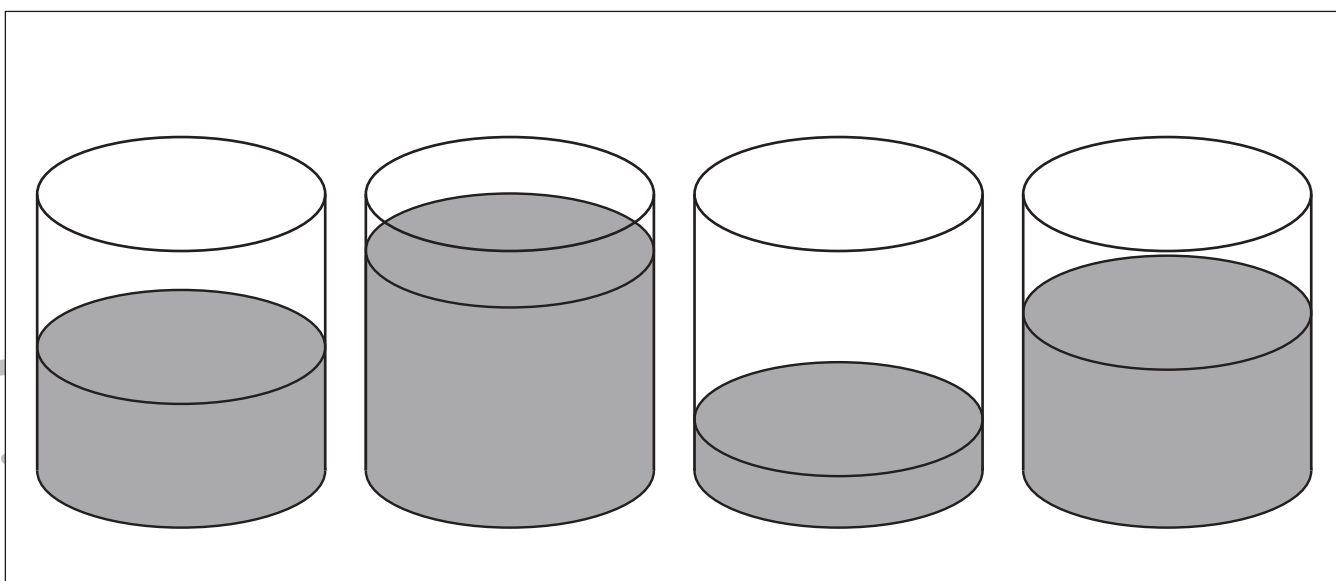


水の量が一番多いものに○をつけます。

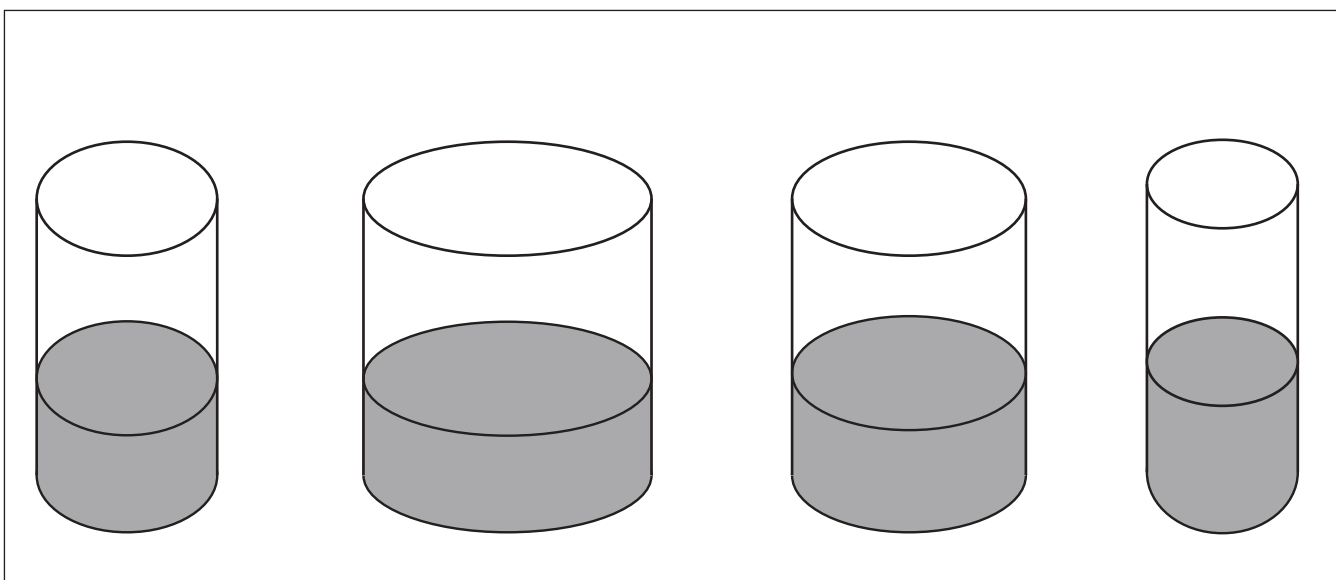
①



②



③



※1. このプリントは、しながわ・目黒こどもスクールのウェブサイトダウンロードができます。無断複写・引用はご遠慮ください。

※2. このプリントを活用したオンライン授業のスケジュールは、しながわ・目黒こどもスクールのウェブサイトでご確認ください。



水の量が一番少ないものに○をつけます。

①

②

③

※1. このプリントは、しながわ・目黒こどもスクールのウェブサイトからダウンロードできます。無断複写・引用はご遠慮ください。

※2. このプリントを活用したオンライン授業のスケジュールは、しながわ・目黒こどもスクールのウェブサイトでご確認ください。







おうちで、やろう。 年中児版




Study at home. 小学校受験の家庭学習教材


数量：すごろく3




動物たちがすごろく遊びをしています。一番左の★のマスから、サイコロの目の数だけ右へ進んだとき、動物はどのマスにとまりますか。動物がとまったマスに○をつけましょう。


		
---	---	---

									
---	--	--	--	--	--	--	--	--	--

		
---	---	---

									
---	--	--	--	--	--	--	--	--	--

		
---	---	---

									
---	--	--	--	--	--	--	--	--	--

※1. このプリントは、しながわ・目黒こどもスクールのウェブサイトでダウンロードができます。無断複写・引用はご遠慮ください。
 ※2. このプリントを活用したオンライン授業のスケジュールは、しながわ・目黒こどもスクールのウェブサイトでご確認ください。







おうちで、やろう。 年中児版




Study at home. 小学校受験の家庭学習教材


数量：すごろく4




動物たちがすごろく遊びをしています。一番左の★のマスから、サイコロの目の数だけ右へ進んだとき、動物はどのマスにとまりますか。動物がとまったマスに○をつけましょう。


									
---	---	---	--	--	--	--	--	--	--

									
---	--	--	--	--	--	--	--	--	--

									
---	---	---	--	--	--	--	--	--	--

									
---	--	--	--	--	--	--	--	--	--

									
---	---	---	--	--	--	--	--	--	--

									
---	--	--	--	--	--	--	--	--	--

※1. このプリントは、しながわ・目黒こどもスクールのウェブサイトからダウンロードできます。無断複写・引用はご遠慮ください。
 ※2. このプリントを活用したオンライン授業のスケジュールは、しながわ・目黒こどもスクールのウェブサイトでご確認ください。