




おうちで、やろう。 年中児版


Study at home. 小学校受験の家庭学習教材


図形：移動 4

四角の中の絵が矢印の方向へマス目を1マスずつ移動していきます。矢印は左から順番に見ていき、最後に着くマスを考えて○をかきましょう。

→ ↖ ↑ →		
		

↘ ← ↓ →		
		

↓ ↙ ↑ → →		
		

↓ ← ↑ → ↗		
		

※1. このプリントは、しながわ・目黒こどもスクールのウェブサイトでダウンロードができます。無断複写・引用はご遠慮ください。
 ※2. このプリントを活用したオンライン授業のスケジュールは、しながわ・目黒こどもスクールのウェブサイトでご確認ください。



おうちで、やろう。 年中児版

Study at home. 小学校受験の家庭学習教材

推理：積み木6

上の四角の中の積み木の数数を数えて、その数だけ下の四角に○をかきましょう。

Blank space for counting and marking.

Blank space for counting and marking.

Blank space for counting and marking.

Blank space for counting and marking.

Blank space for counting and marking.

Blank space for counting and marking.

※1. このプリントは、しながわ・目黒こどもスクールのウェブサイトでダウンロードができます。無断複写・引用はご遠慮ください。
※2. このプリントを活用したオンライン授業のスケジュールは、しながわ・目黒こどもスクールのウェブサイトでご確認ください。

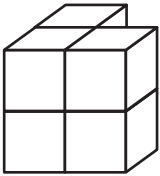


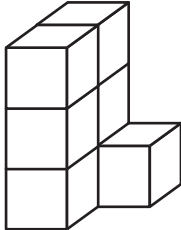
おうちで、やろう。 年中児版

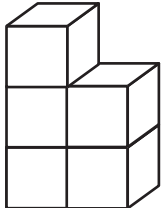
Study at home. 小学校受験の家庭学習教材

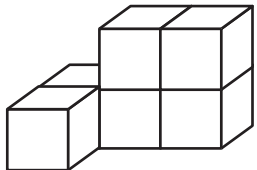
推理：積み木7

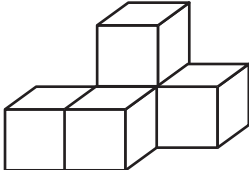
上の四角の中の積み木の数数を数えて、その数だけ下の四角に○をかきましょう。

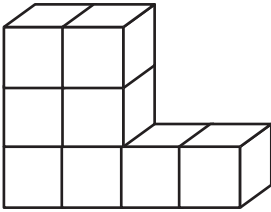













※1. このプリントは、しながわ・目黒こどもスクールのウェブサイトでダウンロードができます。無断複写・引用はご遠慮ください。
※2. このプリントを活用したオンライン授業のスケジュールは、しながわ・目黒こどもスクールのウェブサイトでご確認ください。



おうちで、よろう。年中児版

Study at home. 小学校受験の家庭学習教材

数量：計数 18



①

②

③

※1. このプリントは、しながわ・目黒こどもスクールのウェブサイトでダウンロードができます。無断複写・引用はご遠慮ください。
 ※2. このプリントを活用したオンライン授業のスケジュールは、しながわ・目黒こどもスクールのウェブサイトでご確認ください。



おうちで、やろう。 年中児版

Study at home. 小学校受験の家庭学習教材

数量：計数 19

大きな四角の中の絵を見て答えましょう。

- ①アジサイの数だけ〇をかきましょう。
- ②カタツムリの数だけ〇をかきましょう。
- ③風船の数だけ〇をかきましょう。



①

②

③

※1. このプリントは、しながわ・目黒こどもスクールのウェブサイトでダウンロードができます。無断複写・引用はご遠慮ください。
 ※2. このプリントを活用したオンライン授業のスケジュールは、しながわ・目黒こどもスクールのウェブサイトでご確認ください。









おうちで、やろう。 年中児版

Study at home. 小学校受験の家庭学習教材




数量：数の推理7




上の四角が約束です。それぞれの箱には右の吹き出しの中の数だけイチゴが入っています。このとき、下の左にある箱の中のイチゴを合わせると全部でいくつになりますか。その数だけ右の四角に○をかきましょう。





 	 	 
---	--	---

		
---	---	---

		
---	---	---

		
---	---	---

		
---	---	---

※1. このプリントは、しながわ・目黒こどもスクールのウェブサイトでダウンロードができます。無断複写・引用はご遠慮ください。
 ※2. このプリントを活用したオンライン授業のスケジュールは、しながわ・目黒こどもスクールのウェブサイトでご確認ください。











おうちで、やろう。 年中児版

Study at home. 小学校受験の家庭学習教材

数量：同数5

四角の中の絵が同じ数のときは○を、違う数のときは×を、一番右の四角にかきましょう。



※1. このプリントは、しながわ・目黒こどもスクールのウェブサイトでダウンロードができます。無断複写・引用はご遠慮ください。
 ※2. このプリントを活用したオンライン授業のスケジュールは、しながわ・目黒こどもスクールのウェブサイトでご確認ください。


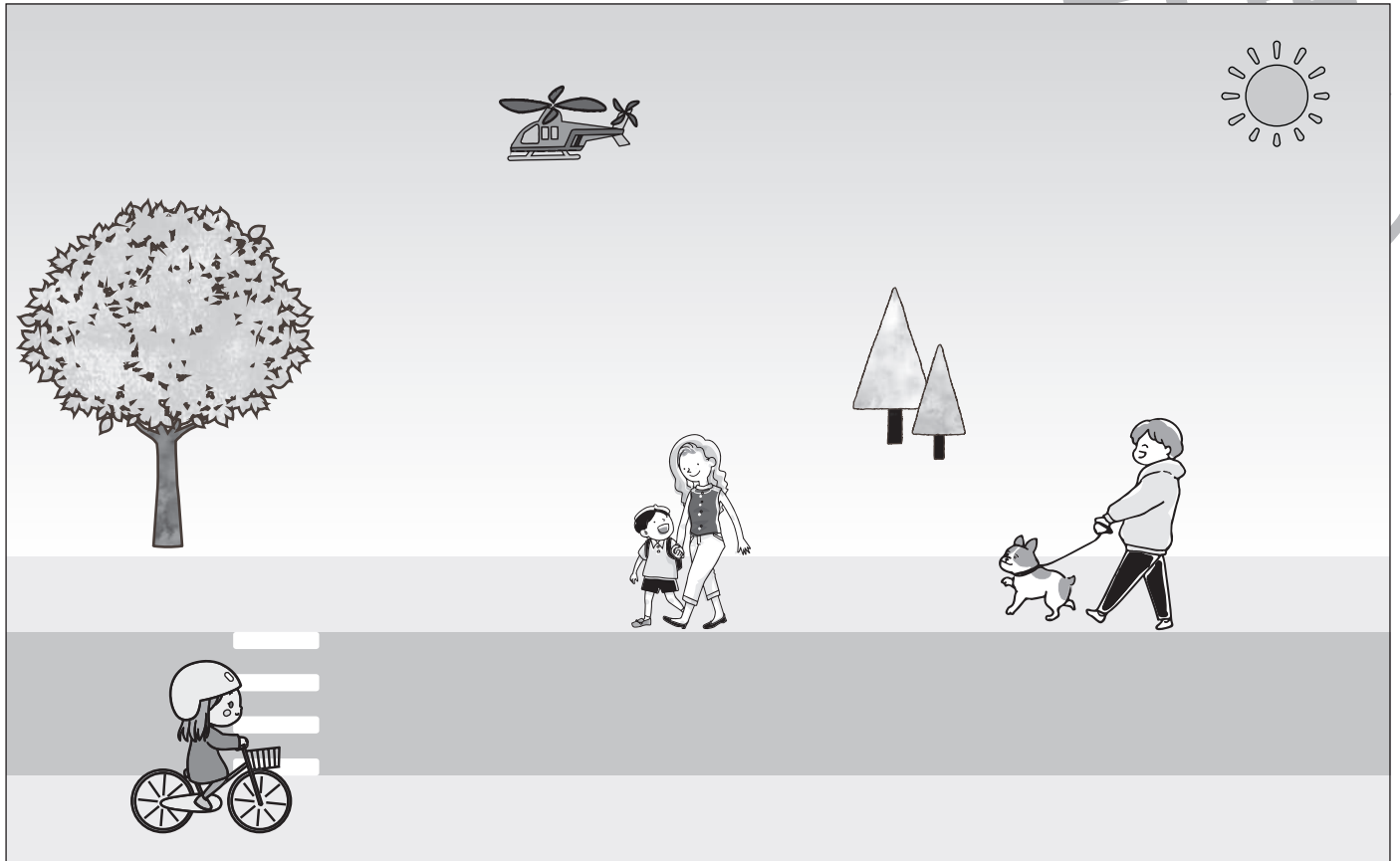


おうちで、やろう。年中児版

Study at home. 小学校受験の家庭学習教材

まちがいさがし 15

上下の絵を見比べて、変わっているところを6つ探します。見つけたら、下の絵の変わっている部分に○をつけましょう。



ICT教育の小学校受験

※1. このプリントは、しながわ・目黒こどもスクールのウェブサイトからダウンロードできます。無断複写・引用はご遠慮ください。

※2. このプリントを活用したオンライン授業のスケジュールは、しながわ・目黒こどもスクールのウェブサイトでご確認ください。

