


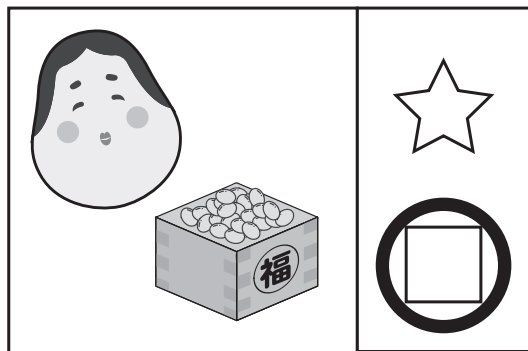
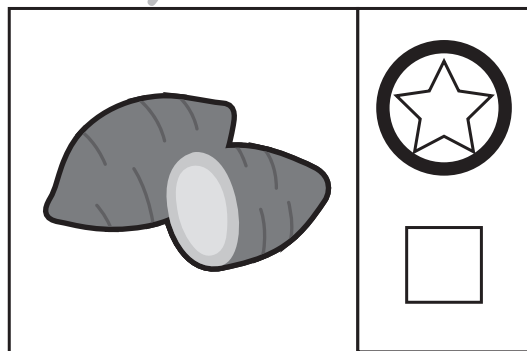
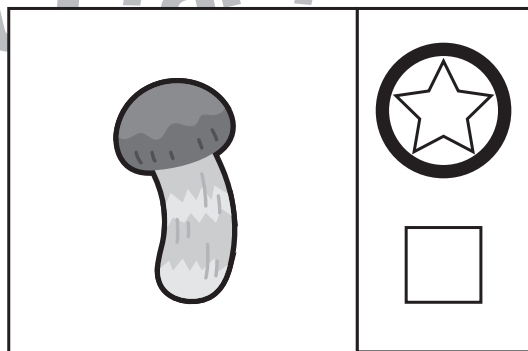
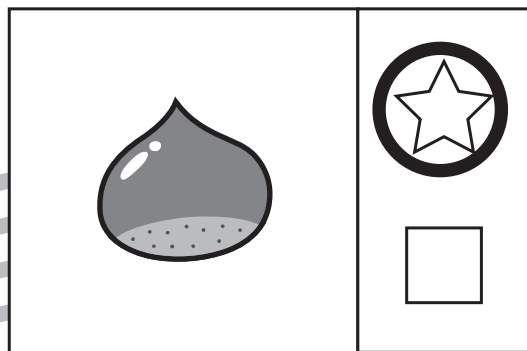

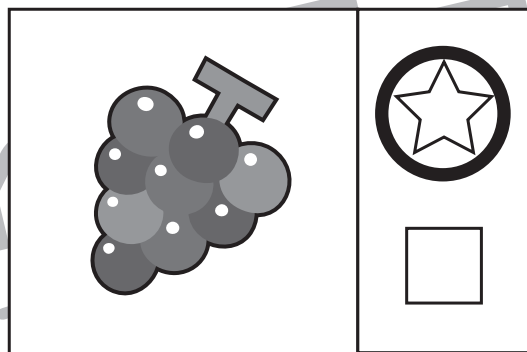



おうちで、やろう。 年中児版

Study at home. 小学校受験の家庭学習教材

常識：仲間分け4

四角の中の絵が秋のものには☆を、冬のものには□を○で囲みます。



※1. このプリントは、しながわ・目黒こどもスクールのウェブサイトでダウンロードができます。無断複写・引用はご遠慮ください。
 ※2. このプリントを活用したオンライン授業のスケジュールは、しながわ・目黒こどもスクールのウェブサイトでご確認ください。



おうちで、やろう。 年中児版

Study at home. 小学校受験の家庭学習教材

図形：重ね点図形5

左と右の点図形を重ねたとき、どんな形になりますか。矢印の右側の四角に書きましょう。

※1. このプリントは、しながわ・目黒こどもスクールのウェブサイトからダウンロードできます。無断複写・引用はご遠慮ください。
 ※2. このプリントを活用したオンライン授業のスケジュールは、しながわ・目黒こどもスクールのウェブサイトでご確認ください。



おうちで、やろう。 年中児版

Study at home. 小学校受験の家庭学習教材



推理：条件推理 18

下の太い丸の中に、内側の動物だけが回るルーレットがあります。

①矢印の向きにタヌキが3つ動いたとき、どの果物のところにきますか。下の四角の中の果物に○をつけてます。

②矢印の向きにネコが5つ動いたとき、どの果物のところにきますか。下の四角の中の果物に△をつけてます。

③矢印と逆向きにクマが2つ動いたあとに矢印の方向に6つ動きました。どの果物のところにきますか。下の四角の中の果物に□をつけてます。



ICT 教育の小学校受験

※1. このプリントは、しながわ・目黒こどもスクールのウェブサイトでダウンロードができます。無断複写・引用はご遠慮ください。

※2. このプリントを活用したオンライン授業のスケジュールは、しながわ・目黒こどもスクールのウェブサイトでご確認ください。



おうちで、やろう。 年中児版

Study at home. 小学校受験の家庭学習教材

推理：条件推理 16

- 下の四角の中の、ライオンが動物たちの写真を撮ろうとしています。どの動物を撮ろうとしているのか答えましょう。
- ①★の四角の中を見てください。ライオンが一番下の段の真ん中の動物を撮ろうとしています。その動物に○をつけましょう。
 - ②○の四角の中を見てください。ライオンは真ん中の段の一番右の動物を撮ろうとしています。その動物に○をつけましょう。
 - ③●の四角の中を見てください。ライオンが一番下の段の一番右と一番左の動物を撮ろうとしています。その動物に○をつけましょう。
 - ④▲の四角の中を見てください。ライオンが一番上の段の真ん中の動物と一番下の段の一番左の動物を撮ろうとしています。その動物に○をつけましょう。

★		○	
●		▲	

※1. このプリントは、しながわ・目黒こどもスクールのウェブサイトでダウンロードができます。無断複写・引用はご遠慮ください。
 ※2. このプリントを活用したオンライン授業のスケジュールは、しながわ・目黒こどもスクールのウェブサイトでご確認ください。

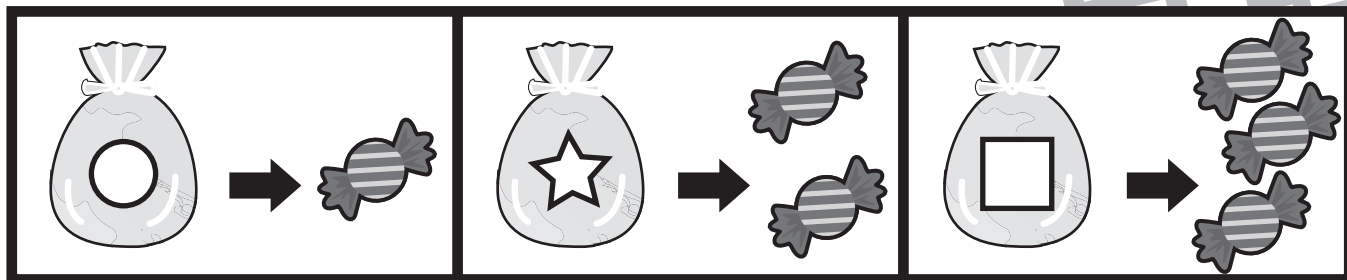


おうちで、やろう。 年中児版

Study at home. 小学校受験の家庭学習教材

数量：数の推理 3

上の四角が約束です。それぞれの袋の中には矢印の右の数だけ飴が入っています。左の四角の中の袋の中の飴を全て合わせた数はいくつですか。その数だけ右の四角に○をかきましょう



	$\bigcirc \times 6$
--	---------------------

	$\bigcirc \times 5$
--	---------------------

	$\bigcirc \times 8$
--	---------------------

	$\bigcirc \times 7$
--	---------------------

※1. このプリントは、しながわ・目黒こどもスクールのウェブサイトでダウンロードができます。無断複写・引用はご遠慮ください。
※2. このプリントを活用したオンライン授業のスケジュールは、しながわ・目黒こどもスクールのウェブサイトでご確認ください。




おうちで、やろう。 年中児版

Study at home. 小学校受験の家庭学習教材

数量：数の推理 4

上の四角が約束です。それぞれの袋の中には矢印の右の数だけ飴が入っています。左の四角の中の袋の中の飴を全て合わせた数はいくつですか。その数だけ右の四角に○をかきましょう



	$\bigcirc \times 4$
--	---------------------

	$\bigcirc \times 11$
--	----------------------

	$\bigcirc \times 13$
--	----------------------

	$\bigcirc \times 12$
--	----------------------

※1. このプリントは、しながわ・目黒こどもスクールのウェブサイトでダウンロードができます。無断複写・引用はご遠慮ください。
※2. このプリントを活用したオンライン授業のスケジュールは、しながわ・目黒こどもスクールのウェブサイトでご確認ください。



上下の絵を見比べて、変わっているところを4つ探します。見つけたら、下の絵の変わっている部分に○をつけましょう。



※1. このプリントは、しながわ・目黒こどもスクールのウェブサイトでダウンロードができます。無断複写・引用はご遠慮ください。

※2. このプリントを活用したオンライン授業のスケジュールは、しながわ・目黒こどもスクールのウェブサイトでご確認ください。