



おうちで、やろう。年中児版

Study at home. 小学校受験の家庭学習教材

言語：音の理解 9

下の大きな四角の中からはじめの音とおわりの音が同じ物を見つけて○をつけましょう。



※1. このプリントは、しながわ・目黒こどもスクールのウェブサイトからダウンロードできます。無断複写・引用はご遠慮ください。

※2. このプリントを活用したオンライン授業のスケジュールは、しながわ・目黒こどもスクールのウェブサイトでご確認ください。





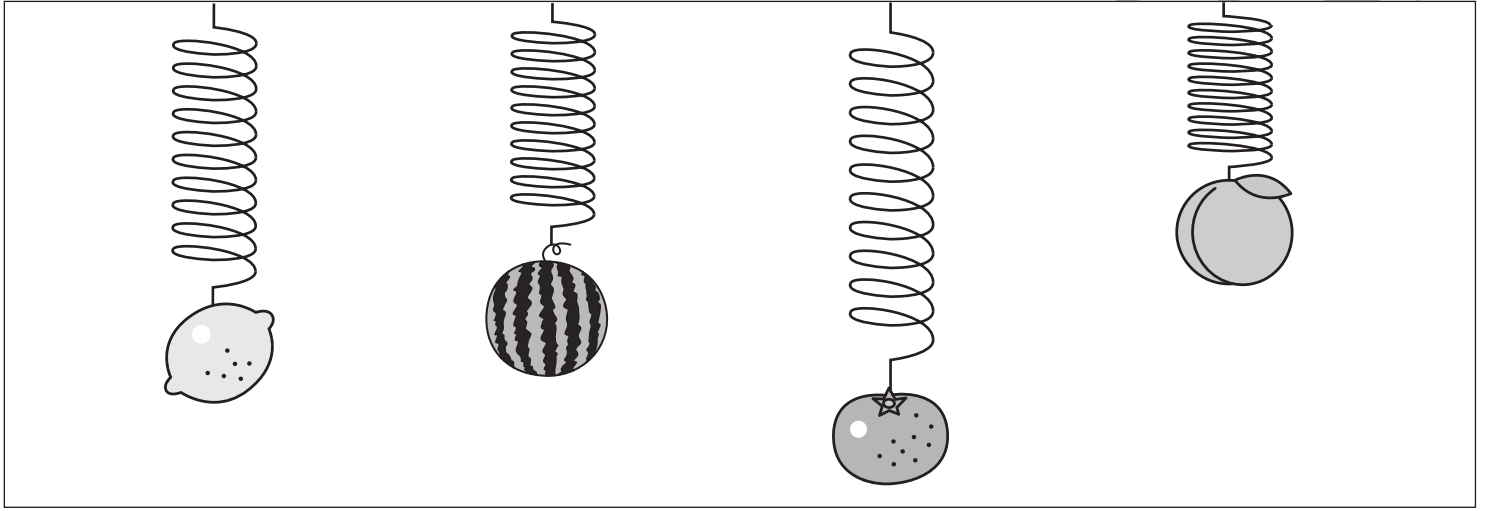
おうちで、やろう。 年中児版

Study at home. 小学校受験の家庭学習教材

推理：重さ2

バネを使って重さ比べをします。①～③の問題に答えましょう。

- ①一番重いものに○をつけましょう。
- ②二番目に重いものに○をつけましょう。
- ③一番軽いものに○をつけましょう。



※1. このプリントは、しながわ・目黒こどもスクールのウェブサイトでダウンロードができます。無断複写・引用はご遠慮ください。
 ※2. このプリントを活用したオンライン授業のスケジュールは、しながわ・目黒こどもスクールのウェブサイトでご確認ください。














おうちで、やろう。年中児版

Study at home. 小学校受験の家庭学習教材

数量：数の推理6

イヌとネコが持っているリンゴの数を合わせると矢印の右の四角の中のリンゴの数になります。ネコが持っているリンゴの数を考えてネコの四角に○をかきましょう。



※1. このプリントは、しながわ・目黒こどもスクールのウェブサイトでダウンロードができます。無断複写・引用はご遠慮ください。
※2. このプリントを活用したオンライン授業のスケジュールは、しながわ・目黒こどもスクールのウェブサイトでご確認ください。







おうちで、やろう。 年中児版

Study at home. 小学校受験の家庭学習教材

数量：多少6

左と右の動物の数をくらべます。数が少ない方の四角に○をつけましょう。



※1. このプリントは、しながわ・目黒こどもスクールのウェブサイトでダウンロードができます。無断複写・引用はご遠慮ください。

※2. このプリントを活用したオンライン授業のスケジュールは、しながわ・目黒こどもスクールのウェブサイトでご確認ください。













おうちで、やろう。年中児版

Study at home. 小学校受験の家庭学習教材

数量：数の推理5

イヌとネコが持っているリンゴの数を合わせると矢印の右の四角の中のリンゴのになります。ネコが持っているリンゴの数を考えてネコの四角に○をかきましょう。



※1. このプリントは、しながわ・目黒こどもスクールのウェブサイトでダウンロードができます。無断複写・引用はご遠慮ください。
※2. このプリントを活用したオンライン授業のスケジュールは、しながわ・目黒こどもスクールのウェブサイトでご確認ください。

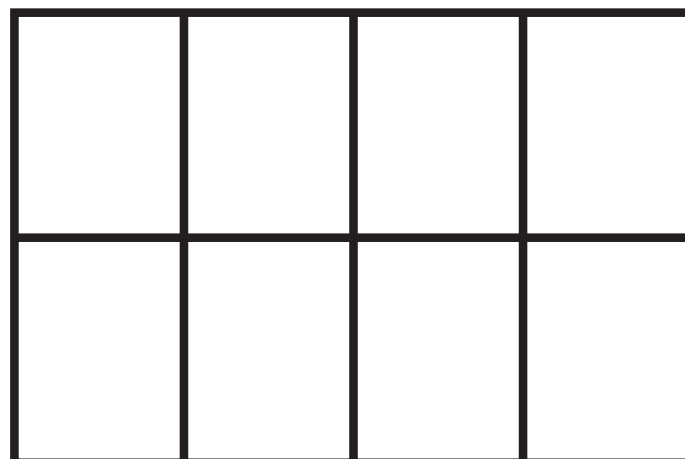


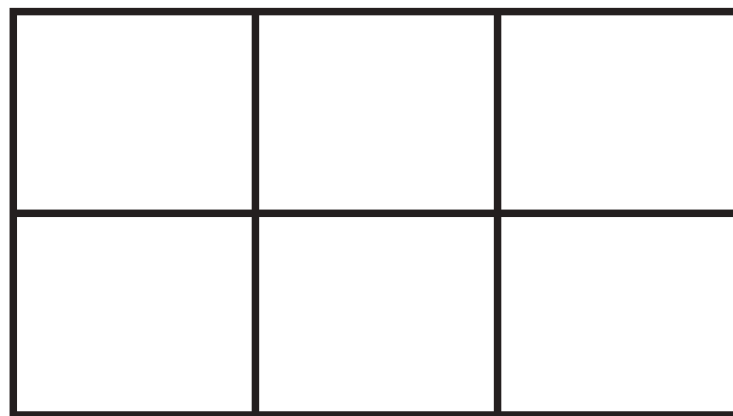
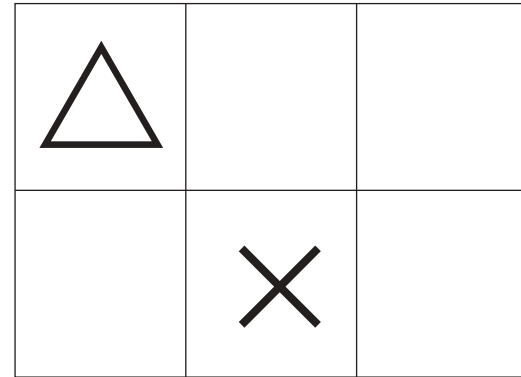



おうちで、やろう。 年中児版

Study at home. 小学校受験の家庭学習教材

図形：重ね7

上の2枚は透明な板です。この2枚が重なった時の見え方を考えて、下の太い四角にかきましょう。



※1. このプリントは、しながわ・目黒こどもスクールのウェブサイトからダウンロードができます。無断複写・引用はご遠慮ください。
 ※2. このプリントを活用したオンライン授業のスケジュールは、しながわ・目黒こどもスクールのウェブサイトでご確認ください。

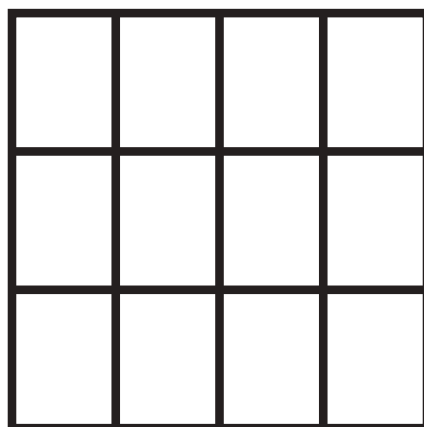
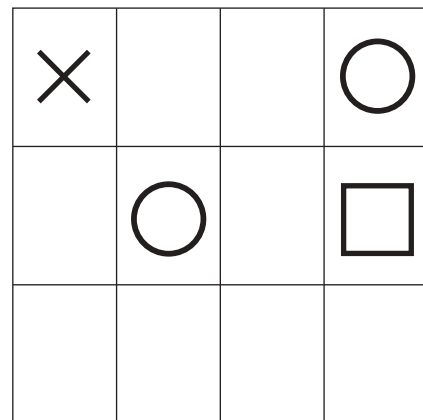
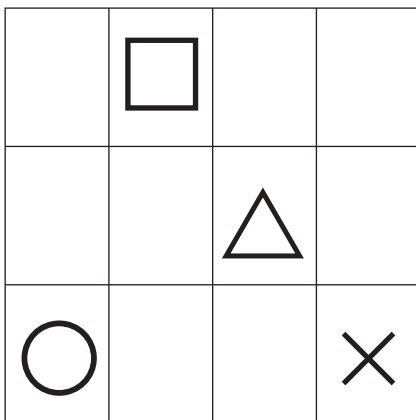
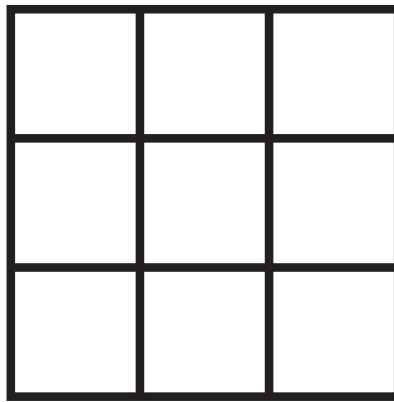
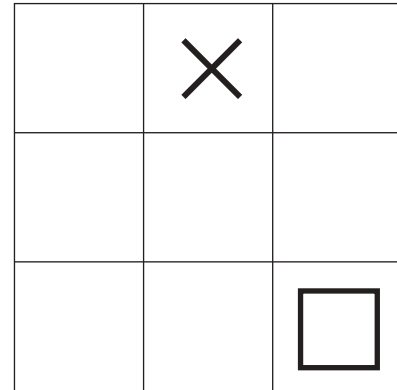
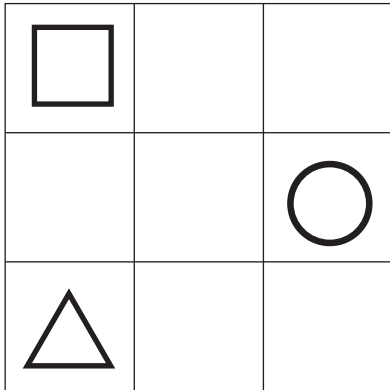


おうちで、やろう。 年中児版

Study at home. 小学校受験の家庭学習教材

図形：重ね8

上の2枚は透明な板です。この2枚が重なった時の見え方を考えて、下の太い四角にかきましょう。



※1. このプリントは、しながわ・目黒こどもスクールのウェブサイトでダウンロードができます。無断複写・引用はご遠慮ください。
 ※2. このプリントを活用したオンライン授業のスケジュールは、しながわ・目黒こどもスクールのウェブサイトでご確認ください。










おうちで、やろう。 年中児版







Study at home. 小学校受験の家庭学習教材


処理能力：置き換え4







上の太い四角が約束です。それぞれの絵を矢印の先の記号に置き換えます。左の四角の中の形を約束どおりに置き換えたとき、正しいものを右の四角の中から見つけて○をつけます。

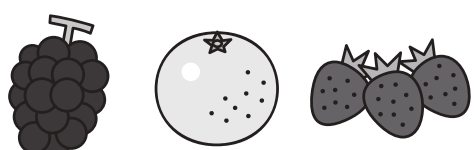
 → 	 → 	 → 
---	---	---













※1. このプリントは、しながわ・目黒こどもスクールのウェブサイトでダウンロードができます。無断複写・引用はご遠慮ください。

※2. このプリントを活用したオンライン授業のスケジュールは、しながわ・目黒こどもスクールのウェブサイトでご確認ください。