












おうちで、やろう。 年中児版

Study at home. 小学校受験の家庭学習教材

指示の聞き取り 10

- ①～④の話を聞き、正しい場所に印をつけましょう。
- ① 1番上の段の左から2番目の動物に○をつけましょう。
- ② 下から2段目の右から5番目の花に△をつけましょう。
- ③ 上から2段目の右から2番目の魚に□をつけましょう。
- ④ 1番下の段の真ん中のマスに×をかきましょう。

※1. このプリントは、しながわ・目黒こどもスクールのウェブサイトでダウンロードができます。無断複写・引用はご遠慮ください。
※2. このプリントを活用したオンライン授業のスケジュールは、しながわ・目黒こどもスクールのウェブサイトでご確認ください。




おうちで、やろう。 年中児版

Study at home. 小学校受験の家庭学習教材


言語：おわりの音 1

- ①おわりの音が「さ」の絵に○をつけましょう。 ②おわりの音が「ん」の絵に○をつけましょう
 ③おわりの音が「か」の絵に○をつけましょう。 ④おわりの音が「み」の絵に○をつけましょう。


①




②



③



①



※1. このプリントは、しながわ・目黒こどもスクールのウェブサイトでダウンロードができます。無断複写・引用はご遠慮ください。
 ※2. このプリントを活用したオンライン授業のスケジュールは、しながわ・目黒こどもスクールのウェブサイトでご確認ください。




おうちで、やろう。 年中児版

Study at home. 小学校受験の家庭学習教材


言語：おわりの音2

- ①おわりの音が「う」の絵に○をつけましょう。 ②おわりの音が「い」の絵に○をつけましょう
 ③おわりの音が「き」の絵に○をつけましょう。 ④おわりの音が「か」の絵に○をつけましょう。


①




②



③



①



※1. このプリントは、しながわ・目黒こどもスクールのウェブサイトからダウンロードができます。無断複写・引用はご遠慮ください。
 ※2. このプリントを活用したオンライン授業のスケジュールは、しながわ・目黒こどもスクールのウェブサイトでご確認ください。



おうちで、やろう。 年中児版


Study at home. 小学校受験の家庭学習教材

常識：野菜2

下の大きな四角の中から正しいものを選んで印をつけましょう。

①土の中で育つ野菜はどれですか。正しいものに○をつけましょう。

②土の上で育つ野菜はどれですか。正しいものに□をつけましょう。



※1. このプリントは、しながわ・目黒こどもスクールのウェブサイトでダウンロードができます。無断複写・引用はご遠慮ください。

※2. このプリントを活用したオンライン授業のスケジュールは、しながわ・目黒こどもスクールのウェブサイトでご確認ください。






おうちで、やろう。年中児版

Study at home. 小学校受験の家庭学習教材

数量：広さ7

下の大きな四角の中で一番広い形に○、一番狭い形に×、二番目に狭い形に□をかきましょう。



※1. このプリントは、しながわ・目黒こどもスクールのウェブサイトでダウンロードができます。無断複写・引用はご遠慮ください。
※2. このプリントを活用したオンライン授業のスケジュールは、しながわ・目黒こどもスクールのウェブサイトでご確認ください。




おうちで、やろう。年中児版

Study at home. 小学校受験の家庭学習教材

数量：広さ8


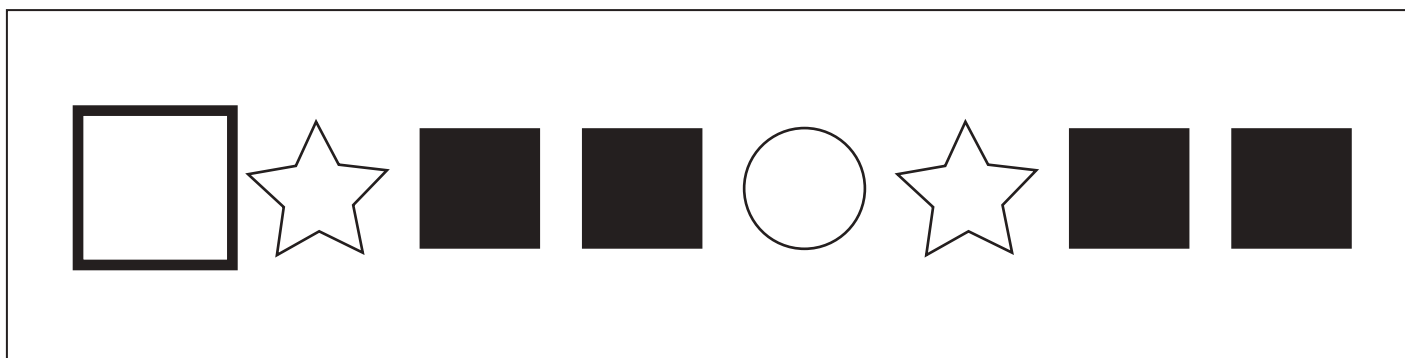

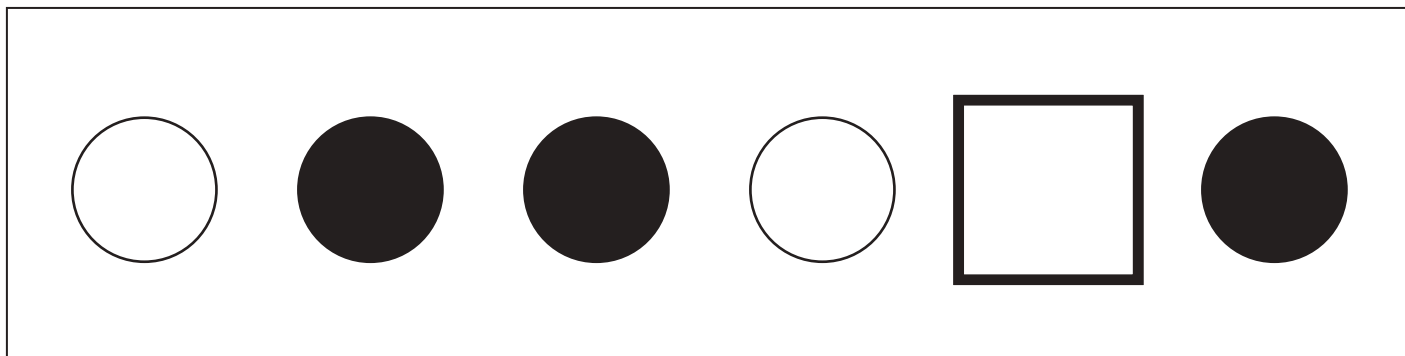
下の大きな四角の中で一番広い形に○、一番狭い形に×、二番目に狭い形に□をかきましょう。



※1. このプリントは、しながわ・目黒こどもスクールのウェブサイトダウンロードができます。無断複写・引用はご遠慮ください。
※2. このプリントを活用したオンライン授業のスケジュールは、しながわ・目黒こどもスクールのウェブサイトでご確認ください。



それぞれの四角の中に、形や印がある決まりで並んでいます。空いている太い四角に入るもの考えてかきましょう。



※1. このプリントは、しながわ・目黒こどもスクールのウェブサイトでダウンロードができます。無断複写・引用はご遠慮ください。
 ※2. このプリントを活用したオンライン授業のスケジュールは、しながわ・目黒こどもスクールのウェブサイトでご確認ください。

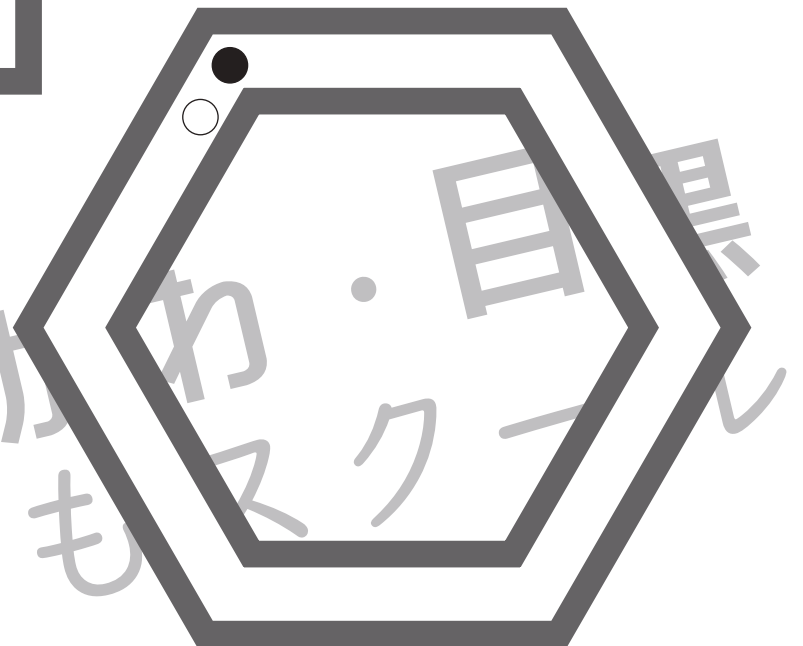

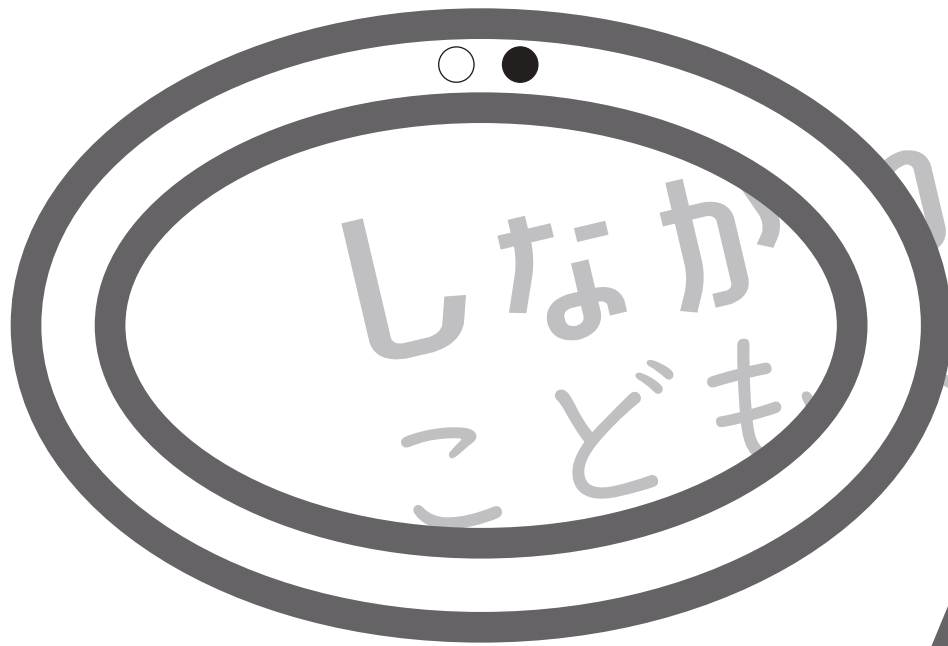


おうちで、やろう。 年中児版

Study at home. 小学校受験の家庭学習教材

図形：運筆4

●から○まで線を描きましょう。※この問題に解答はありません。



※1. このプリントは、しながわ・目黒こども学校のウェブサイトでダウンロードができます。無断複写・引用はご遠慮ください。
※2. このプリントを活用したオンライン授業のスケジュールは、しながわ・目黒こども学校のウェブサイトでご確認ください。

