




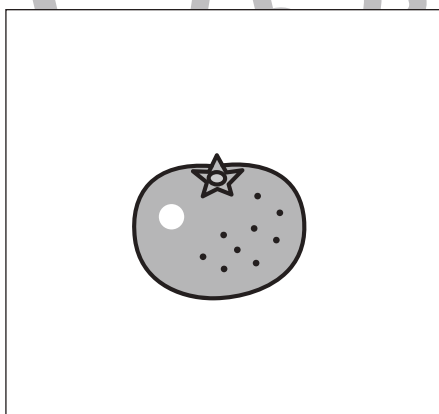


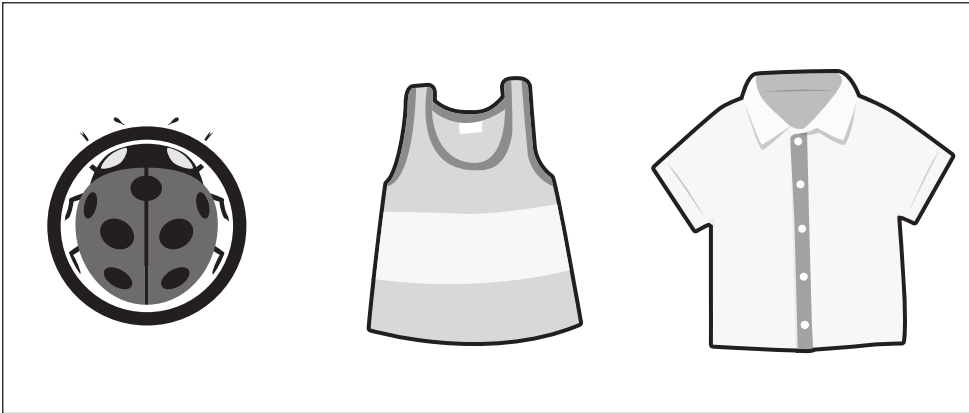


おうちで、やろう。年中児版

Study at home. 小学校受験の家庭学習教材

常識：仲間はずれ1

左の四角の中の絵と仲間でないものを、右の四角の中から見つけて○をつけましょう。



※1. このプリントは、しながわ・目黒こどもスクールのウェブサイトからダウンロードができます。無断複写・引用はご遠慮ください。

※2. このプリントを活用したオンライン授業のスケジュールは、しながわ・目黒こどもスクールのウェブサイトでご確認ください。






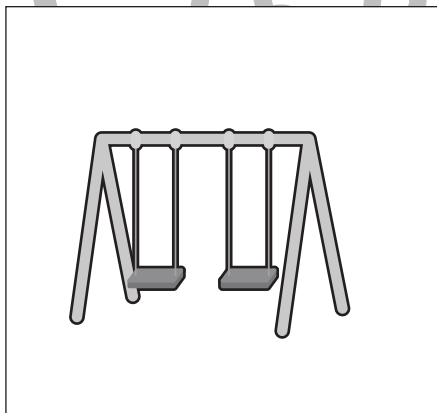

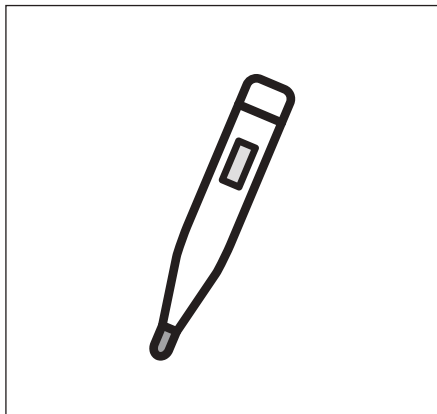



おうちで、やろう。年中児版

Study at home. 小学校受験の家庭学習教材

言語：仲間はずれ2

左の四角の中の絵と仲間でないものを、右の四角の中から見つけて○をつけましょう。



※1. このプリントは、しながわ・目黒こどもスクールのウェブサイトからダウンロードができます。無断複写・引用はご遠慮ください。

※2. このプリントを活用したオンライン授業のスケジュールは、しながわ・目黒こどもスクールのウェブサイトでご確認ください。





おうちで、やろう。 年中児版

Study at home. 小学校受験の家庭学習教材

推理：順位付け2

- ① 5つの○の中で3番目に大きい○を青色のクーピーで塗りましょう。
- ② 2番目に小さな犬に○をつけましょう。
- ③ 4人のお友達の中で2番目に背が高い人に○、3番目に背が高い人に×をつけましょう。

①

②

③

※1. このプリントは、しながわ・目黒こどもスクールのウェブサイトでダウンロードができます。無断複写・引用はご遠慮ください。
※2. このプリントを活用したオンライン授業のスケジュールは、しながわ・目黒こどもスクールのウェブサイトでご確認ください。





おうちで、やろう。 年中児版

Study at home. 小学校受験の家庭学習教材



数量：加減7

左の四角と右の四角の中の絵の違いはいくつですか。違う数だけ右の四角の中に○をかきます。



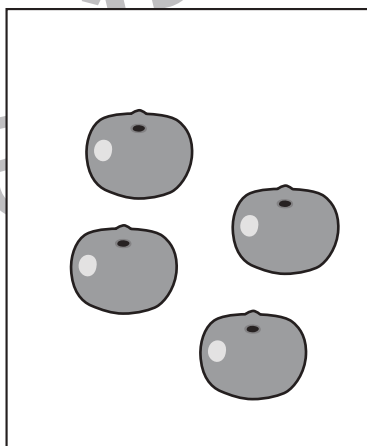
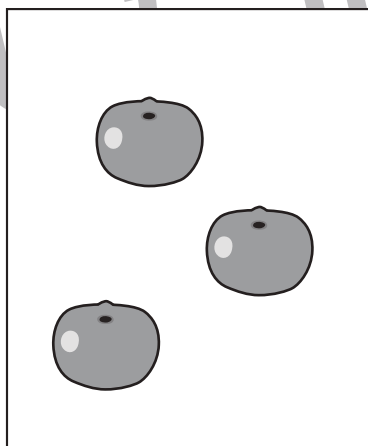
わ
→
ス

$$\bigcirc \times 1$$





目
→
黒

$$\bigcirc \times 2$$



→

$$\bigcirc \times 1$$



わ
→
ス

$$\bigcirc \times 3$$

※1. このプリントは、しながわ・目黒こどもスクールのウェブサイトでダウンロードができます。無断複写・引用はご遠慮ください。

※2. このプリントを活用したオンライン授業のスケジュールは、しながわ・目黒こどもスクールのウェブサイトでご確認ください。

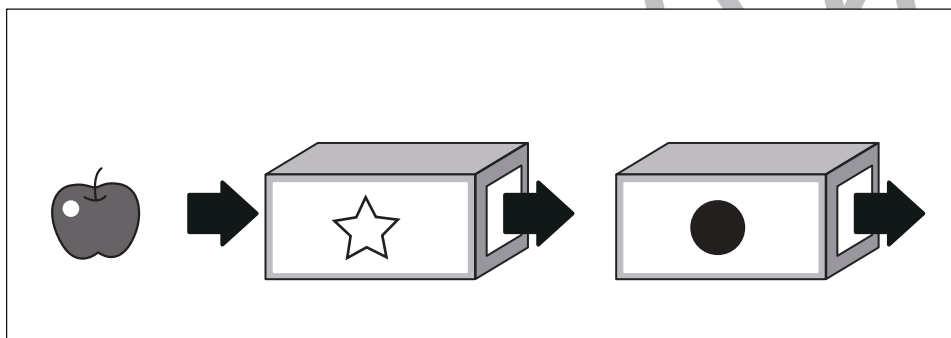
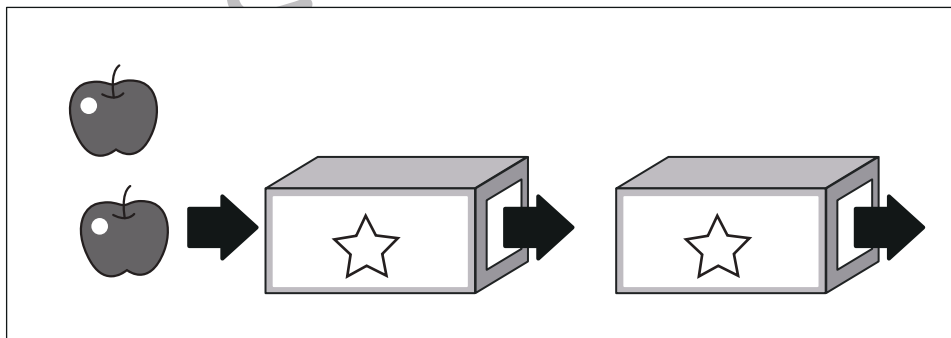
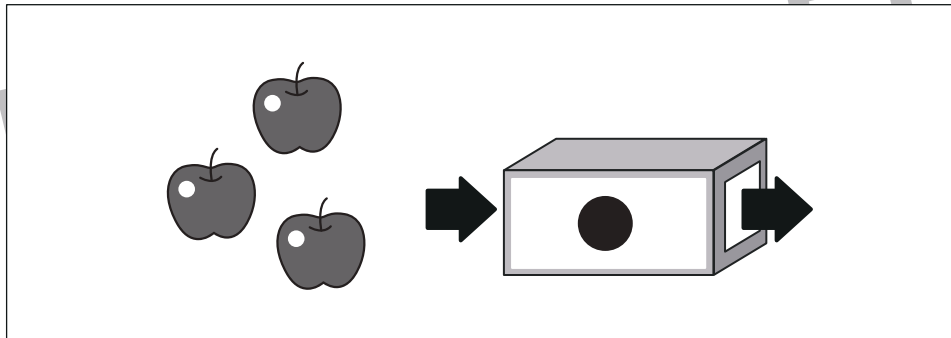
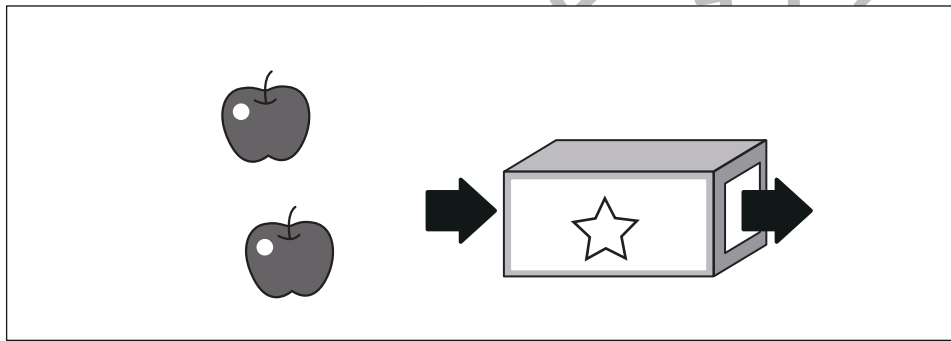
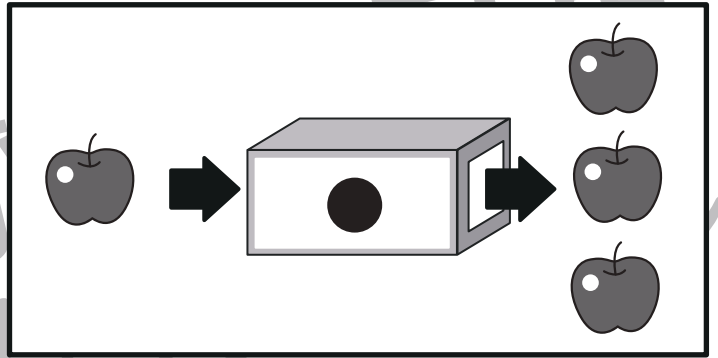
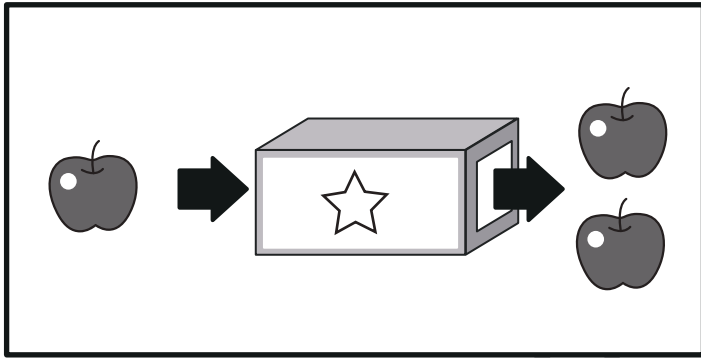




おうちで、やろう。年中児版 推理：ブラックボックス1

Study at home. 小学校受験の家庭学習教材

一番上の四角の中が約束です。リンゴが矢印の順番に箱の中を通ったとき、リンゴはいくつになりますか。その数だけ一番右の四角に○をかきましょう。



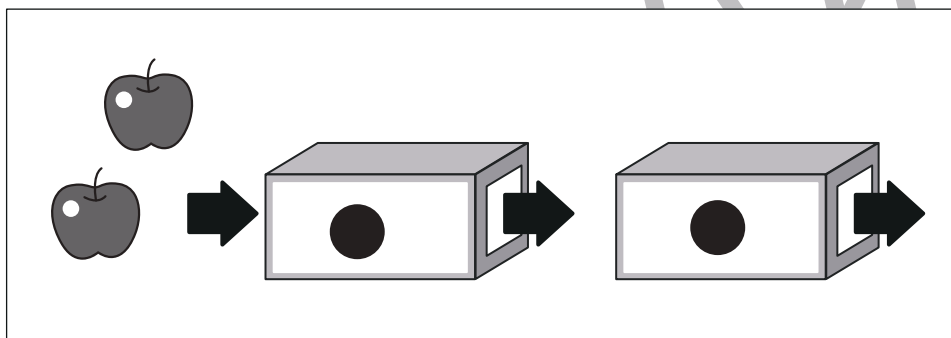
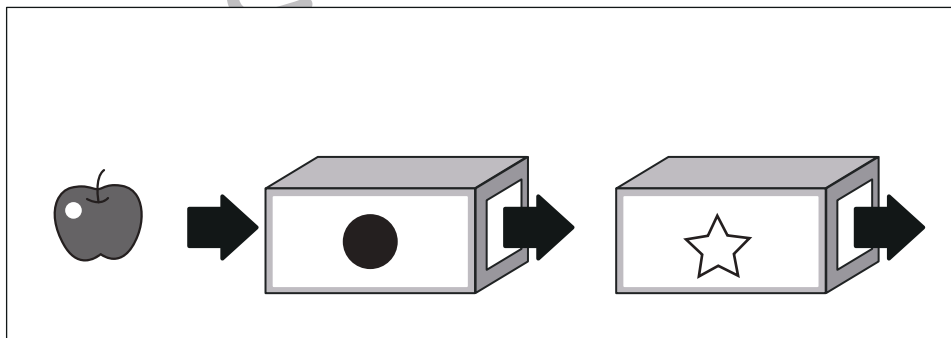
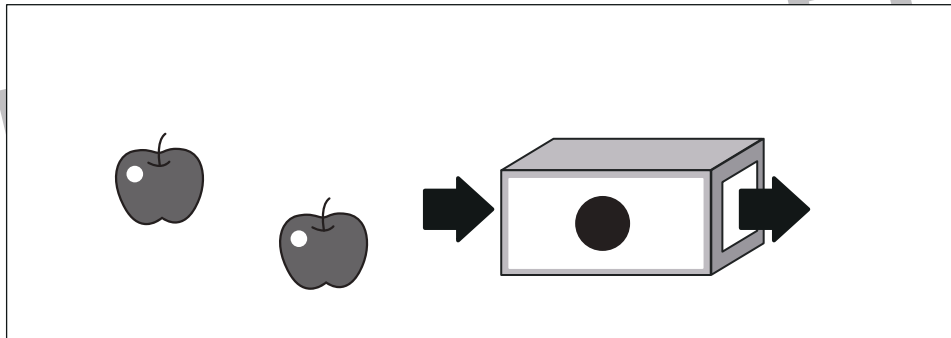
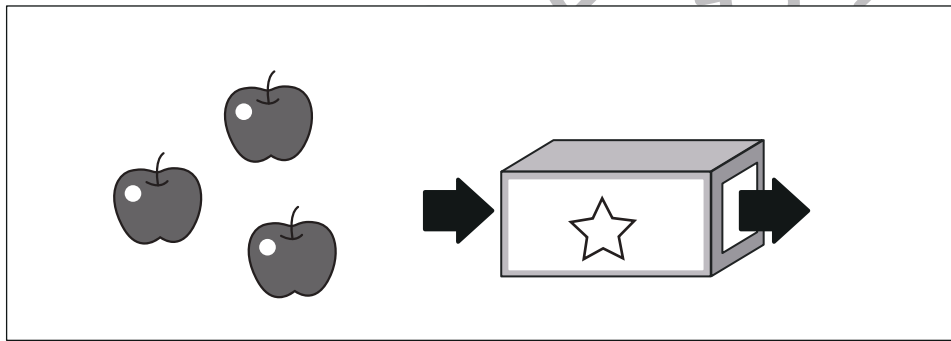
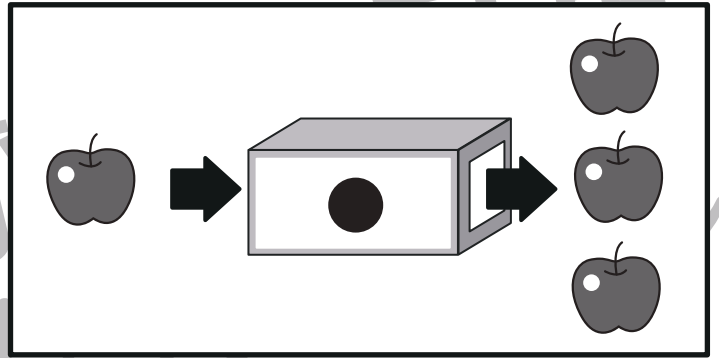
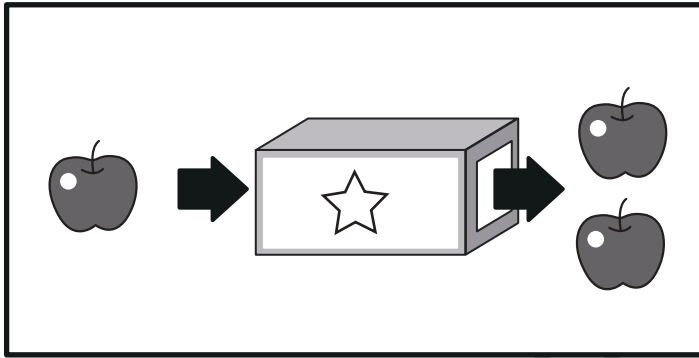
※1. このプリントは、しながわ・目黒こどもスクールのウェブサイトからダウンロードできます。無断複写・引用はご遠慮ください。
 ※2. このプリントを活用したオンライン授業のスケジュールは、しながわ・目黒こどもスクールのウェブサイトでご確認ください。



おうちで、やろう。年中児版 推理：ブラックボックス2

Study at home. 小学校受験の家庭学習教材

一番上の四角の中が約束です。リンゴが矢印の順番に箱の中を通ったとき、リンゴはいくつになりますか。その数だけ一番右の四角に○をかきましょう。



※1. このプリントは、しながわ・目黒こどもスクールのウェブサイトからダウンロードができます。無断複写・引用はご遠慮ください。
※2. このプリントを活用したオンライン授業のスケジュールは、しながわ・目黒こどもスクールのウェブサイトでご確認ください。




おうちで、やろう。 年中児版

Study at home. 小学校受験の家庭学習教材

処理能力：処理能力1

上の太い四角の中の絵がお手本です。下のマスの中からお手本の絵をみつけて斜め線（/）をつけていきます。お手本を見つけるときは、一番上の段の左からはじめて、右端まで見ます。1段目ができたら2段目の左から右へ進み、次に3段目の左から右と順番に印をつけていきます。



※1. このプリントは、しながわ・目黒こどもスクールのウェブサイトでダウンロードができます。無断複写・引用はご遠慮ください。
 ※2. このプリントを活用したオンライン授業のスケジュールは、しながわ・目黒こどもスクールのウェブサイトでご確認ください。