



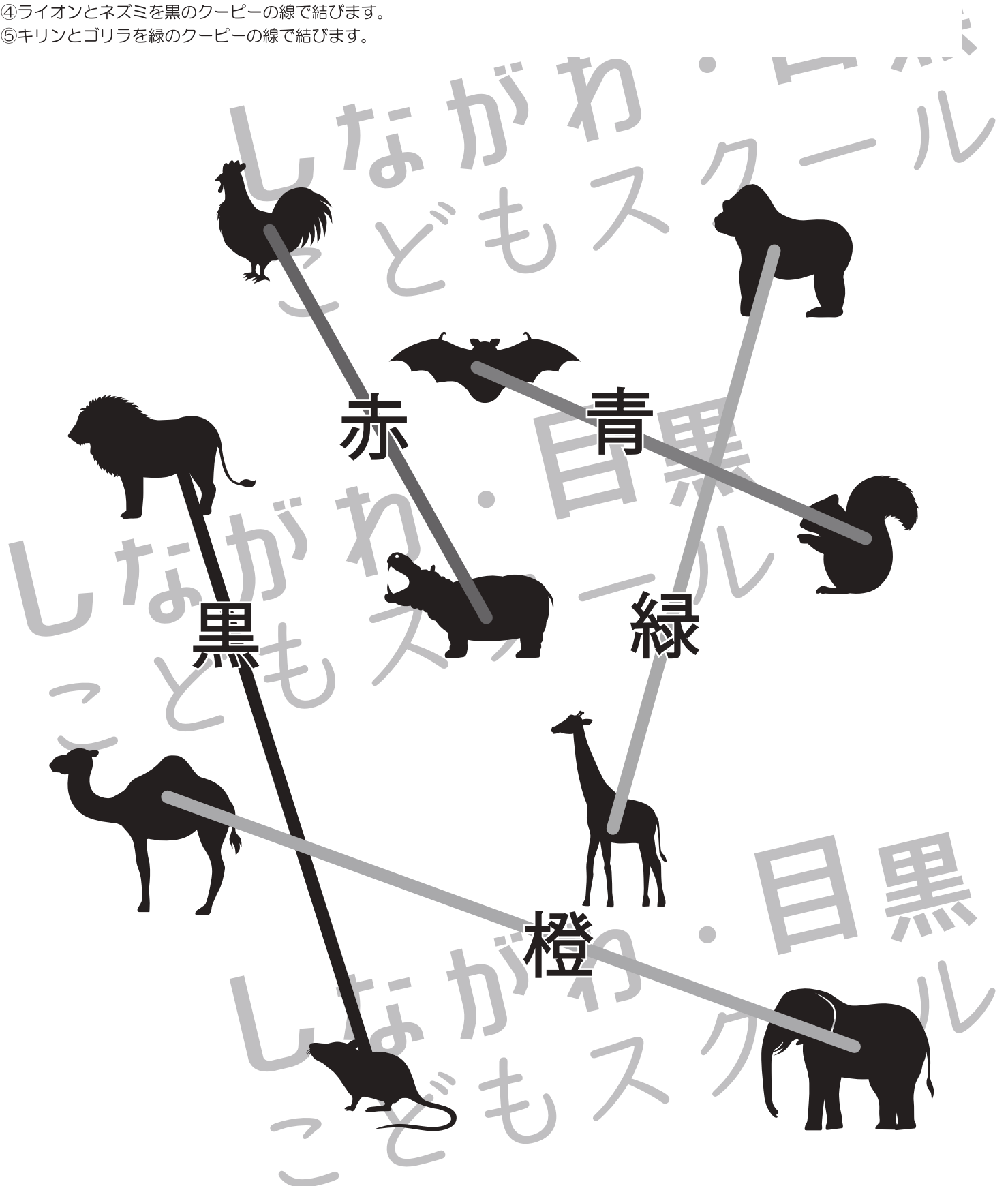
おうちで、やろう。

Study at home. 小学校受験の家庭学習教材

指示の聞き取り 15

それぞれの設問に答えましょう。

- ①ニワトリとカバを赤のクーピーの線で結びます。
- ②リスとコウモリを青のクーピーの線で結びます。
- ③ゾウとラクダをオレンジ色のクーピーの線で結びます。
- ④ライオンとネズミを黒のクーピーの線で結びます。
- ⑤キリンとゴリラを緑のクーピーの線で結びます。



※1. このプリントは、しながわ・目黒こどもスクールのウェブサイトでダウンロードができます。無断複写・引用はご遠慮ください。
※2. このプリントを活用したオンライン授業のスケジュールは、しながわ・目黒こどもスクールのウェブサイトでご確認ください。



おうちで、やろう。

Study at home. 小学校受験の家庭学習教材

言語：音の数 25

食べ物と乗り物が並んでいます。動物たちは食べ物を食べるとその食べ物の音の数だけ矢印の方向へマスを進みます。乗り物に乗るとその乗り物の音の数だけ矢印とは反対方向へマスを進みます。この約束で上の絵を左から右へ見て行ったとき、動物が最後に着いた場所に○をかきます。



	→								
								○	



		○							
								←	



								↓	
			○						

※1. このプリントは、しながわ・目黒こどもスクールのウェブサイトでダウンロードができます。無断複写・引用はご遠慮ください。
※2. このプリントを活用したオンライン授業のスケジュールは、しながわ・目黒こどもスクールのウェブサイトでご確認ください。



おうちで、やろう。

Study at home. 小学校受験の家庭学習教材

言語：音の数 26

食べ物と乗り物が並んでいます。動物たちは食べ物を食べるとその食べ物の音の数だけ矢印の方向へマスを進みます。乗り物に乗るとその乗り物の音の数だけ矢印とは反対方向へマスを進みます。この約束で上の絵を左から右へ見て行ったとき、動物が最後に着いた場所に○をかきます。



					←				
			○						



									○
					→				



	↓								
						○			

※1. このプリントは、しながわ・目黒こどもスクールのウェブサイトでダウンロードができます。無断複写・引用はご遠慮ください。
※2. このプリントを活用したオンライン授業のスケジュールは、しながわ・目黒こどもスクールのウェブサイトでご確認ください。

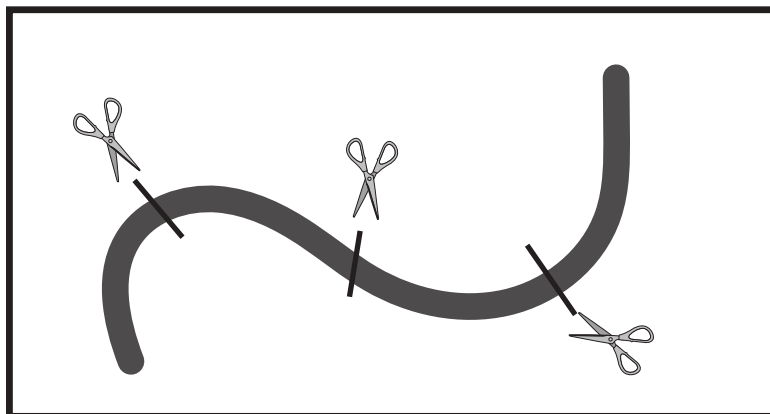


おうちで、やろう。

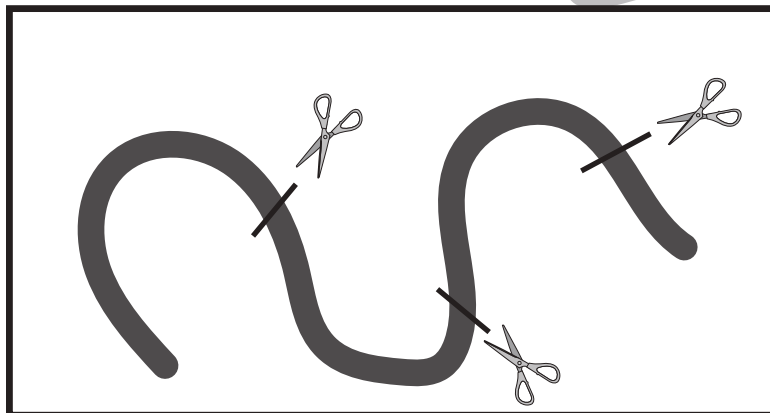
Study at home. 小学校受験の家庭学習教材

推理：紐の数1


左の四角の中のひもをはさみのところで切るとひもは何本になるかを考えます。その本数だけ右の四角に○をかきます。



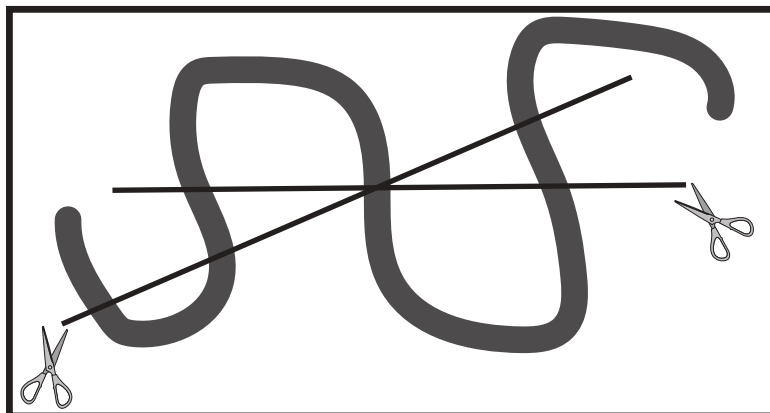
○ × 4



○ × 4



○ × 4



○ × 7

※1. このプリントは、しながわ・目黒こどもスクールのウェブサイトでダウンロードができます。無断複写・引用はご遠慮ください。
※2. このプリントを活用したオンライン授業のスケジュールは、しながわ・目黒こどもスクールのウェブサイトでご確認ください。

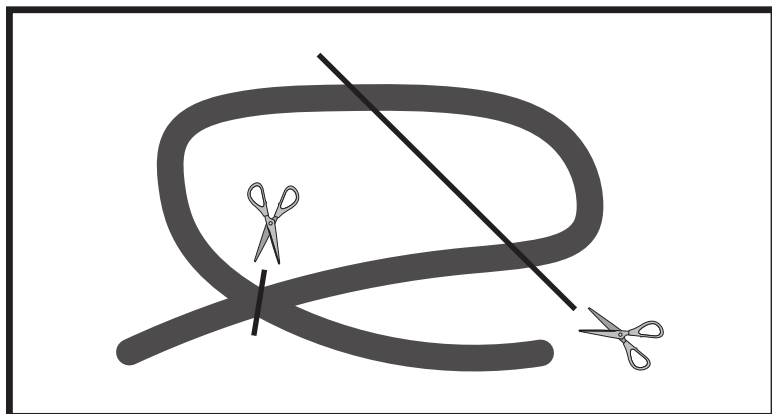


おうちで、やろう。

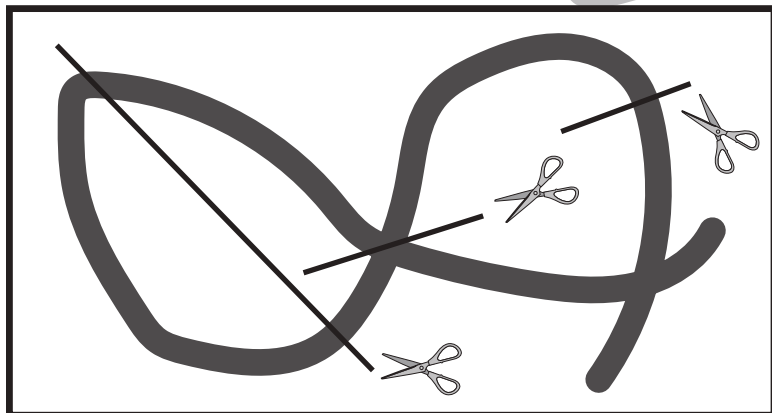
Study at home. 小学校受験の家庭学習教材

推理：紐の数2


左の四角の中のひもをはさみのところで切るとひもは何本になるかを考えます。その本数だけ右の四角に○をかきます。




○ × 5



○ × 6



○ × 6



○ × 9

※1. このプリントは、しながわ・目黒こどもスクールのウェブサイトからダウンロードできます。無断複写・引用はご遠慮ください。

※2. このプリントを活用したオンライン授業のスケジュールは、しながわ・目黒こどもスクールのウェブサイトでご確認ください。





おうちで、やろう。

Study at home. 小学校受験の家庭学習教材

数量：条件推理 6

大きな牛乳パックには3人分、瓶の中には1人分の牛乳が入っています。左の四角の中にある牛乳を右の子どもたちで飲みました。何人分の牛乳が残るか考えて右の四角の中にその人数分だけ〇をかきます。

--	--	--

--	--	--

--	--	--

--	--	--

--	--	--

※1. このプリントは、しながわ・目黒こどもスクールのウェブサイトからダウンロードできます。無断複写・引用はご遠慮ください。

※2. このプリントを活用したオンライン授業のスケジュールは、しながわ・目黒こどもスクールのウェブサイトでご確認ください。



おうちで、やろう。

Study at home. 小学校受験の家庭学習教材

数量：条件推理7

大きな牛乳パックには3人分、瓶の中には1人分の牛乳が入っています。左の四角の中にある牛乳を右の子どもたちで飲みました。何人分の牛乳が残るか考えて右の四角の中にその人数分だけ〇をかきます。

--	--	--

--	--	--

--	--	--

--	--	--

--	--	--

※1. このプリントは、しながわ・目黒こどもスクールのウェブサイトからダウンロードできます。無断複写・引用はご遠慮ください。

※2. このプリントを活用したオンライン授業のスケジュールは、しながわ・目黒こどもスクールのウェブサイトでご確認ください。



おうちで、やろう。

Study at home. 小学校受験の家庭学習教材

数量：条件推理8

大きな牛乳パックには3人分、瓶の中には1人分の牛乳が入っています。左の四角の中にある牛乳を右の子どもたちで飲みました。子どもたちが2人ずつ飲んだ後に何人分の牛乳が残るか考えて右の四角の中にその人数分だけ〇をかきます。

--	--	--

--	--	--

--	--	--

--	--	--

--	--	--

※1. このプリントは、しながわ・目黒こどもスクールのウェブサイトダウンロードできます。無断複写・引用はご遠慮ください。

※2. このプリントを活用したオンライン授業のスケジュールは、しながわ・目黒こどもスクールのウェブサイトでご確認ください。




おうちで、よろう。


Study at home. 小学校受験の家庭学習教材

処理：計数4

上の四角の中の絵の数をかぞえて、下の四角の同じ絵の右にその数だけ〇をかきます。
この問題はスピードを意識して取り組む練習をしてみましょう。(1分～1分30秒)



〇×10



〇×8



〇×12



〇×9