



# おうちで、やろう。

Study at home. 小学校受験の家庭学習教材

それぞれの設問に答えましょう。指示は1度ですべて読み上げます。しっかり聞いて取り組みましょう。

- ①一番下の段の左から3番目のマスに赤のクーピーで○をかきます。
- ②上から3段目の右端のマスに緑のクーピーで△をかきます。
- ③下から2段目の一番左のマスに青のクーピーで◎をかきます。
- ④一番上の段の左端のマスを鉛筆で濃く塗ります。
- ⑤下から4段目の真ん中のマスを鉛筆で薄く塗ります。

鉛筆 濃く				
		鉛筆 薄く		緑 △
青 ◎				
		赤 ○		

※1. このプリントは、しながわ・目黒こどもスクールのウェブサイトからダウンロードできます。無断複写・引用はご遠慮ください。  
 ※2. このプリントを活用したオンライン授業のスケジュールは、しながわ・目黒こどもスクールのウェブサイトでご確認ください。



# おうちで、やろう。

Study at home. 小学校受験の家庭学習教材

常識：生活 8

左の四角のお友だちが困っています。お友だちに何を貸してあげれば良いですか。右の四角から見つけて○をつけます。


※1. このプリントは、しながわ・目黒こどもスクールのウェブサイトからダウンロードできます。無断複写・引用はご遠慮ください。

※2. このプリントを活用したオンライン授業のスケジュールは、しながわ・目黒こどもスクールのウェブサイトでご確認ください。






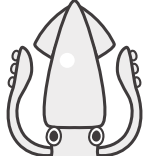











# おうちで、やろう。

Study at home. 小学校受験の家庭学習教材

## 常識：生物 6

四角の中の生き物の足の数を考えます。それぞれの生き物の足の数だけ、絵の下の四角に○をかきます。足がない生き物は、絵の下の四角に×をかきます。

		
○ × 4	○ × 6	○ × 2
		
○ × 8	○ × 4	○ × 10
		
○ × 2	×	○ × 4
		
○ × 6	○ × 8	○ × 4
		
○ × 6	○ × 2	×

※1. このプリントは、しながわ・目黒こどもスクールのウェブサイトダウンロードできます。無断複写・引用はご遠慮ください。

※2. このプリントを活用したオンライン授業のスケジュールは、しながわ・目黒こどもスクールのウェブサイトでご確認ください。



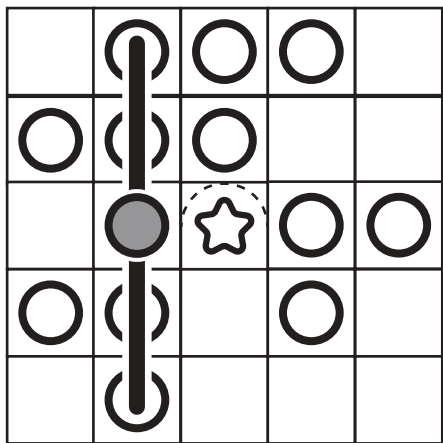
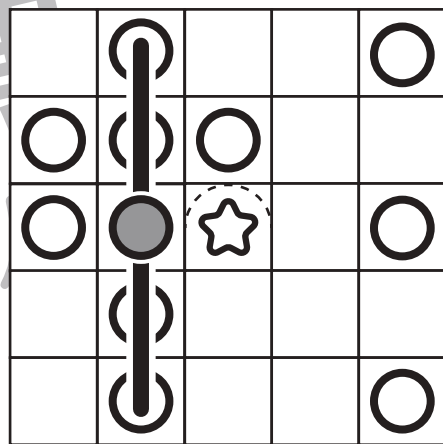

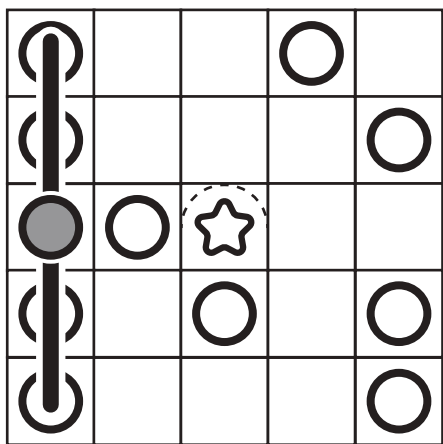

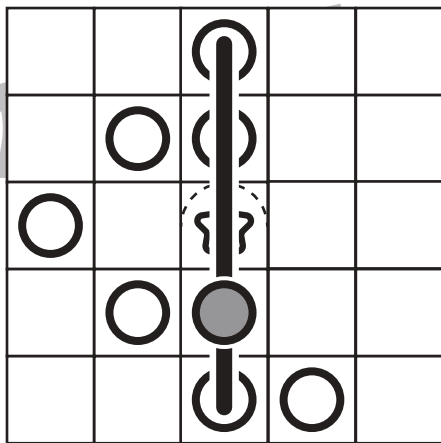
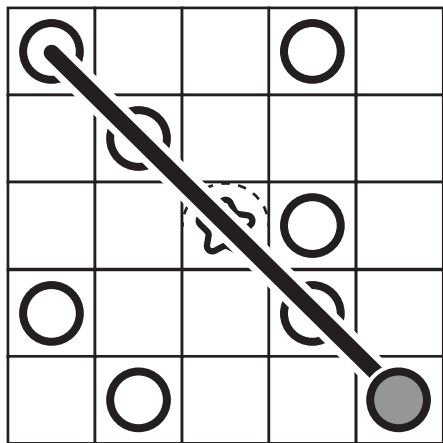


# おうちで、やろう。

Study at home. 小学校受験の家庭学習教材

図形：ビンゴ8

真ん中は星のマークで枠が埋まっています。空いているどこかのマスに○を1つかくと、縦・横・斜めのどこかにマークが5つ並び列ができます。どこのマスかを考えてそのマスに○をかきます。



※1. このプリントは、しながわ・目黒こどもスクールのウェブサイトでダウンロードできます。無断複写・引用はご遠慮ください。  
※2. このプリントを活用したオンライン授業のスケジュールは、しながわ・目黒こどもスクールのウェブサイトでご確認ください。



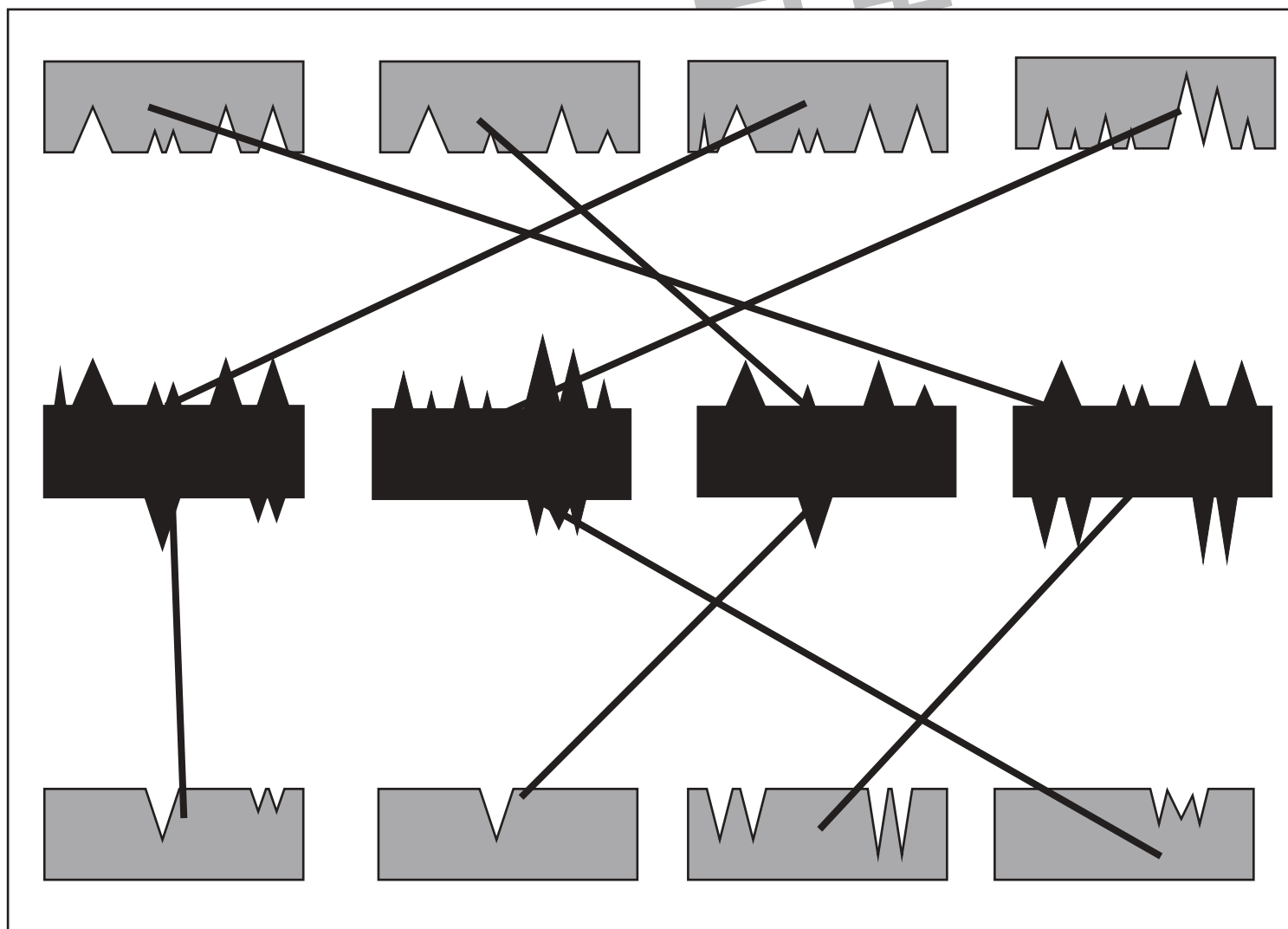
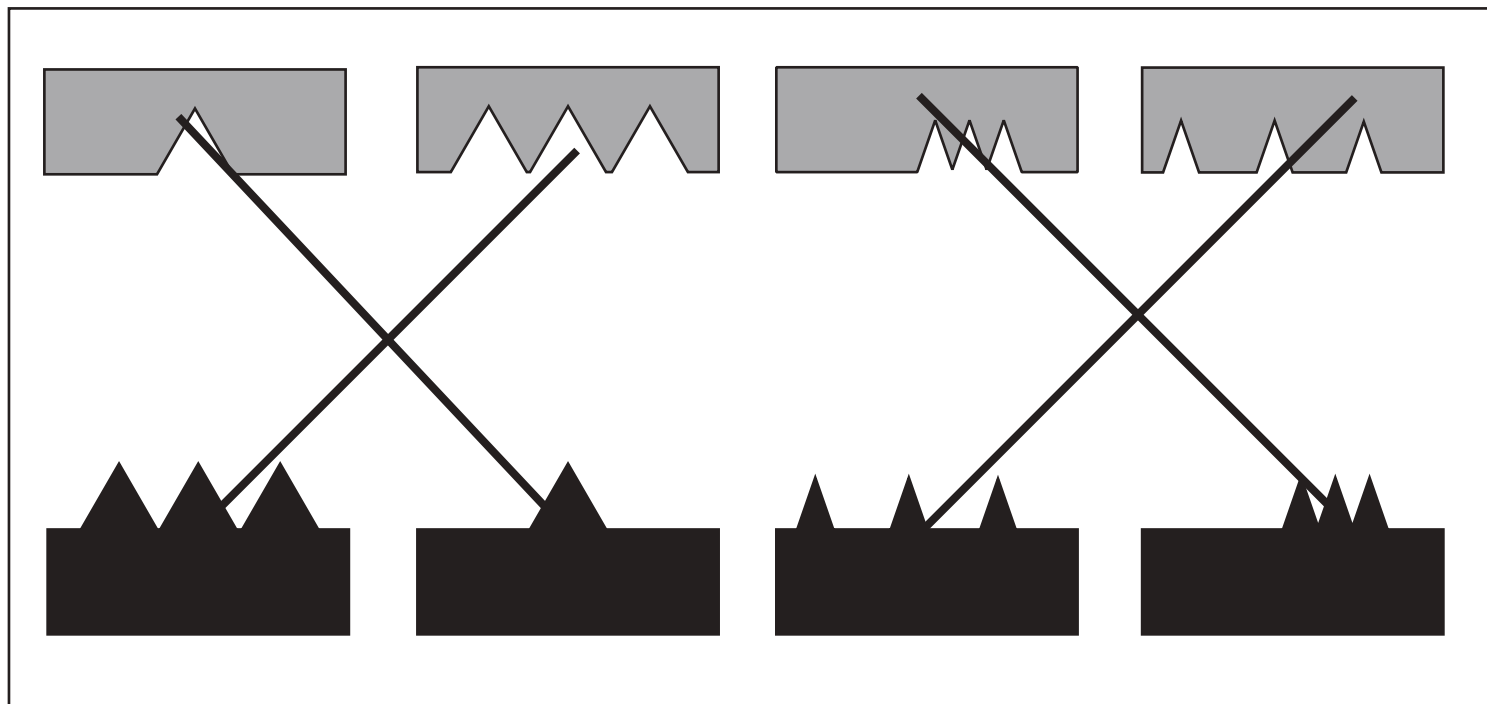
# おうちで、やろう。

Study at home. 小学校受験の家庭学習教材

図形：構成 13

上の問題：グレーのパズルと黒のパズルがあります。ぴったりくっつく形を見つけて、線で結びましょう。

下の問題：上・真ん中・下の3つのパズルがあります。ぴったりくっつく形を見つけて、線で結びましょう。



※1. このプリントは、しながわ・目黒こどもスクールのウェブサイトでダウンロードができます。無断複写・引用はご遠慮ください。

※2. このプリントを活用したオンライン授業のスケジュールは、しながわ・目黒こどもスクールのウェブサイトでご確認ください。



# おうちで、やろう。

Study at home. 小学校受験の家庭学習教材

## 図形：反転 3

左の四角は横に3マスつながった透明な板が3段あり、真ん中の列に棒がついています。その棒を軸に矢印がかかれた段だけを裏返しにしたとき、どのように見えるかを考えて、右の四角の中にかきます。


※1. このプリントは、しながわ・目黒こどもスクールのウェブサイトでダウンロードができます。無断複写・引用はご遠慮ください。

※2. このプリントを活用したオンライン授業のスケジュールは、しながわ・目黒こどもスクールのウェブサイトでご確認ください。



# おうちで、やろう。

Study at home. 小学校受験の家庭学習教材

## 図形：反転4

左の四角は縦に3マスつながった透明な板が3段あり、真ん中の段に棒がついています。その棒を軸に矢印がかかれた列だけを裏返しにしたとき、どのように見えるかを考えて、右の四角の中にかきます。


※1. このプリントは、しながわ・目黒こどもスクールのウェブサイトでダウンロードができます。無断複写・引用はご遠慮ください。

※2. このプリントを活用したオンライン授業のスケジュールは、しながわ・目黒こどもスクールのウェブサイトでご確認ください。

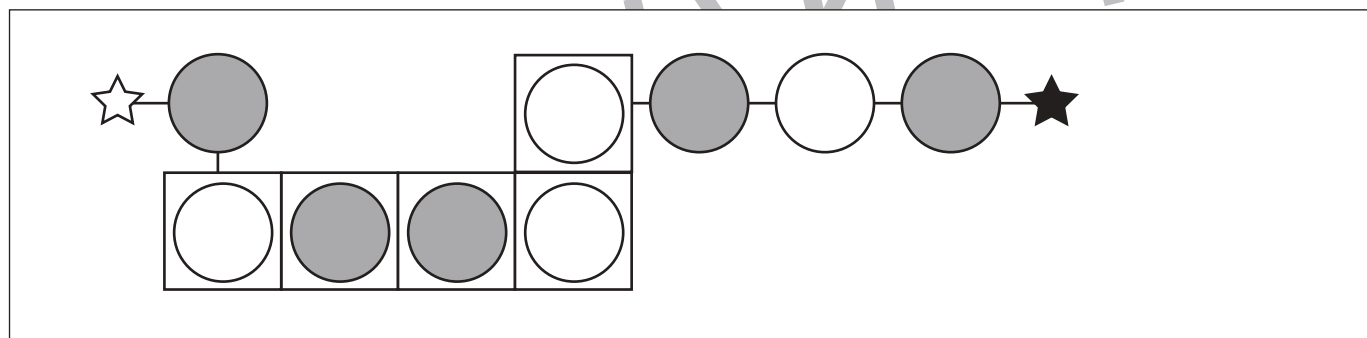
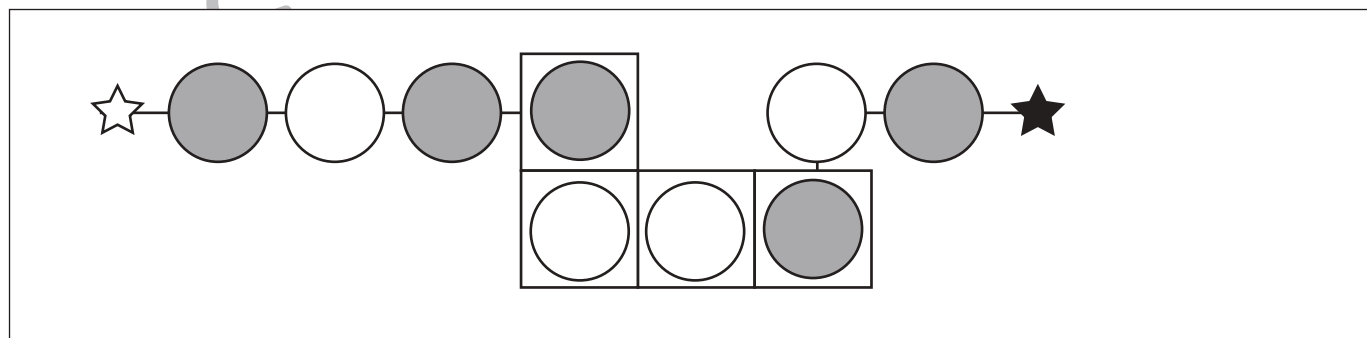
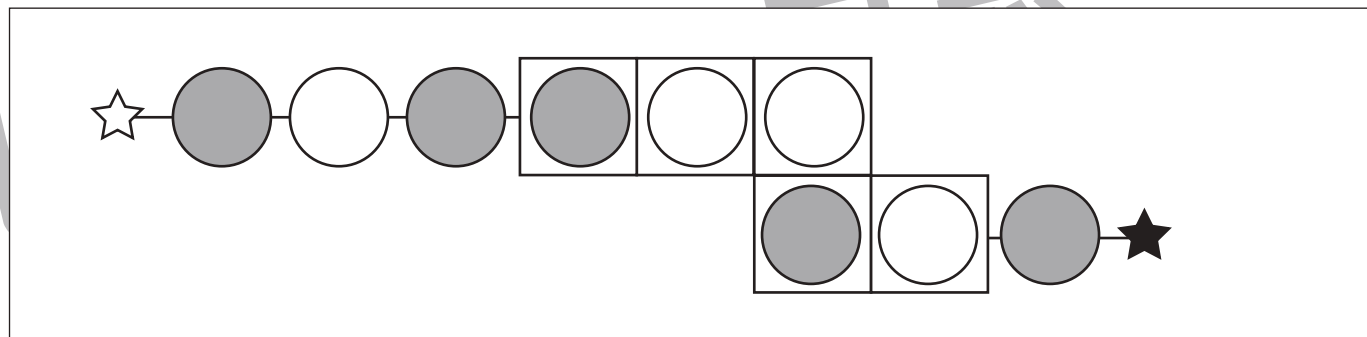
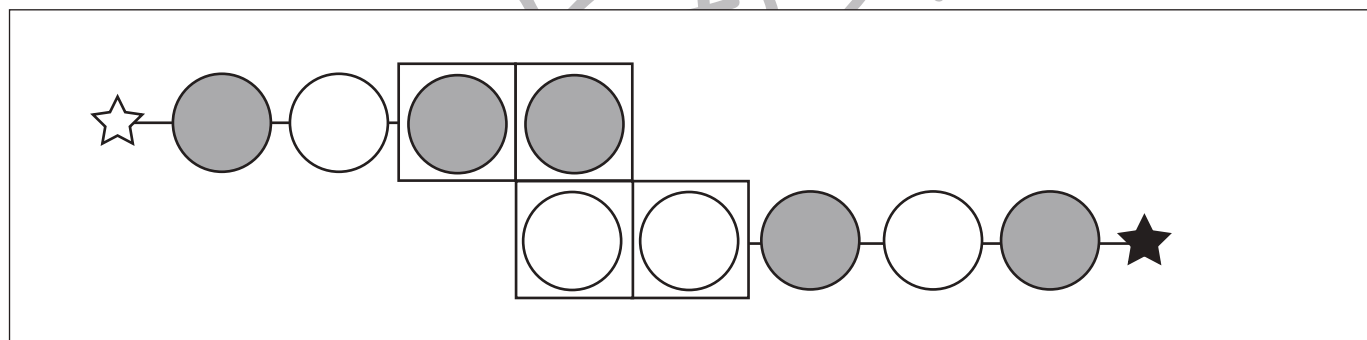
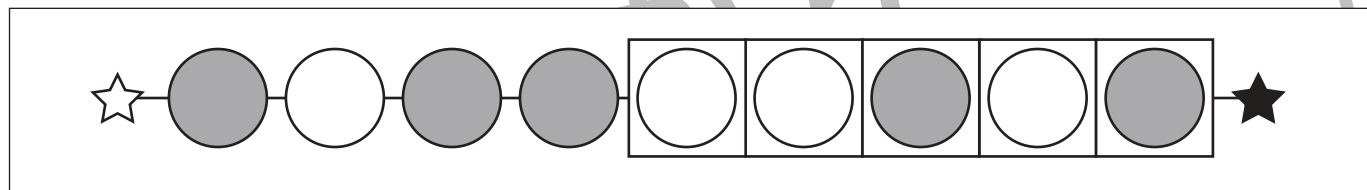
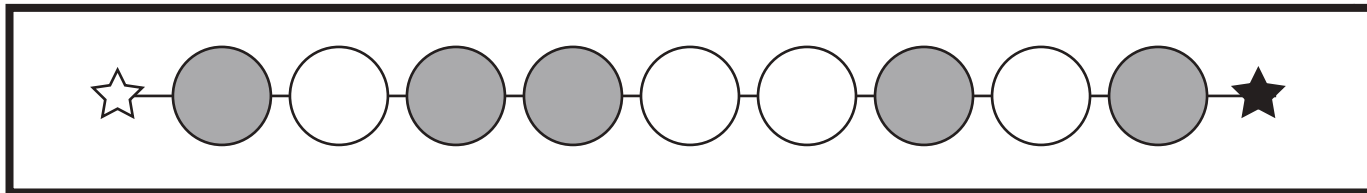


# おうちで、やろう。

Study at home. 小学校受験の家庭学習教材

## 推理：系列完成 16

上の太い四角がお手本です。それぞれの四角の中の空いている場所に入る○を考えてかきます。



※1. このプリントは、しながわ・目黒こどもスクールのウェブサイトでダウンロードができます。無断複写・引用はご遠慮ください。  
※2. このプリントを活用したオンライン授業のスケジュールは、しながわ・目黒こどもスクールのウェブサイトでご確認ください。











# おうちで、やろう。

Study at home. 小学校受験の家庭学習教材

## 推理：水面3

左の太い四角の中の絵を水たまりに映したときの様子をを考えて右の四角の中から正しいものを見つけて○をつけます。



※1. このプリントは、しながわ・目黒こどもスクールのウェブサイトからダウンロードできます。無断複写・引用はご遠慮ください。

※2. このプリントを活用したオンライン授業のスケジュールは、しながわ・目黒こどもスクールのウェブサイトでご確認ください。



# おうちで、やろう。

Study at home. 小学校受験の家庭学習教材

数量：余る数7

左の四角の中にあるお友だちが真ん中の大きな四角の中のクッキーを同じ数になるように分けます。このとき、余るクッキーの数だけ右の四角に〇をかきます。ぴったり分けることができるときは×を1つかきます。

		$\bigcirc \times 1$
		$\times$
		$\bigcirc \times 2$
		$\times$
		$\bigcirc \times 2$

※1. このプリントは、しながわ・目黒こどもスクールのウェブサイトからダウンロードできます。無断複写・引用はご遠慮ください。

※2. このプリントを活用したオンライン授業のスケジュールは、しながわ・目黒こどもスクールのウェブサイトでご確認ください。