

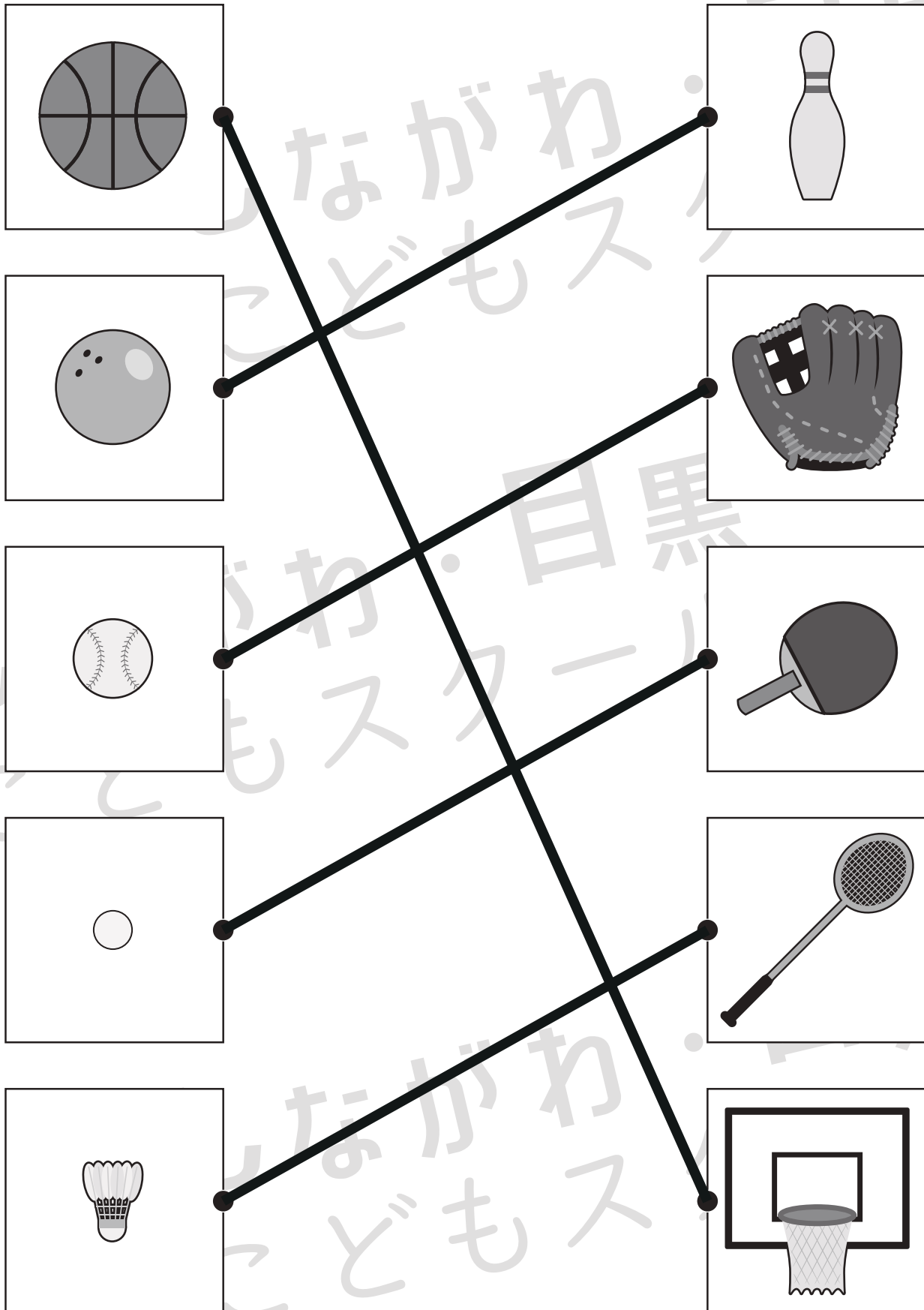


おうちで、やろう。

Study at home. 小学校受験の家庭学習教材

常識：スポーツ5

左側の絵のスポーツで使う道具を右側の絵の中から選んで線で結びましょう。



※1. このプリントは、しながわ・目黒こどもスクールのウェブサイトでダウンロードができます。無断複写・引用はご遠慮ください。

※2. このプリントを活用したオンライン授業のスケジュールは、しながわ・目黒こどもスクールのウェブサイトでご確認ください。



おうちで、やろう。

Study at home. 小学校受験の家庭学習教材

常識：スポーツ6

①～⑤の問題を聞いて、下の四角の中から正しいものを選びます。


①私がやっているのは、手を使うことができずに足でボールを蹴ります。私がやっているスポーツに○をつけてください。

②私がやっているのは、道具を使わず相手に技をかけます。私がやっているスポーツに△をつけてください。

③私がやっているのは、竹刀を持って、相手の体にあてます。私がやっているスポーツに□をつけてください。

④私がやっているのは、ラケットを使い、羽をうちます。私がやっているスポーツに◎をつけてください。

⑤私がやっているのは、ボールを投げて、打ちます。1チーム9人です。私がやっているスポーツに×をつけてください。



※1. このプリントは、しながわ・目黒こどもスクールのウェブサイトでダウンロードができます。無断複写・引用はご遠慮ください。

※2. このプリントを活用したオンライン授業のスケジュールは、しながわ・目黒こどもスクールのウェブサイトでご確認ください。



おうちで、やろう。

Study at home. 小学校受験の家庭学習教材

常識：なぞなぞ1

①～⑤の問題を聞いて、下の四角の中から正しいものを選びます。

①私は肉を食べます。雄と雌で姿が違います。私に○をつけてください。

②私はジャンプしながら走ります。穴を掘ることもできます。私に△をつけてください。

③私は高い木の葉を食べます。体は黄色です。私に□をつけてください。

④私の頭には赤いトサカがあります。が私に◎をつけてください。

⑤私は水の中にいることが多いです。手と足は短くて口が大きいです。私に×をつけてください。



※1. このプリントは、しながわ・目黒こどもスクールのウェブサイトからダウンロードできます。無断複写・引用はご遠慮ください。

※2. このプリントを活用したオンライン授業のスケジュールは、しながわ・目黒こどもスクールのウェブサイトでご確認ください。



おうちで、やろう。

Study at home. 小学校受験の家庭学習教材

常識：なぞなぞ2

①～⑤の問題を聞いて、下の四角の中から正しいものを選びます。


①私は水の上を進み人を運びます。私に○をつけてください。

②私はタイヤが2つあり、人の力で動きます。私に△をつけてください。

③私は空を飛ぶことができます。頭にプロペラがついています。私に□をつけてください。

④私は火の力を使って空をとぶことができます。私に◎をつけてください。

⑤私は駅から駅までたくさんの人を運びます。私に×をつけてください。



※1. このプリントは、しながわ・目黒こどもスクールのウェブサイトでダウンロードができます。無断複写・引用はご遠慮ください。

※2. このプリントを活用したオンライン授業のスケジュールは、しながわ・目黒こどもスクールのウェブサイトでご確認ください。



おうちで、やろう。

Study at home. 小学校受験の家庭学習教材

図形：構成 14

左の太い四角の中の形は3つの四角いパズルで作ったお手本です。右の四角の中にはお手本のパズルを1つ動かした形が並んでいます。この中で白丸を動かした形を見つけて○をつけます。

※1. このプリントは、しながわ・目黒こどもスクールのウェブサイトでダウンロードができます。無断複写・引用はご遠慮ください。

※2. このプリントを活用したオンライン授業のスケジュールは、しながわ・目黒こどもスクールのウェブサイトでご確認ください。

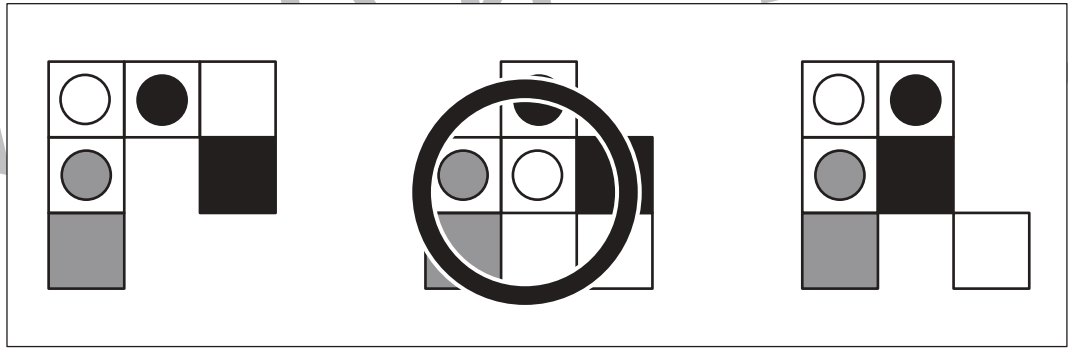
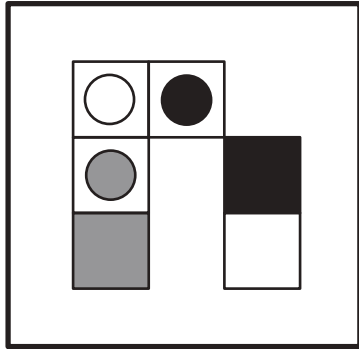
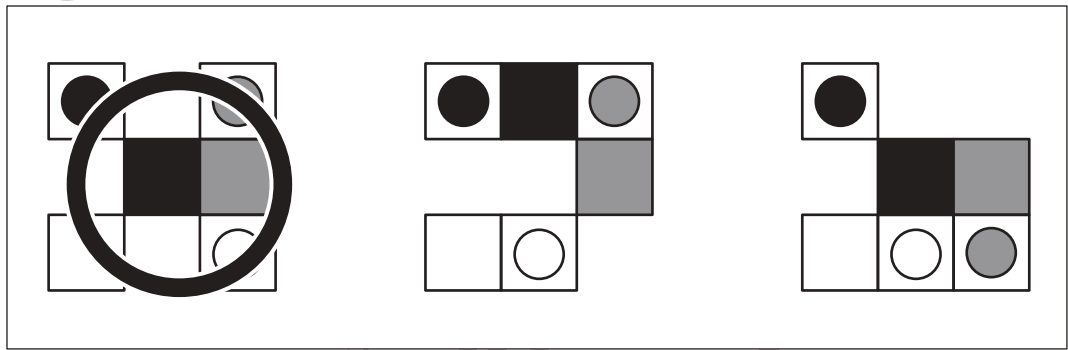
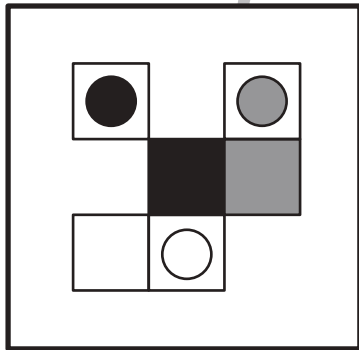
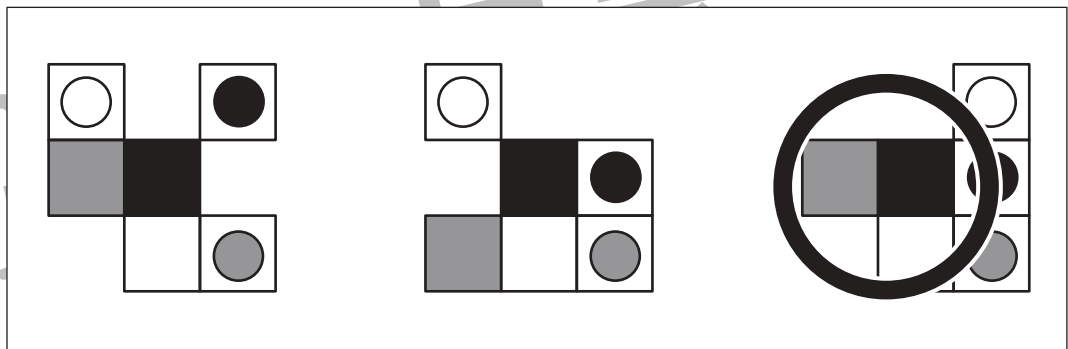
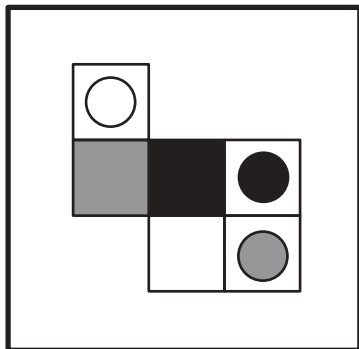

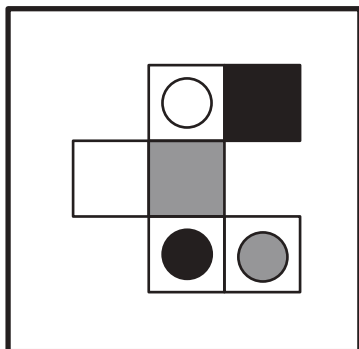
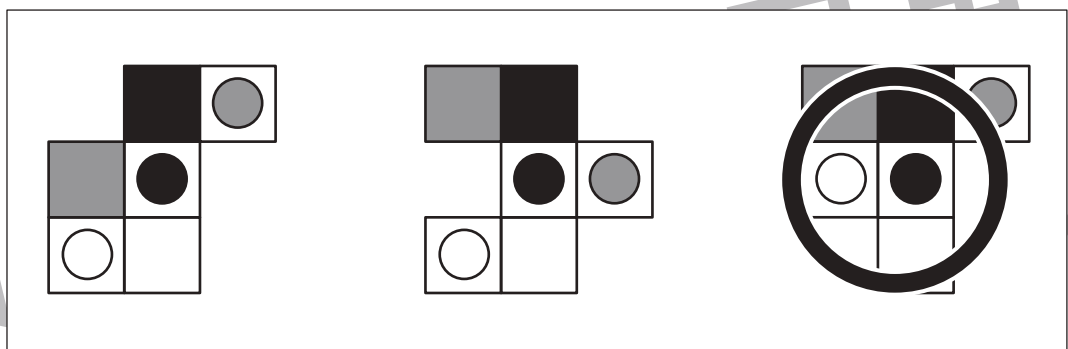
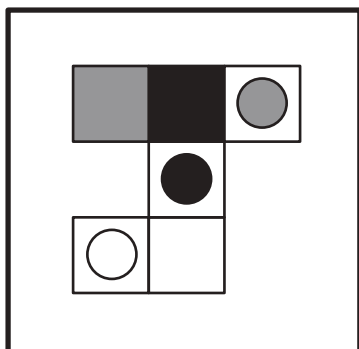


おうちで、やろう。

Study at home. 小学校受験の家庭学習教材

図形：構成 15

左の太い四角の中の形はいくつかのパズルで作ったお手本です。右の四角の中にはお手本のパズルを1つ動かした形が並んでいます。この中で白丸を動かした形を見つけて○をつけます。



※1. このプリントは、しながわ・目黒こどもスクールのウェブサイトでダウンロードができます。無断複写・引用はご遠慮ください。
※2. このプリントを活用したオンライン授業のスケジュールは、しながわ・目黒こどもスクールのウェブサイトでご確認ください。



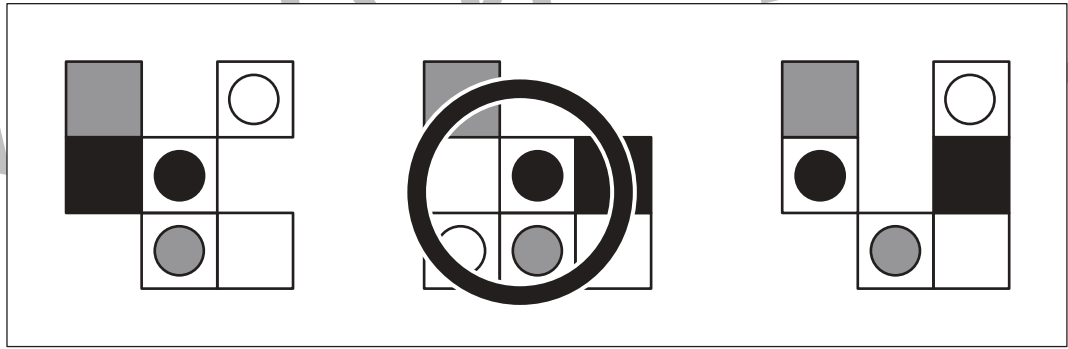
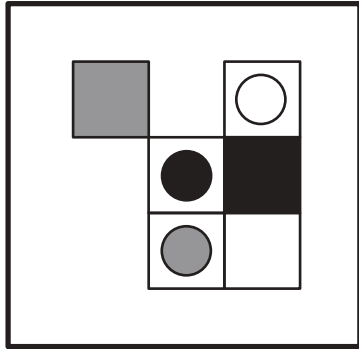
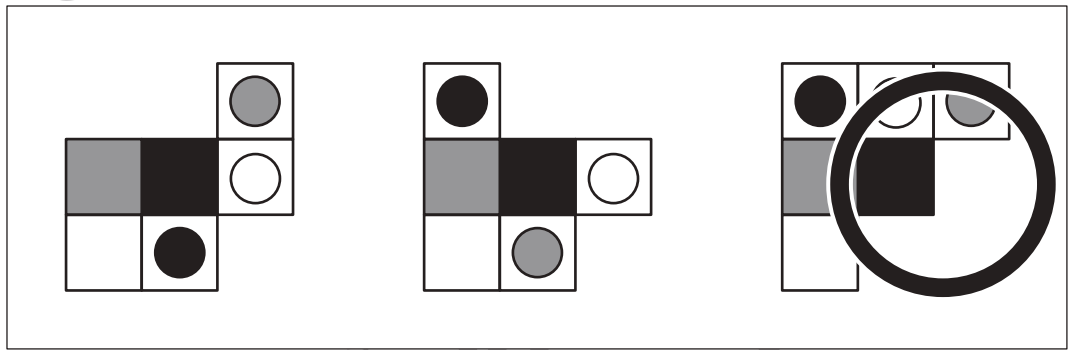
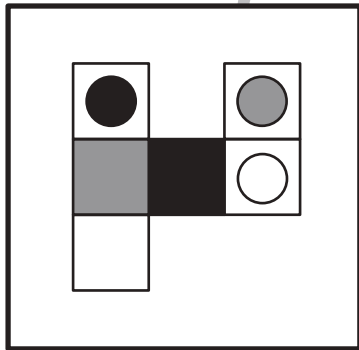
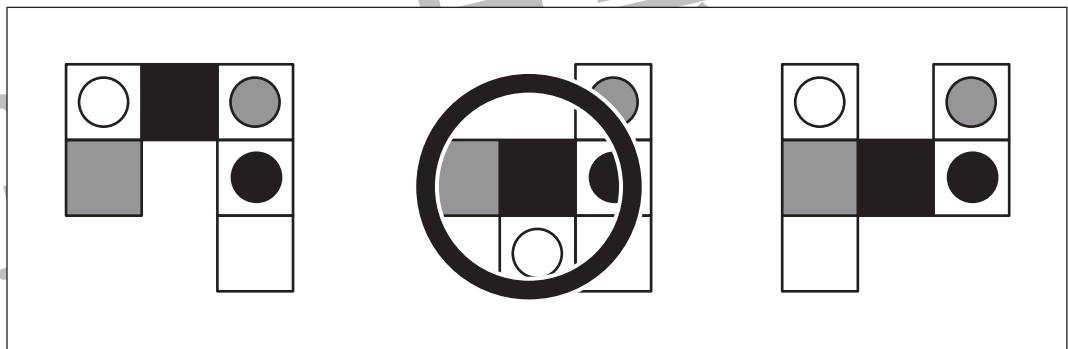
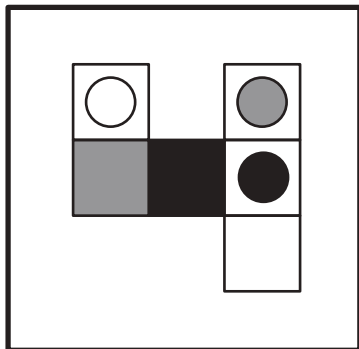

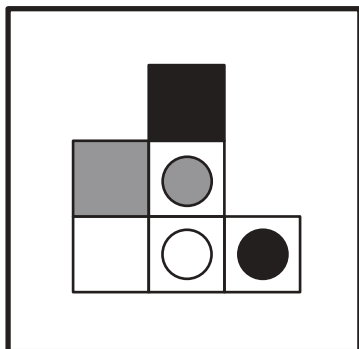
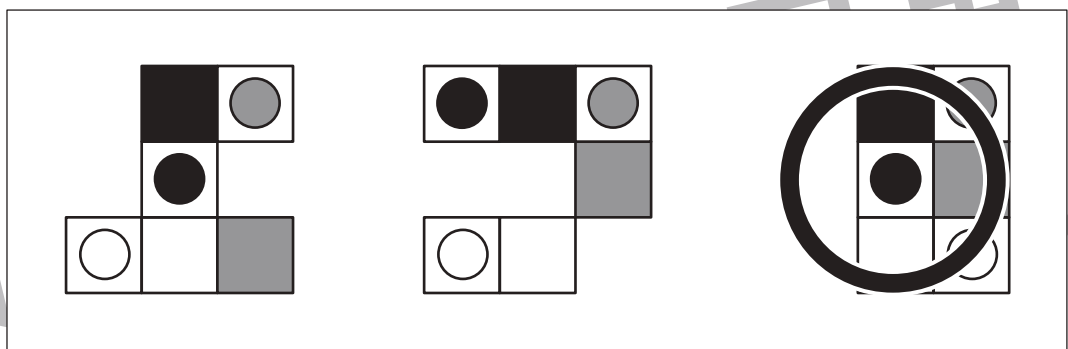
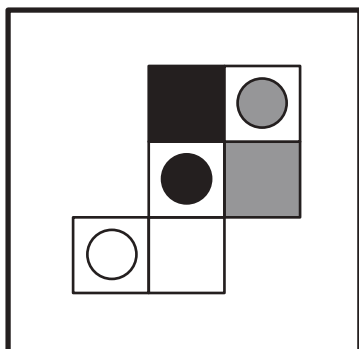


おうちで、やろう。

Study at home. 小学校受験の家庭学習教材

図形：構成 16

左の太い四角の中の形はいくつかのパズルで作ったお手本です。右の四角の中にはお手本のパズルを1つ動かした形が並んでいます。この中で白丸を動かした形を見つけて○をつけます。右の形は回っているものもあります。



※1. このプリントは、しながわ・目黒こどもスクールのウェブサイトからダウンロードできます。無断複写・引用はご遠慮ください。
※2. このプリントを活用したオンライン授業のスケジュールは、しながわ・目黒こどもスクールのウェブサイトでご確認ください。



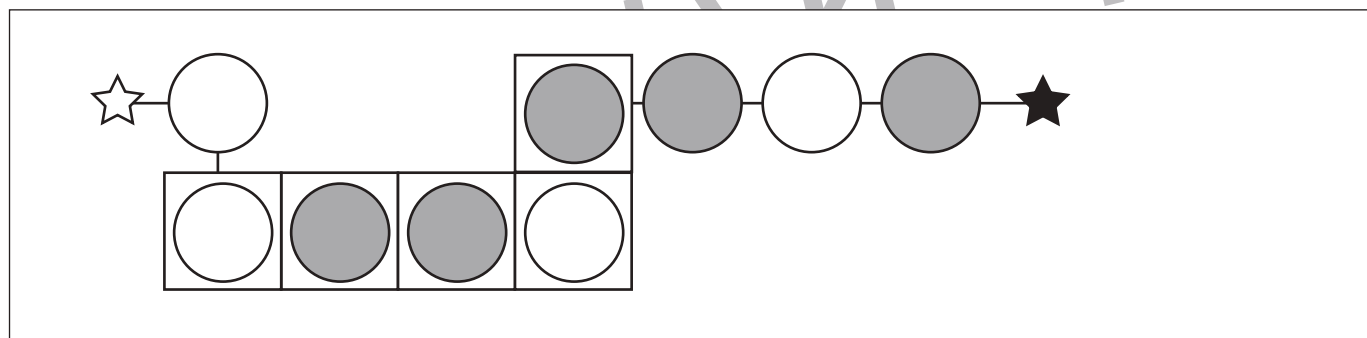
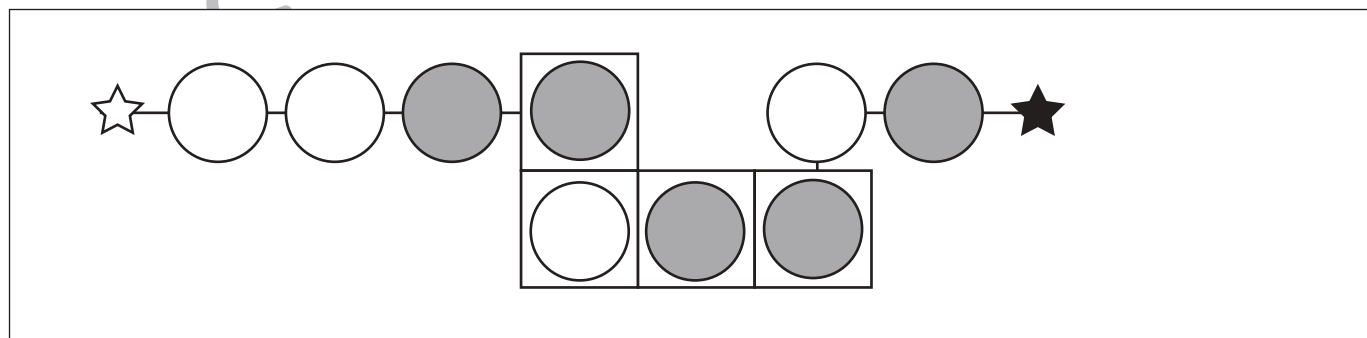
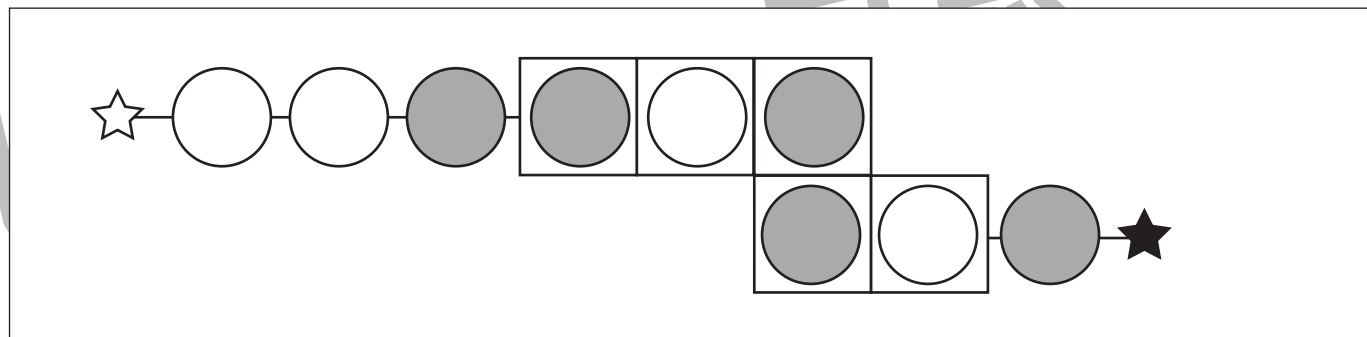
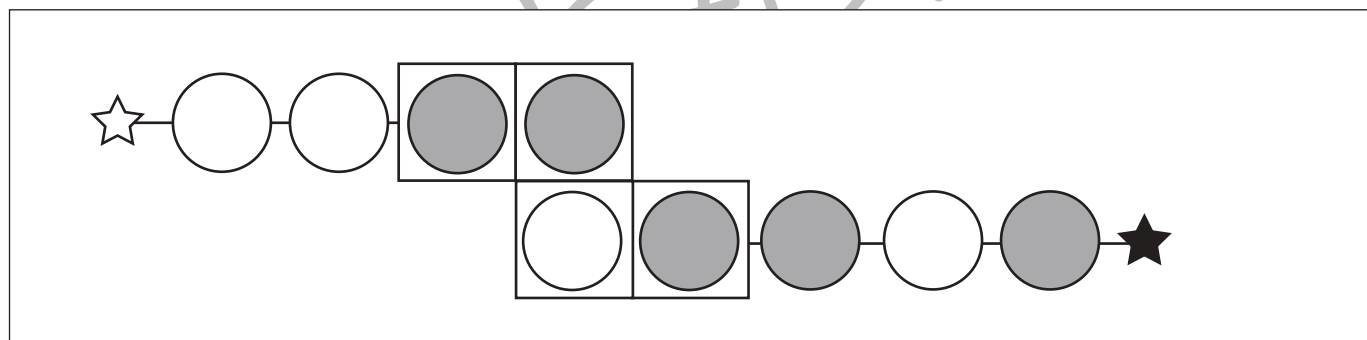
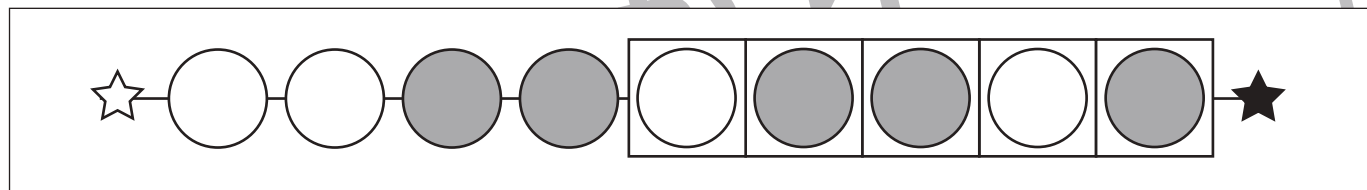
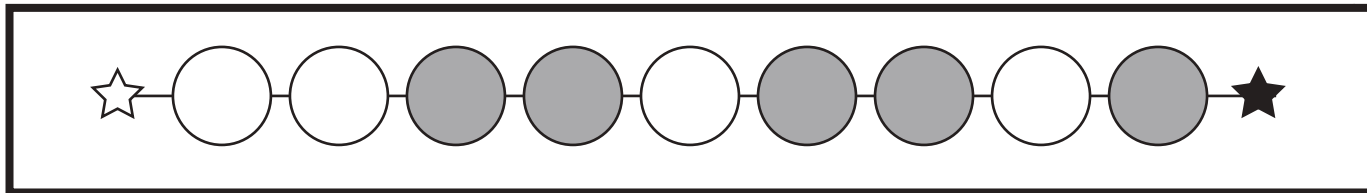


おうちで、やろう。

Study at home. 小学校受験の家庭学習教材

推理：系列完成 17

上の太い四角がお手本です。それぞれの四角の中の空いている場所に入る○を考えてかきます。



※1. このプリントは、しながわ・目黒こどもスクールのウェブサイトでダウンロードができます。無断複写・引用はご遠慮ください。
※2. このプリントを活用したオンライン授業のスケジュールは、しながわ・目黒こどもスクールのウェブサイトでご確認ください。

