



おうちで、やろう。

Study at home. 小学校受験の家庭学習教材

記憶：絵の記憶4

別紙『記憶 - 絵の記憶4記憶用紙』を使用します。記憶用紙の形を見た後に①、②、③の問題に取り組みましょう。

①

②

③

※1. このプリントは、しながわ・目黒こどもスクールのウェブサイトでダウンロードができます。無断複写・引用はご遠慮ください。

※2. このプリントを活用したオンライン授業のスケジュールは、しながわ・目黒こどもスクールのウェブサイトでご確認ください。



おうちで、やろう。

Study at home. 小学校受験の家庭学習教材

言語：言葉6

それぞれの言葉にぴったり合う絵をみつけてそれぞれの記号をつけます。

- ①「ガオー」に合う絵を見つけて○をつけます。
- ②「ワンワン」に合う絵を見つけて△をつけます。
- ③「カーカー」に合う絵を見つけて◎をつけます。
- ④「コケッコー」に合う絵を見つけて×をつけます。
- ⑤「モーモー」に合う絵を見つけて□をつけます。
- ⑥「ヒヒーン」に合う絵を見つけて/をつけます。

※1. このプリントは、しながわ・目黒こどもスクールのウェブサイトでダウンロードができます。無断複写・引用はご遠慮ください。

※2. このプリントを活用したオンライン授業のスケジュールは、しながわ・目黒こどもスクールのウェブサイトでご確認ください。



おうちで、やろう。

Study at home. 小学校受験の家庭学習教材

図形：折り重ね 19

真ん中の太い線で折り重ねたときの見え方を考えます。このとき黒のマスの隠れないで見えている○を見つけて、下の四角に○をかきます。

The diagram shows a 4x3 grid of circles. A thick horizontal line is drawn between the second and third rows. Below this line, some cells are shaded black. An arrow on the left indicates a fold-down action. The grid is divided into four sections by a vertical line between the second and third columns. Each section has a 2x3 grid of circles above the fold line and a 2x3 grid of cells below. The black shading is as follows:

- Section 1 (left): The entire bottom 2x3 grid is shaded black.
- Section 2 (middle): The bottom-left and bottom-right cells of the bottom 2x3 grid are shaded black.
- Section 3 (right): The bottom-left and bottom-right cells of the bottom 2x3 grid are shaded black.

Below the main grid, there are four 2x3 grids, each corresponding to one of the four sections. These grids are intended for the student to draw the circles that are visible after the fold-down action.

※1. このプリントは、しながわ・目黒こどもスクールのウェブサイトでダウンロードができます。無断複写・引用はご遠慮ください。
※2. このプリントを活用したオンライン授業のスケジュールは、しながわ・目黒こどもスクールのウェブサイトでご確認ください。



おうちで、よろう。

Study at home. 小学校受験の家庭学習教材

図形：折り重ね 20

真ん中の太い線で折り重ねたときの見え方を考えます。このとき黒のマスの隠れないで見えている○を見つけて、下の四角に○をかきます。

The diagram shows a 4x3 grid of circles. A thick horizontal line is drawn between the second and third rows, indicating a fold. The grid is divided into four quadrants by this line. The top-left and bottom-right quadrants are shaded black, while the top-right and bottom-left quadrants are white. The circles are arranged in a 3x3 grid pattern within each quadrant. The circles in the top-left and bottom-right quadrants are visible, while the circles in the top-right and bottom-left quadrants are hidden behind the fold.

※1. このプリントは、しながわ・目黒こどもスクールのウェブサイトでダウンロードができます。無断複写・引用はご遠慮ください。
 ※2. このプリントを活用したオンライン授業のスケジュールは、しながわ・目黒こどもスクールのウェブサイトでご確認ください。



おうちで、やろう。

Study at home. 小学校受験の家庭学習教材

図形：折り重ね 21

真ん中の太い線で折り重ねたときの見え方を考えます。このとき黒のマスの隠れないで見えている○を見つけて、下の四角に○をかきます。

The diagram shows a 3x3 grid of 3x3 squares. The top three rows are white and contain circles. The bottom three rows are partially black. A thick horizontal line is drawn between the top and bottom sections. An arrow on the left indicates a fold-down action.

The grid is divided into four sections by a thick horizontal line. The top section is a 3x3 grid of white squares, each containing a circle. The bottom section is a 3x3 grid of squares, some of which are black. The thick line is drawn between the top and bottom sections. An arrow on the left indicates a fold-down action.

The grid is divided into four sections by a thick horizontal line. The top section is a 3x3 grid of white squares, each containing a circle. The bottom section is a 3x3 grid of squares, some of which are black. The thick line is drawn between the top and bottom sections. An arrow on the left indicates a fold-down action.

The grid is divided into four sections by a thick horizontal line. The top section is a 3x3 grid of white squares, each containing a circle. The bottom section is a 3x3 grid of squares, some of which are black. The thick line is drawn between the top and bottom sections. An arrow on the left indicates a fold-down action.

The grid is divided into four sections by a thick horizontal line. The top section is a 3x3 grid of white squares, each containing a circle. The bottom section is a 3x3 grid of squares, some of which are black. The thick line is drawn between the top and bottom sections. An arrow on the left indicates a fold-down action.

The grid is divided into four sections by a thick horizontal line. The top section is a 3x3 grid of white squares, each containing a circle. The bottom section is a 3x3 grid of squares, some of which are black. The thick line is drawn between the top and bottom sections. An arrow on the left indicates a fold-down action.

The grid is divided into four sections by a thick horizontal line. The top section is a 3x3 grid of white squares, each containing a circle. The bottom section is a 3x3 grid of squares, some of which are black. The thick line is drawn between the top and bottom sections. An arrow on the left indicates a fold-down action.

The grid is divided into four sections by a thick horizontal line. The top section is a 3x3 grid of white squares, each containing a circle. The bottom section is a 3x3 grid of squares, some of which are black. The thick line is drawn between the top and bottom sections. An arrow on the left indicates a fold-down action.

The grid is divided into four sections by a thick horizontal line. The top section is a 3x3 grid of white squares, each containing a circle. The bottom section is a 3x3 grid of squares, some of which are black. The thick line is drawn between the top and bottom sections. An arrow on the left indicates a fold-down action.

※1. このプリントは、しながわ・目黒こどもスクールのウェブサイトでダウンロードができます。無断複写・引用はご遠慮ください。

※2. このプリントを活用したオンライン授業のスケジュールは、しながわ・目黒こどもスクールのウェブサイトでご確認ください。


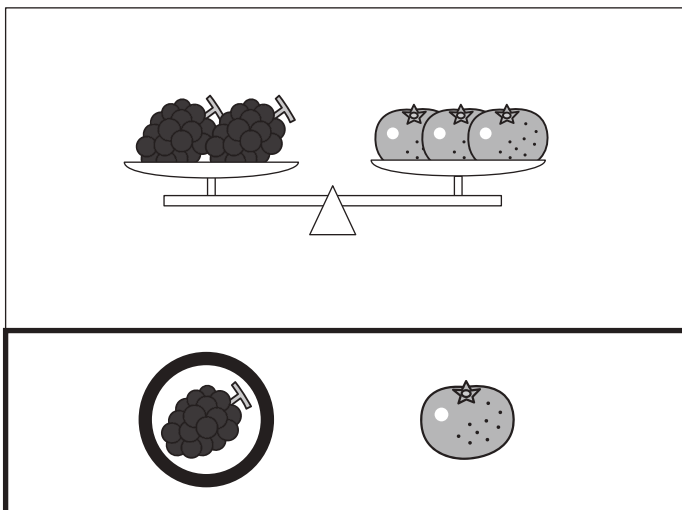

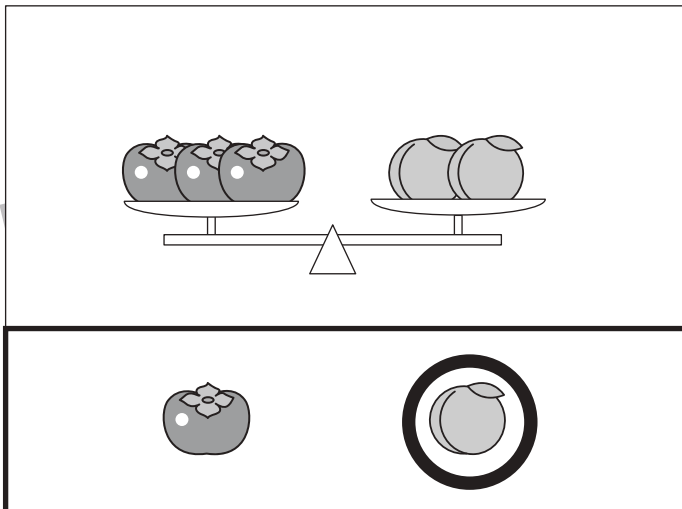
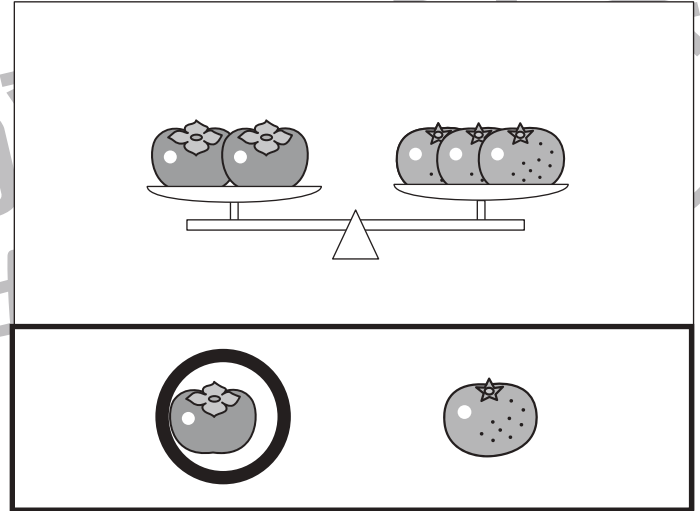



おうちで、やろう。

Study at home. 小学校受験の家庭学習教材

推理：重さ 13

天秤に果物をのせて重さ比べをしました。それぞれの四角の中のシーソーはつり合っています。それぞれの四角の中のシーソーの果物を1つずつにしたとき、1つの果物の重さが重いものはどちらですか。重い果物を下の太い線の中から選んで○をつけます。



※1. このプリントは、しながわ・目黒こどもスクールのウェブサイトでダウンロードができます。無断複写・引用はご遠慮ください。
 ※2. このプリントを活用したオンライン授業のスケジュールは、しながわ・目黒こどもスクールのウェブサイトでご確認ください。

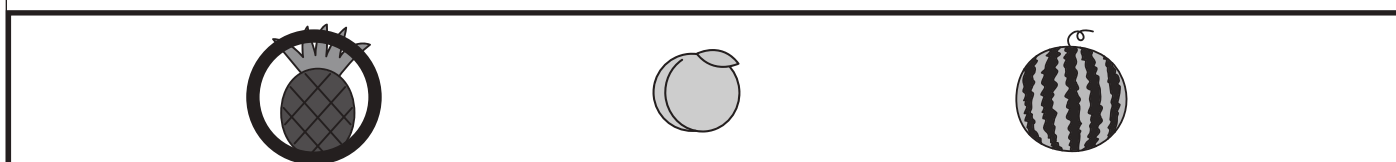
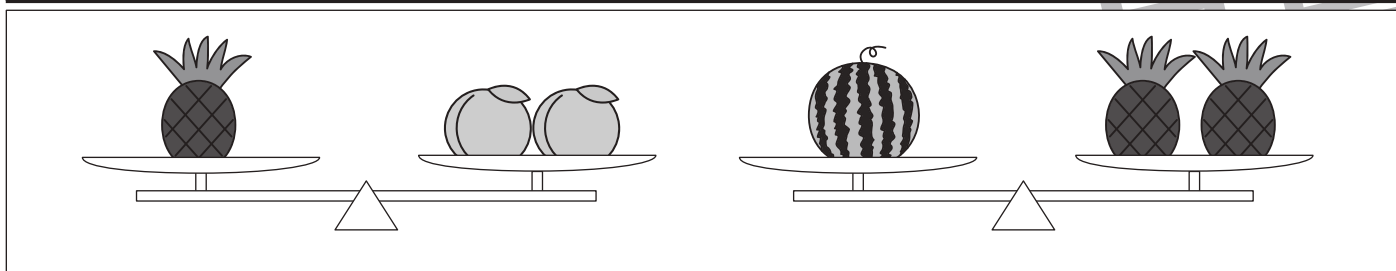





おうちで、やろう。

Study at home. 小学校受験の家庭学習教材

推理：重さ 14

天秤に果物をのせて重さ比べをしました。それぞれの四角の中のシーソーはつり合っています。それぞれの四角の中のシーソーの果物を1つずつにしたとき、1つの果物の重さが2番目に重いものはどれですか。2番目に重い果物を下の太い線の中から選んで○をつけます。



※1. このプリントは、しながわ・目黒こどもスクールのウェブサイトでダウンロードができます。無断複写・引用はご遠慮ください。

※2. このプリントを活用したオンライン授業のスケジュールは、しながわ・目黒こどもスクールのウェブサイトでご確認ください。



おうちで、やろう。

Study at home. 小学校受験の家庭学習教材

数量：すごろく6

ウサギが今いる場所から進みます。上の四角の中にモモがあったらその数だけ前に進み、ミカンがあったらその数だけ戻ります。上の四角を左から矢印の順番に見ていったとき、最後に着いたマスに○をかきます。

	→										

	→		→								

	→		→								

	→		→		→						

※1. このプリントは、しながわ・目黒こどもスクールのウェブサイトでダウンロードができます。無断複写・引用はご遠慮ください。
 ※2. このプリントを活用したオンライン授業のスケジュールは、しながわ・目黒こどもスクールのウェブサイトでご確認ください。



おうちで、やろう。

Study at home. 小学校受験の家庭学習教材

数量：すごろく7

ウサギが今いる場所から右へマスを進みます。上の四角の中にモモがあったらその数だけ前に進み、ミカンがあったらその数だけ戻ります。上の四角を左から矢印の順番に見ていったとき、最後に着いたマスに○をかきます。

※1. このプリントは、しながわ・目黒こどもスクールのウェブサイトでダウンロードができます。無断複写・引用はご遠慮ください。

※2. このプリントを活用したオンライン授業のスケジュールは、しながわ・目黒こどもスクールのウェブサイトでご確認ください。