





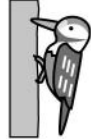









































おうちで、やろう。

Study at home. 小学校受験の家庭学習教材

言語：しりとり 14

左の絵から矢印の方向にしりとりでつなげます。全部つなげるには、真ん中の太い四角にはどの絵が入りますか。下の四角から正しい組み合わせの四角を選んで○をつけます。

	→		→								
	→			→			→			→	
	→		→								
	→			→			→			→	
	→		→								
	→			→			→			→	
	→		→								
	→			→			→			→	

※1. このプリントは、しながわ・目黒こどもスクールのウェブサイトでダウンロードができます。無断複写・引用はご遠慮ください。

※2. このプリントを活用したオンライン授業のスケジュールは、しながわ・目黒こどもスクールのウェブサイトでご確認ください。

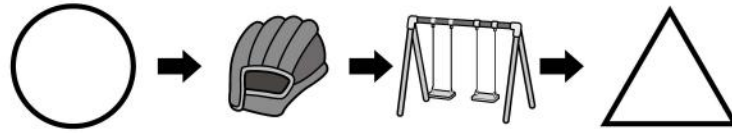


おうちで、やろう。

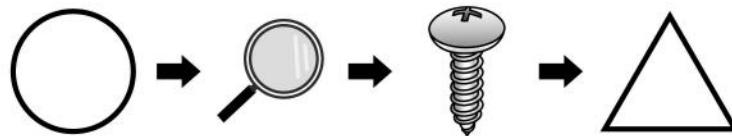
Study at home. 小学校受験の家庭学習教材

言語：しりとり 15

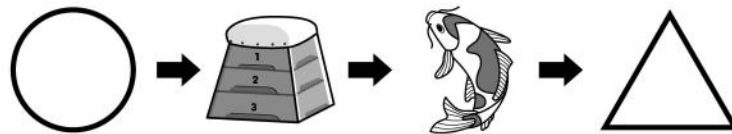
左の絵から矢印の方向にしりとりでつなげます。全部つなげるには、一番左の○と一番右の△にはどの絵が入りますか。下の四角から正しい組み合わせの絵を選んで○をつけます。○に入る絵が左側・△に入る絵が右側にかいてあります。



○	△	○	△	○	△	○	△



○	△	○	△	○	△	○	△



○	△	○	△	○	△	○	△



○	△	○	△	○	△	○	△

※1. このプリントは、しながわ・目黒こどもスクールのウェブサイトからダウンロードできます。無断複写・引用はご遠慮ください。
※2. このプリントを活用したオンライン授業のスケジュールは、しながわ・目黒こどもスクールのウェブサイトでご確認ください。




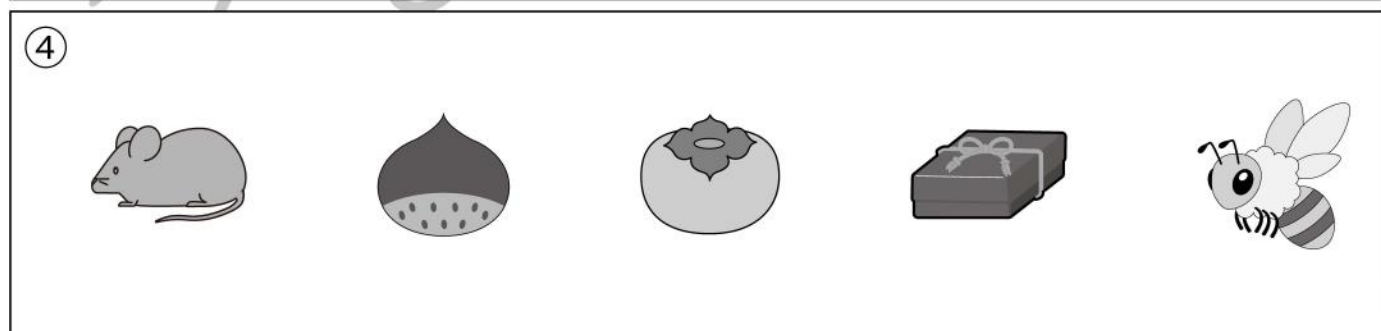

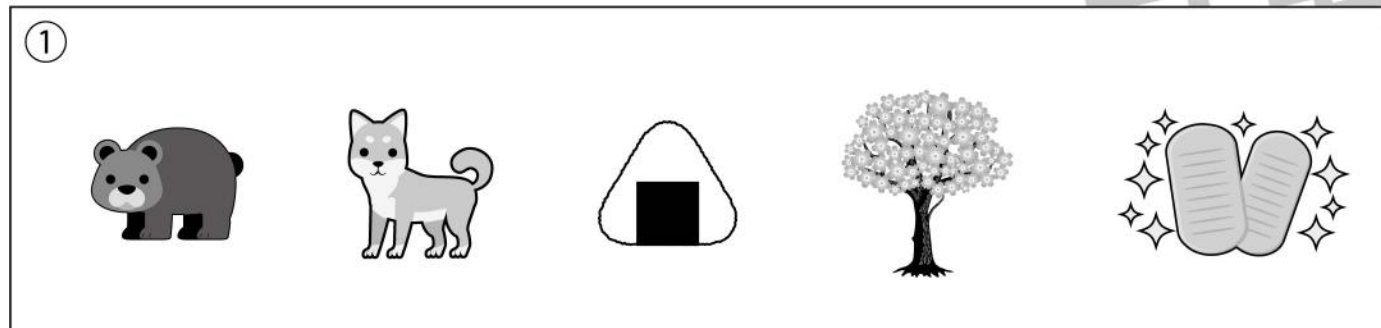


おうちで、やろう。

Study at home. 小学校受験の家庭学習教材

常識：昔話2

- ①「はなさかじいさん」に出てこないものを探して×をつけます。②「桃太郎」に出てこないものを探して×をつけます。
 ③「かぐや姫」に出てこないものを探して×をつけます。④「さるかに合戦」に出てこないものを探して×をつけます。
 ⑤「かちかち山」に出てこないものを探して×をつけます。



※1. このプリントは、しながわ・目黒こどもスクールのウェブサイトでダウンロードができます。無断複写・引用はご遠慮ください。
 ※2. このプリントを活用したオンライン授業のスケジュールは、しながわ・目黒こどもスクールのウェブサイトでご確認ください。

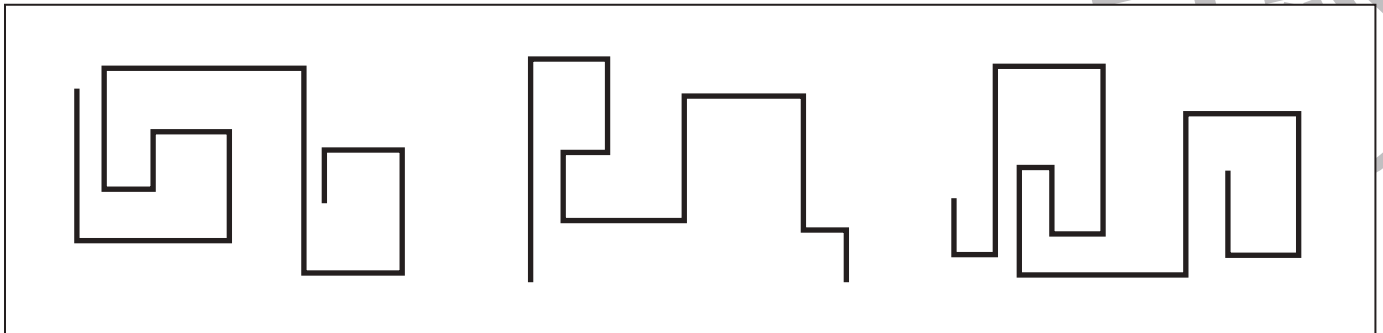
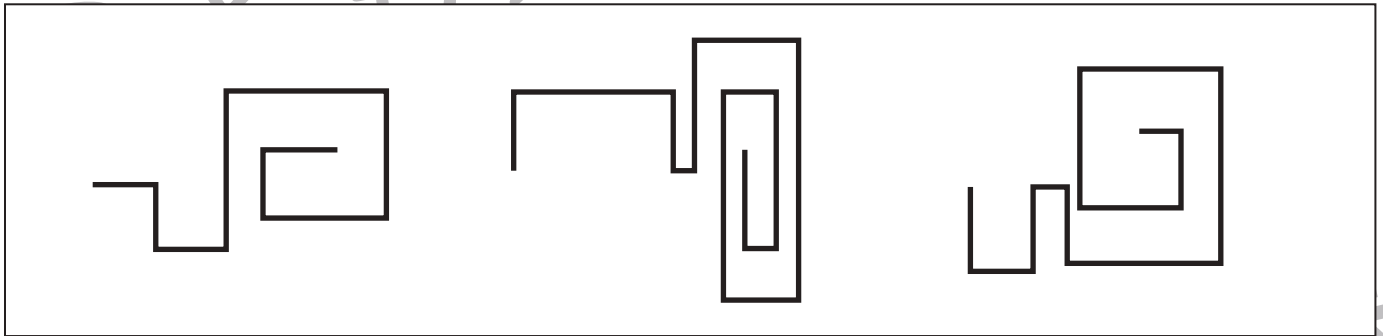
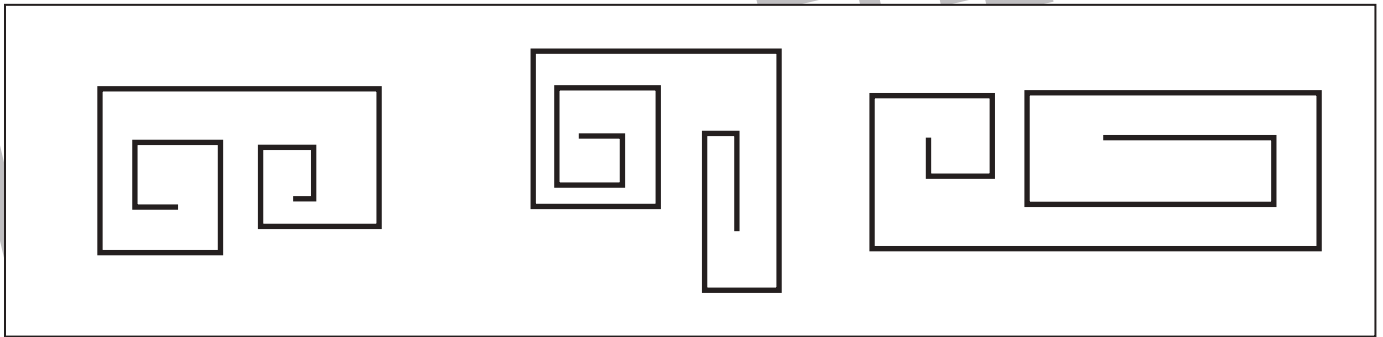

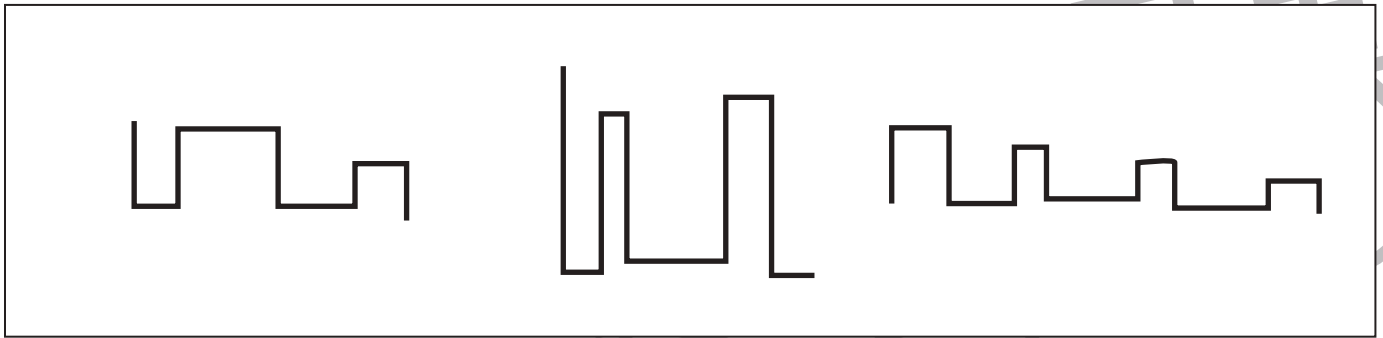


おうちで、よろう。

Study at home. 小学校受験の家庭学習教材

推理：観察力 4

四角の中で、曲がり角が一番多いものに○をつけます。



※1. このプリントは、しながわ・目黒こどもスクールのウェブサイトからダウンロードできます。無断複写・引用はご遠慮ください。
※2. このプリントを活用したオンライン授業のスケジュールは、しながわ・目黒こどもスクールのウェブサイトでご確認ください。

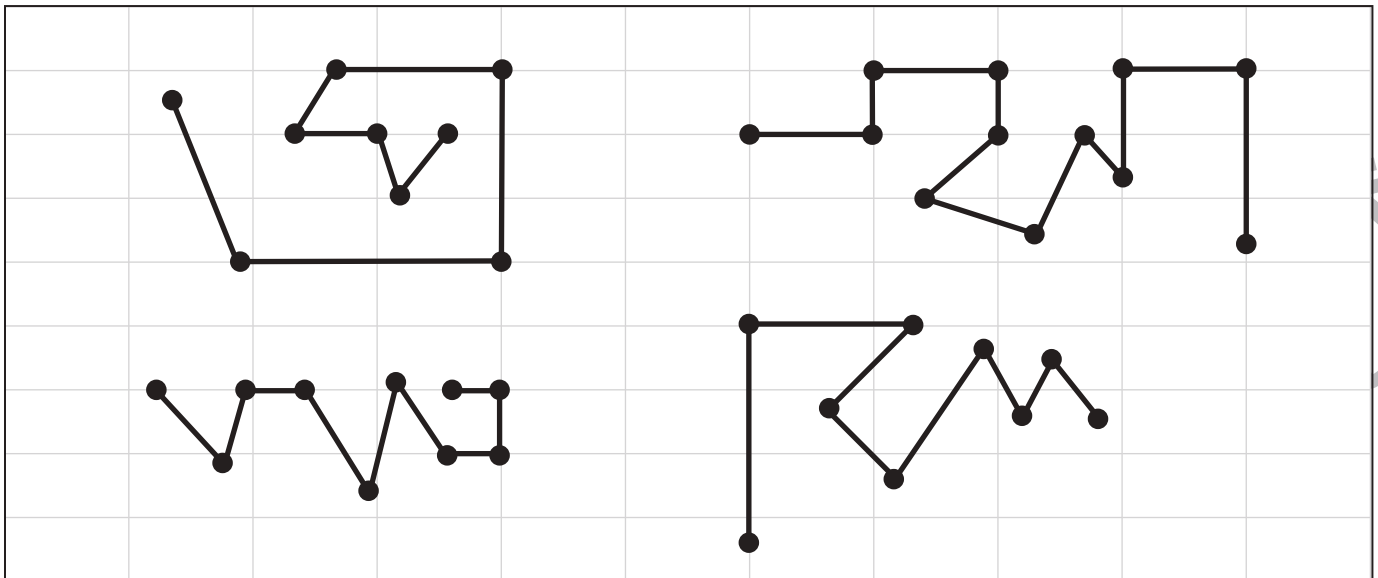
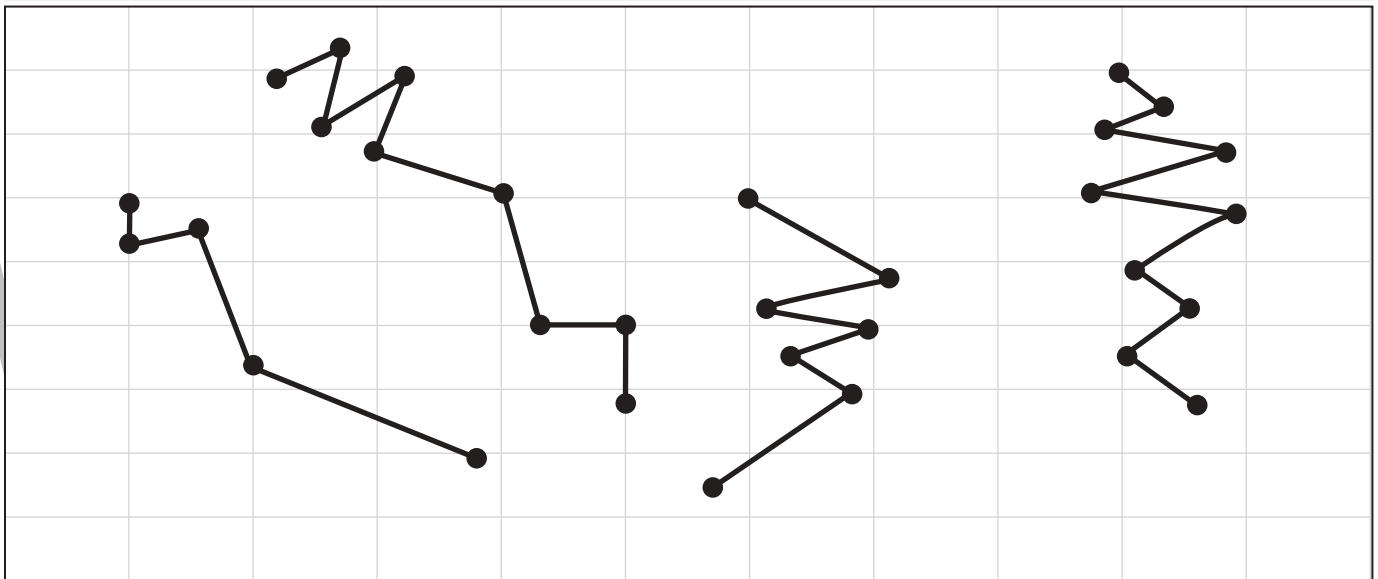
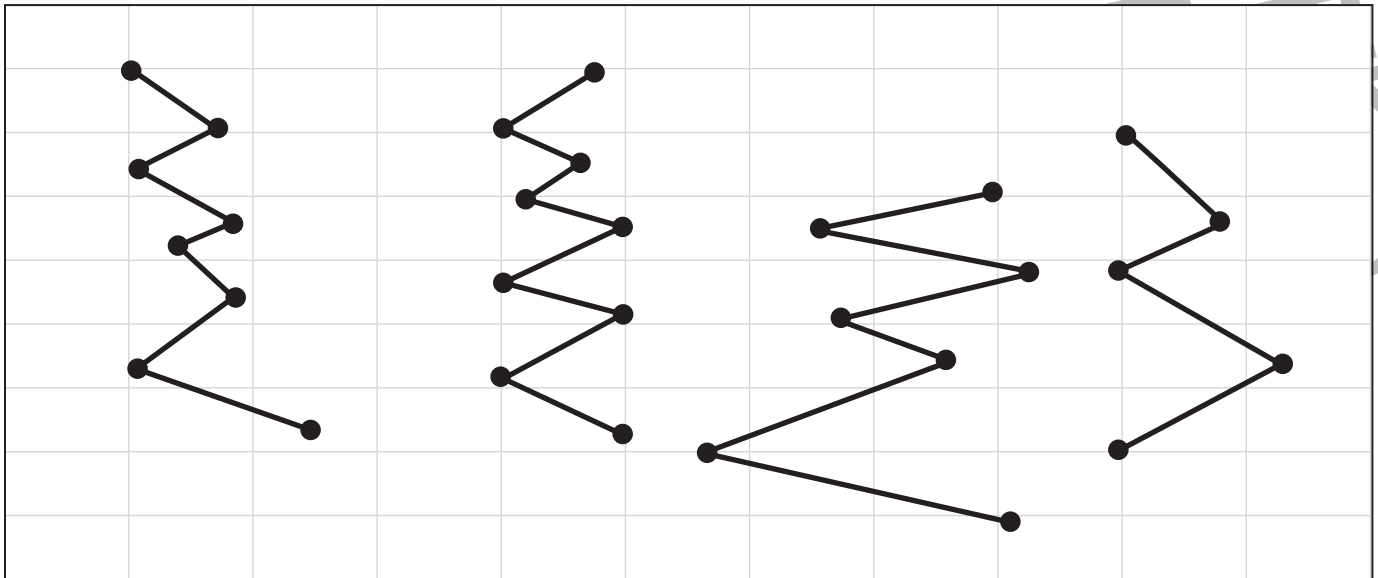


おうちで、やろう。

Study at home. 小学校受験の家庭学習教材

推理：観察力5

四角の中で、●から次の●まで斜めの線になっている部分が一番多いものに○をつけます。



※1. このプリントは、しながわ・目黒こどもスクールのウェブサイトでダウンロードができます。無断複写・引用はご遠慮ください。
 ※2. このプリントを活用したオンライン授業のスケジュールは、しながわ・目黒こどもスクールのウェブサイトでご確認ください。



おうちで、よろう。

Study at home. 小学校受験の家庭学習教材

推理：観察力 6

四角の中で、ななめの線が一番少ないものに○をつけます。

※1. このプリントは、しながわ・目黒こどもスクールのウェブサイトでダウンロードができます。無断複写・引用はご遠慮ください。
 ※2. このプリントを活用したオンライン授業のスケジュールは、しながわ・目黒こどもスクールのウェブサイトでご確認ください。







おうちで、やろう。

Study at home. 小学校受験の家庭学習教材

数量：計数 31

四角の中で一番多い生き物の数だけ、四角の下の星をまとめて囲みます。



※1. このプリントは、しながわ・目黒子どもスクールのウェブサイトからダウンロードできます。無断複写・引用はご遠慮ください。
※2. このプリントを活用したオンライン授業のスケジュールは、しながわ・目黒子どもスクールのウェブサイトでご確認ください。



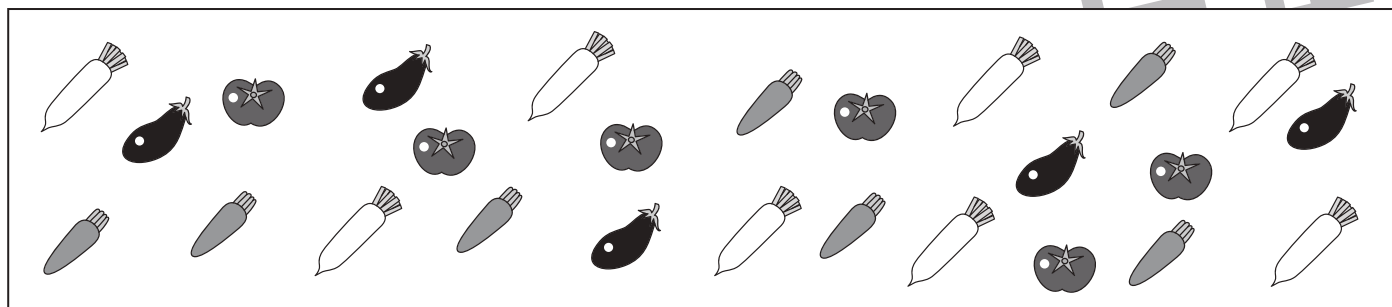





おうちで、やろう。

Study at home. 小学校受験の家庭学習教材

数量：計数 32

四角の中で二番目に多い野菜や果物の数だけ、四角の下の星をまとめて囲みます。



※1. このプリントは、しながわ・目黒こどもスクールのウェブサイトからダウンロードできます。無断複写・引用はご遠慮ください。
※2. このプリントを活用したオンライン授業のスケジュールは、しながわ・目黒こどもスクールのウェブサイトでご確認ください。





おうちで、やろう。

Study at home. 小学校受験の家庭学習教材

数量：対応 9

左の四角の中のお友だちが遊びに来ました。スリッパはお友だちの前に置いてある数だけ用意されていて、足りません。遊びに来たお友だち全員にスリッパを用意するにはいくつ足りないのかを考えて、その数だけ右の四角のスリッパをまとめて囲みます。

※1. このプリントは、しながわ・目黒こどもスクールのウェブサイトでダウンロードができます。無断複写・引用はご遠慮ください。

※2. このプリントを活用したオンライン授業のスケジュールは、しながわ・目黒こどもスクールのウェブサイトでご確認ください。




おうちで、やろう。

Study at home. 小学校受験の家庭学習教材

数量：対応 10

太い四角がお手本で1人分になります。左の四角のお盆の数だけ用意されていますが、お箸が足りません。いくつ足りないのかを考えて、その数だけ右の四角のお箸をまとめて囲みます。



--	--

--	--

--	--

--	--

※1. このプリントは、しながわ・目黒こどもスクールのウェブサイトでダウンロードができます。無断複写・引用はご遠慮ください。
 ※2. このプリントを活用したオンライン授業のスケジュールは、しながわ・目黒こどもスクールのウェブサイトでご確認ください。