



おうちで、やろう。

Study at home. 小学校受験の家庭学習教材

記憶：絵の記憶 5

別紙『記憶 - 絵の記憶 5 記憶用紙』を使用し、20 秒間記憶してから問題に取り組みます。
覚えた形と同じものだけをなぞります。回転していたり、裏返しになっているものはなぞりません。
※5月19日(金)のオンライン授業では実施中に記憶する絵を画面で表示します。

※1. このプリントは、しながわ・目黒こどもスクールのウェブサイトでダウンロードができます。無断複写・引用はご遠慮ください。
※2. このプリントを活用したオンライン授業のスケジュールは、しながわ・目黒こどもスクールのウェブサイトでご確認ください。




おうちで、やろう。

Study at home. 小学校受験の家庭学習教材

常識：断面図4

下の絵は野菜を切ったときの様子です。①～⑤の野菜を見つけます。

- ①トマトに○をつけます。
- ②トウモロコシに△をつけます。
- ③ハクサイに□をつけます。
- ④キュウリに×をつけます。
- ⑤ニンジンに◎をつけます。



※1. このプリントは、しながわ・目黒こどもスクールのウェブサイトからダウンロードできます。無断複写・引用はご遠慮ください。
 ※2. このプリントを活用したオンライン授業のスケジュールは、しながわ・目黒こどもスクールのウェブサイトでご確認ください。



おうちで、やろう。

Study at home. 小学校受験の家庭学習教材

常識：断面図5

下の絵は野菜を切ったときの様子です。①～⑤の野菜を見つけます。

①カブに○をつけます。 ②レタスに△をつけます。 ③ネギに□をつけます。

④ゴボウに×をつけます。 ⑤タケノコに◎をつけます。



※1. このプリントは、しながわ・目黒こどもスクールのウェブサイトからダウンロードできます。無断複写・引用はご遠慮ください。

※2. このプリントを活用したオンライン授業のスケジュールは、しながわ・目黒こどもスクールのウェブサイトでご確認ください。





おうちで、やろう。

Study at home. 小学校受験の家庭学習教材

図形：回転 36

左のお手本の線と同じになるように右の丸の点と点を線で結びます。

10 numbered pairs of circular diagrams for a matching exercise. Each pair consists of a 'sample' circle on the left and a 'puzzle' circle on the right. The sample circles have a white dot at the top and a black dot at the bottom, with a line connecting them. The puzzle circles have 12 black dots around the circumference. The lines in the puzzle circles represent different rotations of the sample line.

※1. このプリントは、しながわ・目黒こどもスクールのウェブサイトでダウンロードができます。無断複写・引用はご遠慮ください。
 ※2. このプリントを活用したオンライン授業のスケジュールは、しながわ・目黒こどもスクールのウェブサイトでご確認ください。



おうちで、やろう。

Study at home. 小学校受験の家庭学習教材

図形：回転 37

左のお手本の線と同じになるように右の丸の点と点を線で結びます。

10 numbered pairs of circular diagrams for a matching exercise. Each pair consists of a 'sample' circle on the left and a 'puzzle' circle on the right. The sample circles show a specific line pattern connecting points on the circumference. The puzzle circles have the same points but no lines, and the goal is to connect them to match the sample pattern.

① Sample: Triangle with vertices at 12, 3, and 9 o'clock. Puzzle: Same points, no lines.

② Sample: Triangle with vertices at 12, 3, and 6 o'clock. Puzzle: Same points, no lines.

③ Sample: Triangle with vertices at 12, 3, and 9 o'clock. Puzzle: Same points, no lines.

④ Sample: Triangle with vertices at 12, 3, and 9 o'clock. Puzzle: Same points, no lines.

⑤ Sample: Triangle with vertices at 12, 3, and 9 o'clock. Puzzle: Same points, no lines.

⑥ Sample: Triangle with vertices at 12, 3, and 9 o'clock. Puzzle: Same points, no lines.

⑦ Sample: Triangle with vertices at 12, 3, and 9 o'clock. Puzzle: Same points, no lines.

⑧ Sample: Triangle with vertices at 12, 3, and 9 o'clock. Puzzle: Same points, no lines.

⑨ Sample: Triangle with vertices at 12, 3, and 9 o'clock. Puzzle: Same points, no lines.

⑩ Sample: Triangle with vertices at 12, 3, and 9 o'clock. Puzzle: Same points, no lines.

※1. このプリントは、しながわ・目黒こどもスクールのウェブサイトでダウンロードができます。無断複写・引用はご遠慮ください。
 ※2. このプリントを活用したオンライン授業のスケジュールは、しながわ・目黒こどもスクールのウェブサイトでご確認ください。



おうちで、やろう。

Study at home. 小学校受験の家庭学習教材

図形：回転 38

左のお手本の線と同じになるように右の丸の点と点を線で結びます。

10 numbered pairs of circular dot patterns. Each pair consists of a 'sample' circle on the left and a 'puzzle' circle on the right. The sample circles show various line connections between 8 points on the circle. The puzzle circles have the same 8 points but no lines, for the student to connect them to match the sample.

※1. このプリントは、しながわ・目黒こどもスクールのウェブサイトでダウンロードができます。無断複写・引用はご遠慮ください。
 ※2. このプリントを活用したオンライン授業のスケジュールは、しながわ・目黒こどもスクールのウェブサイトでご確認ください。





おうちで、やろう。

Study at home. 小学校受験の家庭学習教材

推理：条件推理 24

上の四角が約束です。動物は 1 回で○の数だけマスを進めます。
この約束で星まで進むには何回進めばよいかを考えて、その数だけ下の太い四角に○をかきます。

	○ ○
---	-----

											
--	--	--	--	--	--	--	--	--	---	--	--





○ × 4

											
---	--	--	--	--	--	--	--	--	--	--	--



											
--	--	--	--	--	--	---	--	--	--	--	--

○ × 9



○ × 10

※1. このプリントは、しながわ・目黒こどもスクールのウェブサイトでダウンロードができます。無断複写・引用はご遠慮ください。
※2. このプリントを活用したオンライン授業のスケジュールは、しながわ・目黒こどもスクールのウェブサイトでご確認ください。




おうちで、やろう。

Study at home. 小学校受験の家庭学習教材

推理：条件推理 25


上の四角が約束です。動物は1回で○の数だけマスを進めます。
この約束で星まで進むには何回進めばよいかを考えて、その数だけ下の太い四角に○をかきます。

	○ ○ ○
---	-------


											
---	--	--	--	--	--	---	--	--	--	--	--






○ × 2

											
--	--	--	--	--	--	--	--	--	--	--	--



											
---	--	--	--	--	--	--	--	--	--	--	--

○ × 7

○ × 5

※1. このプリントは、しながわ・目黒こどもスクールのウェブサイトからダウンロードできます。無断複写・引用はご遠慮ください。
※2. このプリントを活用したオンライン授業のスケジュールは、しながわ・目黒こどもスクールのウェブサイトでご確認ください。




おうちで、やろう。

Study at home. 小学校受験の家庭学習教材

推理：条件推理 26


上の四角が約束です。動物は1回で○の数だけマスを進めます。
この約束で星まで進むには何回進めばよいかを考えて、その数だけ下の太い四角に○をかきます。

	○	○	○	○
---	---	---	---	---

		★											
--	--	---	--	--	--	--	--	--	--	--	--	--	---

←


○	×	2
---	---	---

													
--	--	--	--	--	--	--	--	--	--	--	--	--	--

←

							★						
--	--	--	--	--	--	--	---	--	--	--	--	--	--

○	×	5
---	---	---

	↑								★				

○	×	4
---	---	---

※1. このプリントは、しながわ・目黒こどもスクールのウェブサイトでダウンロードができます。無断複写・引用はご遠慮ください。
 ※2. このプリントを活用したオンライン授業のスケジュールは、しながわ・目黒こどもスクールのウェブサイトでご確認ください。