

おうちで、やろう。

Study at home. 小学校受験の家庭学習教材

指示の聞き取り 17

それぞれの設問に答えましょう。指示は1度ですべて読み上げます。しっかり聞いて取り組みましょう。

- ①下から二段目の右から四番目のマスに橙色のクーピーで○をかきます。
- ②一番上の段の一番右のマスに茶色のクーピーで□をかきます。
- ③真ん中の段の右端のマスに鉛筆で濃く、左端のマスに鉛筆で薄く塗ります。
- ④一番下の段の真ん中のマスに黄色のクーピーで塗ります。
- ⑤上から四段目の一番左のマスに緑のクーピーで◎をかきます。



おうちで、やろう。

Study at home. 小学校受験の家庭学習教材

言語：音の数 27

太い四角の中の印が○の場合は、左から順番に四角の中の絵の音の数が増えていき、太い四角の中の印が△の場合は、左から順番に四角の中の絵の音の数が減っていきます。空いている四角に入る絵を下から見つけて四角の中の印をつけます。

○

Tree → Radish → Hot air balloon → [] → Fan → Triangle → Doll

Ladybug → Turnip → Plate of food → Spiral object → Cat → Seesaw

△

Triangle with pencil → Ring → Eraser → [] → Fish → Squirrel → Fly

Worm → Broccoli → Strawberry → Hair dryer → Tie → Seahorse

△

Triangle → Hat → Ring → [] → Truck → Kettle → Deer

Abacus → Fish with leaves → Carousel → Magnifying glass → Tongs → Corn → Magnet

○

Eye → Fruit → [] → Leaf → Ring → Circle → Hand

Milk carton → Tulip → Flower → Buns → Train → Carrot → Sailboat

※1. このプリントは、しながわ・目黒こどもスクールのウェブサイトでダウンロードができます。無断複写・引用はご遠慮ください。

※2. このプリントを活用したオンライン授業のスケジュールは、しながわ・目黒こどもスクールのウェブサイトでご確認ください。


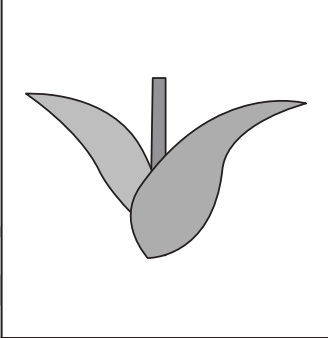


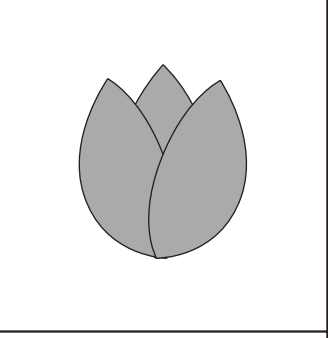







おうちで、やろう。

Study at home. 小学校受験の家庭学習教材

常識：植物 2

左側の四角の花の葉っぱを右側の四角から見つけて、正しい組み合わせになるように点と点を線で結びます。

	•	
	•	
	•	
	•	
	•	

※1. このプリントは、しながわ・目黒こどもスクールのウェブサイトからダウンロードできます。無断複写・引用はご遠慮ください。

※2. このプリントを活用したオンライン授業のスケジュールは、しながわ・目黒こどもスクールのウェブサイトでご確認ください。








おうちで、やろう。

Study at home. 小学校受験の家庭学習教材

推理：影 10

上の黒い影は、下の絵が影になって重なってできています。重なっている絵を全て選び、○をつけます。



※1. このプリントは、しながわ・目黒こどもスクールのウェブサイトでダウンロードができます。無断複写・引用はご遠慮ください。
※2. このプリントを活用したオンライン授業のスケジュールは、しながわ・目黒こどもスクールのウェブサイトでご確認ください。








おうちで、やろう。

Study at home. 小学校受験の家庭学習教材

推理：影 11

上の黒い影は、下の絵が影になって重なってできています。重なっている絵を全て選び、○をつけます。



※1. このプリントは、しながわ・目黒こどもスクールのウェブサイトでダウンロードができます。無断複写・引用はご遠慮ください。
※2. このプリントを活用したオンライン授業のスケジュールは、しながわ・目黒こどもスクールのウェブサイトでご確認ください。



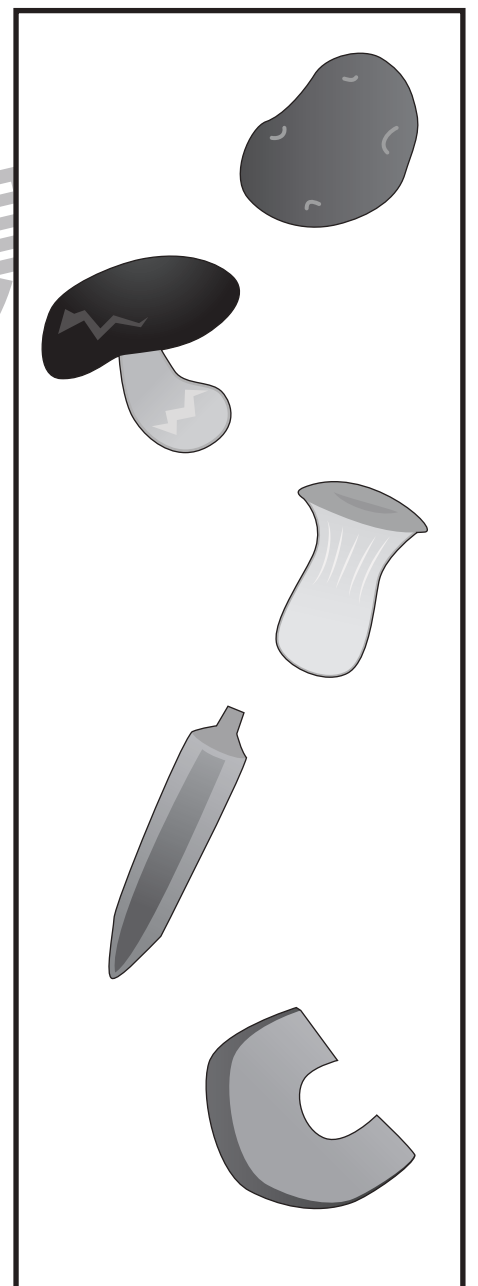
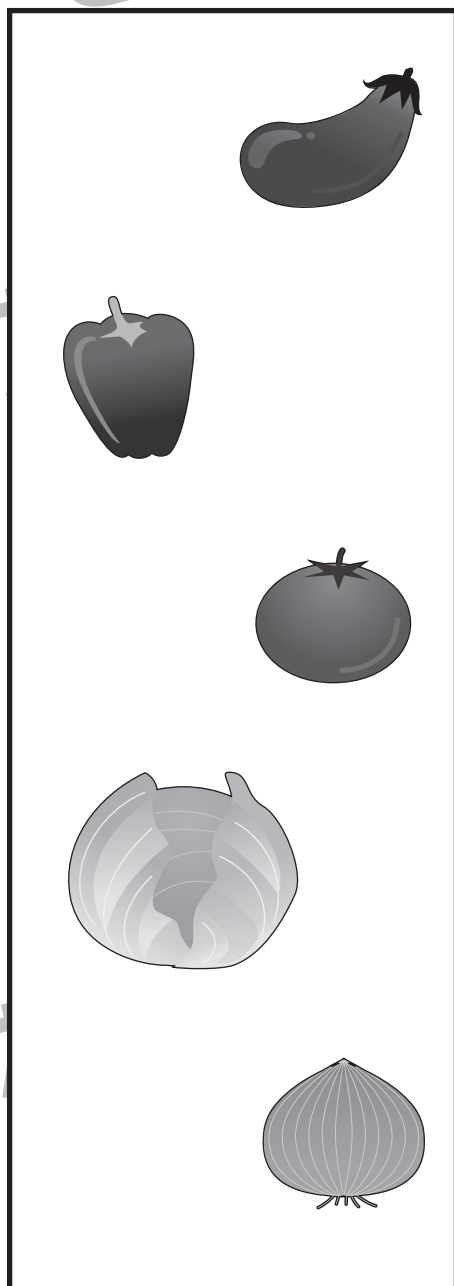



おうちで、やろう。

Study at home. 小学校受験の家庭学習教材

推理：影 12

上の黒い影は、下の絵がいくつか重なってできています。重なっていない絵はどれですか。下に並んだ絵の中から見つけて×をつけます。



※1. このプリントは、しながわ・目黒こどもスクールのウェブサイトでダウンロードができます。無断複写・引用はご遠慮ください。
※2. このプリントを活用したオンライン授業のスケジュールは、しながわ・目黒こどもスクールのウェブサイトでご確認ください。

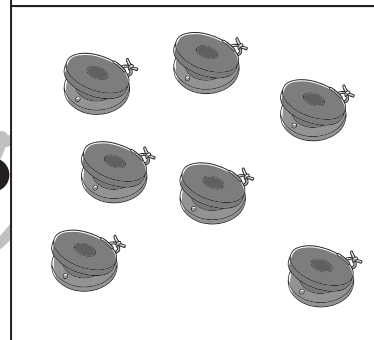

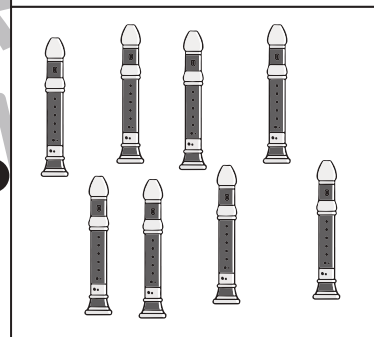
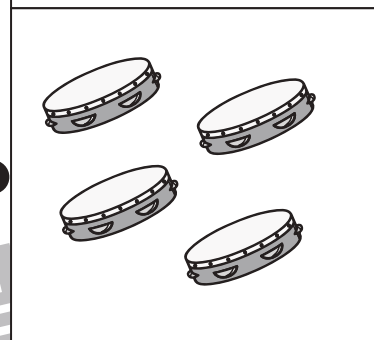
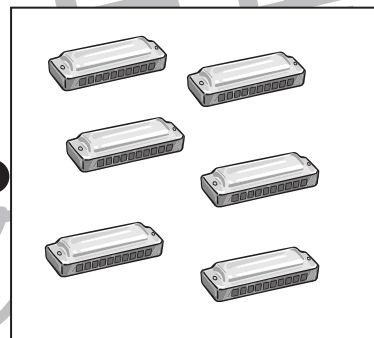
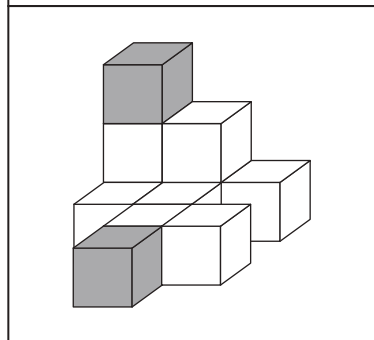
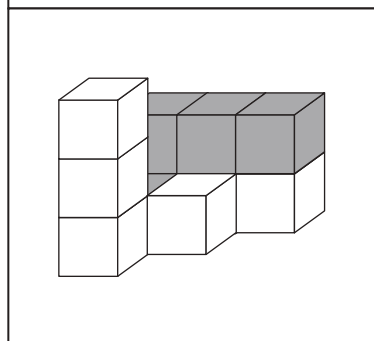
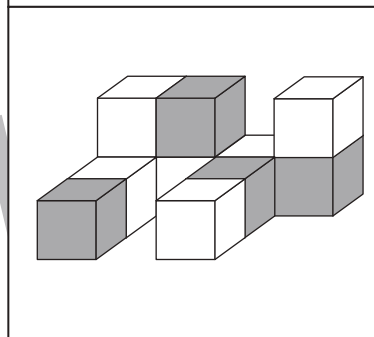
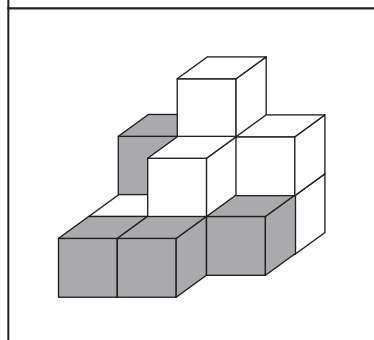
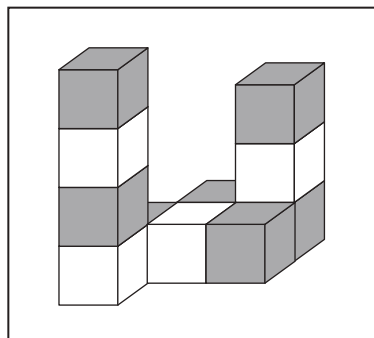


おうちで、やろう。

Study at home. 小学校受験の家庭学習教材

数量：積み木 8

左側の灰色の積み木の数と同じ数のものを右側の四角の中の絵から見つけて、点と点を線で結びます。見えない積み木は、全て灰色になります。



※1. このプリントは、しながわ・目黒こどもスクールのウェブサイトでダウンロードができます。無断複写・引用はご遠慮ください。

※2. このプリントを活用したオンライン授業のスケジュールは、しながわ・目黒こどもスクールのウェブサイトでご確認ください。




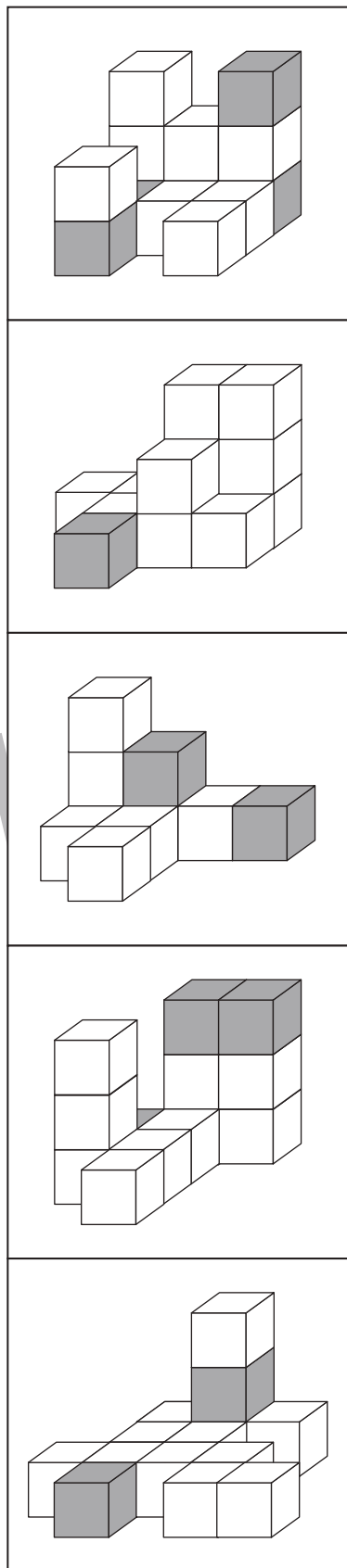


おうちで、やろう。

Study at home. 小学校受験の家庭学習教材

数量：積み木 9

左側の白色の積み木の数と同じ数のものを右側の四角の中の絵から見つけて、点と点を線で結びます。見えない積み木は、全て灰色になります。



※1. このプリントは、しながわ・目黒こどもスクールのウェブサイトでダウンロードができます。無断複写・引用はご遠慮ください。

※2. このプリントを活用したオンライン授業のスケジュールは、しながわ・目黒こどもスクールのウェブサイトでご確認ください。



おうちで、やろう。

Study at home. 小学校受験の家庭学習教材

数量：積み木 10

左側の積み木の数と、右側の灰色の形の数が同じもの同士、点と点を線で結びます。

※1. このプリントは、しながわ・目黒こどもスクールのウェブサイトでダウンロードができます。無断複写・引用はご遠慮ください。

※2. このプリントを活用したオンライン授業のスケジュールは、しながわ・目黒こどもスクールのウェブサイトでご確認ください。




おうちで、やろう。

Study at home. 小学校受験の家庭学習教材

処理：塗り1

それぞれのマスに、中に描いてある絵ごとに決められた色で塗ります。モモのマスは桃色で塗ります。キウイのマスは緑でぬります。バナナのマスは黄色で塗ります。



※1. このプリントは、しながわ・目黒こどもスクールのウェブサイトでダウンロードができます。無断複写・引用はご遠慮ください。
 ※2. このプリントを活用したオンライン授業のスケジュールは、しながわ・目黒こどもスクールのウェブサイトでご確認ください。