



# おうちで、やろう。

Study at home. 小学校受験の家庭学習教材

## 言語：音の数 28

★より左の四角は、左から順番に絵の名前の音の数が1つずつ増えていきます。★より右の四角は、左から順番に四角の中の絵の名前の音の数が1つずつ減っていきます。太い四角に入る絵を下から見つけて四角の中の印をつけます。

	→		→		★		→		→	
	→		→		★		→		→	
	→		→		★		→		→	
	→		→		★		→		→	

※1. このプリントは、しながわ・目黒こどもスクールのウェブサイトでダウンロードができます。無断複写・引用はご遠慮ください。

※2. このプリントを活用したオンライン授業のスケジュールは、しながわ・目黒こどもスクールのウェブサイトでご確認ください。



# おうちで、やろう。

Study at home. 小学校受験の家庭学習教材

## 言語：音の数 29

★より左の四角は、左から順番に絵の名前の音の数が1つずつ減っていきます。★より右側の四角は、左から順番に四角の中の絵の名前の音の数が1つずつ増えていきます。太い四角に入る絵を下から見つけて四角の中の印をつけます。

	→		→		★		→		→	
	→		→		★		→		→	
	→		→		★		→		→	
	→		→		★		→		→	

※1. このプリントは、しながわ・目黒こどもスクールのウェブサイトからダウンロードできます。無断複写・引用はご遠慮ください。

※2. このプリントを活用したオンライン授業のスケジュールは、しながわ・目黒こどもスクールのウェブサイトでご確認ください。

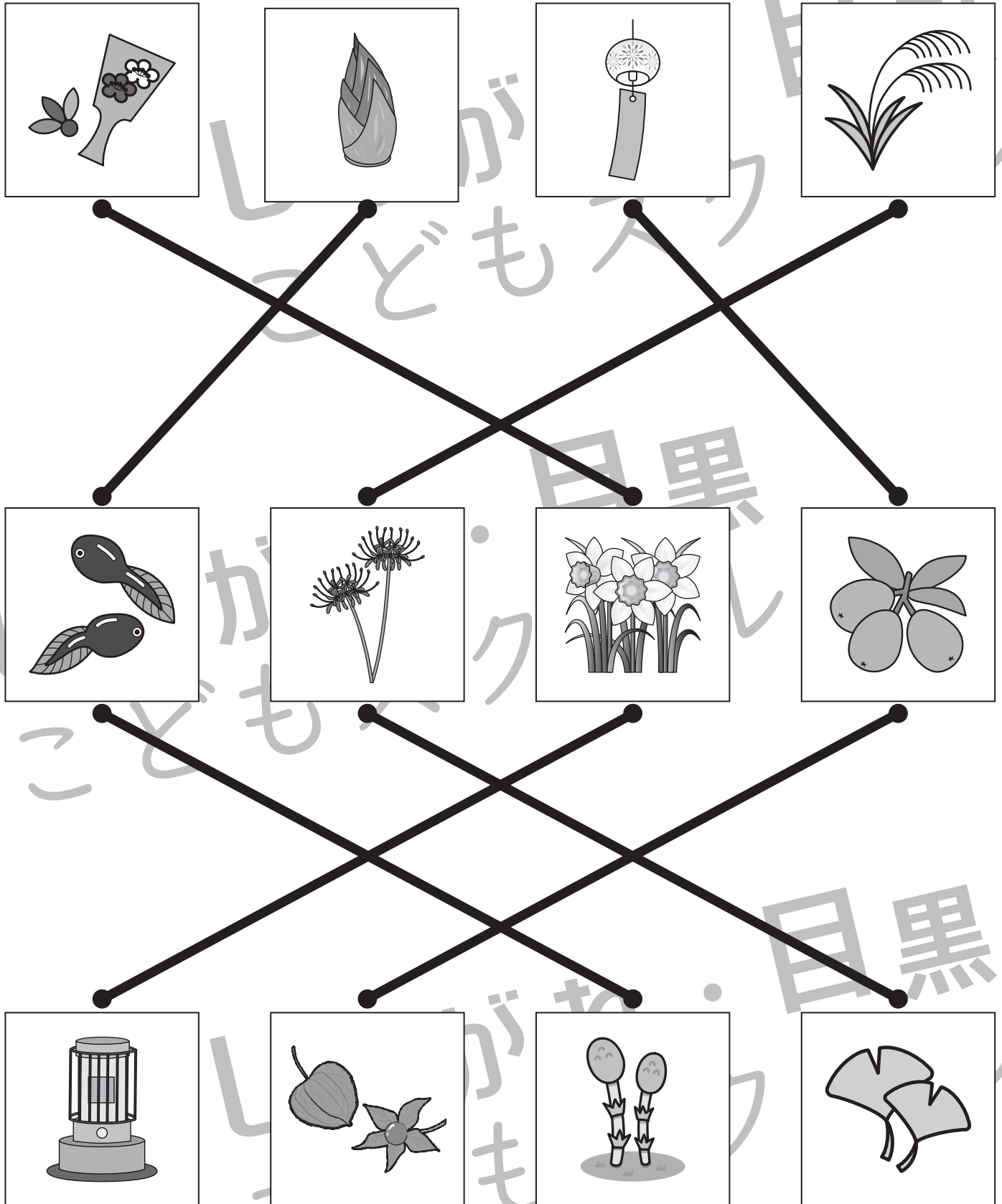


# おうちで、やろう。

Study at home. 小学校受験の家庭学習教材

## 常識：季節 15

上の段の四角の中の絵の季節と同じ季節のものを、真ん中の段と下の段の四角の中から見つけて点と点を線で結びます。



※1. このプリントは、しながわ・目黒こどもスクールのウェブサイトでダウンロードができます。無断複写・引用はご遠慮ください。  
 ※2. このプリントを活用したオンライン授業のスケジュールは、しながわ・目黒こどもスクールのウェブサイトでご確認ください。



# おうちで、やろう。

Study at home. 小学校受験の家庭学習教材

図形：重ね 28

左の2枚の透明な板が重なった時の見え方を考えて、白い丸の場所だけを矢印の右の四角にかきます。

○	●	○	●	○	○			○
●	○	○	○	●	○			○
○	○	●	○	○	●	○	○	

●	○	○	○	○	●		○	
○	○	●	○	○	●	○	○	
○	●	○	●	○	○			○

○	●	○	○	●	○	○		○
○	○	○	●	○	○		○	○
●	○	●	○	○	●		○	

○	○	●	●	○	●		○	
●	○	○	○	○	○		○	○
○	●	○	○	●	○	○		○

○	○	○	●	○	○		○	○
○	○	●	○	○	○	○	○	
●	○	○	○	●	○			○

※1. このプリントは、しながわ・目黒こどもスクールのウェブサイトでダウンロードができます。無断複写・引用はご遠慮ください。  
 ※2. このプリントを活用したオンライン授業のスケジュールは、しながわ・目黒こどもスクールのウェブサイトでご確認ください。



# おうちで、やろう。

Study at home. 小学校受験の家庭学習教材

図形：重ね 29

左の2枚の透明な板が重なった時の見え方を考えて、黒い丸になる場所だけ矢印の右の四角にかきます。


※1. このプリントは、しながわ・目黒こどもスクールのウェブサイトでダウンロードができます。無断複写・引用はご遠慮ください。  
 ※2. このプリントを活用したオンライン授業のスケジュールは、しながわ・目黒こどもスクールのウェブサイトでご確認ください。



# おうちで、やろう。

Study at home. 小学校受験の家庭学習教材

図形：重ね 30

左の2枚の透明な板が重なった時の見え方を考えて、黒い丸になる場所だけ矢印の右の四角の○を塗ります。

○	○	○	●	○	○	●	○	○
●	●	●	○	●	○	●	●	●
○	●	○	○	○	●	○	●	●

●	●	○	○	○	○	●	●	○
○	○	○	●	●	○	●	●	○
○	●	●	○	○	●	○	●	●

○	●	○	●	○	○	●	●	○
○	○	●	●	○	●	●	○	●
○	●	○	●	○	○	●	●	○

○	●	○	●	●	○	●	●	○
●	○	●	○	○	○	●	○	●
○	○	○	●	●	○	●	●	○

○	○	●	●	○	○	●	○	●
○	●	○	○	●	●	○	●	●
●	○	○	●	○	●	●	○	●

※1. このプリントは、しながわ・目黒こどもスクールのウェブサイトでダウンロードができます。無断複写・引用はご遠慮ください。  
 ※2. このプリントを活用したオンライン授業のスケジュールは、しながわ・目黒こどもスクールのウェブサイトでご確認ください。




# おうちで、やろう。

Study at home. 小学校受験の家庭学習教材

数量：分割 16

左の四角のリンゴとモモを2人で仲良く分けると1人いくつつもらえますか。右の四角から正しいものを見つけて、点と点を線で結びます。




※1. このプリントは、しながわ・目黒こどもスクールのウェブサイトでダウンロードができます。無断複写・引用はご遠慮ください。  
※2. このプリントを活用したオンライン授業のスケジュールは、しながわ・目黒こどもスクールのウェブサイトでご確認ください。



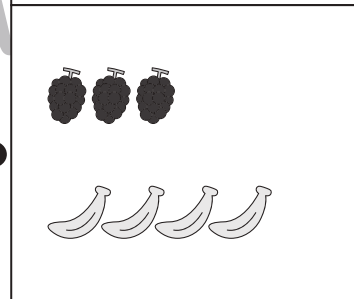


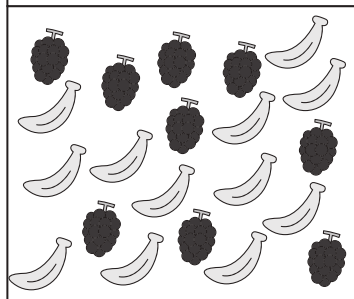
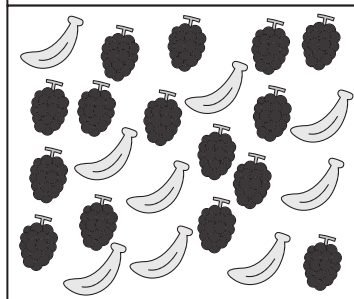
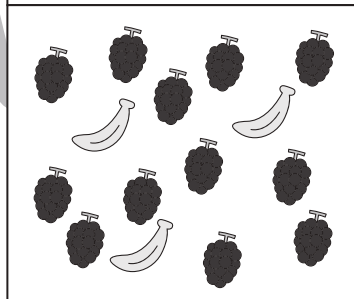
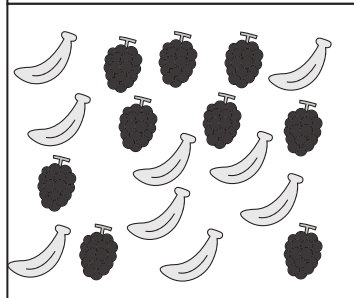




# おうちで、やろう。

Study at home. 小学校受験の家庭学習教材

数量：分割 17

左の四角のバナナとブドウを3人で仲良く分けると1人いくつずつもらえますか。右の四角から正しいものを見つけて、点と点を線で結びます。



※1. このプリントは、しながわ・目黒こどもスクールのウェブサイトでダウンロードができます。無断複写・引用はご遠慮ください。  
※2. このプリントを活用したオンライン授業のスケジュールは、しながわ・目黒こどもスクールのウェブサイトでご確認ください。








# おうちで、やろう。

Study at home. 小学校受験の家庭学習教材

数量：分割 18

左の四角のミカンとイチゴを4人で仲良く分けると1人いくつずつもらえますか。右の四角から正しいものを見つけて、点と点を線で結びます。




※1. このプリントは、しながわ・目黒こどもスクールのウェブサイトでダウンロードができます。無断複写・引用はご遠慮ください。  
 ※2. このプリントを活用したオンライン授業のスケジュールは、しながわ・目黒こどもスクールのウェブサイトでご確認ください。